

تم تحميل هذا الملف من موقع المناهج الكويتية



منطقة الأحمدية التعليمية

الملف نموذج أسئلة منطقة الاحمدي

[موقع المناهج](#) ← [المناهج الكويتية](#) ← [الصف السادس](#) ← [علوم](#) ← [الفصل الثاني](#)

روابط مواقع التواصل الاجتماعي بحسب الصف السادس



روابط مواد الصف السادس على تلغرام

[الرياضيات](#)

[اللغة الانجليزية](#)

[اللغة العربية](#)

[التربية الاسلامية](#)

المزيد من الملفات بحسب الصف السادس والمادة علوم في الفصل الثاني

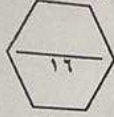
بنك أسئلة	1
دليل المعلم	2
دليل المعلم	3
كتاب الطالب 6	4
تحضير درس مخطط حسمك	5

وزارة التربية
الإدارة العامة لمنطقة الأحمدى التعليمية
التوجيه الفني للعلوم

عدد الأوراق: (٤) أوراق
زمن الامتحان: ساعتان وربع

امتحان نهاية الفصل الدراسي الثاني في مجال العلوم للصف السادس للعام الدراسي ٢٠٢٢ - ٢٠٢٣ م

السؤال الأول: اختر الإجابة الصحيحة علمياً لكل من العبارات التالية بوضع علامة (√) في المربع المقابل لها (٨×٢) :



درجة
السؤال الأول

١- التركيب الذي يعمل على تنظيم مرور المواد من الخلية و إليها :

جدار الخلية غشاء الخلية السيتوبلازم النواة

٢- الجهاز الذي يضح الدم في كافة أنحاء الجسم :

الجهاز الهضمي الجهاز الدوري الجهاز العضلي الجهاز المناعي

٣- تتميز الفيروسات بالخصائص التالية ما عدا :

جسيمات دقيقة جداً لها تركيب خلوية

تتكون من مادة وراثية محاطة بغلاف بروتيني

٤- البكتيريا النافعة في أمعاء الإنسان تساعد على هضم :

الدهون السكريات البروتينات الفيتامينات

٥- أعضاء التكاثر في الزهرة تمثلها الأرقام :

(٤،١) (٣،١) (٢،١) (٣،٢)

(٣،٢) (٤،٢) (٢،٢) (٣،٣)

٦- أحد الكائنات الحية التالية يتكاثر لا جنسياً :

عفن الخبز الجزر الدجاجة الفول

٧- طريقة لفصل المادة الصلبة المذابة من محلولها المشبع بالتبريد :

التقطير الترشيح التبلور الاستشراب

٨- جميع المواد التالية مستحلبات ما عدا :

الشوكولاتة الحليب المايونيز عصير الفواكه

المناهج الكويتية
almanahj.com/kw



السؤال الرابع (أ): علل لما يلي تعليلا علميا دقيقا (٢×٢) :



١- خلايا الجذر تتكون من جدار رقيق .



.....



٢- الفيروس الذي يصيب أوراق البطاطس بالمرض لا يؤثر على الانسان أو الحيوان .

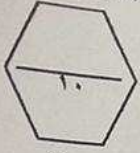
.....

السؤال الرابع (ب): قارن بين كلا مما يلي كما هو موضح بالجدول التالي (٢×٣) :

		وجه المقارنة
.....	شكل البكتيريا

		وجه المقارنة
.....	طريقة التكاثر اللاجنسي

 حليب	 شاي	وجه المقارنة
.....	(مستحلب / محلول)



درجة
السؤال الخامس

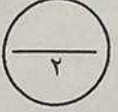
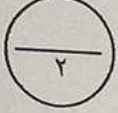
السؤال الخامس (أ): أي مما يلي لا ينتمي للمجموعة، مع توضيح السبب (٢×٢):

١- من خلال دراستك لتركيب الخلية البكتيرية:

(جدار الخلية - غشاء خلوي - مادة نووية - غشاء نووي).

- الذي لا ينتمي: -

- السبب: -

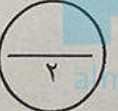


٢- من خلال دراستك للمخاليط

(الحبر و الماء - الهواء الجوي - السلطة - عصير التوت).


- الذي لا ينتمي: -

- السبب: -



السؤال الخامس (ب): ادرس الرسومات التالية جيداً، ثم أجب عن المطلوب (٢×٣):

١- الشكل المقابل يوضح ترتيب مستويات التعضي في النبات:



(٥) (٤) (٣) (٢) (١)

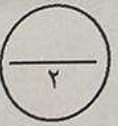
- مستوى التعضي الذي يتكون من مجموعة من الخلايا يمثل الرقم -

- مستوى التعضي الذي يتكون من مجموعة من الأنسجة يسمى -

٢- الشكل المقابل يوضح تركيب الفيروس:

- الفيروس في الشكل المقابل يهاجم -

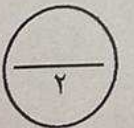
- السهم في الشكل المقابل يشير إلى -



٣- الشكل المقابل يوضح بعض الكائنات الحية:

- الكائن الحي الذي يمثل الرقم (١) يتكاثر تكاثر -

- الكائن الحي رقم (٢) يمكن أن يتكاثر لا جنسياً بطريقة -



بصل
(٢)



بطريق
(١)

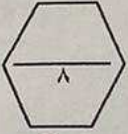
انتهت الأسئلة



السؤال الثاني: أكتب كلمة (صحيحة) أمام العبارة الصحيحة وكلمة (خطأ) أمام العبارة غير الصحيحة في كل مما يلي (٨×١):

- ١- خلايا الخشب تعمل على نقل الغذاء من الأوراق إلى جميع أجزاء النبات . (-----)
- ٢- تحتوي كل الخلايا على أنواع العضيات كلها . (-----)
- ٣- تستخدم الفيروسات محتويات الخلايا التي تغزوها وتستنسخ نفسها . (-----)
- ٤- جميع أنواع البكتيريا غير ذاتية التغذية . (-----)
- ٥- تلعب البكتيريا دور هام في إنتاج الهرمونات و المضادات الحيوية و الفيتامينات . (-----)
- ٦- المذاب هو المادة الصلبة المتشكلة في المحلول السائل . (-----)
- ٧- يمكن تحلية مياه البحر بطريقة التقطير . (-----)
- ٨- يستخدم الفصل بالاستشراب للتعرف على مكونات الأغذية . (-----)

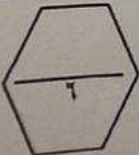
موثق
المنهج التوثيقي
almanahi.com/kw



درجة
السؤال الثاني

السؤال الثالث: في الجدول التالي اختر عبارة من المجموعة (ب) وأكتب رقمها أمام ما يناسبها من عبارات المجموعة (أ) (٦×١):

الرقم	المجموعة (أ)	المجموعة (ب)
()	- خلايا تنقبض و تنبسط لتساعد الجسم على الحركة :	١- خلايا الجلد
()	- خلايا تعمل على نقل الإشارات (المعلومات) بين أجزاء الجسم :	٢- الخلايا العصبية ٣- الخلايا العضلية
()	- مرض فيروسي يصيب الحيوان :	١- الحصبة ٢- التبقع في التبغ ٣- الحمى القلاعية
()	- طريقة تستخدم لفصل و تنقية المواد الكيميائية المختلفة :	١- الترشيح ٢- الاستشراب ٣- التقطير
()	- طريقة تستخدم لفصل مادة صلبة عن سائلة في مخلوط غير متجانس:	



درجة
السؤال الثالث

