

تم تحميل هذا الملف من موقع المناهج الكويتية



مدرسة التميز النموذجية

الملف نموذج اختبار تجريبي (3)

[موقع المناهج](#) ← [المناهج الكويتية](#) ← [الصف الأول](#) ← [علوم](#) ← [الفصل الثاني](#)

روابط مواقع التواصل الاجتماعي بحسب الصف الأول



روابط مواد الصف الأول على تلغرام

[الرياضيات](#)

[اللغة الانجليزية](#)

[اللغة العربية](#)

[التربية الاسلامية](#)

المزيد من الملفات بحسب الصف الأول والمادة علوم في الفصل الثاني

<a href="#">الطرق الامنة في التعامل مع الماء</a>	1
<a href="#">الماء والجليد وبخار الماء</a>	2
<a href="#">أوراق عمل النمو</a>	3
<a href="#">مذكرة مفيدة في مادة العلوم</a>	4
<a href="#">مذكرة علوم</a>	5

## الختبار التجريبي 3 للصف الاول الابتدائي

الاسم: .....

الصف: / 1

العلوم

السؤال الأول : ضع علامة ( v ) للعبارة الصحيحة وعلامة ( x ) للعبارة غير الصحيحة لما يلي:



( )

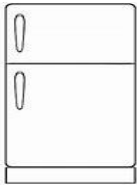
1- الغسالة جهاز يعمل بالكهرباء



2- الإشارة في الصورة المقابلة تدل على وجود مطب ( )

السؤال الثاني : حوط على الإجابة الصحيحة علميا وذلك بوضع  حولها :


1- جهاز يعمل بالبطارية :



2- الإشارة التي تدل على أمامك وجود دوار :



السؤال الثالث : ضع علامة ( v ) للتصرف الصحيح وعلامة ( x ) للتصرف غير الصحيح فيما يأتي :



## اختبار تجريبي 3 للصف الاول الابتدائي

الاسم: .....

الصف: / 1

العلوم

السؤال الأول : ضع علامة ( v ) للعبارة الصحيحة وعلامة ( x ) للعبارة غير الصحيحة لما يلي:



( v )


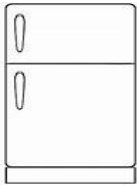
1- الغسالة جهاز يعمل بالكهرباء



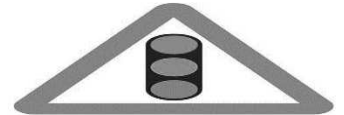
2- الإشارة في الصورة المقابلة تدل على وجود مطب ( v )

السؤال الثاني : حوط على الإجابة الصحيحة علميا وذلك بوضع  حولها :

1- جهاز يعمل بالبطارية :



2- الإشارة التي تدل على أمامك وجود دوار :



السؤال الثالث : ضع علامة ( v ) للتصرف الصحيح وعلامة ( x ) للتصرف غير الصحيح فيما يأتي :



( x )



( x )