



عشرات	أحاد

أوجد الناتج

عشرات

آحاد

١٠

٤٠

+



أوجد الناتج



$$\begin{array}{r} 15 \\ + 4 \\ \hline \end{array}$$

أوجد الناتج



$$\begin{array}{r} 12 \\ + 7 \\ \hline \end{array}$$

أوجد الناتج



٢٠

١٠ -

.....

أوجد الناتج




٢٧

١٠ -




.....

أوجد الناتج



أوجد الناتج



عَشْرَات	آحَاد	عَشْرَات	وَحَدَات
١	٤		
	٧ +		
<input type="text" value="....."/>			

أوجد الناتج

عشرات

أحاد



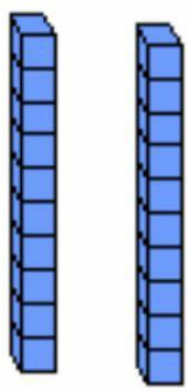
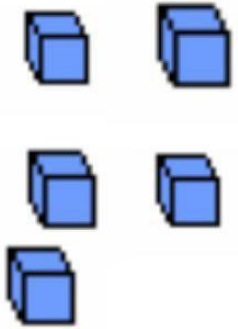
١

٥

٥ +

أوجد الناتج



عشرات	وحدات
	

عشرات	أحاد
٢	٥
	٩
<hr/>	



أجمع بالعشرات


$$\begin{array}{r} 50 \\ + 41 \\ \hline \end{array}$$

Blank box for the answer.

$$\begin{array}{r} 40 \\ + 30 \\ \hline \end{array}$$

Blank box for the answer.

اطرح



٧٠

٣٠

-

١٩

٥٠

-

تم التحميل من:



<http://www.ykuwait.net>

TELEGRAM: @kuwait_net_home