

تم تحميل هذا الملف من موقع ملفات الكويت التعليمية



[com.kwedufiles.www//:https](https://www.kwedufiles.com)

*للحصول على أوراق عمل لجميع الصفوف وجميع المواد اضغط هنا

* للحصول على أوراق عمل لجميع مواد الصف العاشر اضغط هنا

<https://kwedufiles.com/10>

* للحصول على جميع أوراق الصف العاشر في مادة تاريخ وجميع الفصول, اضغط هنا

<https://kwedufiles.com/10history>

* للحصول على أوراق عمل لجميع مواد الصف العاشر في مادة تاريخ الخاصة بـ الفصل الأول اضغط هنا

<https://www.kwedufiles.com/10history1>

* لتحميل كتب جميع المواد في جميع الفصول للـ الصف العاشر اضغط هنا

<https://www.kwedufiles.com/grade10>

* لتحميل جميع ملفات المدرس قسم الإجتماعيات اضغط هنا

[bot_kwlinks/me.t//:https](https://t.me/bot_kwlinks)

* للحصول على جميع روابط الصفوف على تلغرام وفيسبوك من قنوات وصفحات: اضغط هنا

الروابط التالية هي روابط الصف العاشر على مواقع التواصل الاجتماعي

مجموعة الفيسبوك

صفحة الفيسبوك

مجموعة التلغرام

بوت التلغرام

قناة التلغرام

رياضيات على التلغرام



وزارة التربية
الإدارة العامة لمنطقة الأحمدية التعليمية
ام الهيمان الثانوية ملحق أ.

مذكرة مراجعة اجتماعيات

تاريخ الكويت

الصف العاشر

الفصل الدراسي الأول

(٢٠١٦ م - ٢٠١٧ م)

إعداد معلمات قسم الاجتماعيات

(ملاحظة هامة: المذكرة لاتعني عن الكتاب المدرسي)

مديرة المدرسة

الموجهة الفنية

رئيسة القسم

أ/ مريم عبد الرضا

أ/ شيخة العجمي

أ/ سارة المطيري

الفصل الأول: معالم الكويت الجغرافية والإقتصادية والحضارية

أكمل العبارات التالية بما يناسبها من كلمات :

- ١- تقع دولة الكويت بالنسبة للجزيرة العربية في الجزء
- ٢- تقع دولة الكويت بالنسبة للخليج العربي في الجزء
- ٣- المسطح المائي الذي يحد دولة الكويت من جهة الشرق يسمى
- ٤- الحد الفاصل بين الحدود الكويتية العراقية بمسافة ١٥٠ كم يسمى
- ٥- سهل يمتد من جون الكويت باتجاه الجنوب موازيا للخط الساحل يسمى
- ٦- سهل يقع في شمال الكويت و هي أرض منبسطة تنحدر الشرق الشمالي الشرقي تسمى
- ٧- جزر دولة الكويت عددها
- ٨- أكبر جزر دولة الكويت هي جزيرة
- ٩- الجزيرة التي هجرها سكانها بعد العدوان العراقي على الكويت عام ١٩٩٠م تسمى
- ١٠- العام الذي أجري فيه أول تعداد سكاني في دولة الكويت
- ١١- بلغ عدد سكان دولة الكويت في آخر تعداد
- ١٢- يعود الوجود البشري في منطقة الكويت الى أكثر من
- ١٣- اقتصرت المعلومات السكانية لعدد سكان الكويت على التقديرات المبكرة التي ذكرها بعض الرحالة
- ١٤- أجري اول تعداد رسمي لسكان الكويت في عهد الشيخ الراحل
- ١٥- بلغ سكان الكويت عام ١٩٩٠ حوالي
- ١٦- أجري تعداد السكان الكويت في عام ٢٠١٤ م في عهد الشيخ
- ١٧- جمع النشاط الاقتصادي المجتمع الكويتي القديم بين النشاط البري
- ١٨- أحد أزرع المحيط الهندي في شبه الجزيرة العربية يسمى
- ١٩- أحد أهم الطرق التجارية القديمة و الأكثر استخداماً للتجارة الدولية في العالم القديم
- ٢٠- طرق شمالي يبدأ في الصين و ينتهي بأوروبا
- ٢١- طريق غربي يبدأ من أحد الموانئ الصينية ثم يلتف حول سواحل شبه القارة الهندية ليدخل البحار المحيطة بشبه الجزيرة العربية يسمى

٢٢- أشهر حرفة مارسها اهل الكويت منذ نشأة مدينتهم و حتى أوائل الخمسينات من القرن العشرين تسمى

٢٣- كانت الحياة السائدة في الكويت منذ القديم بها تتسم

٢٤- تصنيف الكويت جغرافياً ضمن المناطق

٢٥- يبدأ موسم السفر في الكويت عادة في شهر أكتوبر و يستمر حتى أواخر شهر

٢٦- في فصل الربيع في الكويت تنتشر قطعان الأغنام و الماعز و الأبل طلباً

٢٧- يطلق على البرسيم قديماً اسم

٢٨- أشجار استخدمها الكويتيون قديماً كمصدات للرياح تسمى

٢٩- حرفة يدوية لعب العاملون بها دوراً كبيراً في توفير مواد البناء

٣٠- ترتبط عملية الرعي في الكويت بشكل أساسي بموسم

٣١- السفينة التي اتخذت صورتها لتكون شعاراً لدولة الكويت و العملة الوطنية تسمى

٣٢- حرفة ضمت اغلب شباب الكويت و رجالها تسمى

س٢/ اختر الإجابة الصحيحة من بين البدائل التالية :-

١- يحد دولة الكويت من الشمال و الشمال الغربي .

أ- المملكة العربية السعودية	ب - اليمن	ج - جمهورية العراق
-----------------------------	-----------	--------------------

٢- تبلغ مساحة الكويت حوالي :

أ- ١٨,٨١٨ ألف كم	ب - ١٩,٨١٨ ألف كم	ج- ١٧,٨١٨ ألف كم
------------------	-------------------	------------------

٣- تصل احيانا درجة الحرارة بدولة الكويت في فصل الصيف الى :

أ- ٥٠ درجة	ب - ٤٩ درجة	ج - ٤٨ درجة
------------	-------------	-------------

٤- تمثل جزيرة بوبيان من مساحة الكويت :-

أ - ٦ %	ب - ٧ %	ج - ٥ %
---------	---------	---------

٥- رياح تهب معظم أيام السنة و هي رياح جافة بفعل المرتفع السيبيري تسمى

أ - الشمالية الغربية	ب - السموم	ج - رياح الكوس
----------------------	------------	----------------

٦- أول تعداد رسمي لسكان الكويت عام

أ - ١٩٥٥ م	ب - ١٩٥٦ م	ج - ١٩٥٧ م
------------	------------	------------

٧- بلغ عدد سكان الكويت عام ٢٠١٤م

أ - ٢٦٦٣١٠٠ نسمة	ب - ٢٦٦٣١٠٠ نسمة	ج - ٣٢٦٣١٠٠ نسمة
------------------	------------------	------------------

٨- مضيق يربط بين خليج عمان و الخليج العربي يسمى

أ- باب المنذب	ب - جبل طارق	ج- هرمز
---------------	--------------	---------

٩- حرفة كانت من مصادر الدخل في الكويت قبل اكتشاف النفط تسمى :

أ - الزراعة | ب- صيد الأسماك | ج - الرعي

١٠- الذي يقوم بتصميم السفينة يسمى

أ - القلاف | ب- الأستاذ | ج- النهام

١١- ظهر اللؤلؤ الصناعي الكويت عام

أ - ١٩٢٦م | ب - ١٩٢٧م | ج- ١٩٢٨م

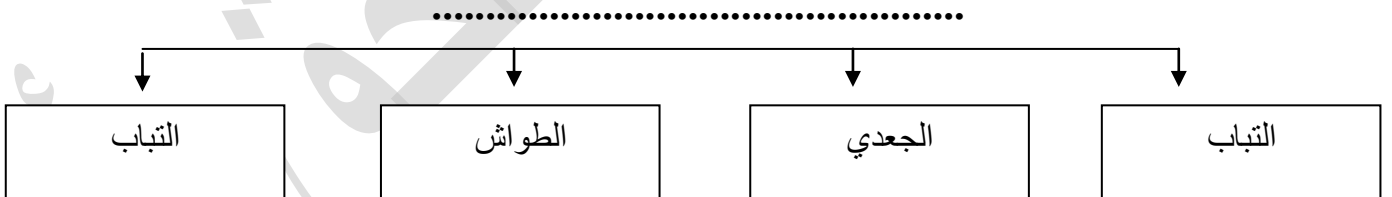
س٣/ استنتج الرابط بين العناصر التالية :

- ١- التجارة - الصيد - الغوص (.....)
- ٢- دائرة الشؤون الاجتماعية - هيئة المعلومات المدنية - تقديرات الرحالة (.....)
- ٣- الكوس - السموم - السرايات (.....)
- ٤- القرقور- القمبار- الميدار (.....)

س٤/ من أنا :

- أقوم بصناعة السفينة (.....)
- أقوم بتصميم السفينة (.....)

س٥: أ - ضع عنوان مناسب للمخطط السهمي التالي :



ب - أكمل الفراغ في المخطط السهمي التالي :



س ٦: أعدد ترتيب الأحداث التالية من الأحدث إلى الأقدم :

- () التعداد السكاني في عهد الشيخ عبدالله السالم الصباح
() التعداد السكاني في عهد الشيخ صباح الأحمد الصباح
() التعداد السكاني في عهد الشيخ جابر الأحمد الصباح



س ٧: لاحظ الشكل المقابل ثم أجب عما يلي :

- ١- اذكر اثنين من المسطحات المائية التي
٢- يمر بها طريق الحرير البحري ؟

٢ - حدد طريق الحرير البري باستخدام
الرمز التالي (←)

س ٨ : ارسم خريطة للكويت، ثم حدد عليها مايلي :


- جزيرة بوبيان
- تلال كراع المرور
- ظلل جون الكويت



س ٩: ادرس الجدول الذي أمامك ثم أجب عن الأسئلة التي تليه :

الإجمالي	الوافدون	الكويتيون	العام
٤٠٠٠٠٠٥٢ نسمة	٢٧٨٩٣٠٠ نسمة	١٢٦٣١٠٠ نسمة	٢٠١٤م

- ضع عنوان للجدول؟
- علل / قلة عدد الوافدين في دولة الكويت بعد عام ١٩٩٠م ؟
- بلغ عدد السكان الوافدين ٧٢% لدولة الكويت عام ١٩٩٠م . مثل النسبة باستخدام الدائرة البيانية ؟



- **س ١٠ : برهن على صحة العبارات التالية :**
- اعتزاز الكويت بتراثها البحري .

- تأثير حرفة الغوص على أهل الكويت .

- **س ١١ : فند العبارات التالية :**

١- لم يتكيف الكويتيون قديما مع البيئة المحيطة في زراعة النباتات؟

٢- لم يجل الأسطول الكويتي التجاري في مياه الخليج العربي والمحيط الهندي؟

- **س ١٢ : دلل على صحة العبارات التالية:**

ساعد الموقع الجغرافي لدولة الكويت قديما على ازدهار صناعة السفن

- **س ١٣ : فسر المفاهيم التالية :**

الكوس :

السموم :

السرايات :

طريق الحرير :

الهيرات :

موسم السفر :

ترانزيت :

السؤال الأول : قارن بين كل من حيث:

نوع الحرفة	الصخين	المنز
المفهوم		
الإستخدام		

السؤال الثاني : أكمل الفراغات التالية بما يناسبها:

- ١- هي عبارة عن أكياس كبيرة لحفظ بعض أنواع الأطعمة توضع على ظهر الدابة تسمى.....
- ٢- حرفة يدوية يقوم العاملون بها بصنع وتلميع القدور المستخدمة بالطبخ هي
- ٣- منطقة لها قيمة أثرية كبيرة حيث يرجع تاريخ أقدم الحفريات الجيولوجية بها الى الفترة ما بين ١٥-٢٠ مليون سنة هي
- ٤- عبارة عن جزيرة ترجع أقدم آثارها إلى الحضارة الدلمونية هي
- ٥- دخلت منطقة الخليج مرحلة جديدة بعد أن وقعت أرض الكويت في فلك الحضارة

حدد على خريطة الكويت الصماء باستخدام الرموز التالية ما يلي :

- منطقة لها قيمة أثرية كبيرة حيث يرجع تاريخ أقدم الحفريات الجيولوجية الى الفترة ما بين ١٥-٢٠ ويوجد بها حضارة العبيد باستخدام الرمز *
- جزيرة ترجع أقدم آثارها إلى الحضارة الدلمونية بناءً على المكتشفات الأثرية باستخدام الرمز #

السؤال الثالث: ما هي أوجه الشبة والاختلاف بين كل من :

الحرفة اليدوية	النجارة	الحدادة
أوجه الشبه		
أوجه الاختلاف		

السؤال الرابع: علل لما يلي:

- اعتبار الكويت همزة وصل بين حضارة بلاد الرافدين شمالا وحضارة بلاد السند جنوبا.

السؤال الخامس: اكتب فيما درست عن:

- مدى تأثير موقع الكويت في انتقال الحضارات .

السؤال السادس: برهن على صحة العبارات التالية:

- الأهمية الحضارية لحضارة العبيد.

- الأهمية الأثرية لجزيرة فيلكا.

الفصل الثاني : نشأة الكويت

س ١ أكمل العبارات التالية بكلمات مناسبة مما درست :

- ١- تأسست الكويت في الجزء الشمالي من الخليج العربي في عام
- ٢- خرج العتوب من نجد قبل استقرارهم في الكويت من منطقة تسمى
- ٣- عرف عنه الحكمة وهدوء الطبع وحبه لشعبه اشتهر بجابر
- ٤- أول حاكم من حكام الكويت هو
- ٥- وقعت معركة الرقة في عام
- ٦- مؤلف كتاب تاريخ الكويت يسمى
- ٧- أسر ترجع في أصولها إلى عدة قبائل أبرزها قبيلة عنزه تسمى
- ٨- تم بناء سور الكويت الأول في عهد الشيخ
- ٩- كانت قطر هي محطة الإستقرار الأولى لهجرة العتوب فاستقروا في منطقة تسمى
- ١٠- تم بناء سور الكويت الأول في عام
- ١١- الشيخ الذي ألغى الرسوم التجارية احتراماً لرغبة الشعب هو
- ١٢- اعتمد نظام الحكم في الكويت على العدل و.....

س ٢ اختار الإجابة الصحيحة من بين البدائل التالية :

- ١- انتقلت الوكالة البريطانية للكويت المرة الأولى في عام
- (١٧٩٢م - ١٧٩٣م - ١٧٩٤م - ١٧٩٥م)
- ٢- شهد عهد زيارة المعتمد البريطاني الخليج العربي لويس بيلي للكويت الشيخ :
(صباح الأول - عبدالله الثاني - صباح الثاني - محمد الصباح)
- ٣- رحب باستقرار أسرة الأمير عبدالرحمن آل سعود الشيخ :
(جابر الأول - عبدالله الثاني - محمد بن صباح - صباح الأول)
- ٤- سكنت أسرة الجلاهمة في دولة :
(قطر - الإمارات - البحرين - عمان)

٥- خرجت حملة مدحت باشا على إقليم الإحساء في عام :

(١٨٧٠م - ١٨٧١م - ١٨٧٢م - ١٨٧٣م)

٦- الكويت أرض فقراء نزلها جدنا صباح عام ١٦١٣م قائل هذه العبارة الشيخ :

(محمد الصباح - عبدالله الأول - جابر الأول - مبارك الصباح)

٧- استقرت أسرة الأمير عبدالرحمن آل سعود في الكويت عام :

(١٨٩٠م - ١٨٩١م - ١٨٩٢م - ١٨٩٣م)

٨- العتوب ترجع في أصلها الى عدة قبائل أبرزها قبيلة

(شمر - عنزة - آل جلاهمة - آل خليفة)

٩- ساعد العثمانيون في حملتهم على الإحساء بقيادة مدحت باشا هو الشيخ :

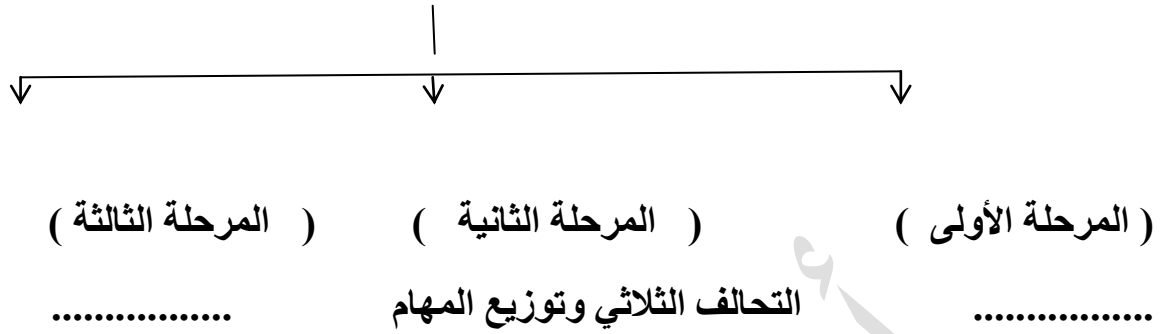
(عبدالله بن صباح - صباح الثاني - جابر الأول بن صباح - صباح الأول)

١٠- تولى الشيخ محمد بن صباح الحكم عام :

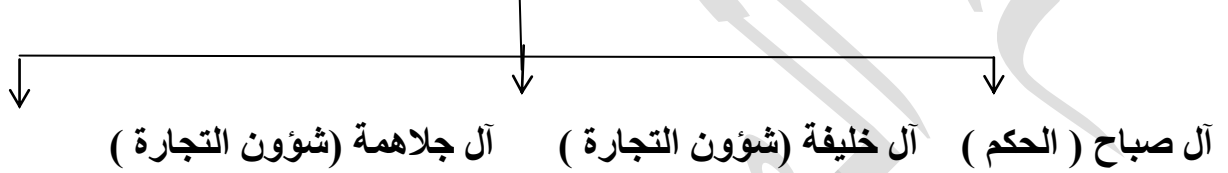
(١٨٩٠م - ١٨٩١م - ١٨٩٢م - ١٨٩٣م)

س ٣ أكمل المخطط السهمي التالي :

١- مراحل تأسيس الكويت :



٢-



س ٤ صحح ما تحته خط في العبارات التالية مما درست :

- ١- يعد اختيار الشيخ عبدالله الأول البداية الحقيقية لظهور الكويت ككيان سياسي منظم .
- ٢- استقر العتوب في منطقة الفريحة بالقرب من منطقة الزبارة في البحرين .
- ٣- اشتهر الشيخ عبدالله بن صباح بالنزاهة والوقار والتواضع.
- ٤- تولى الشيخ محمد بن صباح الحكم بعد وفاة والدته على الرغم من أنه أصغر أبناءه.

س ٥ صل القائمة (أ) بما يناسبها من القائمة (ب) بكتابة الرقم في المكان المناسب:

القائمة (أ)	الرقم	القائمة (ب)
عبدالله الأول		عرف عنه الحكمة وهدوء الطبع وحبه لشعبه واشتهر بجابر العيش
جابر الأول		فرض رسوم على التجار والغاها احتراماً لأبناء شعبه
صباح الثاني		يعد اختياره البداية الحقيقية لظهور الكويت ككيان سياسي منظم
صباح الأول		اشتهر بالنزاهة والوقار والتواضع
محمد بن صباح		حدثت في عهده معركة الرقة

السؤال الأول :

(أ) : قارن بين حكام دولة الكويت حسب ما هو مطلوب بالجدول :

ترتيب الحاكم	اسم الحاكم	تاريخ تولية الحكم	سماتة الشخصية	أهم الأحداث في عهده	تاريخ نهاية حكمه
الأول					
الثاني					
الثالث					
الرابع					
الخامس					
السادس					

(ب) : من قائل هذه العبارات التالية :

١/ ((الكويت أرض فقراء نزلها جدنا صباح الأول عام ١٠٢٢ هـ الموافق ١٦١٣ م))

القائل :

لمن قالها

المناسبة التي قيلت بها

٢/ ((سكن الكويت قبل نزول العتوب قليل من البدو وصيادي السمك))

القائل

المناسبة التي قيلت بها

٣/ ((دخلت ثلاث أسر عربية ذات شأن هي آل صباح والجاهلية وآل خليفة تحدهم عوامل

المصلحة والطموح في التحالف واستقرت على بقعة من الأرض على الساحل الشمالي الغربي

من الخليج العربي))

القائل

المناسبة

٤/ ((لو كانت تحت يدي ثروة طائلة لقمتم بحاجة الفقراء والمحتاجين منها إلى أن يموتوا))

القائل

المناسبة

السؤال الثاني :

(أ) : أمامك خريطة شبه الجزيرة العربية نفذ ما هو مطلوب عليها :



١/ ارسم خط هجرة العتوب

٢/ حدد المعركة التي حدثت في عهد الشيخ

عبدالله الأول (بكتابة اسم المعركة)

(ب) : علل مايتى :

١ / اختيار الشيخ صباح الأول للحكم.

*

*

٢ / اختيار الشيخ صباح الأول يعد البداية الحقيقية لظهور الكويت ككيان سياسي منظم .

*

*

٣ / شكلت قطر محطة الإستقرار الأولى للعتوب .

*

*

٤ / تولى الشيخ عبدالله الأول الحكم بعد وفاة والده بالرغم من كونه أصغر أبنائه .

*

*

السؤال الثالث :

(أ) : أجب عن ماهو مطلوب بين القوسين :

١/ حرص حكام الكويت على اتخاذ قرارات ذات ابعاد اقتصادية ساعدت على النمو التجاري

والاقتصادي (عدد)

.....*

.....*

٢/ عوامل نمو وازدهار الكويت تحت حكم ال صباح (عدد)

.....*

.....*

(ب) : أقرأ الفقرة التالية ثم أجب عما يليها من أسئلة :

(إن هوية الكويت تشكلت مبكرا منذ عملية التأسيس على يد العتوب حيث تكونت النواة الأولى التي

استقطبت العديد من المجموعات السكانية الأخرى التي وفدت على أرض الكويت)

١/ اقترح عنوان مناسب للفقرة ؟

.....

٢/ استخرج حقيقة من الفقرة السابقة؟

.....

السؤال الرابع : عرف المفاهيم التالية :

١/ المسابلة:.....

٢/ الكويت:.....

٣/ العتوب:.....

الفصل الثالث : الكشوف الجغرافية والتنافس الإستعماري

أجب عن الأسئلة المطلوبة بين القوسين :

١- السيطرة البرتغالية من أفضل النظم الإستعمارية في الخليج العربي. (فند)

٢- أسباب انهيار الاستعمار البرتغالي والهولندي في منطقة الخليج العربي. (فرق)

اكتب ما تعرفه عن:

١- سياسة الهولنديون في منطقة الخليج.

٢- سياسة الإنجليز بعد انهيار النفوذ الهولندي في منطقة الخليج.

٣- العلاقات الكويتية العثمانية قديماً.

٤- الأسس التي حددها فرمان العثماني لعلاقة الكويت بالدولة العثمانية.

٥- أهم الدوافع التي جعلت البرتغاليين يسعون لمد نفوذهم المباشر للخليج العربي.

صح ماتحته خط في العبارات التالية :

- استصدر مدحت باشا والي بغداد العثماني فرمان عام ١٧٨١م.
- الحصار الفارسي للبصرة عام ١٥٥٧م.
- اتفاقية الحماية البريطانية للكويت عام ١٩٨٨م.
- أول أسطول هولندي إلى آسيا عام ١٥٩٦م.
- تأسست شركة الهند الشرقية الإنجليزية عام ١٧٠٠م.
- توجه أول أسطول هولندي في منطقة الشرق إلى جزر الهند الغربية.
- ميناء اتخذه الهولنديون مركز تجاري لهم في آسيا بندر لنجة.
- أول دولة استعمارية في منطقة الخليج العربي هولندا.
- انهيار التواجد البرتغالي في الخليج بسبب وقوعها تحت الاحتلال البريطاني.
- الدولة الخليجية التي ظهرت فيها قوة اليعاربة البحرين.
- اتجهت حملة مدحت باشا للسيطرة على إقليم الإحساء عام ١٧٨١م.

علل لما يأتي:

١- أهمية اليعاربة في منطقة الخليج العربي في أواخر القرن السادس عشر.

٢- أهمية منطقة الخليج العربي في العصور الحديثة.

٣- نقل مركز التجارة والبريد من البصرة إلى الكويت في عامي ١٧٧٥ و ١٧٩٣م ؟
(١٧٧٥-١٧٧٩م)

(١٧٩٣-١٧٩٥م)

٤- نزاع بريطانيا مع القوى الاستعمارية في الخليج.

دل على صحة العبارة التالية :

١- أهمية الكويت بالنسبة لبريطانيا في نهاية القرن الثامن عشر الميلادي.

اكتب ماهو مطلوب منك:

١- تناول فرمان الوالي العثماني من حيث الإيجابيات على الكويت.

حدد على خريطة العالم الصماء باستخدام الرموز التالية ما يلي :



● دولة تعد مركزاً للتوابع في جنوب شرق آسيا باستخدام الرمز



● خط سير الطرق التجارية البحرية باستخدام الرمز

مع تمنياتنا بالتوفيق والنجاح