

تم تحميل هذا الملف من موقع ملفات الكويت التعليمية



[com.kwedufiles.www//:https](https://www.kwedufiles.com)

\*للحصول على أوراق عمل لجميع الصفوف وجميع المواد اضغط هنا

\* للحصول على أوراق عمل لجميع مواد الصف الثاني اضغط هنا

<https://kwedufiles.com/2>

\* للحصول على جميع أوراق الصف الثاني في مادة رياضيات ولجميع الفصول, اضغط هنا

<https://kwedufiles.com/2math>

\* للحصول على أوراق عمل لجميع مواد الصف الثاني في مادة رياضيات الخاصة بـ الفصل الثاني اضغط هنا

<https://www.kwedufiles.com/2math2>

\* لتحميل كتب جميع المواد في جميع الفصول للـ الصف الثاني اضغط هنا

<https://www.kwedufiles.com/grade2>

\* لتحميل جميع ملفات المدرس مدرسة السلام الابتدائية اضغط هنا

[bot\\_kwlinks/me.t//:https](https://t.me/bot_kwlinks)

للحصول على جميع روابط الصفوف على تلغرام وفيسبوك من قنوات وصفحات: اضغط هنا

الروابط التالية هي روابط الصف الثاني على مواقع التواصل الاجتماعي

مجموعة الفيسبوك

صفحة الفيسبوك

مجموعة التلغرام

بوت التلغرام

قناة التلغرام

رياضيات على التلغرام



وزارة التربية

الإدارة العامة لمنطقة حوли التعليمية

مدرسة السلام الابتدائية بنات

ورقة عمل للمادة الرياضيات

للف الثاني الابتدائي

الفصل الدراسي الأول - الوحدة السادسة والسابعة

٢٠١٨ - ٢٠١٩

الاسم : -----

الصف : -----

**السؤال الأول:- أكمل :-**

٢ ، ٤ ، ٦ ، --- ، --- ، ---

٥ ، ١٠ ، ١٥ ، --- ، --- ، ---

١٠ ، ٢٠ ، ٣٠ ، --- ، --- ، ---

**السؤال الثاني:-**

**أكمل بإمكانك استخدام العناصر :-**

= ٢ × ٦

= ٠ × ٤

= ٠ × ٩

= ١ × ٣

= ٢ × ٤

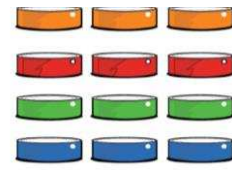
٥  
٣ ×  
□

٢  
٤ ×  
□

٥  
٢ ×  
□

= ٠ × ٧

كم عدد الاسطوانات ؟




----- = ----- + ----- + ----- + -----  
عدد الكل

**السؤال الثالث:- أوجد الناتج :-**

كم عدد الصافرات ؟



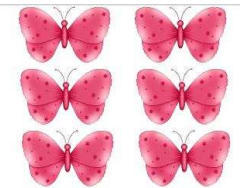
----- = ----- + -----  
عدد الكل



عدد الصفوف المتساوية -----  
عدد العناصر في كل صف -----  
----- = ----- × -----

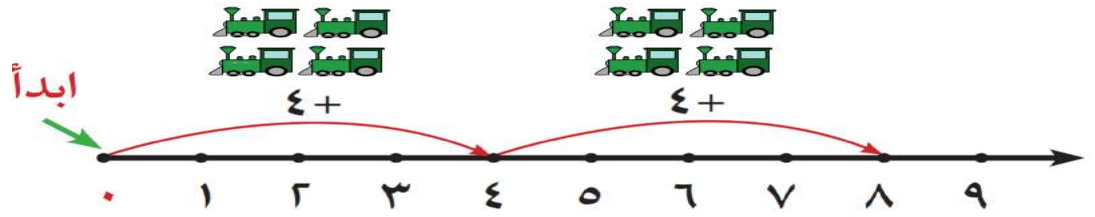
**السؤال الرابع:- أكمل :-**


عدد الصفوف المتساوية -----  
عدد العناصر في كل صف -----  
----- = ----- × -----

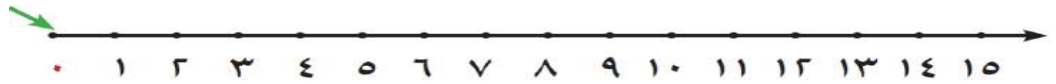





**السؤال الخامس:- أوجد الناتج باستخدام خط الاعداد:-**



 =  $4 \times 2 =$  عدد كل القطارات



 =  $5 \times 2 =$  عدد كل الاسماك

**السؤال السادس:- اختر الاجابة الصحيحة :-**

- جمع عمر 5 صناديق من الموز ، في كل منها 3 موزات ما عدد كل الموز ؟

10

12

15

12 =  × 4 -

5

3

4

=  $5 \times 2$  -

$1 \times 5$

$2 \times 5$

$7 \times 2$



- عبارة الضرب المناسبة هي

$8 = 1 \times 8$

$8 = 2 \times 4$

$10 = 5 \times 2$