

تم تحميل هذا الملف من موقع المناهج الكويتية



منطقة الجهراء التعليمية

الملف نموذج إجابة منطقة الجهراء التعليمية

[موقع المناهج](#) ← [المناهج الكويتية](#) ← [الصف السادس](#) ← [اجتماعيات](#) ← [الفصل الأول](#)

روابط مواقع التواصل الاجتماعي بحسب الصف السادس



روابط مواد الصف السادس على تلغرام

[الرياضيات](#)

[اللغة الانجليزية](#)

[اللغة العربية](#)

[التربية الاسلامية](#)

المزيد من الملفات بحسب الصف السادس والمادة اجتماعيات في الفصل الأول

نموذج اجابة اختبار لمنطقة مبارك الكبير عام 2016	1
اوراق عمل مهمة في مادة الاجتماعيات	2
بنك اسئلة ممتاز في مادة الاجتماعيات	3
بنك معلومات مهم في مادة الاجتماعيات	4
تلخيص اجتماعيات بشكل مبسط	5



وزارة التربية



موقع
المنهج الكويتية
almanahj.com/kw

الإدارة العامة لمنطقة الجهراء التعليمية
التوجيه الفني للاجتماعيات

نموذج الإجابة



العام الدراسي: ٢٠٢٤/٢٠٢٥ م
الزمن: ساعة وخمسة وأربعون دقيقة
عدد الأوراق: (٦)

امتحان الفترة الدراسية الأولى
لمقرر الكويت ودول الخليج العربية
للفص السادس

وزارة التربية
الإدارة العامة لمنطقة الجهوراء التعليمية
التوجيه الفني للاجتماعيات

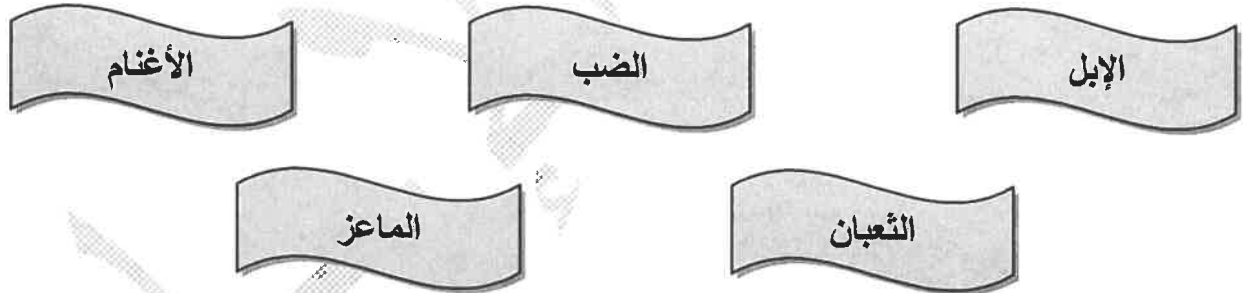
أجب عن جميع الأسئلة:

* السؤال الأول (موضوعي): ويتكون من (أ، ب، ج، د، هـ، و، ز) (٣٦ درجة - لكل نقطة درجة)

أ- أكمل العبارات التالية بما يناسبها:

- ١- أشكال سطح الأرض تسمى التضاريس . ص ٢٣
- ٢- الرياح الجنوبية الشرقية التي تهب على منطقة الخليج العربية تسمى الكوس. ص ٢٥
- ٣- بداية موسم الغوص تسمى الدشة . ص ٣٢
- ٤- يُطلق على الخليج العربي قديماً اسم البحر الأدنى أو بحر شروق الشمس. ص ٤٧
- ٥- أول دولة أوروبية استعمارية وصلت للخليج العربي اسمها البرتغال . ص ٦٠
- ٦- الشيخ الذي في عهده ألغيت معاهدة الحماية التي وقعت مع بريطانيا اسمه عبدالله السالم الصباح . ص ٦٣

ب- صنف الحيوانات التالية بمكانها الصحيح في الجدول الذي يليها: ص ٢٦



حيوانات غير مستأنسة	حيوانات مستأنسة
الضب	الإبل
الثعبان	الأغنام
	الماعز

تابع / السؤال الأول (الموضوعي):

ج- أكتب المفاهيم أو المصطلحات الدالة على العبارات التالية:

م	المفهوم / المصطلح	التعريف
١	<u>الخليج العربي</u>	ذراع مائي لبحر العرب يمتد من خليج عمان جنوباً حتى شط العرب شمالاً. ص ١٩
٢	<u>بؤائر العرض</u>	خطوط وهمية أي غير موجودة على سطح الأرض ترسم على الكرة الأرضية، وتقسّم الكرة الأرضية إلى قسمين شمالي وجنوبي وعددها ١٨٠ دائرة. ص ٢١
٣	<u>المناخ</u>	حالة الجو في مكان ما، خلال فترات زمنية طويلة. ص ٢٥
٤	<u>الواحة</u>	منطقة تقع في الصحراء فيها مياه عذبة صالحة للزراعة. ص ٢٩
٥	<u>القفال</u>	نهاية موسم الغوص. ص ٣٢

د- ظلل الخيار الصحيح من بين الخيارات التي تلي كل عبارة مما يلي:

١- يبلغ عدد خطوط الطول التي تمتد خلالها منطقة الخليج العربية شرق خط جرينتش: ص ١٩

خط ٢٤	خط ٢٥	خط ٢٦	خط ٢٧
-------	-------	-------	-------

٢- من الغلات الزراعية التي تم انتاجها في منطقة الخليج العربية: ص ٢٨

الفرولة	الموز	الزيتون	التمور
---------	-------	---------	--------

٣- الاسم الذي يُطلق على مُطرب السفينة: ص ٣٢

النهام	القلاف	الغواص	السيب
--------	--------	--------	-------

٤- القرن الميلادي الذي ظهر فيه الاسلام: ص ٥٣

الخامس الميلادي	السادس الميلادي	السابع الميلادي	الثامن الميلادي
-----------------	-----------------	-----------------	-----------------

٥- العام الذي أعلن فيه قيام المملكة العربية السعودية: ص ٦٥

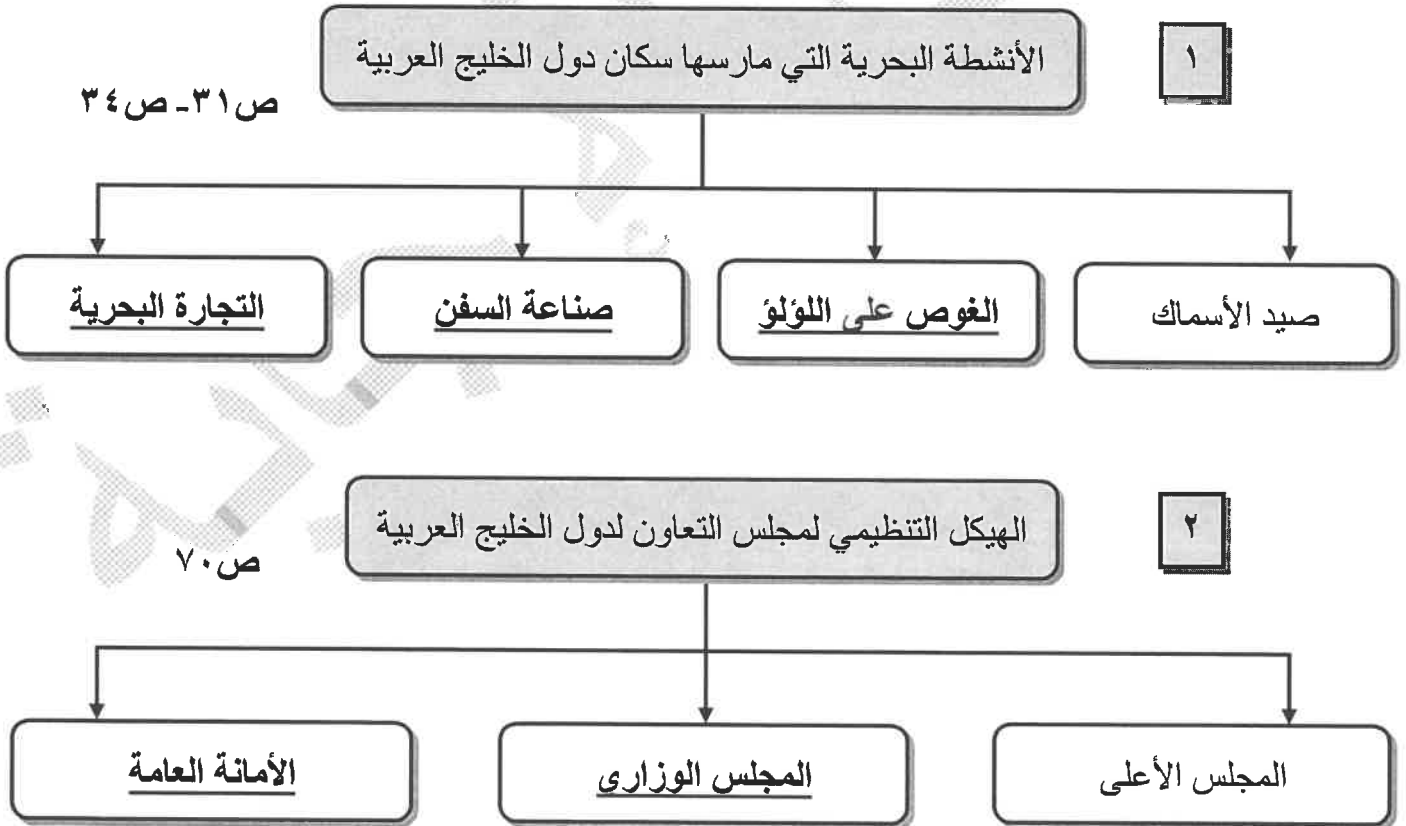
١٩٣١ م	١٩٣٢ م	١٩٣٣ م	١٩٣٤ م
--------	--------	--------	--------

تابع / السؤال الأول (الموضوعي):

هـ - ظلل الحرف (أ) إذا كانت العبارة صحيحة وظلل الحرف (ب) إذا كانت العبارة خاطئة:

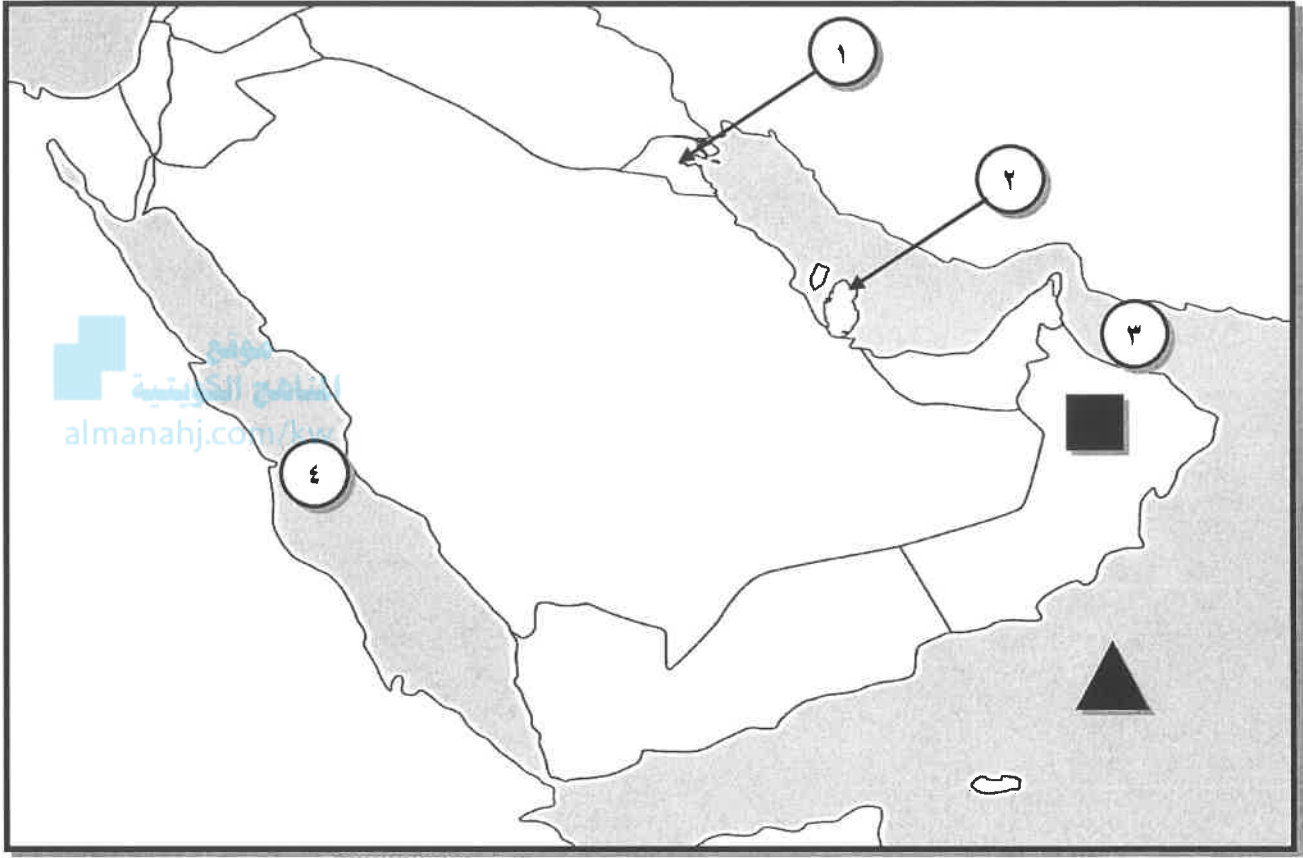
م	العبارة	(أ)	(ب)
١	يتصف مُناخ منطقة الخليج العربي بأنه صحراوي قاري. ص ٢٥	أ	ب
٢	أشتهرت حضارة مجان بأفران صهر المعادن. ص ٤٨	أ	ب
٣	العام الذي حصلت فيه مملكة البحرين على استقلالها ١٩٥١م ص ٦٥	أ	ب
٤	المدينة التي اتخذت مقراً لمجلس التعاون لدول الخليج العربية اسمها الرياض. ص ٧٠	أ	ب
٥	القمة السابعة والعشرون لمجلس التعاون الخليجي تسمى قمة الشيخ صباح الأحمد الصباح. ص ٧٤	أ	ب

و- أكمل المخططات السهمية التالية:



تابع / السؤال الأول (الموضوعي):

ز- أمامك خريطة شبه الجزيرة العربية الصماء نفذ المطلوب مما يليها:



١- أكتب الرقم الدال على العبارات التالية:

ص ٢٣

- خليج عُمان يمثله على الخريطة الرقم ٣

ص ٤٧

- الدولة الخليجية التي توجد فيها الحضارة الهلينستية يمثلها على الخريطة الرقم ١

ص ٥٧

- الدولة الخليجية التي هاجر إليها المعاصيد يمثلها على الخريطة الرقم ٢

٢- حدد كل مما يلي على الخريطة باستخدام الأشكال التالية:

ص ٢٣

- الدولة الخليجية التي يوجد فيها الجبل الأخضر باستخدام الشكل ■

ص ٢٣

- بحر العرب باستخدام الشكل ▲

* السؤال الثاني/ (مقالى) : يتكون من (أ ، ب ، ج)

أ- قارن بين كل من حسب المطلوب منك في الجدول التالي: (٤ درجات)

أوجه المقارنة	نبات مُعمر ص ٢٦	نبات حولي ص ٢٦
التعريف	نباتات متوفرة طول العام. (درجة)	نباتات يرتبط وجودها بموسم سقوط المطر. (درجة)
مثال	الصبار - العرفج - الثندا - الرمث (درجة - يكتفى بنقطة)	الخبيزة - الحويذان - العنصيل (درجة - يكتفى بنقطة)

المنهج الكويتية
almanahj.com/kw

ب- علل لما يلي : (٦ درجات)

١- أهمية موقع منطقة الخليج العربية. ص ١٩ (درجتان)

* تقع في وسط العالم.

* تتحكم بأهم طرق التجارة العالمية.

٢- حياة السكان في البيئة الصحراوية لمنطقة الخليج العربية قاسية وخشنة. ص ٢٧ (درجتان)

* لفقر البيئة.

* قلة الموارد فيها خاصة المياه.

٣- سفينة البغلة تعتبر من أفضل أنواع السفن المستعملة في رحلة السفر. ص ٣٤ (درجتان)

* لمتانتها وقدرتها على نقل الحمولة الكبيرة.

* تمتاز بقلتها تعرضها للأخطار البحرية.

ج- لاحظ الصورة التي أمامك ثم أكتب اسم الحرفة اليدوية التي تمثلها: ص ٢٩ (درجتان)



صناعة الخوص



حياكة السدو

* السؤال الثالث/ (مقال) : يتكون من (أ ، ب ، ج)

أ- فرق بين كل مما يلي من حيث التعريف: (٤ درجات)

الموقع النسبي ص ٢٠	الموقع الفلكي ص ٢٠
الموقع بالنسبة للماء واليابس. (درجة)	الموقع بالنسبة لخطوط الطول ودوائر العرض. (درجة)
الاستقلال ص ٦٣	الاستعمار ص ٦١
تحرر الدولة من المستعمر الأجنبي وقيامها بمسؤولية إدارة شؤونها الداخلية والخارجية. (درجة)	هو أن تسيطر دولة قوية على دولة ضعيفة بهدف استغلال مواردها (خيراتها). (درجة)

المناهج الكويتية
almanahj.com/kw

ب- لاحظ الصورة التي أمامك ثم أجب عن الأسئلة التالية: ص ٧٧ (درجتان)



١- ماذا يمثل هذا الشعار؟ (درجة)

* شعار مجلس التعاون لدول الخليج العربية.

٢- كم عدد الدول في هذا التنظيم السياسي؟ ص ٧٠ (درجة)

(٦) *

ج- عدد لكل مما يلي: (٦ درجات)

١- مظاهر الحضارة الإسلامية. ص ٥٥ (درجتان) (يكتفى بنقطتين)

* العمران.

* الصناعة.

* الفن.

٢- الصفات المشتركة بين دول مجلس التعاون لدول الخليج العربية. ص ٧٠ (درجتان) (يكتفى بنقطتين)

* الدين.

* وحدة التراث.

* المصالح المشتركة.

* الانتماء.

٣- أهداف مجلس التعاون لدول الخليج العربية. ص ٧٦ (درجتان) (يكتفى بنقطتين)

* تحقيق التعاون بين الدول الأعضاء في جميع المجالات.

* تحقيق الترابط والصلات بين دول مجلس التعاون.

* العمل على تقدم دول مجلس التعاون في المجال العلمي.

" انتهت الإجابة "