

تم تحميل هذا الملف من موقع المناهج الكويتية



الملف مراجعة ثانوية الفردوس (الكشوف الجغرافية)

[موقع المناهج](#) ⇐ [المناهج الكويتية](#) ⇐ [الصف الثاني عشر الأدبي](#) ⇐ [تاريخ](#) ⇐ [الفصل الأول](#)

روابط مواقع التواصل الاجتماعي بحسب الصف الثاني عشر الأدبي



روابط مواد الصف الثاني عشر الأدبي على تلغرام

[الرياضيات](#)

[اللغة الانجليزية](#)

[اللغة العربية](#)

[التربية الاسلامية](#)

المزيد من الملفات بحسب الصف الثاني عشر الأدبي والمادة تاريخ في الفصل الأول

[مذكرة الجمعية الكويتية للتاريخ الحديث](#)

1

[امتحان نهاية الفترة الدراسية الاولى في مادة التاريخ](#)

2

[نموذج احابة اختبار لنهاية الفترة الدراسية الاولى في مادة التاريخ](#)

3

[مذكرة سلمان الفارسي في مادة التاريخ](#)



4

[مراجعة شاملة في مادة التاريخ](#)

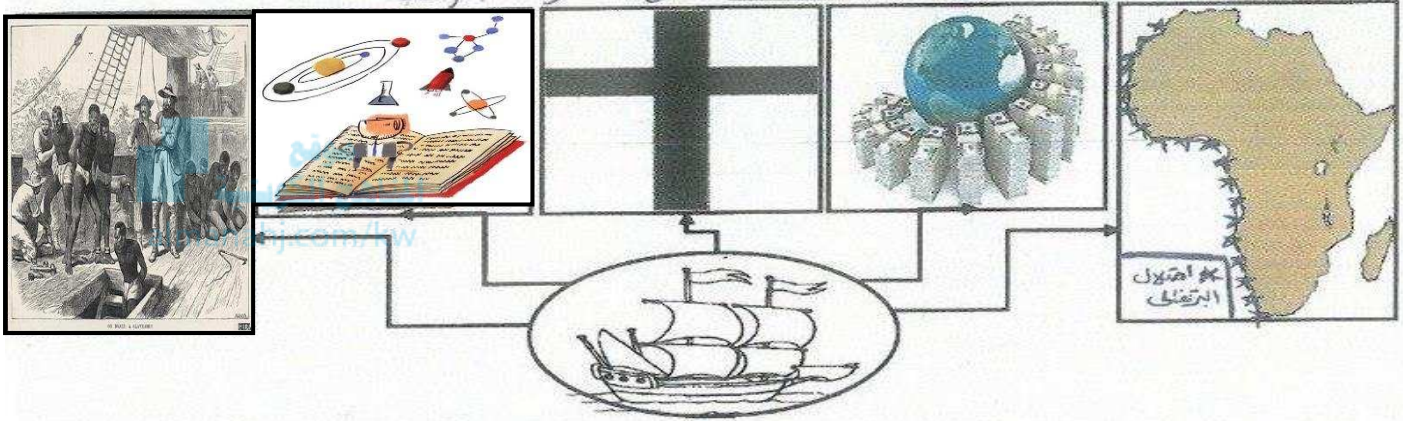
5

أسباب قيام حركة الكشوف الجغرافية


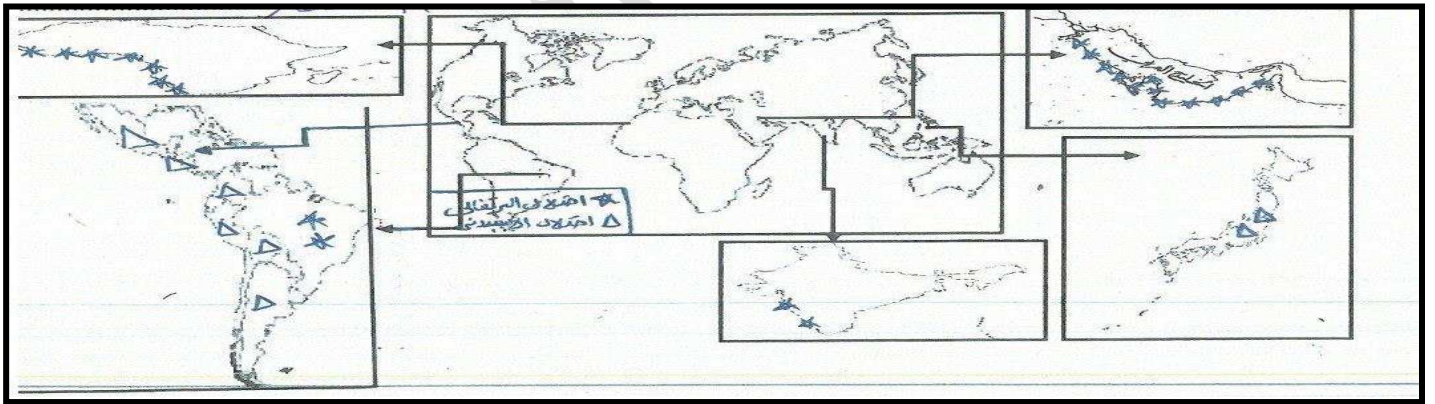
اعداد رئيسة القسم : عذبية المطيري



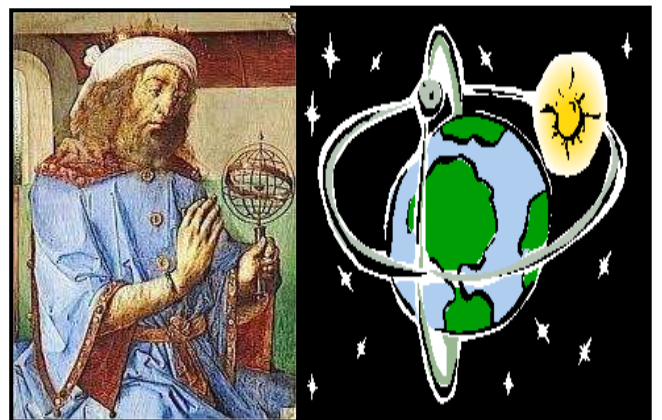
نتائج الرحلات والكشوف الجغرافية




" أدت الكشوف الجغرافية إلى تكوين دول وإمبراطوريات كبرى "



نظرية كوبرنيكوس في مجال الفلك



نظرية بطليموس في مجال الفلك



المنهج الكويتي
amanahj.com.kw

(لعبت الكنيسة الكاثوليكية دورا كبيرا في تشكيل تاريخ أوروبا حيث سيطرت روحيا وثقافيا علي المجتمعات الأوروبية خلال العصور الوسطى ، وكثيرا ما كان البابا يحتل مكانة تفوق سلطة الملوك والباطرة، وقد تمتعت الكنيسة داخل أوروبا بامتيازات كثيرة تمثلت في تولي الوظائف الدينية والدنيوية واحتكار تفسير الكتاب المقدس مما أدى إلي تحول الدين إلي تجارة كان من أبرز صورها ما عرف بصكوك الغفران، وفي مطلع العصور الحديثة كان لها دورا بارزا في قيام الكشوف الجغرافية في القرنين الخامس عشر والسادس عشر)

@ اقرأ النص التاريخي الذي أمامك بعناية ثم استخراج منه ما يلي :-

١- الفكرة الرئيسية للنص

٢- وعد تقدمه الكنيسة للناس للتكفير عن ذنوبهم ومنحهم الجنة

صكوك الغفران

٣- فترة زمنية تميزت بازدهار الحضارة الإسلامية

العصور الوسطى

٤- سبب أدى إلي جهل الناس في أوروبا بحقيقة الدين المسيحي ومبادئه

احتكار تفسير الكتاب المقدس

٥- حدث تاريخي أدى إلي ظهور الاستعمار

الكشوف الجغرافية

٦- الفترة الزمنية التي شهدت بداية حركة الكشوف الجغرافية

القرنين الخامس عشر والسادس عشر

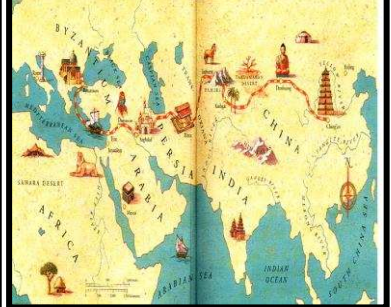
علل : أهمية حركة الكشوف الجغرافية

علل

دلل : تعتبر حركة الكشوف الجغرافية التي قام بها الأوروبيون في القرن ١٥ و١٦ حدثا بارزا في تاريخ العالم
* التعرف علي أراضي جديدة لم تكن معروفة لهم .
* ساعدت علي تطور خريطة العالم حتي ظهرت لنا في وقتنا الحاضر بصورة مكتملة .



زيادة عدد السكان في أوروبا



* علل تعليلا تاريخيا :- قيام حركة الكشوف من الناحية الاقتصادية

* دلل : للكشوف الجغرافية دوافع اقتصادية

* نفذ المطلوب منك بين القوسين : الكشوف الجغرافية (الدافع الاقتصادي)

١- محاولة تخطي الوساطة التجارية الإسلامية

٢- الحاجة إلي الذهب والفضة (مجاعة نقدية)

٣- البحث عن التوابل

٤- البحث عن مناجم الذهب والفضة .

٥- العثور علي أراضي جديدة للإيواء بسبب زيادة عدد السكان .

علل تعليلا تاريخيا لما يلي :- عانت أوروبا في أواخر القرن ١٥ من أزمة اقتصادية

١- الحاجة إلي الذهب والفضة (مجاعة نقدية)

٢- الحروب الدينية التي عانت منها أوروبا في آخر القرن الخامس عشر

*- برهن على أن : التنصير واحد من أقوى الأهداف التي تطلع الأوربيون لتحقيقها خلال حركة الكشوف الجغرافية

*- برهن على العلاقة التاريخية بين :- الدافع الديني وقيام حركة الكشوف الجغرافية

دلل: للكشوف الجغرافية دوافع دينية
نشر المسيحية في المناطق المكتشفة / محاولة تطويق العالم الإسلامي / تقوية الممالك المسيحية

فند العبارة: لم يهتم الأوربيون بنشر المسيحية في المناطق المكتشفة
العبارة خاطئة: رغبة الدول الأوربية نشر المسيحية في المناطق المكتشفة / محاولة تطويق العالم الإسلامي / تقوية الممالك المسيحية

اكتب رأيك فيما يلي في ضوء دراستك للمادة العلمية :-
سعى الدول الأوروبية للسيطرة علي الشعوب الضعيفة من العالم
١- لتكوين امبراطوريات .
٢- لنشر نفوذها ومبادئها .

١٠٠

اكتب فيما يلي : ساهمت الكشوف الجغرافية في تطور علوم الملاحة

علل:- ظهور رغبة قوية عند الأوربيين في عصر النهضة لزيادة معلوماتهم الجغرافية
١- ظهور روح البحث العلمي ٢- تقدم علم الفلك ٣- استخدام البوصلة والاسطرلاب
٤- بناء سفن عملاقة كرافيل التي تميزت بكبر حمولتها واستعمالها أكبر عدد من الأشرعة .

علل : نمو الروح القومية من أقوى الأسباب في حركة الكشوف الجغرافية عند بعض دول أوربا
اشتداد رغبة هذه الدول للسيطرة علي الشعوب الضعيفة من العالم لتحقيق رغبتها في التوسع لتكوين امبراطوريات ولنشر نفوذها ومبادئها .

اكتب اسم المصطلح الدال على كل عبارة من العبارات التالية :-

العبارات	اسم المصطلح
حركة كشفية قامت في أوربا خلال القرنين الخامس عشر والسادس عشر الميلاديين تم عن طريقها التعرف علي أراض جديدة وساعدت علي تطور خريطة العالم	الكشوف الجغرافية
اصطلاح يطلق علي حاجة الأوربيين إلي الذهب والفضة	مراجعة نقدية
سفينة عملاقة تميزت بكبر حمولتها واستعمالها لعدد أكبر من الأشرعة وازدياد القدرة علي المغامرة وسط المحيطات	كرافيل
آلة بحرية استخدمها الملاحون لمعرفة وتعيين المواقع الجغرافية بواسطة النجوم	الاسطرلاب
آلة تستخدم لمعرفة الجهات	البوصلة

اختر الإجابة الصحيحة من بين الإجابات التي تلي كل عبارة مما يلي :-

- ١- الدافع الاقتصادي لقيام دول أوربا بحركة الكشوف الجغرافية هو الرغبة في :
أ- نشر المسيحية ب- السيطرة ونشر مبادئها ج- زيادة المعلومات الجغرافية د- تخطي الوساطة التجارية الإسلامية
- ٢- المنطقة تنافست عليها الدول الاستعمارية وتعتبر مصدر للتوابل والمنتجات الشرقية تسمى :
أ- **الهند** ب- افغانستان ج- اليابان د- الصين

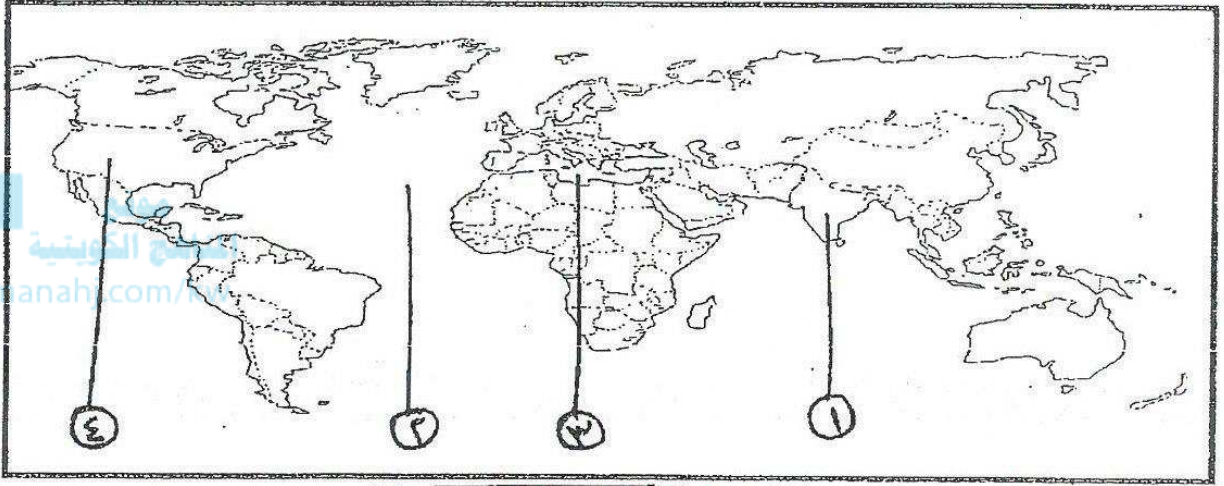
صنف أسباب قيام حركة الكشوف الجغرافية حسب الجدول التالي :

نشر المسيحية في المناطق المكتشفة / اشتداد رغبة الدول الأوربية بالسيطرة علي بقاع جديدة / تقوية الممالك المسيحية
تكوين امبراطوريات لنشر نفوذها ومبادئها / محاولة تطويق العالم الإسلامي

نمو الروح القومية	الدافع الديني للكشوف الجغرافية
اشتداد رغبة الدول الأوربية بالسيطرة علي بقاع جديدة تكوين امبراطوريات لنشر نفوذها ومبادئها	نشر المسيحية في المناطق المكتشفة تقوية الممالك المسيحية محاولة تطويق العالم الإسلامي

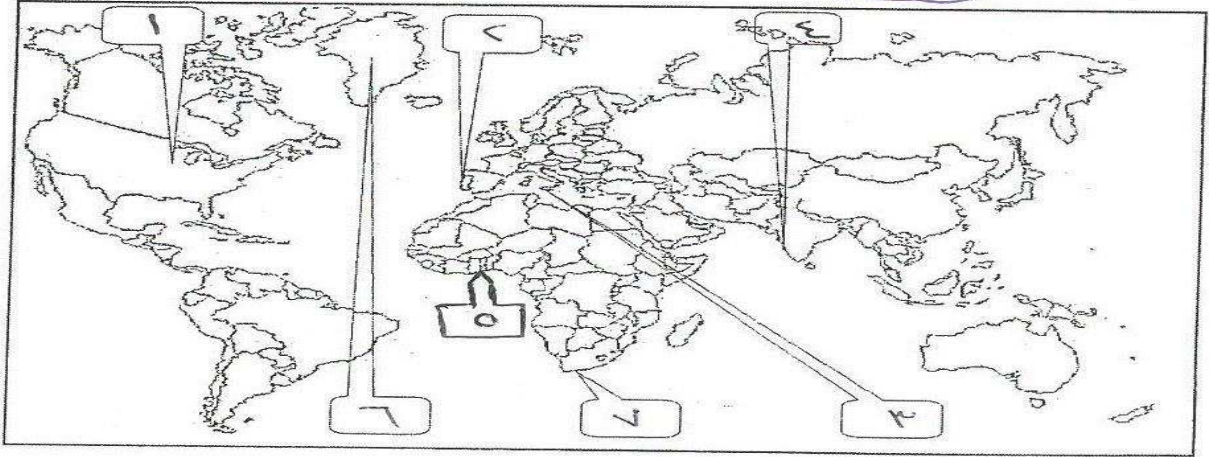
فرق حسب الجدول التالي :-

الدافع الاقتصادي للكشوف الجغرافية	الدافع الديني للكشوف الجغرافية
١- محاولة تخطي الوساطة التجارية الإسلامية ٢- الحاجة إلى الذهب والفضة (مجاعة نقدية) ٣- البحث عن التوابل ٤- البحث عن مناجم الذهب والفضة . ٥- العثور على أراضي جديدة للإيواء بسبب زيادة عدد السكان .	نشر المسيحية في المناطق المكتشفة تقوية الممالك المسيحية محاولة تطويق العالم الإسلامي



@ ادرس خريطة العالم التي أمامك جيدا ثم أجب عما يلي :-

- *- الدولة الآسيوية التي كانت هدفا لمعظم رحلات الكشوف الجغرافية تمثل الرقم ١ الهند
- *- أحد طرق التجارة قبل الكشوف الجغرافية تحمل علي الخريطة الرقم ٣ البحر المتوسط
- *- المسطح المائي الذي أطلق عليه قديما " بحر الظلمات " يمثل الرقم ٢ المحيط الأطلسي



@ لاحظ الخريطة ثم أجب عما يلي :

- * الدولة التي انطلقت منها أول رحلة للكشوف الجغرافية تحمل علي الخريطة الرقم ٢ البرتغال
- * المنطقة التي وصل لها الأمير هنري تحمل علي الخريطة الرقم ٥ غانا
- * المنطقة تنافست عليها الدول الاستعمارية وتعتبر مصدر للتوابل والمنتجات الشرقية تحمل الرقم ٤ الهند

ما تفسيريك : بالرغم من تعدد الدول الأوروبية في مجال الكشوف الجغرافية إلا أن البرتغال كانت الدولة الأولى في هذا المجال

أذكر العوامل التي ساعدت البرتغاليين علي الأسبقية في مجال الكشوف والوصول إلي الهند

علل : سبق البرتغال بقية الدول الأوروبية إلي حركة الكشوف الجغرافية

علل : تمكن البرتغاليون من الوصول إلي الهند

علل:- تعتبر البرتغال أول الدول الأوربية التي قامت فيها حركة الكشوف الجغرافية في نهاية القرن الخامس عشر الميلادي
١- توافر الأدوات اللازمة من علم وخبرة وسفن متطورة
٢- واستقرار الوضع في بلادهم،

ما تفسيريك : سعي الأوروبيون في الوصول للهند عبر طريق لا يمر بالبحر المتوسط لكي يتخلصوا من احتكار العرب للطرق التجارية القارية والبحرية بين الهند والمتوسط والوصول للدول المنتجة للتوابل مباشرة دون العبور بالبحر المتوسط لذا كان عليهم المغامرة في المحيطات

اختر البديل المناسب من بين البدائل التي تلي كل عبارة مما يلي :-
* أول من قام بحركة الكشوف الجغرافية في نهاية القرن ١٥ م بمثله الحرف
أ- الأسبانيين ب- البرتغاليين ج- الفرنسيين د- الانجليز

* أول الشعوب الأوربية اهتمت بحركة الكشوف الجغرافية هم :
أ- البرتغال ب- الأسبان ج- الفرنسيون د- الانجليز

* أي من الأمور لم يهتم البرتغال بتحقيقها خلال رحلاتهم الكشفية :
أ- تقدم الملاحة ب- نشر المسيحية
ج- مواصلة الحرب ضد المسلمين د- الوصول للهند بالإبحار غربا عبر الأطلسي

* هدف البرتغالي الأساسي في الكشوف الجغرافية هو :
أ- الوصول إلي جزر الهند الشرقية بالإتجاه نحو الغرب
ج- الوصول إلي آسيا بالدوران حول أفريقيا
ب- اكتشاف العالم الجديد (الأمريكتين)
د- اكتشاف القارة القطبية الشمالية

* المكتشفون الذين اتخذوا الإتجاه شرقا للوصول للقارة الأسيوية هم :
أ- البرتغاليون ب- الأسبان ج- الفرنسيون د- الانجليز

دلل على صحة العبارة : أن الأمير هنري الملاح كان مولعا بالملاحة البحرية

دلل على صحة العبارة : لعب هنري الملاح دورا هاما في حركة الكشوف الجغرافية

دلل على صحة العبارة : يعتبر "هنري الملاح" صاحب الفضل الأول في مجال الكشوف الجغرافية

نفس الإجابة

نفس الإجابة

نفس الإجابة

لخص في نقاط دور الأمير هنري الملاح في حركة الكشوف الجغرافية

- ١- أنشأ مدرسة بحرية
- ٢- اهتم برسم الخرائط
- ٣- أنشأ مرصدا بحريا في الطرف الجنوبي لشاطئ البرتغال
- ٤- جلب علماء الرياضيات ورسامي الخرائط والفلكيين من ايطاليا وصقلية
- ٥- استعان بالمسلمين الذين كان لهم دراية في المجال البحري

اكتب عن الدور التاريخي :- الأمير هنري ابن ملك البرتغال في حركة الكشوف الجغرافية
للأمير هنري الملاح دور كبير في حركة الكشوف الجغرافية حيث كان مولعا بالملاحة ، فأنشأ مدرسة بحرية اهتمت بتطوير الأدوات التي استخدمت في عملية الكشوف الجغرافية ، كرسم الخرائط ، وأنشأ مرصدا بحريا بالطرف الجنوبي لساحل البرتغال تمكن البرتغاليون في عهده من اكتشاف ماديرا واوزور ورأس بوجادور حتي وصلت رحلاتهم لساحل السنغال . almanahj.com

اكتب فقرة تاريخية مستخدمة الكلمات المساعدة التالية :

(الكشوف الجغرافية / هنري الملاح / مدرسة بحارة / خرائط جغرافية / بناء سفن)
كان للأمير هنري الملاح دور هام في حركة الكشوف الجغرافية كان مولعا بالملاحة وأنشأ مدرسة بحرية واهتم برسم الخرائط وأنشأ مرصدا بحريا في الطرف الجنوبي لشاطئ البرتغال وجلب علماء الرياضيات ورسامي الخرائط والفلكيين من ايطاليا وصقلية واستعان بالمسلمين الذين كان لهم دراية في المجال البحري

*** أكمل العبارات التالية بما يناسبها من كلمات :**

- ١- أولي المحاولات الكشفية التي قام بها البرتغاليون رحلة الملاح **هنري**
- ٢- بدأت رحلة الأمير هنري الملاح في عام **١٤١٥م**.
- ٣- حاول الأمير هنري الملاح الوصول في رحلته الكشفية إلى **الحبشة** و **الهند**.
- ٤- الصورة المقابلة لملاح له دور هام في الكشوف الجغرافية (١٤١٥م - ١٤٣٤م) اسمه **هنري**
- ٥- أول منطقة وصل إليها هنري الملاح عام ١٤١٥م تسمى **سبته**.



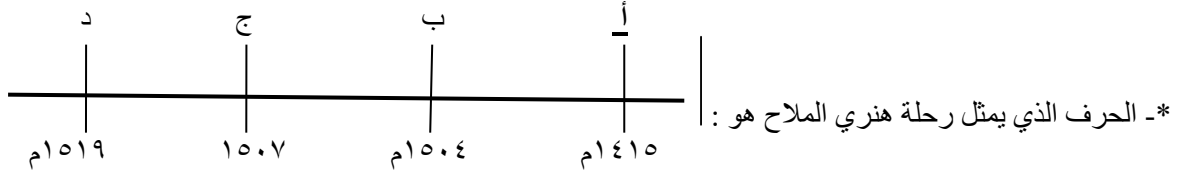
اختر البديل المناسب من بين البدائل التي تلي كل عبارة مما يلي :-

* بدأت الكشوف الجغرافية البرتغالية في عهد الملك :

- أ- مانويل الأول ب- هنري ابن جون ج- **جون الأول** د- فرانسيس الأول

* أمير برتغالي برزت جهوده البحرية في مجال الكشوف الجغرافية :

- أ- **هنري الملاح** ب- كولمبس ج- فاسكو دي جاما د- ماجلان




* الجزر التي اكتشفها البرتغاليون في عهد هنري الملاح :

- أ- كوبا ب- ترينداد ج- هايتي د- **أزور**

* المنطقة التي وصل لها الأمير هنري الملاح يمثلها علي الخريطة الحرف :

- أ ب ج د



اقرأ الفقرة التالية جيدا ثم أجب عما يليها من أسئلة :-

قام الأوربيون برحلات الكشوف الجغرافية لعدة أسباب سواء دينية أو اقتصادية الخ ، وكان للأمير هنري الملاح دور كبير في هذه الرحلات حيث كان مولعا بالملاحة ، فأنشأ مدرسة بحرية اهتمت بتطوير الأدوات التي استخدمت في عملية الكشوف الجغرافية ، كرسم الخرائط ، وأنشأ مرصدا بحريا بالطرف الجنوبي لساحل البرتغال تمكن البرتغاليون في عهده من اكتشاف ماديرا واوزور ورأس بوجادور حتي وصلت رحلاتهم لساحل السنغال

١- فسر ما تحته خط

حركة كشفية قامت في أوروبا خلال القرنين الخامس عشر والسادس عشر الميلاديين تم عن طريقها التعرف علي أراض جديدة وساعدت علي تطور خريطة العالم

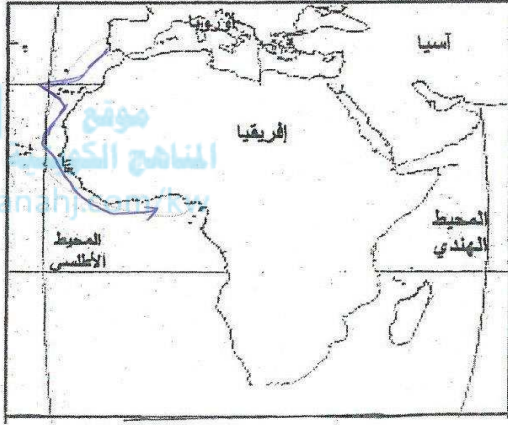
٢- استخرج من الفقرة السابقة ما يلي :-

- أ- سبب من أسباب قيام حركة الكشوف الجغرافية
- أسباب دينية : نشر المسيحية في المناطق المكتشفة / محاولة تطويق العالم الإسلامي / تقوية الممالك المسيحية
- أسباب اقتصادية : تخطي الوساطة التجارية الإسلامية / الحاجة إلي الذهب والفضة / البحث عن التوابل

ب- عمل من أعمال الأمير هنري الملاح

فأنشأ مدرسة بحرية / وأنشأ مرصدا بحريا

٣- حدد علي الخريطة المقابلة رحلة الأمير هنري الملاح



اقرأ الفقرة التالية جيدا ثم أجب عما يليها من أسئلة :-

(مثلت حركة الكشوف الجغرافية التي قامت بها الدول الأوروبية اعتبارا من نهاية القرن الخامس عشر الميلادي حدثا بارزا في تاريخ العالم . فقد رفعت الدول المكتشفة العديد من الشعارات لتغطية هدفها الأساسي وهو الوصول إلي الهند . فبدأت دولة البرتغال تلك الحملات مستعينة باختراعهم لسفن الكرافيل وتلتها بقية الدول في محاولات من جهة الشرق وجهة الغرب ، عابرين في طريقهم البحار والقارات حتي حققوا أهدافهم واكتشفوا مناطق جديدة ساعدت علي تطور خريطة العالم)

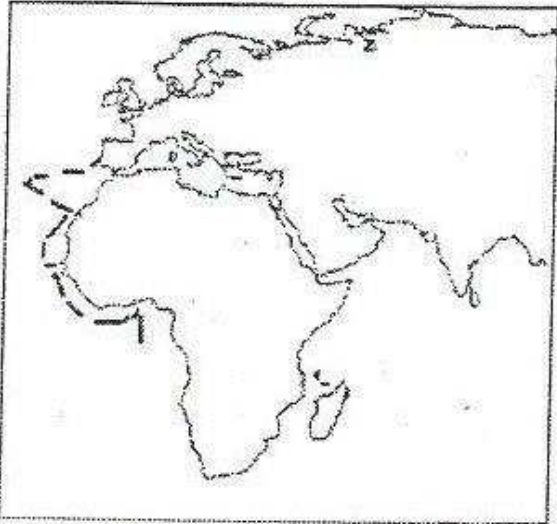
١- ضعي عنوانا مناسباً للفقرة السابقة .

٢- عرفني ما تحته خط .

كرافيل : سفينة عملاقة تميزت بكبر حمولتها واستعمالها لعدد أكبر من الأشرعة وازدياد القدرة علي المغامرة وسط المحيطات

٣- ما دور الأمير هنري الملاح في مجال حركة الكشوف الجغرافية ؟

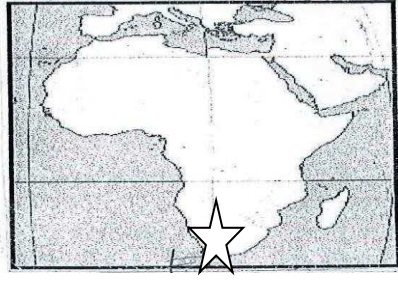
ان للأمير هنري الملاح دور هام في حركة الكشوف الجغرافية كان مولعا بالملاحة وأنشأ مدرسة بحرية واهتم برسم الخرائط وأنشأ مرصدا بحريا في الطرف الجنوبي لشاطئ البرتغال وجلب علماء الرياضيات ورسامي الخرائط والفلكيين من ايطاليا وصقلية واستعان بالمسلمين الذين كان لهم دراية في المجال البحري



٤- لاحظي الخريطة التي أمامك ثم أجيبي :

اذكري أسماء المناطق التي وصلت إليها بعثة الأمير هنري الملاح

جزر أوزو وماديرا ورأس بوجادور ساحل السنغال الرأس الأخضر وغانا



@ اقرأ الفقرة الأولى في ك.م ص ٢٨ ثم :

@ لاحظ الخريطة التي أمامك جيدا ثم أجب عما يليها :-

- ١- حددي علي الخريطة التي أمامك رأس الرجاء الصالح باستخدام الرمز
- ٢- ما الاسم القديم لرأس الرجاء الصالح ؟ رأس العواصف
- ٣- ما اسم الرحلة الذي تمكن من الوصول لرأس الرجاء الصالح؟ بارثلميو دياز

علل سبب تسمية كلا من :-

تسمية الملك جون الثاني رأس الرجاء الصالح بدلا من رأس العواصف	أطلق بارثلميو دياز علي الساحل الجنوبي لقارة أفريقيا "رأس العواصف
علي أمل أن يؤدي هذا الطريق للوصول إلي الهند	لأن واجهته في رحلته عواصف شديدة

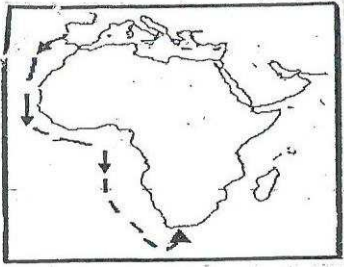
أكمل العبارات التالية بما يناسبها من كلمات :-

- ١- الملاح الذي تمكن من الوصول إلي رأس الرجاء الصالح سنة ١٤٨٨م يسمي بارثلميو دياز
- ٢- أطلق بارثلميو دياز علي الساحل الجنوبي لقارة أفريقيا اسم رأس العواصف
- ٣- الأمير الذي أطلق علي رأس العواصف اسم رأس الرجاء الصالح يسمي جون الثاني
- ٤- ملك البرتغال الذي اكتشف رأس الرجاء الصالح في عهده يسمي جون الثاني
- ٥- أطلق بارثلميو دياز علي رأس الرجاء الصالح اسم آخر رأس العواصف
- ٦- الرحلة البرتغالية الذي اكتشف رأس الرجاء الصالح بارثلميو دياز



- اختر الإجابة الصحيحة من بين البدائل التالية التي تلي كل عبارة مما يلي وضع خط تحتها :-

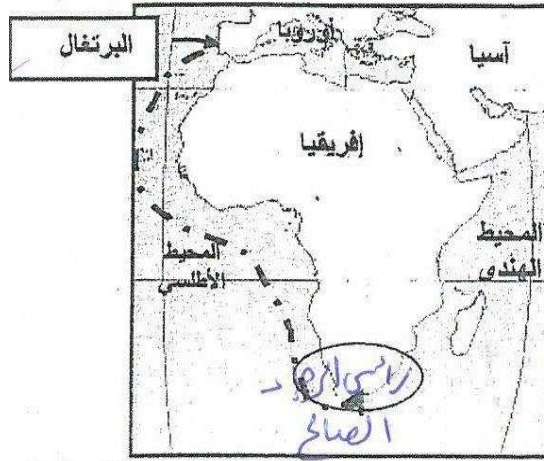
- ١- المكتشف الذي تمكن من الوصول الي رأس الرجاء الصالح هو
أ- ماجلان ب- امريكو فسبوتشي ج- بارثلميو دياز د- كولمبس



- ٢- الرحلة الميينة علي الخريطة التي أمامك قام بها الملاح
أ- جيمس كوك ب- هنري هيدسون
ج- فروبشير د- بارثلميو دياز

- ٤- كان الهدف الحقيقي لرحلة بارثلميو دياز الوصول إلي الهند ، لكنة وصل إلي :
أ- مضيق هرمز ب- رأس الرجاء الصالح ج- جزيرة سان سلفادور د- البرازيل

أكملي الناقص في الخريطة التالية :




رحلات الكشوف البرتغالية اعداد رئيسة القسم : عذبية المطيري

الرحلة الثالثة : فاسكو دي جاما

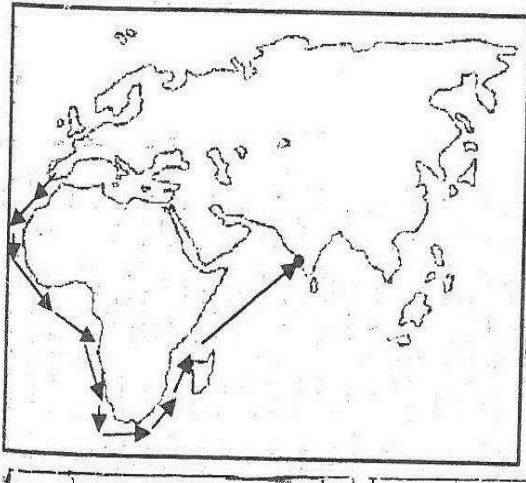
@ اقرأ الفقرة الثانية في ك.م ص ٢٨ والفقرة الأولى في ك.م ص ٢٩ ثم :

@ لاحظ الصورة التي أمامك ثم أجب عما يلي :

الميناء الذي خرجت منه الرحلة ؟ لشبونه		اسم الحدث الذي تنطق به الصورة ؟ وفي أي عام ؟ فاسكو دي جاما يصل إلي كلكتا في الهند عام ١٤٨٩ م
عدد السفن التي خرجت في هذه الرحلة ؟ أربع سفن		اسم الرحالة في الصورة ؟ فاسكو دي جاما
استغرقت رحلة هذا الرحاله ؟ سنتين		الدولة الراعية للرحلة ؟ البرتغال
بدأت رحلته في عام ١٤٩٧ م وعاد إلي البرتغال في عام ١٤٩٩ م		الملك الذي احتضن الرحلة ؟ مانويل الأول

خرج في رحلة العودة إلي البرتغال من ميناء جوا	ما النتائج المترتبة على هذا الحدث ؟ ١- حقق أمل البرتغال في كشف طريق مباشر في الوصول إلي الهند . ٢- كانت أكبر ضربة اقتصادية وجهت للعالم الإسلامي . ٣- أصبحت البرتغال في مركز متقدم في منطقة المحيط الهندي التجارية .
---	--

ما النتائج المترتبة على :- رحلة فاسكو دي جاما	نفس الإجابة	ما انجازات الشخصية التالية : فاسكو دي جاما من رحلته الكشفية
--	-------------	--



لاحظ الخريطة التي أمامك ثم اجب عما هو مطلوب :-
١- اسم المكتشف الذي قام بالرحلة فاسكو دي جاما

٢- اذكر اسم المنطقة التي وصل إليها نهاية رحلته ؟ كلكتا

٣- النتائج التي ترتبت على هذه الرحلة ؟
١- حقق أمل البرتغال في كشف طريق مباشر في الوصول إلي الهند خارج ديار المسلمين .
٢- كانت أكبر ضربة اقتصادية وجهت للعالم الإسلامي .
٣- أصبحت البرتغال في مركز متقدم في منطقة المحيط الهندي التجارية

ماذا يحدث لو لم : يكتشف طريق رأس الرجاء الصالح ١- لما تحقق أمل البرتغال في كشف طريق مباشر في الوصول إلي الهند خارج ديار المسلمين . ٢- لما تعرض العالم الإسلامي لأبزر ضربة اقتصادية . ٣- لما أصبحت البرتغال في مركز متقدم في منطقة المحيط الهندي التجارية .

اقرأ الفقرة التالية بدقة ثم أجب عن الأسئلة التي تليها :-

(البرتغاليون أول من قام بحركة الكشوف الجغرافية ولهم دور كبير في الوصول إلي الهند وقد ساعدهم علي ذلك عدة عوامل ، ومن أهم الكشوف الجغرافية البرتغالية كشف طريق رأس الرجاء الصالح الذي تم في عهد الملك جون الثاني الذي كان محبا للأسفار والكشف ، وقد حققت الكشوف الجغرافية في عهده نصرا عظيما لاكتشاف طريق جديد للتجارة الأوربية عندما سير رحلة كشفية بقيادة بارثلميو دياز الذي تمكن خلالها من الوصول إلي الساحل الجنوبي لقارة أفريقيا في عام ١٤٨٨ م)

١- عرفني ما تحته خط .
حركة كشفية قامت في أوروبا خلال القرنين الخامس عشر والسادس عشر الميلاديين تم عن طريقها التعرف علي أراض جديدة

٢- استخرجي فكرتين رئيسيتين من الفقرة ؟

*- أي حقيقة من الفقرة يكتبها الطالب بصياغة سليمة تعتبر صحيحة .

٣- ما النتائج التي ترتبت علي اكتشاف البرتغال طريق رأس الرجاء الصالح ؟

١- حقق أمل البرتغال في كشف طريق مباشر في الوصول إلي الهند .
٢- أصبحت البرتغال في مركز متقدم في منطقة المحيط الهندي التجارية

أكمل العبارات التالية بما يناسبها من كلمات :-

١- أول منطقة وصل إليها فاسكو دي جاما ١٤٩٨ م تسمى كلكتا

٢- ميناء في الهند وصل إليه فاسكو دي جاما بتاريخ ٢٠ / مايو / ١٤٩٨ م يسمى كلكتا

٣- المسطح المائي الذي أصبح للبرتغال فيه مركز تجاري متقدم بعد رحلة فاسكو دي جاما يسمى المحيط الهندي

٤- الملاح البرتغالي الذي وصل إلي الهند بمساعدة البحار العربي ابن ماجد اسمه فاسكو دي جاما

٥- المنطقة التي التقى فيها فاسكو دي جاما بالملاح العربي أحمد بن ماجد ماليندي

- اختر الإجابة الصحيحة من بين البدائل التالية التي تلي كل عبارة مما يلي وضع خط تحتها :-

١- الأرقام الدالة علي أسماء ملوك ساهموا في حركة الكشوف الجغرافية البرتغال يمثلها في الجدول المقابل الحرف :-

الملك	
جون الأول	١
فرانسيس الأول	٢
جون الثاني	٣
مانويل الاول	٤
هنري السابع	٥

أ- (٤ ، ٢ ، ١)

ب- (٤ ، ٣ ، ١)

ت- (٥ ، ٣ ، ٢)

ث- (٥ ، ٤ ، ٢)



دلل على صحة العبارة :- كان ملوك البرتغال يدعمون حركة الكشوف الجغرافية

*- الملك هنري الملاح وأنشأ مدرسة بحرية واهتم برسم الخرائط وأنشأ مرصدا بحريا واكتشف في عهده جزر ماديرا وأوزور

*- الملك جون الثاني دعم رحلة بارثلميو دياز فتمكن من الوصول إلي رأس الرجاء الصالح .

*- الملك مانويل الاول دعم رحلة فاسكو دي جاما فتمكن من الوصول إلي كلكتا في الهند .

صنف المناطق المكتشفة التالية كلا حسب الرحالة :-

ماديرا / كلكتا / رأس الرجاء الصالح

الرحالة	هنري	بارثلميو دياز	فاسكو دي جاما
المناطق	ماديرا	رأس الرجاء الصالح	كلكتا

ما أوجه الاختلاف بين كل من :-

- اتجاه رحلات الكشوف الجغرافية الأسبانية واتجاه الكشوف البرتغالية .
- * الكشوف الأسبانية الوصول إلي جزر الهند الشرقية بالإتجاه نحو الغرب .
- * الكشوف البرتغالية الوصول إلي آسيا (الهند) بالإتجاه نحو الشرق .

علل : توجه الرحلات الجغرافية الاسبانية لجهة الغرب

ع
ل
ل

- علل : اتجاه الاسبان في كشوفاتهم الجغرافية ناحية الغرب
- * - جهل الأسبان بوجود القارة امريكا الشمالية والجنوبية .
- * - اعتقادا منهم بأن اتجاه الغرب سيصل بهم إلي الهند مباشرة وهو طريق سريع ومختصر

لاحظ الصورة التي أمامك ثم أجب عما يليها :-



١ - الصورة لملكة تسمى إيزابيلا

- ٢- علل : رفض هذه الملكة تمويل مشروع كولمبس في بداية الأمر
- * - لانشغالها بالحرب مع المسلمين في الأندلس

- ٣- ما الدور الذي قامت فيه في رحلات الكشوف الجغرافية
- * - مولت الملكة ايزابيلا مشروع كولومبس الكشفي فقام بأربع رحلات حققت رحلاته مكاسب عظيمة لأسبانيا وأدت إلي اكتشاف أجزاء من أمريكا الوسطي وجزر الهند الغربية

((ملاح ايطالي من مدينة جنوة ، ولد عام ١٤٥١ ، وعمل لحساب الملكية الأسبانية واهتم بالشؤون البحرية منذ عام ١٤٨٠ م وقصد أسبانيا عام ١٤٨٤ في عهد "الملك فرديناند والملكة ايزابيلا))

@ اقرأ الفقرة السابقة ثم أجب عما يليها من أسئلة :-

١- اسم الملاح الذي ينطبق عليه هذا الوصف ؟ كريستوفر كولومبس

٢- ما المشروع الذي قدمه هذا الملاح للملك فريناند والملكة ايزابيلا ؟
الكشف عن طريق بحري بالإبحار غربا عبر المحيط الأطلسي للوصول إلي الهند .

- ٣- ما النتائج المترتبة علي رحلات هذا الملاح ؟
- * - اكتشاف جزر الأنتيل الكبرى والصغرى وأطلق عليها اسم سان سلفادور .
- * - وصل إلي أمريكا الوسطي .

قارن بين كل مما يلي حسب ما هو موضح بالجدول أدناه :-

وجه المقارنة	موقف ملك البرتغال من مشروع كريستوفر كولومبس	موقف ملكة اسبانيا من مشروع كريستوفر كولومبس
الموقف	الرفض	الرفض في البدايه
السبب	بناء علي توصية من مستشاريه الذين رأوا لا ضرورة للبحث عن طرق جديدة	لانشغالها بالحرب مع المسلمين في الأندلس

علل : رفض فرديناند والملكة ايزابيلا مشروع كولومبس في بداية الأمر
*- رفض فرديناند والملكة ايزابيلا مشروع كولومبس في بداية الأمر لانشغالهم بالحرب مع المسلمين في الأندلس

ماذا يحدث لو : لم تقم الملكة ايزابيلا بتمويل مشروع كولومبس الكشفي
*- لما قام بأربع رحلات وحققت رحلاته مكاسب عظيمة لأسبانيا .
*- لما اكتشف جزر الأنتيل الكبرى والصغرى
*- لما اكتشف أجزاء من أمريكا الوسطى وجزر الهند الغربية .

علل : أطلق كولومبس علي الجزر التي اكتشفها اسم جزر الهند الغربية
اعتقد أنه وصل إلي اسيا وان الجزر التي اكتشفها هي التي توجد بالقرب من الهند

علل: لم تسم أمريكا باسم كولومبس المكتشف الاول
لأن الأوربيون يجهلون في ذلك الحين وجود القارة الأمريكية

اكتب النتائج المترتبة علي : رحلات كريستوفر كولومبس

٣٢
٤٩٢
م

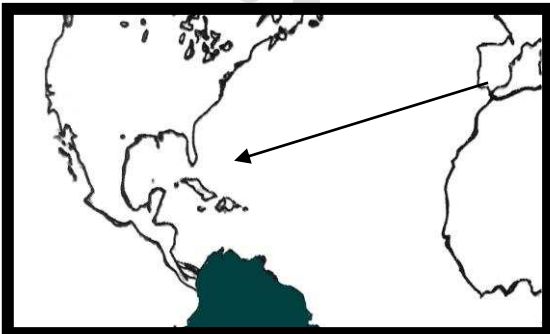
برهن علي صحة العبارة ((حقت رحلات كولومبس مكاسب عظيمة لأسبانيا))
*- اكتشف جزر الأنتيل الكبرى والصغرى وأطلق عليها اسم سان سلفادور ووصل إلي كوبا وهايتي .
*- اكتشف جزر الدومينكا وسانت كروز وبورتوريكو واكتشف الساحل الشمالي لجامايكا .
*- وصل إلي جزيرة ترينداد وساحل فنزويلا في أمريكا الجنوبية وشاهد اندفاع كميات من المياه تندفع من خليج مصب نهر اورنيوكو
*- وصل إلي أمريكا الوسطى .

لاحظ خريطة في ك.م ص ٣٢ ثم أجب عما يلي:-

- ١- ضع عنوان مناسب للخريطة **رحلة كريستوفر كولومبس الأولى عام ١٤٩٢م**
- ٢- الملاح الذي قام بالرحلة اسمه **كولومبس** جنسيته الأصلية **إيطالي**
- ٣- الدولة الراعية للرحلة **أسبانيا** الملكة التي مولت الرحلة **إيزابيلا**
- ٤- العام الذي خرجت فيه الرحلة **١٤٩٢م** الميناء الذي خرجت منه الرحلة **بالوس**
- ٥- عدد السفن التي خرجت مع الملاح في هذه الرحلة **ثلاث سفن**
- ٦- اسم السفينة التي كان علي متنها هذا الملاح **سانتا ماريا**
- ٨- المناطق التي اكتشفها الملاح في هذه الرحلة ؟ **اكتشف جزر الأنتيل الكبرى والصغرى وأطلق عليها اسم سان سلفادور ووصل إلي كوبا وهايتي**
- ٩- استنتجي حقيقتين من الخريطة التي أمامك ؟
*- **اكتشف كولومبس جزر الأنتيل الكبرى والصغرى وأطلق عليها اسم سان سلفادور .**
*- **تحطم السفينة سانتا ماريا التي كان علي متنها الملاح كريستوفر كولومبس في الصخور .**

لاحظ الخريطة الصماء جيداً ثم أجب عن الاسئلة التالية :-

- ١- علل : رفض فرديناند الملكة ايزابيلا لمشروع كريستوفر كولومبس في بداية الأمر
لانشغالهم بالحرب مع المسلمين في الأندلس
- ٢- ارسمي خط سير رحلة كريستوفر كولومبس الأولى عام ١٤٩٢م .
- ٣- ظلي القارة التي اكتشفها في الرحلة الثالثة .
- ٤- ما الدرس المستفاد من طرق كريستوفر كولومبس في تحقيق مشروعه
*- **الإصرار علي تحقيق هدفه / *- الإرادة والعزيمة**





@لاحظ الصور المقابلة ثم أجب عما يلي :-

١- اسم صاحب الصورة (أ) هنري الملاح

٢- اسم صاحب الصورة (ب) الملكة ايزابيلا

صاحب الصورة (ب)

صاحب الصورة (أ)

٣- ما أوجه الاختلاف بين دورهما في حركة الكشوف الجغرافية

الشخصية (ب)	الشخصية (أ)
*- مولت الملكة ايزابيلا مشروع كولومبس الكشفي بالإبحار غربا عبر المحيط الأطلسي فقام بأربع رحلات حققت رحلاته مكاسب عظيمة لاسبانيا وأدت إلي اكتشاف أجزاء من أمريكا الوسطى وجزر الهند الغربية	*- للامير هنري الملاح دور كبير في حركة الكشوف الجغرافية حيث كان مولعا بالملاحة ، فأنشأ مدرسة بحرية اهتمت بتطوير الأدوات التي استخدمت في عملية الكشوف الجغرافية ، كرسم الخرائط ، وأنشأ مرصدا بحريا بالطرف الجنوبي لساحل البرتغال تمكن البرتغاليون في عهده من اكتشاف ماديرا واوزور ورأس بوجادور حتي وصلت رحلاتهم لساحل السنغال

اختر الاجابه الصحيحة من بين البدائل التي تلي كل عبارة مما يلي :-

١- هدف اسبانيا الأساسي في الكشوف الجغرافية هو :

أ- الوصول إلى جزر الهند الشرقية بالاتجاه نحو الغرب

ج- الوصول إلى آسيا بالدوران حول أفريقيا

ب- اكتشاف العالم الجديد (الأمريكتين)

د- اكتشاف القارة القطبية الشمالية

٢- بدأت الكشوف الجغرافية الأسبانية في عهد

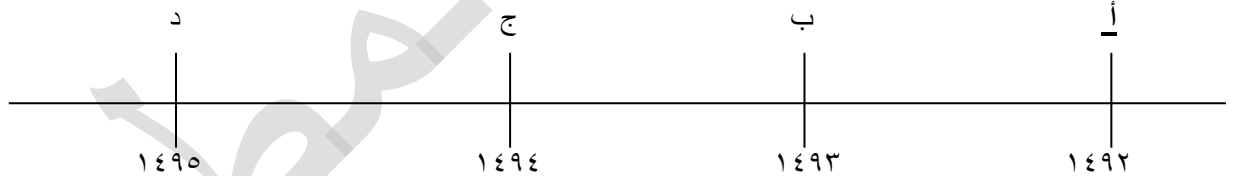
أ- الملك مانويل الأول

ب- الملك جون الثاني

ج- الملكة ايزابيلا

د- الملك جون الأول

٣- العام الذي مولت فيه الملكة ايزابيلا مشروع كولومبس يمثله علي الخط الزمني الحرف



أكمل العبارات التالية بما يناسبها من كلمات :

- ١- الطريق الذي اتخذه الأسبان في كشوفهم الجغرافية الإبحار غربا عبر المحيط الأطلسي
- ٢- ملكة اسبانيا التي رفضت مشروع كولومبس بالإبحار غربا للوصول إلى الهند اسمها ايزابيلا
- ٣- ملكة رفضت مشروع كولومبس لانشغالها بحرب المسلمين اسمها ايزابيلا
- ٤- ملكة اسبانيا وافقت على تمويل رحلة كولومبس الأولى عام ١٤٩٢ م ايزابيلا
- ٥- الملكة الأسبانية التي قامت بتمويل مشروع كولومبس تسمى ايزابيلا
- ٦- عدد الرحلات التي قام بها الملاح كولومبس تبلغ أربع رحلات
- ٧- خرجت رحلات كولومبس من ميناء اسباني يسمى بالوس
- ٨- الرحالة الذي اكتشف جزر الانتيل الكبرى والصغرى اسمه كولومبس
- ٩- أول من وصل إلى جزر "سان سلفادور" الملاح الجنوبي كولومبس
- ١٠- اطلق كولومبس عام ١٤٩٢ م على جزر الانتيل الصغرى الكذرى اسم سان سلفادور

اقرأ الفقرة التالية ثم أجب عن الأسئلة التي تليها :-
((مكتشف ايطالي من فلورنسا ولد عام ١٤٥١م ، وأصبح مدرسا لعلم الفلك والجغرافيا والملاحة ، قام بثلاث رحلات من أوروبا وواتجه غربا عبر المحيط الأطلسي لحساب البرتغال ، وكان لرحلاته اكتشافات هامة))

- ١- اسم المكتشف الذي ينطبق عليه هذا الوصف ؟ امريكو فسويتشي
- ٢- الدولة الراعية لرحلاته ؟ البرتغال ٣- عدد رحلاته ؟ ثلاث رحلات
- ٤- ما النتائج المترتبة علي رحلات هذا المكتشف ؟
- *- اكتشاف ساحل المكسيك
- *- جزر الساحل الشرقي للولايات المتحدة الأمريكية
- *- البرازيل

اكتب عن دور :- أمريكو فسويتشي في حركة الكشوف البرتغالية
مكتشف ايطالي أسند له ملك البرتغال برحلات بحرية ، وقام بثلاث رحلات بالإبحار غربا باتجاه الغرب عبر المحيط الأطلسي ، وكانت نتيجة رحلاته اكتشاف ساحل المكسيك وجزر الساحل الشرقي للولايات المتحدة الأمريكية والبرازيل وأكد فيما بعد أنني وصلت إلي عالم جديد أطلق عليه عام ١٥٠٧م أمريكا

علل: تسمية العالم الجديد أمريكا بهذا الاسم
نسبة إلي المكتشف أمريكو فسويتشي الذي وصل إلي أمريكا ١٥٠٧م

- ما النتائج التي ترتبت علي :- رحلات أمريكو فسويتشي
- *- اكتشاف ساحل المكسيك
 - *- جزر الساحل الشرقي للولايات المتحدة الأمريكية
 - *- البرازيل

- أكمل العبارات التالية بما يناسبها من كلمات :-
- ١- أطلق علي العالم الجديد الذي وصل إليه أمريكو فسويتشي اسم أمريكا
 - ٢- الملاح الذي اكتشف البرازيل يسمى امريكو فسويتشي
 - ٣- تم اكتشاف أمريكا في عام ١٥٠٧
 - ٤- من المناطق التي اكتشفها أمريكو المكسيك و البرازيل

اختر الإجابة الصحيحة من بين البدائل التي تلي كل عبارة مما يلي :-

- ١- المنطقة التي لم يصل إليها الملاح أمريكو فسويتشي يمثلها الحرف.....
أ- ساحل المكسيك
ب- جزر الساحل الشرقي للولايات المتحدة الأمريكية
ج- جزيرة جرينلاند
د- البرازيل

٢- العام الميلادي الذي اكتشف فيه أمريكو فسويتشي العالم الجديد يمثلته الحرف.....
١٥٠٨ ١٥٠٧ ١٥٠٦ ١٥٠٥
↑ ↑ ↑ ↑
د ج ب أ

٣- الملاح ((أمريكو فسويتشي)) كان أول من وصل إلي :
أ- رأس الرجاء الصالح ب- الهند ج- البرازيل د- البحر الكاريبي

٤- الحرف الذي يمثل تاريخ رحلة أمريكو فسويتشي هو

أ ب ج د
| | | |

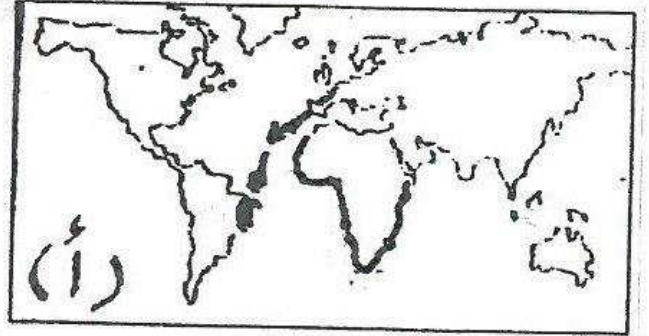
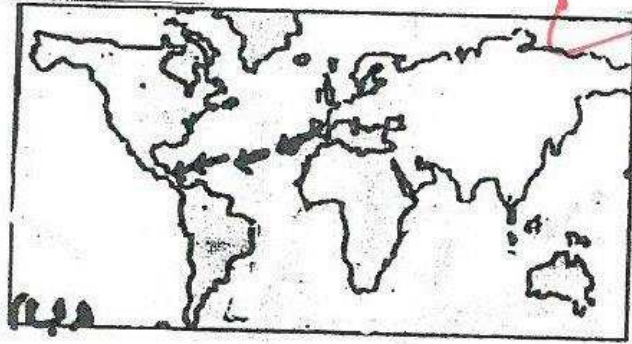
١٤٩٩م ١٥٠٤ ١٥٠٧م ١٥١٩م

اقرأ العبارات التالية جيدا ثم أوجد العنصر المختلف مع ذكر السبب :-

العبارات	العنصر المختلف	السبب
١- رحلة هنري الملاح ٢- رحلة بارثلميو دياز ٣- رحلة فاسكو دي جاما ٤- رحلة كريستوفر كولومبس	رحلة كريستوفر كولومبس	أحد الرحاله في رحلات الكشوف الأسبانية
١- ظهور روح البحث العلمي ٢- تقدم علم الفلك ٣- التوسع والسيطرة علي بقاع جديدة ٤- بناء كارافيل	التوسع والسيطرة علي بقاع جديدة	عامل من عوامل نمو الروح القومية في أسباب الكشوف الجغرافية
١- ساحل المكسيك ٢- الساحل الشرقي للولايات المتحدة الأمريكية ٣- ساحل امريكا الجنوبية والبرازيل ٤- الهند	الهند	منطقة لم يصل لها أمريكو فسبوتشي في رحلته

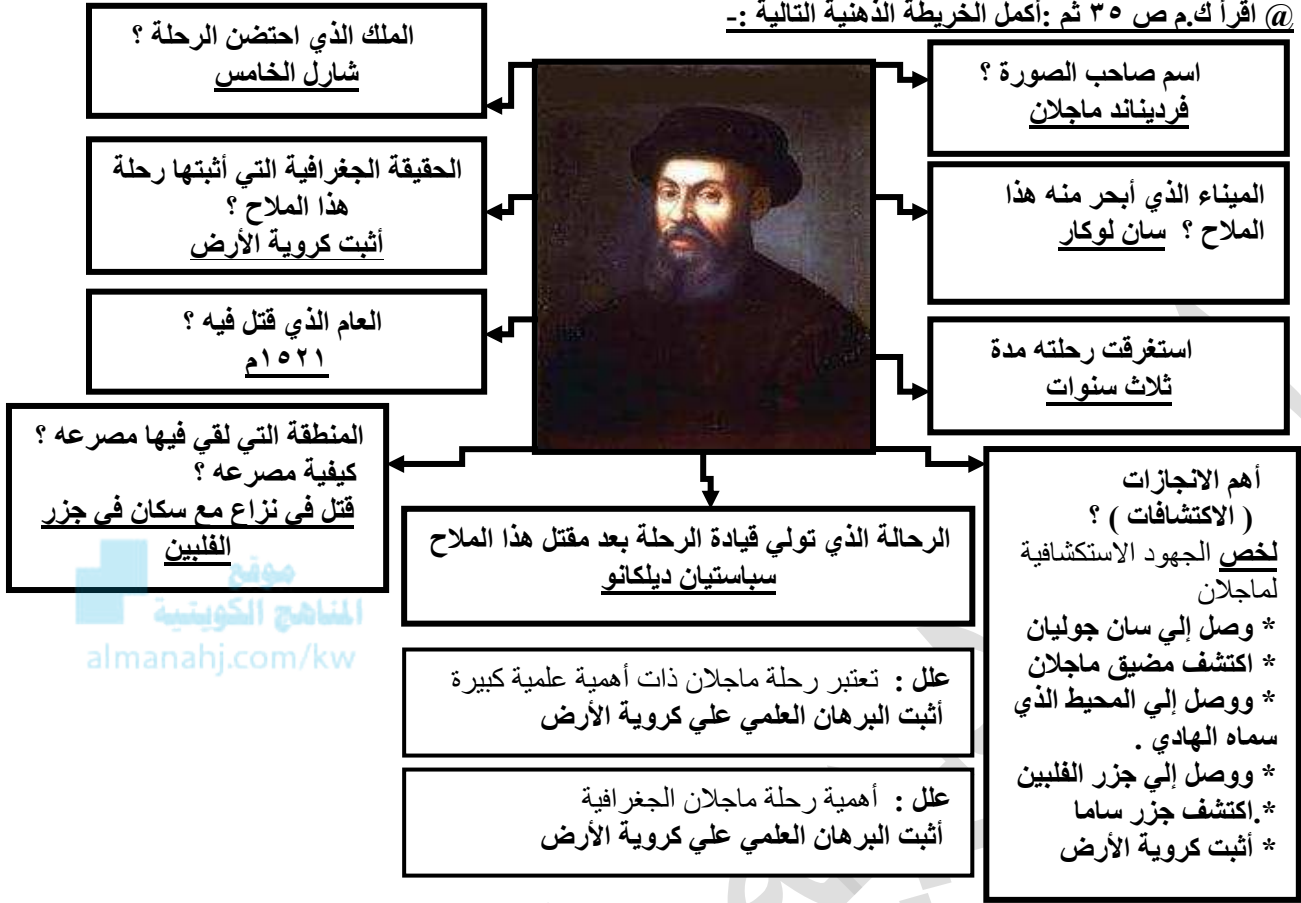
موقع
المنهج الكويتية
almanahj.com/kw

- أمامك خريطين (أ- ب) ادرسيها جيدا . ثم سجل ما هو مطلوب بالجدول :-



المطلوب	الخريطة (أ)	الخريطة (ب)
اسم الرحالة	أمريكو فسبوتشي	كولومبس
الدولة الراعية للرحلة	البرتغال	أسبانيا
استكشافه	*- اكتشاف ساحل المكسيك *- جزر الساحل الشرقي للولايات المتحدة الأمريكية *- البرازيل	وصل إلي أمريكا الوسطي

@ اقرأ ك.م ص ٣٥ ثم : أكمل الخريطة الذهنية التالية :-



ماذا يحدث لو : لم يقتل ماجلان في جزر الفلبين

- * - لاكمل الرحلة و عاد إلي أسبانيا .
- * - لوصل في عودة إلي أسبانيا إلي جزر بورنيو وجزر الملوك وجزر التوابل .
- * - لاحتفل بانجاز العلمي لرحلته في اثبات كروية الأرض .

اكتب عن دور كل من :

١ - ماجلان في حركة الكشوف الأسبانية .
كلف الملك شارل الخامس الملاح ماجلان في البحث عن الطريق المؤدي إلي الهند في اتجاه الغرب ، حيث خرج ماجلان من اشبيلية من ميناء سان لوكار عام ١٥١٩م وترتب علي رحلته العديد من النتائج ووصل إلي سان جوليان ، اكتشف مضيق ماجلان ، ووصل إلي المحيط الذي سماه الهادي ، ووصل إلي جزر الفلبين اكتشف جزر ساما ، أثبتت رحلته كروية الأرض .

٢ - سباستيان ديكانو في رحلة ماجلان .
تولي قيادة الرحلة بعد مقتل ماجلان وغادروا الفلبين و في طريق عودته إلي اسبانيا مر بعدة جزر بورنيو وجزر الملوك وجزر التوابل و عاد بالحملة إلي أسبانيا .

ما النتائج (الآثار) المترتبة علي كل من :

١ - رحلة ماجلان بالنسبة للأسبان .

- * - وصل إلي سان جوليان
- * - اكتشف مضيق ماجلان
- * - وصل إلي المحيط الذي سماه الهادي
- * - وصل إلي جزر الفلبين
- * - اكتشف جزر ساما
- * - أثبتت رحلته كروية الأرض .

٢ - رحلة سباستيان ديكانو .

مر بعدة جزر بورنيو وجزر الملوك وجزر التوابل و عاد بالحملة إلي أسبانيا بعد مقتل ماجلان في جزر الفلبين

وجه المقارنة	رحلة الملاح فاسكو دي جاما البرتغال	رحلة الملاح ماجلان أسبانيا
النتائج للرحلة	<p>١- حقق أمل البرتغال في كشف طريق مباشر في الوصول إلى الهند خارج ديار المسلمين .</p> <p>٢- كانت أكبر ضربة اقتصادية وجهت للعالم الإسلامي .</p> <p>٣- أصبحت البرتغال في مركز متقدم في منطقة المحيط الهندي التجارية .</p>	<p>*- وصل إلى سان جوليان</p> <p>*- اكتشف مضيق ماجلان</p> <p>*- وصل إلى المحيط الذي سماه الهادي</p> <p>*- وصل إلى جزر الفلبين</p> <p>*- اكتشف جزر ساما</p> <p>*- أثبتت رحلته كروية الأرض</p>

أكمل العبارات التالية بما يناسبها من كلمات :-

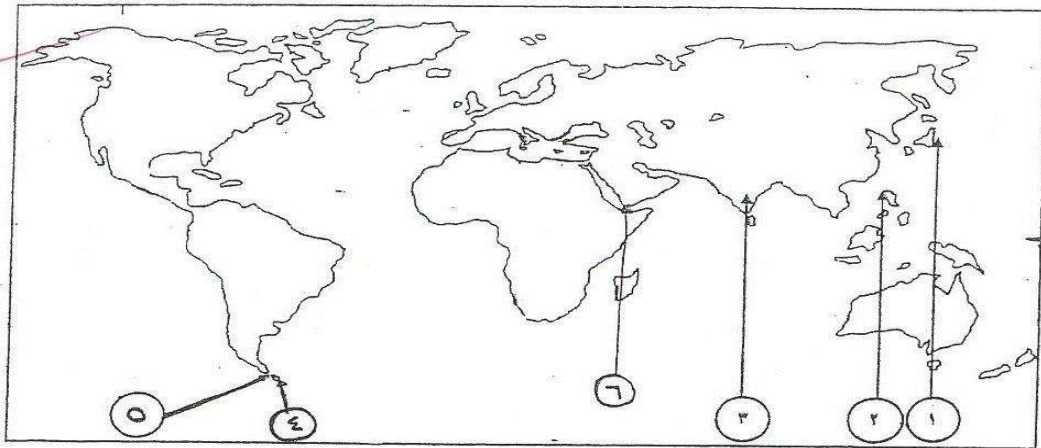
- ١- الامبراطور الأسباني الذي كلف ماجلان بالقيام برحلته الكشفية يسمى شارل الخامس
- ٢- الرحالة الذي أطلق اسم المحيط الهادي علي المسطح المائي غرب الأمريكتين وشرق آسيا اسمه ماجلان
- ٣- الممر المائي الذي اكتشفه ماجلان عند الشاطئ الشرقي لقارة أمريكا الجنوبية يسمى مضيق ماجلان
- ٤- أطلق علي ممر مائي ضيق عند الطرف الجنوبي لأمريكا الجنوبية اسم مضيق ماجلان
- ٥- أهم الممرات المائية بين المحيط الأطلسي والمحيط الهادي يسمى مضيق ماجلان
- ٦- يفصل بين قارة أمريكا الجنوبية عن جزيرة أرض النار مضيق يسمى مضيق ماجلان
- ٧- الجزر التي قتل فيها ماجلان عام ١٥١٦م تسمى جزر الفلبين
- ٨- الملاح الذي قتل علي أيدي السكان الأصليين في الفلبين يسمى ماجلان
- ٩- الحقيقة الجغرافية التي أثبتتها رحلة ماجلان الكشفية تسمى كروية الأرض
- ١٠- الملاح الذي أثبت رحلته كروية الأرض يسمى ماجلان
- ١١- أكمل الرحلة بعد مقتل ماجلان ملاح يسمى سيباستيان ديلكانو
- ١٢- مر سباستيان في طريق عودته إلى اسبانيا بعدة جزر بورنيو وجزر الملوك وجزر التوابل
- ١٣- مساعد ماجلان عاد بالرحلة إلى البر الأسباني عبر رأس الرجاء الصالح يسمى سيباستيان ديلكانو
- ٢- رافق ماجلان في رحلته الشهيرة حول العالم وأكملت الرحلة بعد وفاته سيباستيان ديلكانو

اختر الإجابة الصحيحة من بين البدائل التي تلي كل عبارة مما يلي :-

- ١- البحار الذي تولي الرحلة خلفا لماجلان بعد مقتله في الفلبين يسمى
أ- سباستيان ديلكانو ب- أمريكو فسوبيتشي ج- كولومبس د- فاسكو دي جاما
- ٢- الجزر التي تمكن سباستيان ديلكانو من الوصول إليها تسمى.....
أ- الأنتيل الكبرى والصغرى ب- الدومنيكا وسانت كروز ج- الملوك والتوابل د- نيوزيلندا وهاواي

اكتب المدلول التاريخي المناسب لكل عبارة مما يلي :

- ١- (..سباستيان ديلكانو...) ملاح تولي الرحلة بعد مقتل ماجلان في الفلبين وعاد بالرحلة إلى أسبانيا .



@ لاحظ الخريطة التي أمامك ثم أجب عما يليها :

- ١- المنطقة التي لقي فيها ماجلان مصرعه تحمل الرقم (٢)
- ٢- جزيرة أرض النار تحمل الرقم (٤)
- ٣- مضيق ماجلان يحمل علي الخريطة الرقم (٥)

ضع الحرف (أ) للحقائق التاريخية الصحيحة وضعي الحرف (ب) للحقائق التاريخية الخاطئة في العبارات التالية :-

م	العبارات	الاجابة
١	يعتبر فاسكو دي جاما أول من استخدم رأس الرجاء الصالح	أ
٢	لم توافق الملكة ايزابيلا علي تمويل مشروع كولومبس إطلاقا	ب
٣	أطلق علي الفلبين هذا الاسم تكريما لفليب الخامس ابن شارل الثاني	ب
٤	وجود البابوية في ايطاليا من العوامل التي ساعدت علي قيام النهضة الأوروبية	أ

اكتب رقم كل شخصية مما يلي في المكان المناسب بالجدول التالي :-

٤- فرديناند ماجلان

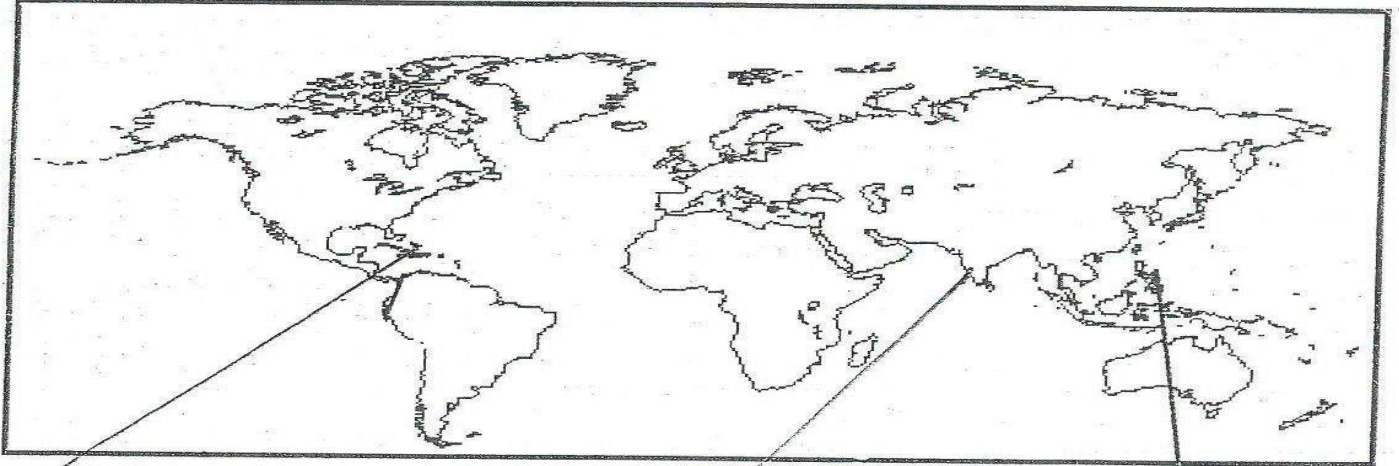
٣- مارتن لوثر

٢- نيقولا ميكافيللي

١- كريستوفر كولومبس

م	النهضة الأوروبية	م	الكشوف الجغرافية
٣	الاصلاح الديني	١	كشف جزر البحر الكاريبي
٢	قواعد الحكم والسياسة	٤	قام برحلة للدوران حول الأرض

أمامك مجموعة من الرحلات الجغرافية مقرونة بصور مكتشفها أجبني عما يليها :



اسم المكتشف	اسم المكتشف
كولومبس	كولومبس
المنطقة التي وصل إليها	امريكا الوسطي

اسم المكتشف	اسم المكتشف
فاسكو دي جاما	فاسكو دي جاما
المنطقة التي وصل إليها	كلكتا

اسم المكتشف	اسم المكتشف
ماجلان	ماجلان
المنطقة التي قتل فيها	الفلبين

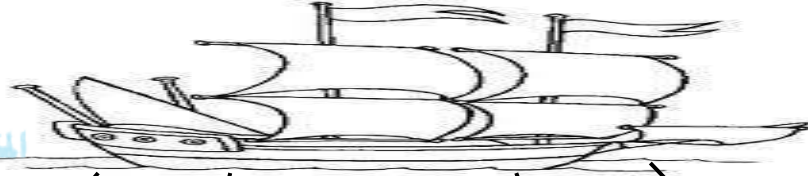
- دلل على صحة العبارة التالية :-

- (يعتبر دور انجلترا في ميدان الكشوف الجغرافية صغيرا مقارنة بالدور العظيم الذي قامت به البرتغال واسبانيا)
- ١- لأنها تأخرت في دخول ميدان الكشوف الجغرافية
 - ٢- وتركزت جهودها بالبحث عن طريق جديد إلى الصين وجزر الهند الشرقية
 - ٣- وأغلب الكشوف الجغرافية الإنجليزية في قارة أمريكا الشمالية القريبة من أوروبا على عكس البرتغال واسبانيا التي دارت رحلتها حول الكرة الأرضية

- أكمل العبارات التالية بما يناسبها من كلمات :-

- ١- اتجه الإنجليز لتحقيق الوصول إلى الصين وجزر الهند الشرقية جهة الشمال الغربي
- ٢- انجلترا سبرت رحلتها الجغرافية عبر المحيط الأطلسي بالإتجاه الشمال الغربي
- ٣- هدف الإنجليز من الكشوف الجغرافية الوصول إلى الصين و جزر الهند الشرقية

موقع
المنهج الكويتية
almanahj.com/kw



جيمس كوك
الرحلة الخامسة
(١٧٦٨م-١٧٧٩م)

هنري هديسون
الرحلة الرابعة
(١٦١٠م)

جون ديفيز
الرحلة الثالثة
(١٥٨٥م-١٥٨٧م)

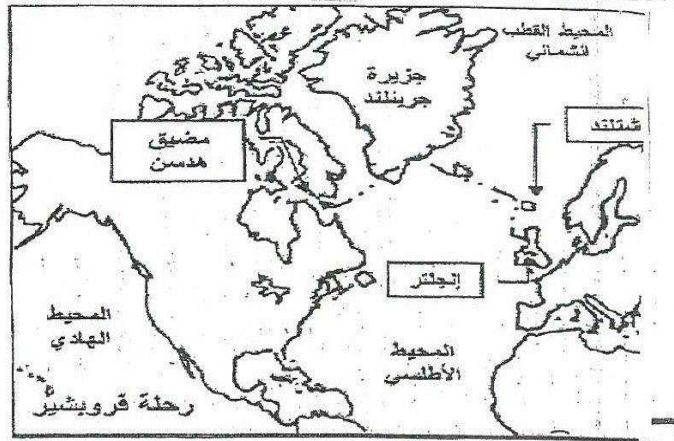
مارتن فروبيشير
الرحلة الثانية
(١٥٧٦م-١٥٧٨م)

جون كابوت
الرحلة الأولى
(١٤٩٦م-١٤٩٨م)



- لاحظ الخريطة التي أمامك ثم أجب عما يلي :-

- أ- اذكر مكنشف المناطق الموضحة علي الخريطة جون كابوت
- ب- إلي أي الرحلات ينتمي مكنشف هذه المناطق الإنجليزية
- ج- الميناء الذي انطلقت منه رحلته بريستول



- لاحظ الخريطة التي أمامك ثم أجب عما يلي :-

- أ- اذكر مكنشف المناطق الموضحة علي الخريطة مارتن فروبيشير
- ب- إلي أي الرحلات ينتمي مكنشف هذه المناطق الإنجليزية

اقرأ الفقرة التالية ثم أجب عما يليها من الأسئلة :-

((ملاح ايطالي من البندقية نزع إلى إنجلترا في عهد الملك هنري السابع وقد سمح له في عام ١٤٩٦م بالقيام علي رأس بعثة لاكتشاف أقاليم جديدة واكتشف ثلاث مناطق في أمريكا الشمالية))

١- اسم الشخصية التي ينطبق عليها هذا الوصف جون كابوت

٢- الميناء الانجليزي الذي ابخر منه بريستول

٣- الملك الذي احتضن الرحلة هنري السابع

٤- ما النتائج المترتبة علي رحلته ؟

*- ووصل فلوريدا

*- وشبه جزيرة لالبرادور

*- اكتشف جزيرة نيوفوندلاند

وازن بين كلا من :

قارن بين نتائج رحلة جون كابوت ونتائج رحلة مارتن فروبيشر :-

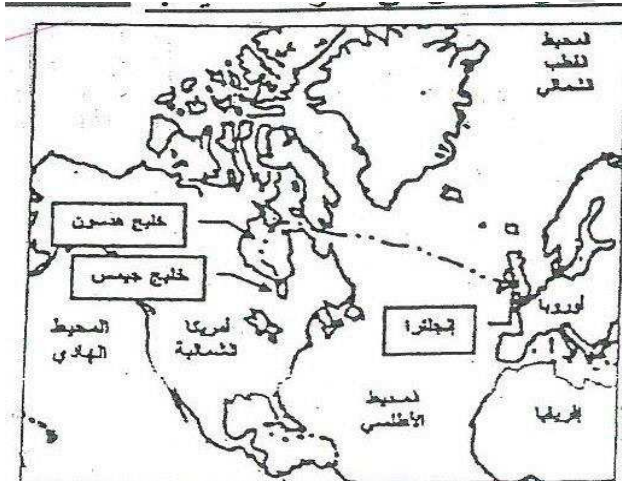
نتائج رحلة جون كابوت اكتشف جزيرة نيوفوندلاند وشبه جزيرة لالبرادور ووصل فلوريدا	نتائج رحلة مارتن فروبيشر وصل إلي جزيرة شتلند وصل إلي جزيرة جرينلاند اكتشف مضيق هدسون
---	---

فرق بين كل من :-

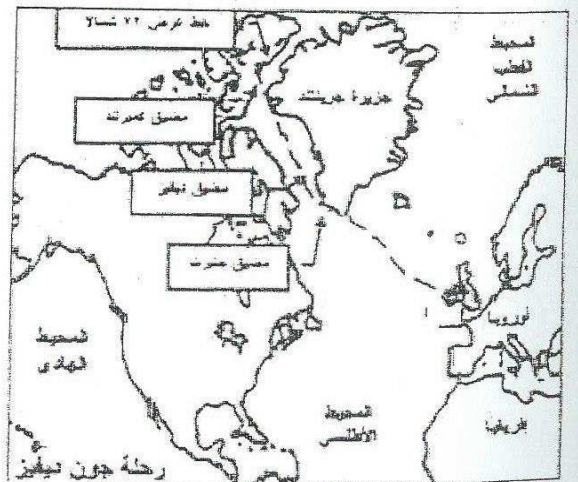
رحلة مارتن فروبيشر وصل إلي جزيرة شتلند وصل إلي جزيرة جرينلاند اكتشف مضيق هدسون	رحلة جون ديفيز * اكتشف مجموعة من المضائق مضيق جلبرت ومضيق ديفيز ومضيق كمبرلند * ووصل إلي خط عرض ٧٢ شمالا
---	---

علل : تسمية النهر الكبير في أمريكا الشمالية بنهر هدسون

تكريما للرحلة هنري هدسون



الرحلة الكشافية (٢) هنري هدسون



الرحلة الكشافية (١) جون ديفيز

لاحظ خرائط الكشوف الجغرافية التالية واستخرج منها :

١- الدولة التي سيرت الرحلتين رقم ١ ورقم ٢ إنجلترا

٢- أقصى نقطة وصل إليها الملاح جون ديفيز شمالا خط عرض ٧٢ شمالا

٣- النتائج التي ترتبت علي الرحلة الكشافية رقم (٢)

نهر هدسون

خليج جيمس

خليج هدسون

اختر الاجابة الصحيحة من بين البدائل التي تلي كل عبارة مما يلي :

الترتيب الصحيح لتتابع المناطق التي وصل إليها الملاح الانجليزي جون كابوت في رحلاته الاستكشافية يمثلها في الجدول التالي الحرف :

د	ج	ب	أ
شبه جزيرة لالبرادور فلوريدا جزيرة نيوفوندلاند ميناء بريستول	ميناء بريستول جزيرة نيوفوندلاند شبه جزيرة لالبرادور فلوريدا	جزيرة نيوفوندلاند ميناء بريستول فلوريدا شبه جزيرة لالبرادور	ميناء بريستول فلوريدا شبه جزيرة لالبرادور جزيرة نيوفوندلاند

٢- الرحالة الذي اكتشف جزيرة نيوفوندلاند يسمي :

- أ- ماجلان ب- كولومبس ج- بارثولوميو دياز د- جون كابوت

١- الرحالة الذي وصل إلى خط عرض ٧٢ شمالا اسمه

- أ- بارثولوميو دياز ب- جون ديفيز ج- كولومبس د- ماجلان

٢- الرحالة الانجليزي الذي وصل إلى جزيرة جرينلاند واكتشف مضيق هدسون اسمه :

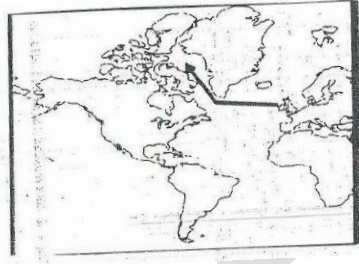
- أ- مارتن فروبشير ب- هنري هدسون ج- جون ديفيز د- جيمس كوك

٣- الرحالة الأوربي الذي توصل إلى اكتشاف مضيق هدسون اسمه :

- أ- جون كابوت ب- مارتن فروبشير ج- جون ديفيز د- هنري هدسون

٥- الرحلة الكشافية التي أمامك في الخريطة المقابلة قامت برعايتها دولة أوربية تحمل الحرف :

- أ- البرتغال
ب- اسبانيا
ج- فرنسا
د- انجلترا



أكمل العبارات التالية بما يناسبها من كلمات :

- ٣- أولي رحلات الكشوف الانجليزية كانت بقيادة الملاح جون كابوت
٤- قائد الرحلة الانجليزية الأولى وأول من وضع قدم انجلترا في أمريكا الشمالية يسمي جون كابوت
٥- ملك انجلترا التي انطلقت رحلة جون كابوت في عهده يسمي هنري السابع
٦- الميناء الانجليزي الذي انطلقت منه رحلة جون كابوت يسمي بريستول
٧- اكتشف جزيرة نيوفوندلاند في أمريكا الشمالية جون كابوت

أكمل العبارات التالية بما يناسبها من كلمات :

- ١- اكتشف مضيق في أمريكا الشمالية وهو مضيق هدسون مارتن فروبشير
٢- اكتشف مضيق غرب جزيرة جرينلاند وسمي باسمه جون ديفيز
٣- الرحالة الذي اكتشف مجموعة من المضائق ووصل إلى دائرة عرض ٧٢ شمالا يسمي جون ديفيز
٤- الملاح الذي اكتشف خليج هدسون وخليج جيمس يسمي هنري هدسون
٥- المدينة العملاقة التي تقع عند مصب نهر هدسون تسمى نيويورك
٦- اكتشف هدسون ثلاث طرق مائية لشمال أمريكا خليج هدسون و خليج جيمس و نهر هدسون
٧- الخليج الذي ظن هدسون أنه المحيط الهادي يعرف الآن باسم خليج هدسون

*-/ صنف الأسماء التالية كلاً حسب الأعمال التي قام بها في الجدول التالي :
(جون كابوت – جون ديفيز – مارتن فروبيشير)

جون كابوت	مارتن فروبيشير	جون ديفيز
نيوفونلاند	هدسن	جلبرت

*-/ أمامك مجموعة من المناطق المكتشفة صنفها وفقاً للجدول التالي :
خليج جيمس – جزيرة شتلند – نهر هدسون – مضيق جلبرت – جزيرة جرينلد – الوصول إلى خط عرض ٧٢ شمالاً

اسم المكتشف	فروبيشير	ديفيز	هدسون
الاكتشافات	جزيرة شتلند جزيرة جرينلد	مضيق جلبرت الوصول إلى خط عرض ٧٢ شمالاً	خليج جيمس نهر هدسون

*-/ صنف الأسماء التالية حسب الأعمال التي قامت بها في الجدول التالي :

(حنا جوتنبرج – فروبيشير – ماجلان – دانتي)

اكتشف جزيرة ساما	الكوميديا الإلهية	اخترع حروف الطباعة المعدنية	اكتشاف مضيق هدسن
ماجلان	دانتي	حنا جوتنبرج	فروبيشير

*-/ اعيد تصنيف الشخصيات التالية حسب عمل كل شخصية في الجدول التالي :

جون سباستيان دلكانو – فروبيشير – جون الثاني – هنري السابع

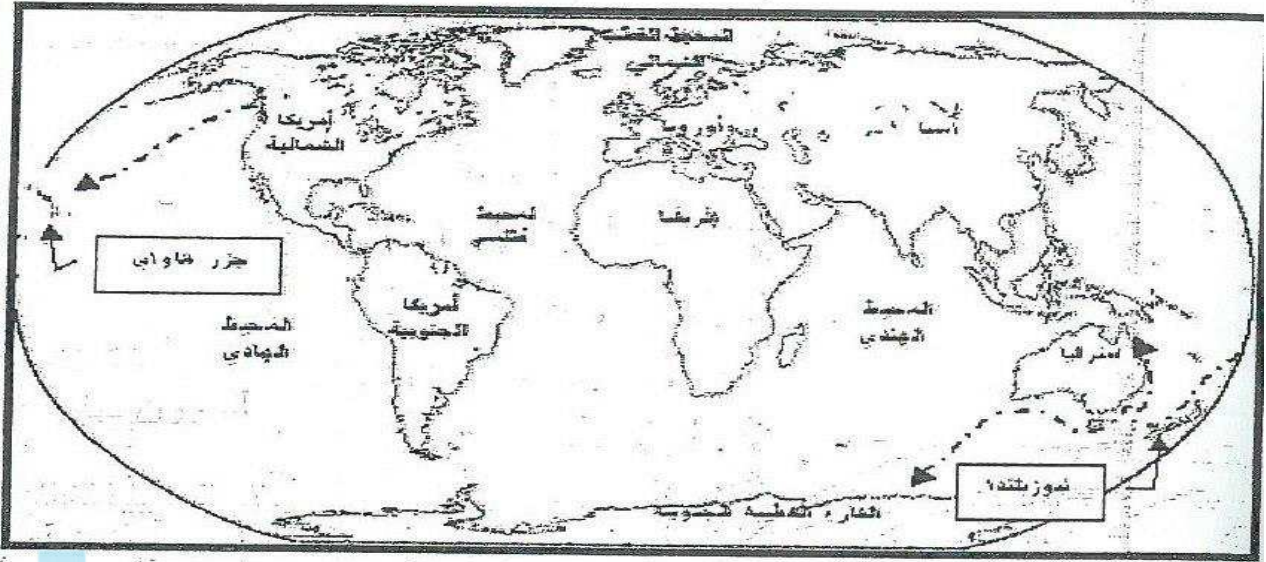
الشخصية	العمل
جون الثاني	١- أطلق علي رأس العواصف اسم رأس الرجاء الصالح
فروبيشير	٢- تمكن من اكتشاف مضيق هدسون
هنري السابع	٣- سمح للملاح الايطالي جون كابوت القيام علي رأس بعثة لاكتشاف أقاليم واسعة
جون سباستيان دلكانو	٤- تولي قيادة رحلة ماجلان بعد مقتله عاندا بها إلى أسبانيا

*-/ اقرأ الأسماء التالية بدقة ثم ضع الحرف المناسب لكل منها في الجدول التالي :
أ-أدباء ب- مكتشفون ج- فنانون

م	الأسماء	الحرف
١	جون كابوت – فروبيشير – ديفيز	ب
٢	دوناتلو – رفانيل – مايكل انجلو	ج
٣	بتراك – بوكاشيو – أرازموس	أ

رحلات الكشوف الإنجليزية
الرحلة الخامسة : جيمس كوك

اعداد رئيسة القسم : عذبية المطيري



موقع
المنهج الكويتية
almanahj.com/kw

- أمامك خريطة لإحدى الرحلات الجغرافية لاحظها جيدا ثم أجب عما يليها من أسئلة :-
١- اسم الرحلة الذي قام بالرحلة الموضحة بالخريطة ؟ جيمس كوك
٢- اذكر اسم الدولة التي رعت الرحلة الكشفية السابقة ؟ إنجلترا
٣- قارني بين الرحلات الأولى والثانية والثالثة لهذا الرحالة :-

وجه المقارنة	الرحلة الأولى	الرحلة الثانية	الرحلة الثالثة
النتائج	*- الوصول إلى نيوزيلندا *- الساحل الشرقي لقارة استراليا	*- أبحر مخترقا مياة القطب الجنوبي *- منعه الثلج من رؤية القارة القطبية الجنوبية	*- وصل إلى جزر هاواي *- وصل إلى المحيط المتجمد الشمالي

فسر : عدم رؤية الملاح جيمس كوك لقارة انتاركتيكا (القارة القطبية الجنوبية)
كان الثلج عقبة في طريقة ومنعة من رؤية القارة القطبية الجنوبية

- ما النتائج العلمية علي رحلات جيمس كوك ؟**
١- التعرف علي الكرة الأرضية وأقاليمها الجغرافية الواسعة وفي التحقق من كثير من الافكار والمعلومات الجغرافية المتصلة بها
٢- اكتشاف جزر المحيط الهادي والبحار الجنوبية وقارة استراليا ونيوزيلندا
٣- رسم خرائط لسواحل نيوزيلندا واستراليا الشرقية
٤- وأبحاره في المحيط الهادي أثار الشكوك حول وجود قارة جنوبية كبيرة
٥- أعظم اكتشافاته جزر هاواي

قارني بين نتائج رحلة كريستوفر كولومبس ١٤٩٢م ونتائج رحلة جيمس كوك ١٧٨٦م

نتائج رحلة جيمس كوك ١٧٦٨م *- الوصول إلى نيوزيلندا *- الساحل الشرقي لقارة استراليا	نتائج رحلة كريستوفر كولومبس ١٤٩٢ *- اكتشاف جزر الأنتيل الكبرى والصغرى وأطلق عليها سان سلفادور *- وصل إلى كوبا وهايتي
---	--

قارني بين الملاحون التاليين في مجال الكشوف الجغرافية حسب المطلوب في الجدول التالي :

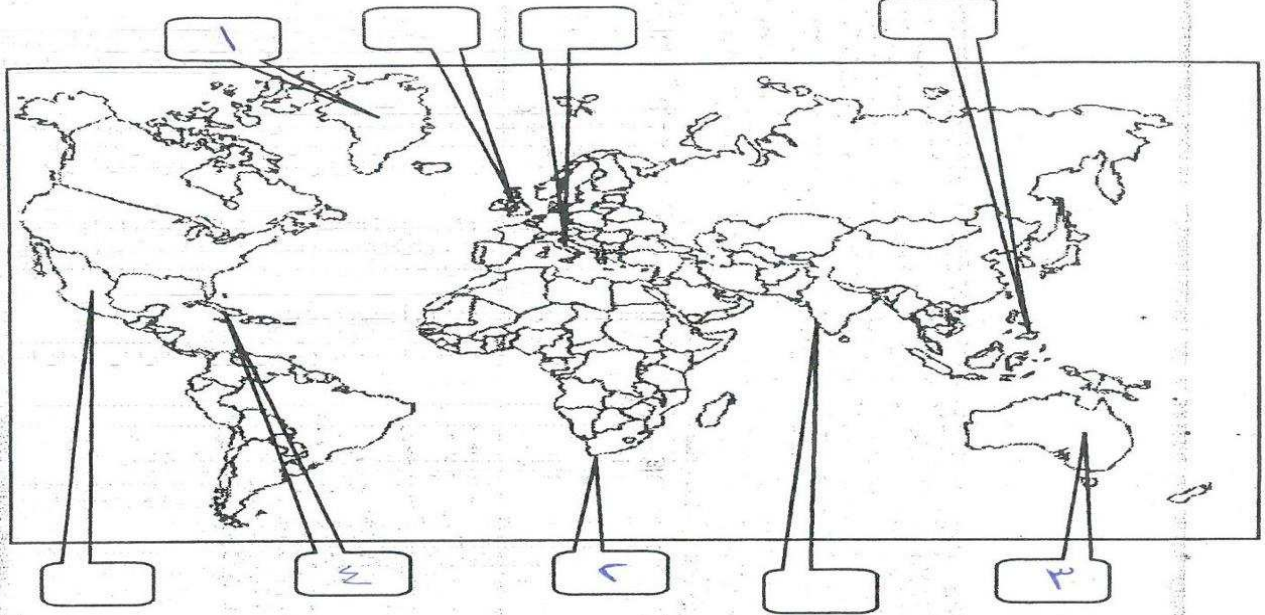
وجه المقارنة	كريستوفر كولومبس	جيمس كوك
الدولة التي رعت الكشوف	أسبانيا	إنجلترا
المرحلة الثالثة	*- وصل إلى جزيرة ترينداد . *- اتجه إلى ساحل فينزويلا في أمريكا الشمالية . *- شاهد اندفاع كميات من المياه تندفع من خليج مصب نهر أورنيوكو.	*- وصل إلى جزر هاواي *- وصل إلى المحيط المتجمد الشمالي

اختر الاجابة الصحيحة من بين البدائل التي تلي كل عبارة مما يلي وضع تحتها خط :-

- ١- الرحالة الذي وصل إلى جزر هاواي يمثلته الحرف
أ- جون ديفيز ب- هنري هيدسون ج- جيمس كوك د- جون كابوت
- ٢- القارة التي اكتشفها جيمس كوك يمثلها الحرف.....
أ- امريكا ب- انتاركتيكا ج- استراليا د- افريقيا
- ٣- المنطقة التي وصل إليها الملاح جيمس كوك :
أ- رأس الرجاء الصالح ب- البرازيل ج- جرينلاند د- نيوزيلندا

أكمل العبارات التالية بما يناسبها من كلمات :

- ١- ملاح تطوع في خدمة الامبرالية الانجليزية وتم اختياره بواسطة الجمعية الملكية عام ١٧٦٨م يسمى جيمس كوك
٢- مكتشف قارة استراليا ملاح انجليزي يسمى جيمس كوك



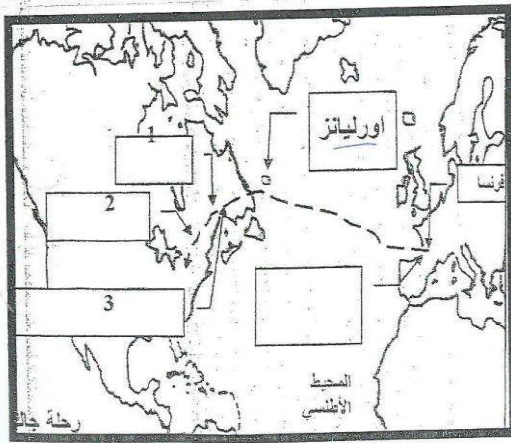
@ ضع رقم كل عبارة مما يلي في المربع المناسب لها على الخريطة العالم الصماء :

- ١- جزيرة اكتشفها الملاح مارتن فروبشير
٢- منطقة أطلق عليها رأس العواصف
٣- منطقة اكتشفها الملاح جيمس كوك
٤- منطقة يعتبر كولمبس أول من وصل لها

رحلات الكشوف الفرنسية
جاك كارتيه

اعداد رئيسة القسم : عذبية المطيري

@ شاهد خريطة الكشوف الفرنسية للرحالة جاك كارتيه التي أمامك ثم أجب عن الأسئلة التالية :-



١- اكتب علي الخريطة اسم الجزيرة التي اكتشفها ؟

٢- مدينة مونتريال يمثلها علي الخريطة الرقم ٢

٣- لماذا أسس مدينة كويك ؟

*- لإنشاء امبراطورية فرنسية في أمريكا الشمالية والعمل على زيادة نفوذها .

٤- علل : بناء الكرافيل مع حركة الكشوف الجغرافية

*- سفينة عملاقة تميزت بكبر حمولتها واستعمالها لعدد أكبر من الأشرعة

وإزدياد القدرة على المغامرة وسط المحيطات

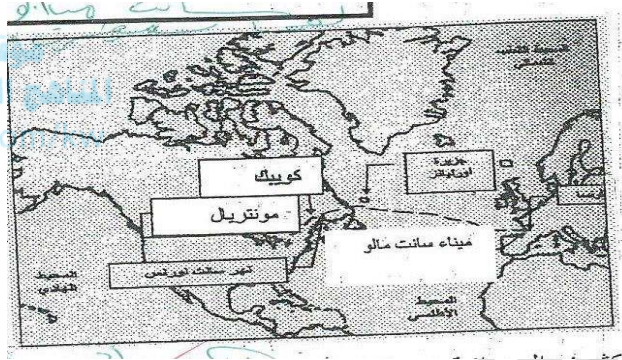
لاحظ الخريطة التي أمامك ثم أجب عما يلي :

١- اسم المكتشف الذي قام بالرحلة .

*- جاك كارتيه

٢- إلي أي الرحلات ينتمي مكتشف هذه المناطق .

*- الإنجليزية



اكتب فقرة مترابطة من أربعة أسطر مستعينة بالكلمات الإرشادية التالية :

(جاك كارتيهه – الملك فرانسيس الأول – سانت مالو – نهر سانت لورانس)

قام جاك كارتيه بأربع رحلات في عهد الملك الفرنسي فرانسيس الأول ، خرج جاك كارتيه نحو العالم الجديد أبحر من ميناء سانت مالو عبر المحيط الاطلسي نحو أمريكا الشمالية، اكتشف كندا يعتبر من طليعة الفرنسيين الذين اكتشفوا هذا الإقليم ، اكتشف نهر سانت لورانس وجزيرة أورليانز ، ووصل إلي ماوراء نهر سانت لورانس وهي منطقة تسمى حاليا مونتريال ، أسس مدينة كويك علي نهر سانت لورانس .

اكتب ثلاثة اسطر فيما يلي : نتاج رحلات المكتشف جاك كارتيهه

١- اكتشف كندا يعتبر من طليعة الفرنسيين الذين اكتشفوا هذا الإقليم .

٢- اكتشف نهر سانت لورانس وجزيرة أورليانز

٣- ووصل إلي ماوراء نهر سانت لورانس وهي منطقة تسمى حاليا مونتريال .

٤- أسس مدينة كويك علي نهر سانت لورانس

ماذا يحدث لو: لم يكتشف جاك كارتيهه مدينتي كويك ومونتريال

لما كان هناك مبادرة لإنشاء امبراطورية فرنسية في أمريكا الشمالية .

لما زاد نفوذ الامبراطورية الفرنسية في أمريكا الشمالية .

أكمل العبارات التالية بما يناسبها من كلمات :

١- قام جاك كارتيهه بأربع رحلات في عهد الملك الفرنسي فرانسيس الأول

٢- خرج جاك كارتيهه نحو العالم الجديد في عام ١٥٣٤م

٣- أبحر جاك كارتيهه من ميناء يسمى سانت مالو

٤- اكتشف جاك كارتيهه نهر في أمريكا الشمالية تسمى سانت لورانس

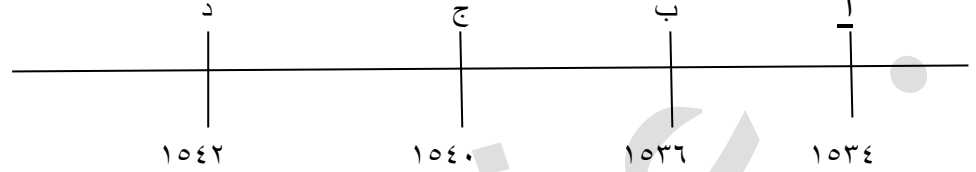
٥- الملاح الذي يعتبر من طليعة الفرنسيين الذين اكتشفوا كندا يسمى جاك كارتيهه

اختر الاجابة الصحيحة من بين البدائل التي تلي كل عبارة مما يلي :-

١- الترتيب الصحيح لأسبقية حركة الكشوف الجغرافية من قبل الدول الأوروبية في الجدول الحرف :

(د)	(ج)	(ب)	(أ)
البرتغال	إنجلترا	فرنسا	أسبانيا
أسبانيا	فرنسا	البرتغال	البرتغال
إنجلترا	البرتغال	إنجلترا	فرنسا
فرنسا	أسبانيا	أسبانيا	إنجلترا

٢- العام الذي خرج فيه جاك كارتية نحو العالم الجديد يمثله علي الخط الزمني الحرف.....



٣- النتيجة التي ترتبت علي رحلة جاك كارتية عام ١٥٣٤م تحمل الحرف :

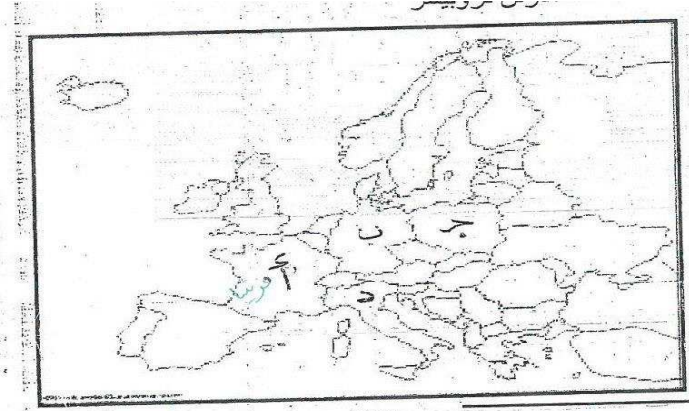
أ- اكتشاف جزيرة هايتي ب- اكتشاف جواناهاني ج- اكتشاف جزيرة أورليانز د- جزيرة جرينلاند

٤- الملاح الأوروبي الذي نجح في الوصول إلي نهر سانت لورنس عام ١٥٣٥ هو :

أ- أمريكو فيزوتشي ب- ماكينزي ج- جاك كارتية د- مارتن فروبشر

٥- الدولة الأوروبية التي أسست مدينتي ((كوبيك)) و((مونتريال)) في كندا يرمز إليها علي الخريطة المقابلة بالحرف

أ ب ج



*-/أمامك مجموعة من المناطق التي اكتشفها الأوروبيون ، صنفها حسب الجدول :

(جزر الأنتيل- جزيرة نيوفوندلند - جزر ماديرا - كندا - مضيق هدسن)

الامير هنري الملاح	كريستوفر كولومبس	جاك كارتية	جون كابوت
جزر ماديرا	جزر الأنتيل	كندا	جزيرة نيوفوندلند

*-/ انسب العبارات التالية حسب ما يناسبها في الجدول المرفق بوضع الرقم المناسب :

- ١- تحالف المدن الصغيرة مما منحها القوة والاستقلال .
- ٢- لوحة فنية رسمها ليوناردو دافنشي .
- ٣- مدينة أسسها الملاح جاك كارتية في كندا .
- ٤- سفن عملاقة تميزت بكبر حمولتها واستعمالها لعدد كبير من الاشرعة .
- ٥- الساحل الجنوبي لقارة افريقيا .

الكرافيل	الجيوكندا	كومونات	كوبيك	رأس العواصف
٤	٢	١	٣	٥

رحلات القطب الشمالي اعداد رئيسة القسم : عذبية المطيري



العام الذي بدأت فيه الاكتشافات في المنطقة القطبية الشمالية يمثلته علي الخط الزمني الحرف أ

قارن بين كلا من : الملاح صمويل هيرن ، ماكينزي من حيث المناطق المكتشفة

وجه المقارنة	صمويل هيرن	ماكينزي
المناطق المكتشفة	*- اكتشفت الأرض الواقعة بين خليج هدسون ونهر كوبر ماين *- قام بأول رحلة استكشافية له في كندا منطلقا من بحيرة أتاباسكا	*- اكتشفت نهر ماكينزي ونهر بيس وبحيرة سليف الكبرى

موقع المناهج الكويتية
almanahi.com/kw

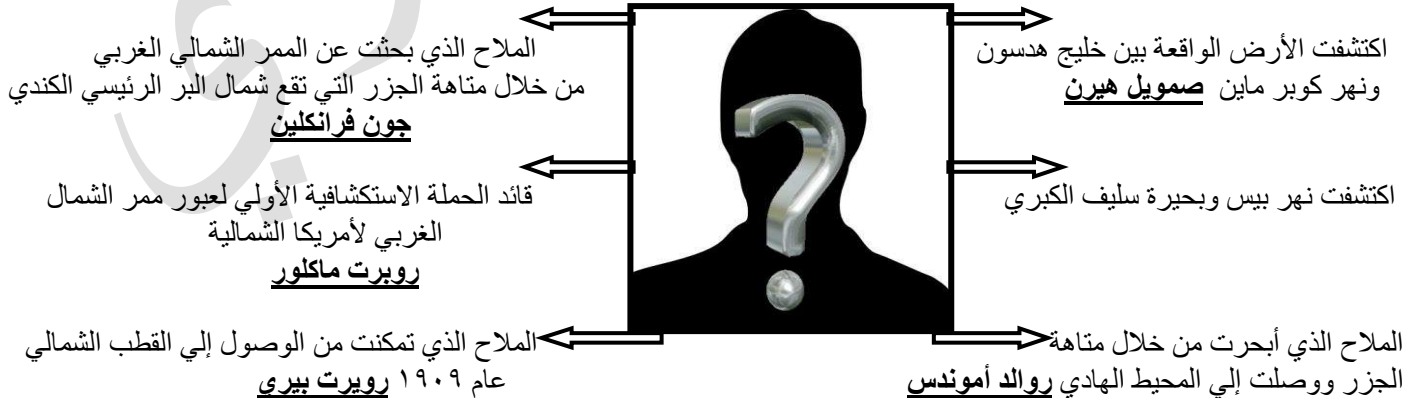
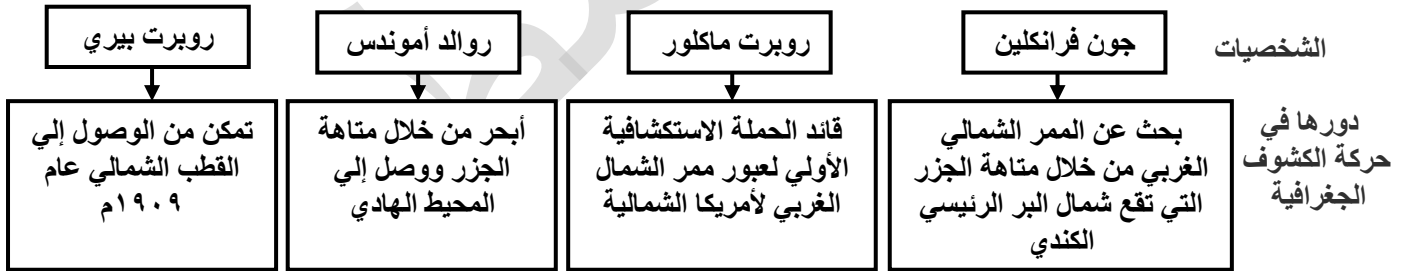
ما دور الشخصية التالية : صمويل هيرن في حركة الكشوف الجغرافية
صمويل هيرن مكتشف له دور في رحلات القطب الشمالي فقد اكتشفت الأرض الواقعة بين خليج هدسون ونهر كوبر ماين ، قام بأول رحلة استكشافية له في كندا منطلقا من بحيرة أتاباسكا هدفها إيجاد طريق نحو المحيط الهادي

أكمل العبارات التالية بما يناسبها من كلمات :-

- ١- الملاح الانجليزي عبرت رحلته الممر الشمالي الغربي لأمريكا الشمالية **روبرت ماكلور**
- ٢- أول رحلة عبرت الممر الشمالي الغربي لأمريكا الشمالية رحلته الملاح **روبرت ماكلور**
- ٣- الملاح بييري تمكن من الوصول إلي القطب الشمالي في عام **١٩٠٩م**

- أكمل الأشكال الهندسية التالية بما يتلاءم بينها :

دور الشخصيات التالية في حركة الكشوف الجغرافية

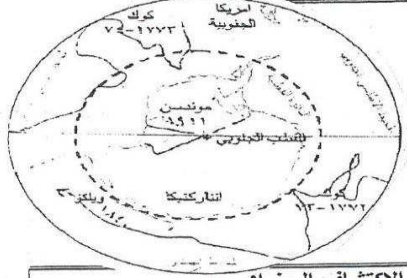




اسم صاحب الصورة ؟
الكسندر ماكينزي

أهم إنجازاته (اكتشافاته) ؟
*- اكتشفت نهر ماكينزي و
نهر بيس وبحيرة سليف
الكبرى

أمامك صورتان لاثنتين من الاكتشافات الجغرافية لاحظيهما جيدا ثم نفذ ما هو مطلوب منك :



اسم الاكتشاف الجغرافي	اسم الاكتشاف الجغرافي
القطب الجنوبي	القطب الشمالي
اسم المكتشف	اسم المكتشف
روالد أموندس	روبرت بيري

فند العبارة التالية : لم يكن للكشوف الجغرافية أثر كبير
العبارة خاطئة : كان لها أثر كبير في التعرف علي الكرة الأرضية وأقاليمها الجغرافية الواسعة ، وفي التحقق
من كثير من الافكار والمعلومات الجغرافية المتصلة بها ، وكان منعظا مهما في تاريخ الدراسات الجغرافية
وأسلوب التفكير العلمي .

أكمل العبارات التالية بما يناسبها من كلمات :-

- القارة التي تمكن الملاح تشارلز ويلكز من الوصول إليها وإثبات أنها كتلة ثلجية ضخمة تسمى انتاركتيكا
- الملاح الذي أبحر مخرقا مياه القطب الجنوبي المتجمد ومنعة الثلج من رؤية القارة القطبية المنجمدة اسمة جيمس كوك
- الملاح الذي قطعت رحلته مسافة طويلة علي طول ساحل قارة انتاركتيكا وأثبت أنها كتلة ضخمة مغطاة بالثلج اسمة تشارلز ويلكز
- ملاح اكتشف قارة أنتاركتيكا تشارلز ويلكز
- الملاح الذي تمكن من الوصول إلي القطب الجنوبي عام ١٩١١م اسمه روالد أموندس
- ملاح له دور كبير في رحلات القطب الشمالي والجنوبي وتمكن من الوصول إلي القطب الجنوبي اسمه روالد أموندس
- أقليم واسع من روسيا يغطي شمال آسيا من أوروبا إلي اليابان يسمى سيبيريا
- الصحراء التي تمتد من البحر الأحمر إلي المحيط الأطلسي تسمى الصحراء الكبرى
- ينبع نهر النيل من بحيرة فكتوريا ويصب في مسطح مائي يسمى البحر المتوسط
- أطول أنهار العالم نهر يسمى نهر النيل
- قارة مجهولة حتي أوائل القرن ١٩ غير الأهله بالسكان وواقعة حول القطب الجنوبي تسمى انتاركتيكا

ماذا تتوقعين أن يحدث لو : فشلت حركة الكشوف الجغرافية الأوروبية

- * لما اكتشفوا الأمريكتين وقارة استراليا .
- * لما تطورت أدوات الملاحة من سفن وغيرها
- * لما تم التعرف علي الكرة الأرضية وأقاليمها الجغرافية الواسعة .

قارن بين كلا من : الملاح تشارلز ويلكز ، روالد أموندس من حيث سنة الرحلة / المناطق المكتشفة

وجه المقارنة	تشارلز ويلكز	روالد اموندس
سنة الرحلة	١٨٤٠م	١٩١١م
المناطق المكتشفة	*- قطعت رحلته مسافة طويلة علي طول ساحل قارة انتاركتيكا وأثبت أنها كتلة ضخمة مغطاة بالثلج	*- الوصول إلي القطب الجنوبي

تعتبر الكشوف الجغرافية وسيلة للبحث عن مصادر للرزق والثروة وليست كما زعم البعض تعبيراً عن روح المغامرة والمبادرة الفردية ، فبدأت هذه الكشوف في أواخر القرن الخامس عشر الميلادي بعد أن توفر للمكتشفين كتابات الجغرافيين العرب التي كانت قد ترجمت إلى اللاتينية مما جعل أوروبا هي الرائدة في ميدان الكشوف الجغرافية وخاصة البرتغال وأسبانيا وانجلترا وفرنسا ، فنشأ الصراع فيما بينهم فتقاسمت هذه الدول السيطرة علي مختلف القارات والنواحي المكتشفة @اقرأ النص التاريخي الذي أمامك ثم استخرج منه ما هو مطلوب :

- ١- الفكرة الرئيسية للنص
- ٢- دافع من دوافع الكشوف الجغرافية للبحث عن مصادر للرزق والثروة
- ٣- الفترة الزمنية التي شهدت بداية حركة الكشوف الجغرافية أواخر القرن الخامس عشر الميلادي
- ٤- أول الشعوب الأوروبية اهتماماً بحركة الكشوف الجغرافية البرتغال
- ٥- نتيجة من نتائج الكشوف الجغرافية فنشأ الصراع فيما بينهم
- ٦- نظام ظهر نتيجة للصراع بين الدول الأوروبية التي دخلت ميدان الكشوف الجغرافية فتقاسمت هذه الدول السيطرة علي مختلف القارات والنواحي المكتشفة

اكتب النتائج التي تترتب على الحدث التاريخي التالي : الكشوف الجغرافية من الناحية السياسية

- *- أدت الكشوف الجغرافية إلى تكوين دول وإمبراطوريات كبرى مثال :
- *- أسبانيا : احتلت أمريكا الوسطى وأجزاء مهمة من أمريكا الجنوبية وجزر الفلبين .
- *- البرتغال : احتلت البرازيل ومراكز تجارية علي السواحل الأفريقية وسواحل الهند والخليج العربي

دلل على صحة العبارة التالية : " أدت الكشوف الجغرافية إلى تكوين دول وإمبراطوريات كبرى "

- *- أسبانيا : احتلت أمريكا الوسطى وأجزاء مهمة من أمريكا الجنوبية وجزر الفلبين .
- *- البرتغال : احتلت البرازيل ومراكز تجارية علي السواحل الأفريقية وسواحل الهند والخليج العربي

دلل على صدق العبارة التالية :

- " إن العلاقات التي تمت بين أوروبا والقارات الأخرى كانت ذات نتائج عظيمة في الاقتصاد العالمي "
- ١- تحول طرق التجارة العالمية بين أوروبا وآسيا فقد ضعفت مكانة البحر المتوسط تجارياً .
 - ٢- تدفقت الثروات من البضائع والمعادن الثمينة (الذهب والفضة) علي أوروبا .
 - ٣- نتيجة لتوفير البضائع والمال وازدياد النشاط التجاري الاقتصادي قامت صناعات جديدة .
 - ٤- ظهور البورصات علي نطاق عالمي وازدياد نشاط دور المصارف

أكمل العبارات التالية بما يناسبها من كلمات :

- ١- المسطح المائي الذي زادت أهميته بعد حركة الكشوف الجغرافية يسمى **المحيط الأطلسي**
- ٢- المسطح المائي الذي ضعفت مكانته التجارية بعد حركة الكشوف الجغرافية **البحر المتوسط**
- ٣- المعادن الثمينة التي تدفقت علي أوروبا بعد حركة الكشوف الجغرافية **الذهب والفضة**
- ٤- الطبقة الاجتماعية التي تضررت من تدفق الثروات والمعادن تسمى **العامة والفلاحون**
- ٥- الطبقة الاجتماعية التي نمت بسبب الثروات والمعادن تسمى **البرجوازية**
- ٦- الدول الأوروبية التي عملت علي نشر دينها بعد الكشف الجغرافي علي المذهب المسيحي الكاثوليكي هما **البرتغال و أسبانيا**
- ٧- نشر البرتغال والأسبان مذهب مسيحي في قارة أمريكا الجنوبية يسمى **الكاثوليكي**
- ١- عالم فلكي بولندي قدم نظرية توضح أن الشمس محور الكون يسمى **نيكولاس**
- ٢- العالم الفلكي الذي وضع أن الشمس هي محور الكون وليس الأرض يسمى **نيكولاس**
- ٣- جلب العبيد من أفريقيا وبيعهم في أسواق أوروبا يسمى **تجارة الرق**

اكتب النتائج المترتبة علي :-

- تدفق الثروات من البضائع والمعادن الثمينة علي أوروبا بعد حركة الكشوف الجغرافية
- ١- ارتفاع كبير في أسعار المواد الغذائية .
 - ٢- تضررت فئة العامة والفلاحون بفعل عدم التوازن بين العرض والطلب .
 - ٣- اغتنتي كبار التجار وازدادت أهمية البنوك ونمت طبقة البرجوازية التجارية

برهن على صحة العبارة : (كانت الكشوف الجغرافية احدي بوابات الحركة الاستعمارية)

- *- الحاجة إلي الحصول علي مستعمرات لتصريف مصنوعات الدولة .
- *- الحصول علي المعادن والمواد الأولية اللازمة للصناعة .

" أن حركة الكشوف الجغرافية أدت إلي ظهور حركة التقدم العلمي في بداية العصر الحديث في أوربا

برهن على صحة العبارة التالية :

" حركة الكشوف الجغرافية أدت إلي تقدم العلوم التالية (علم الجغرافيا / علم التاريخ / علم الفلك)
علم الجغرافيا الذي أدى إلي تصحيح بعض المعلومات الجغرافية ، وحدث انقلاب جذري في المبادئ الأساسية التي يقوم عليها علم الجغرافيا والقضاء علي الأفكار التي كانت سائدة في الأرض وحجمها وشكلها وقاراتها ومحيطاتها
علم التاريخ فقد اتسع مجال البحوث التاريخية فلم يعد قاصرا علي العالم القديم المعروف بل امتد وشمل البلاد التي اكتشفت وحتى ذلك التاريخ كانت الحضارة الإغريقية في أعين الأوربيين مركز البشرية ،
علم الفلك ظهرت لعلماء الفلك مجموعة من النجوم لم يتمكن من رصدها إلا في النصف الجنوبي من الكرة الأرضية، وكان الاعتقاد السائد منذ القدم أن الأرض محور الكون وهي النظرية الذي قدمها العالم اليوناني (بطليموس) في القرن الثاني الميلادي وبني عليها أن الشمس والقمر والكواكب الأخرى تدور حول الأرض ، لكن بحلول القرن الثالث عشر الميلادي أتى عالم البولندي (نيكولاس كوبر نيكولاس) بنظرية مخالفة توضح أن الشمس هي محور الكون وأن الكواكب الأخرى بما فيها الأرض تسير في مدارات حول الشمس

قارن بين النتائج المترتبة علي رحلات الكشوف الجغرافية في المجالات التالية (الاقتصادية / الدينية)

النتائج الاجتماعية	النتائج الدينية	النتائج الاقتصادية
*- اعتمدت سياسة إبادة السكان الأصليين في العالم الجديد . * - جلب العبيد من أفريقيا وظهور تجارة الرق . * - ظهور الطبقة الرأسمالية .	*- الدول المكتشفة حاولت نشر دينها في البلاد التي اكتشفتها * - إذ عمل الأسبان والبرتغاليون بعد الكشف الجغرافي علي التبشير بالمسيحية علي المذهب الكاثوليكي بين سكان المناطق المكتشفة	١ - تحول طرق التجارة العالمية بين أوربا وآسيا فقد ضعفت مكانة البحر المتوسط تجاريا . ٢ - تدفقت الثروات من البضائع والمعادن الثمينة (الذهب والفضة) علي أوربا . ٣ - نتيجة لتوفير البضائع والمال وازدياد النشاط التجاري الاقتصادي قامت صناعات جديدة . ٤ - ظهور البورصات علي نطاق عالمي وازدياد نشاط دور المصارف

فرق بين كلا من :

آراء (نظرية) كوبرنيكوس في مجال الفلك	آراء (نظرية) بطليموس في مجال الفلك
أن الشمس هي محور الكون وأن الكواكب الأخرى بما فيها الأرض تسير في مدارات حول الشمس	الأرض محور الكون أن الشمس والقمر والكواكب الأخرى تدور حول الأرض

نتائج (أثر) الكشوف الجغرافية علي العالم الإسلامي من الناحيتين الاقتصادية والسياسية

أثار الكشوف الجغرافية علي العالم الإسلامي سياسيا	أثار الكشوف الجغرافية علي العالم الإسلامي اقتصاديا
ضعف مكانة العالم الإسلامي أصبح العالم الإسلامي تحت الإستعمار الأوربي	*- سيطرت الدول الأوربية علي مقدرات العالم الإسلامي وإبادة الشعوب ونهبت خيراتها ودمرت حضاراتها * - فقدت الطرق التجارية الإسلامية أهميتها التجارية * - حرمان المسلمين من المكوس الجمركية بعد قيام الأوربيين بتخطي الوساطة التجارية الإسلامية

فند العبارة التالية : حمل الأوربيون رسالة ثقافية الي البلاد المستكشفة

العبارة خاطئة : الدول المكتشفة حاولت نشر دينها في البلاد التي اكتشفتها إذ عمل الأسبان والبرتغاليون بعد الكشف الجغرافي علي التبشير بالمسيحية علي المذهب الكاثوليكي بين سكان المناطق المكتشفة

اكتب النتائج المترتبة علي :- الكشوف الجغرافية علي العالم الإسلامي

- *- سيطرت الدول الأوربية علي مقدرات العالم الإسلامي وإبادة الشعوب ونهبت خيراتها ودمرت حضاراتها
- * - فقدت الطرق التجارية الإسلامية أهميتها التجارية
- * - حرمان المسلمين من المكوس الجمركية بعد قيام الأوربيين بتخطي الوساطة التجارية الإسلامية
- * - ضعف مكانة العالم الإسلامي
- * - أصبح العالم الإسلامي تحت الاستعمار الأوربي