



وزارة التربية
الإدارة العامة لمنطقة الأحمدية التعليمية
مدرسة هدية الابتدائية بنين



www.KweduFiles.Com
الوحدة الثانية

للمصف الرابع



• أ. شيمه صقر المطيري

رئيسة القسم

• التمهيد الكلية إلى الملايين

www.KweduFiles.Com



بند (٧-١)



أَكْمَلْ

١٥٠١١٢٧

١٥٠١١٢٦

١٥٠١١٢٥

www.KweduFiles.Com



أَكْمَلْ

٤٢٩٩٤٥٢

٤٢٩٩٣٥٢

WWW.KweduFiles.Com

٤٢٩٩٥٥٢



اكتب رمز العدد

ستة و ثلاثون مليوناً و خمسمئة



ألف و سبعمئة و عشرون

www.KweduFiles.Com

اكتب رمز العدد

٨ ♦ ♦ ♦ ♦ ♦ + ١ ♦ ♦ ♦ ♦ ♦ ♦ ♦ ♦ ♦



WWW.KweduFiles.Com

٦ ♦ ♦ ♦ + ٢ ♦ ♦ ♦ ♦ +

A large, empty, rounded rectangular box with a light green background, intended for writing the symbols of the numbers.

اكتب رمز العدد



٩ ملايين + ٩ آلاف + ٩

www.KweduFiles.Com

A large, empty, light green rounded rectangular box intended for writing the numerical symbol for the number described in the text above.

اكتب الاسم اللفظي للعدد



١٦ ٣١١ ٢٠٥

WWW.KweduFiles.Com

A large, empty, rounded rectangular box with a light green background, intended for writing the names of the numbers.

اكتب الاسم المطول للعدد



٣٠٠٤١٢٥٦٦

WWW.KweduFiles.Com

A large, empty, rounded rectangular box with a light green background, intended for writing the long name of the number.

اكتب الاسم الموجد للعدد



١ ٣ ٨ ٦ ٠ ٠

WWW.KweduFiles.Com

A large, empty, rounded rectangular box with a light green background, intended for writing the names of the numbers shown above.

في أي عدد يكون للرقم ٢ قيمة



مكانية أكبر :

WWW.KweduFiles.Com

١٦ ٣٤٥ ٢١٩ أم ٢٠٧١ ٠٠٠

فسر إجابتك .

كتب جاسم رمز العدد ستة

ملايين و أربعمئة ألف و واحد و

WWW.KweduFiles.Com

ستون بهذا الشكل ٦٤٠ . ٠٦١

ما الخطأ الذي وقع فيه ؟ صحه .

حوظ الأعداد الزوجية فيما يلي

٣١٩ . ١٧٢٠٠

www.kwedufiles.com
٨٦٤٠٠ ١٠٥

٦٢٠٤ ١١٣

١٠٠ ٩٩٤



مفاتيح حل اللغز العددي



العدد أصغر من ١٠٠٠

كل رقم في العدد رقم فردي

كل الأرقام مختلفة

ما أكبر عدد يمكن تكوينه باستعمال

المفاتيح الثلاثة أعلاه ؟

• التمهيد الكمية إلى العمليات الحسابية

www.kwedufiles.com



بند (٧-٢)



اكتب رمز العدد

سبعة وأربعون ملياراً وثلاثة و

خمسون مليوناً وستمئة وتسعون

ألف و سبعمئة وعشرون

www.KweduFiles.Com


اكتب رمز العدد

٢١٢ ملياراً و ٢٠٥ مليوناً و



WWW.KweduFiles.Com

٧٢٠ ألفاً و ٤٢٦




اكتب رمز العدد

٩ ♦ ♦ ♦ ♦ + ٨ ♦ ♦ ♦ ♦ ♦ ♦ ♦ ♦ ♦

WWW.KweduFiles.Com


٢ ♦ ♦ ♦ + ٥ ♦ ♦ ♦ +



اكتب الاسم اللفظي للعدد

٣ . . . ٧ . . . ٥

WWW.KweduFiles.Com



اكتب الاسم المطول للعدد

٤٠٠٦٠٠٠٣٠٠

WWW.KweduFiles.Com

اكتب الاسم الموجز للعدد

٧٣


• •

٤

• • •

• ٢٠


WWW.KweduFiles.Com



كم ملياراً في العدد

٤٦٥ ٩٨٤ . ٣٢ ٤١٧

www.kwedufiles.com



اكتب رمز أكبر عدد مكون من ٧

أرقام دون تكرار أي رقم .

WWW.KweduFiles.Com

ما الرقم الذي وضعته في منزلة

آحاد الألوف ؟

اكتب رمز العدد السابق مباشرة

و العدد التالي مباشرة

WWW.KweduFiles.Com

١٢٥٠٠٢٣٩٩

٢٠٠٠٠٠٠٠٠٠٠٠٠٠

• مقارنة وتثبيت المفردات

WWW.KweduFiles.Com



بند (٣-٧)



ضع رمز العلاقة المناسب < أو > أو =


٩٩٩ (.....)

WWW.KweduFiles.Com

٣٠١٢٠٧٧٧ (.....) ٧٠٨١١١٣٠٤


٣٨٨٣٣٣١٠١ (.....) ٤٠٠٢٠٩١٠٠

أَكْمَلْ



٤٥١٢٦٧٧٢.


WWW.KweduFiles.Com



٣٨٠٥٠٢٧٦.


أَكْمَلْ

٢٤٣ · ٤٥٥١٦




WWW.KweduFiles.Com

١ · ٢٤٣٤١ · ٢




رتب الأعداد تصاعدياً


١٢٠ ٥١٧ ٣٠٠ ٤٤




٢٢ ١١٦ ٩٠ ١٠٥



٧٠ ٩٩٩ ١٠٠ ١٥٠




٩ ٦٠٠ ١٠٠ ٩٩٤




رتب الأعداد تنازلياً


١٥٢٠٠ ٣٠٥٠٠ ١




٢٢١٤٥٩٠٠ ٧٧٧



١٦٨٢٨٥٥٥٣٠٩



١٠٢٢٠٤٠٤٠٧٠



تفريبات الامتحانات
WWW.KweduFiles.Com



بند (۷-۴)



قرب لأقرب عشرة آلاف

_____ \approx ٧٦ ٢٢٢

WWW.KweduFiles.Com

_____ \approx ٣٠٣ ١٩٩

قرب لأقرب مئة ألف

www.KweduFiles.Com

— ≈ ٢٤٢ ٨٨٨

— ≈ ٧ ٥٥٥ ٢١٢

قرب لأقرب مليون

≈ ٧٨٢٤٧٠٠٠

WWW.KweduFiles.Com

≈ ٦٢١٠٠٢٠١

قرب العدد ٢٧٢ ١٨٥ ٦ إلى أقرب

عشرة آلاف

عشرة

مئة ألف

مئة

مليون

ألف

www.KweduFiles.Com



يقرب عمر الأعداد إلى أقرب

١٠٠٠ ، اكتب عدداً غير العدد

WWW.KweduFiles.Com

٤٠٠٠ وأكبر من ٢٠٠٠ ويمكن

تقريبه إلى ٤٠٠٠






اختر الإجابة الصحيحة بوضع

العدد ٢٦٧ ٢٤٥ ٢ مقرباً إلى


أقرب عشرة آلاف هو :



٢ ٢٤٠ ٢٤٠٠ ٢٤٠٠٠



٢ ٢٥٠ ٢٥٠٠ ٢٥٠٠٠



• استخدام البيانات : مضطبات كارول

www.KweduFiles.Com



بند (۷-۵)



تَمَرِّنْ



1

اِسْتِخْدِمِ مُخَطَّطَ كَارُولِ الَّذِي يُصَنَّفُ مَجْمُوعَةً مِنَ الْمُتَعَلِّمِينَ بِحَسَبِ الْوِزْنِ،

وَأَجِبْ عَنِ الْأَسْئَلَةِ التَّالِيَةِ:

أ كم متعلماً وزنه أكبر من ٤ كجم؟

ب ما الخاصية التي تتحقق عند حسين؟

ج كم عدد جميع المتعلمين؟

الوزن	الوزن
أقل من ٤ كجم	أكبر من ٤ كجم
نواف، بدر	حامد، سعد، فواز، حسين



لا يَلْعَبُ	يَلْعَبُ	
كُرَّةَ السَّلَّةِ	كُرَّةَ السَّلَّةِ	
جاسِم	عماد	الطول ١٦٠ سم
يعقوب	طارق	الطول ليس ١٦٠ سم

٢ استُخِدمَ مُخَطَّطَ كارول وَأَجِبْ عَنِ الأَسْئَلَةِ التَّالِيَةِ:

أ مَنْ المُتَعَلِّمُ الَّذِي يَلْعَبُ كُرَّةَ السَّلَّةِ وَطولُهُ لَيْسَ ١٦٠ سم؟

ب مَنْ المُتَعَلِّمُ الَّذِي لا يَلْعَبُ كُرَّةَ السَّلَّةِ وَطولُهُ ١٦٠ سم؟

WWW.KweduFiles.Com

ج ما الخَاصِيَّةُ الَّتِي اتَّفَقَ فِيهَا عِمَادٌ وَجاسِمٌ؟

د إذا كانَ طولُ عَلِيٍّ ١٦٠ سم وَيَلْعَبُ كُرَّةَ السَّلَّةِ،
فاكْتُبْ اسْمَهُ فِي المُخَطَّطِ أَعْلَاهُ.



صنف الأعداد التالية في مخطط كارول

٦ ، ٢٠ ، ١٥ ، ٢٢ ، ٩ ، ١٤ ، ١١

WWW.KweduFiles.Com

عددًا ليس زوجياً

عدد زوجي