

تم تحميل هذا الملف من موقع المناهج الكويتية



الملف أسئلة منطقة الأحمدية محلولة بخط اليد

[موقع المناهج](#) ← [المناهج الكويتية](#) ← [الصف التاسع](#) ← [اجتماعيات](#) ← [الفصل الأول](#)

روابط مواقع التواصل الاجتماعي بحسب الصف التاسع



روابط مواد الصف التاسع على تلغرام

[الرياضيات](#)

[اللغة الانجليزية](#)

[اللغة العربية](#)

[التربية الاسلامية](#)

المزيد من الملفات بحسب الصف التاسع والمادة اجتماعيات في الفصل الأول

مسودة كتاب الطالب اجتماعيات لعام 2018	1
نموذج اجابة اختبار لعام 2017 تعليم خاص	2
نموذج اجابة اختبار لمنطقة العاصمة لعام 2016 في مادة الاجتماعيات	3
مراجعة رائعة للفصل الاول في مادة الاجتماعيات	4
حل تقويم الكورس الاول في مادة الاجتماعيات	5

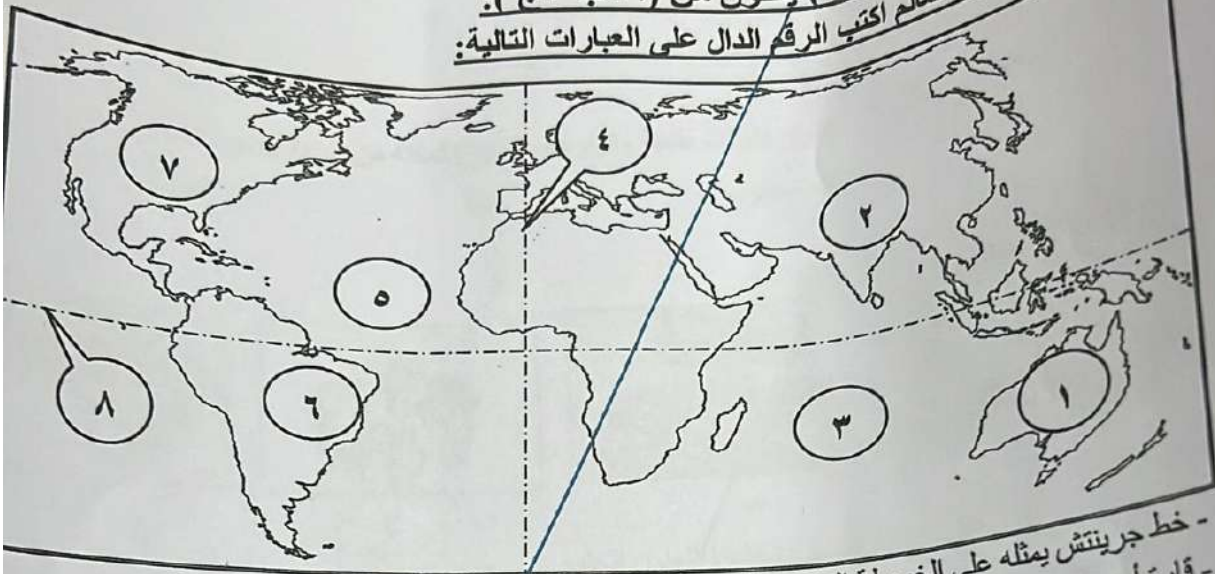


امتحان الفترة الدراسية الأولى
لمقرر الكويت والعالم
للسنة التاسعة المتوسط

العام الدراسي: ٢٠٢٤ / ٢٠٢٥
زمن الامتحان: ساعة و ٤٥ دقيقة
عدد الأوراق: (٥)

أجب عن جميع الأسئلة

السؤال الأول (الموضوعي) يتكون من (أ - ب - ج):
(أ) أمامك خريطة العالم اكتب الرقم الدال على العبارات التالية:



- خط جرينتش يمثل على الخريطة الرقم ٤
- قارة أمريكا الشمالية يمثلها على الخريطة الرقم ٢
- المحيط الأطلسي يمثلها على الخريطة الرقم ٥
- جبال الهيمالايا يمثلها على الخريطة الرقم ٦
- هضبة البرازيل يمثلها على الخريطة الرقم ٧

(ب) صحح ماتحته خط بكتابة الإجابة الصحيحة ما بين الأقواس:

- ١- أفضل مناطق الاستقرار البشري هي الهضاب.
- ٢- أسست الناشطة الكينية وانجاري ماثاي عام ١٩٧٧م حركة تسمى التنمية المستدامة.
- ٣- استخدام المبيدات الحشرية على المناطق الزراعية من مصادر تلوث التربة الحيوية.
- ٤- عقد المؤتمر الدولي للأرض عام ١٩٩٢م في دولة اليابان.
- ٥- يطلق على نظام تحديد المواقع المبني على الأقمار الصناعية اسم BGS.

(ج) صنف العناصر التالية حسب مجموعة النظام الأيكولوجي التابعة له في الجدول التالي:

(الإنسان - الغازات - البكتيريا - الحيوان - الصخور)	غير الحية	الحية المستهلكة	الحية المحللة
	الغازات	الإنسان الحيوان	البكتيريا
	الصخور		

درجة السؤال الأول بالحروف:

(١)

فقط

(السهول)
(الجزام)
(كيسايبيا)
(البرازيل)
(BGS)

العام الدراسي: ٢٠٢٤ / ٢٠٢٥
 الامتحان: ساعة و ٤٥ دقيقة


اسم الأهل:

تابع امتحان الفترة الدراسية الأولى - لمقرر الكويت والعالم - للصف التاسع المتوسط - العام الدراسي ٢٠٢٤ / ٢٠٢٥

السؤال الثاني (الموضوعي) يتكون من (أ - ب - ج):

(أ) ضع خطأ تحت الخيار الصحيح من بين الخيارات التي تلي كل عبارة:


- ١- تقع دولة الكويت بالنسبة لقارة آسيا في الجهة:
 - أ- الشمالية الشرقية
 - ب- الشمالية الغربية
 - ج- الجنوبية الشرقية
 - د- الجنوبية الغربية
- ٢- تغطي البحار والمحيطات من مساحة الكرة الأرضية ما نسبته:
 - أ- ٦١٪
 - ب- ٧١٪
 - ج- ٨١٪
 - د- ٩١٪
- ٣- البيئة الحضارية التي يمتلك فيها الإنسان قدرات علمية وتكنولوجية كبيرة تمكنه من استغلال مواردها:
 - أ- متقدمة
 - ب- متوسطة
 - ج- نامية
 - د- فقيرة
- ٤- الشعار الذي يمثل اليوم الدولي للغابات:



د



ج



ب



أ

٥- أكبر مصدر للمياه العذبة المنتجة في دول مجلس التعاون الخليجي:

- أ- مياه السودان
- ب- مياه التحلية
- ج- مياه الصرف الصحي
- د- المياه الجوفية

(ب) اكتب المفاهيم أو المصطلحات الدالة على العبارات التالية:

المفهوم/المصطلح	العبارة
التوازن البيئي	التفاعل المستمر بين مكونات البيئة الذي يحفظ استقرارها النسبي في زمن محدد دون أن يؤثر أي مكون على المكونات الأخرى.
الرياح	وحدة قياس ضغط الصوت.
الآمن المائي	توفر الكميات الكافية من المياه ذات النوعية الجيدة الضرورية، وفي الوقت نفسه توفر كميات المياه المطلوبة لاستدامة وتعزيز وظائف النظم الأيكولوجية المهمة.
السياسة الخارجية	النشاط الموجه نحو الخارج لمعالجة مشاكل ما وراء الحدود وأخرى ضمن الحدود.
التعاون الدولي	جهود مبنولة بين دول العالم من أجل تحقيق مصلحة الدول المتعاونة وفي سبيل تحقيق الأمن والسلم الدوليين ومواجهة التحديات السياسية والاجتماعية والاقتصادية والأمنية.

صلى الله عليه وسلم
 ١٥ - الحوزة العلمية (٢)
 دوائر - زحف الكثرة - تربية الرئيس

السؤال الثالث (المقال) يتكون من (أ - ب - ج):
 (أ) لاحظ الصورة التي أمامك ثم أجب عن الأسئلة التالية:



- ١- اذكر نوع التلوث الذي تصقله الصورة المقابلة.
- ٢- عدد مصادر هذا النوع من التلوث.
- ٣- اذكر مثالا على هذا النوع من التلوث في دولة الكويت.

التلوث الهوائي
 المصادر الرئيسية للتلوث في دولة الكويت هي عوادم السيارات وغازات المصانع والوقود المنزلي.

نجم عنها حرف الأمان النقطية عن زجيم الكويت من عمود العراق في العاش (١٩٩١) سماء الكويت

(ب) علق لما يلي:


- ١- البيئة المناخية المعتدلة من أفضل البيئات للعيش على وجه الكرة الأرضية.
- ٢- أهمية زراعة الأشجار على كوكب الأرض.
- ٣- ندرة المياه بدون مجلس التعاون لدول الخليج العربية.

الحياة النباتية أكثر من السبات الأخرى
 أهمية زراعة الأشجار على كوكب الأرض
 ندرة المياه بدون مجلس التعاون لدول الخليج العربية

(ج) عرّف المفاهيم أو المصطلحات التالية:

- ١- البيئة: هو الإطار الذي يعيش فيه الكائنات الحية.
- ٢- استئناس الحيوانات: هو الاستعداد الحيواني للارتباط بالإنسان.
- ٣- التلوث المدمر: هو التلوث الذي يضر فيها النظام البيئي.
- ٤- الاحتباس الحراري: الزيادة في متوسط حرارة الأرض الناتجة عن الغازات الدفيئة.
- ٥- السياسة الدولية: هي العلاقات الدولية مع بعضها البعض على شكل وحدات أو تنظيمات دولية.

البيئة هي العلاقات الدولية مع بعضها البعض على شكل وحدات أو تنظيمات دولية
 لتتحقق المصالح السياسية أكثر من الضرر من الضحية مرتبة من المسائل الممكنة
 درجة السؤال الثالث بالحروف: فقط



المسؤول الرابع (المقالة) - لمتقرر الكويت والعالم - للصف التاسع المتوسط - العام الدراسي ٢٠٢٤ / ٢٠٢٥ م

(١) اقرأ الفقرة التالية ثم اجب عما يليها من أسئلة:

١- ضع عنواناً مناسباً للفقرة.
 ٢- برهن على صحة العبارة (التجارة الدولية مميزات عديدة).
 ٣- اذكر العوامل المؤثرة في العلاقات الاقتصادية الدولية.

١- وضع عنواناً مناسباً للفقرة.
 ٢- برهن على صحة العبارة (التجارة الدولية مميزات عديدة).
 ٣- اذكر العوامل المؤثرة في العلاقات الاقتصادية الدولية.

(ب) فرق بين كل من:

مميزات البيئة البحرية	مميزات البيئة الجبلية
- توفيق على التوازن البيئي للأرض والبيئة.	- تخزين المياه الطبيعية وتكوين البحيرات والبحر.
- توفر طاق المواصلات بحرية.	- بيئة طبيعية لحيات البرية.
- توفر طاق المواصلات بحرية.	- بيئة للتساقط.

(ج) اكتب فيما يلي:

١- مراحل تطور علاقة الإنسان بالبيئة.
 ٢- أشكال العلاقات الدولية.
 ٣- دور دولة الكويت في الميدان الثقافي العربي.

١- مراحل تطور علاقة الإنسان بالبيئة.
 ٢- أشكال العلاقات الدولية.
 ٣- دور دولة الكويت في الميدان الثقافي العربي.