

(أ) اقرأ الفقرة التالية ثم أجب عما يليها من أسئلة:
(بضم الوطن العربي مجموعة من الدول العربية التي يجمعها عدد من السمات المشتركة، وقد كونت شعوب هذه المنطقة وطناً كبيراً له عاداته وتقاليده وقيمه، وترتبط بين أبنائه وحدة الدين واللغة، هي التي أجمعت عليها دول الوطن العربي على امتداده الجغرافى)

(١) ضع عنوان مناسب للفقرة السابقة.

(٢) عرف ما تحته خط

(٣) عدد مقومات الهوية العربية.

(ب) قارن بين كل من حسب المطلوب منك فى الجدول التالى:

الغابات المعتدلة	الغابات المدارية الحارة	أوجه المقارنة
.....	مميزات الأشجار
.....	أهم الأشجار

(ج) عرف المفاهيم والمصطلحات التالية:

(١) السهول:

(٢) النبات الطبيعى:

(٣) الحضارة:

(٤) الديانة اليهودية:

أجب عن جميع الأسئلة:

السؤال الأول (الموضوعي) يتكون من (أ - ب - ج):

أ) أكمل العبارات التالية بما يناسبها:

- ١) الدولة العربية التي تقع خارج نطاق موقع الوطن العربي تسمى
- ٢) أكثر الأشكال التضاريسية انتشاراً في الوطن العربي تسمى
- ٣) ملك بابلي وضع قانون (السن بالنسب والعين بالعين) اسمه
- ٤) ملكة سبا ورد ذكرها بالقرآن الكريم اسمها
- ٥) الصنم الذي أطلق على البحرين قديماً اسمه

ب) ضع خطأ تحت الخيار الصحيح من بين الخيارات التي تلي كل عبارة:

١) مضيق يربط بين خليج عدن والبحر الأحمر:

- أ- هرمز ب- باب المندب ج- السويس د- جبل طارق

٢) الفصل الذي تكون فيه الشمس عمودية على المنطقة الواقعة بين خط الاستواء ومدار الجدي:

- أ- الربيع ب- الصيف ج- الشتاء د- الخريف

٣) الصورة التي أمامك لمعلم ينتمي للحضارة:

- أ- بلاد الشام ب- بلاد اليمن ج- مصر القديمة د- دلمون

٤) محطة تحلية مياه البحر أنشأت في دولة الكويت عام ١٩٥٣ م:

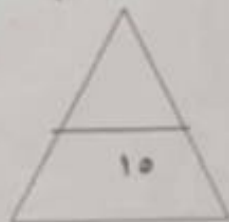
- أ- الروضتين ب- أم العيش ج- الأحمدى د- الشويخ

٥) العام الذي أنزل فيه القرآن الكريم على سيدنا محمد صلى الله عليه وسلم:

- أ- ٦١٠ م ب- ٦٢٠ م ج- ٦٣٠ م د- ٦٤٠ م

ج) صحح ما تحته خط بكتابة الإجابة الصحيحة ما بين الأقواس:

- ١) تمثل نسبة مساحة الوطن العربي من جملة مساحة العالم حوالي ٥٠% (.....)
- ٢) موقع الدولة بالنسبة لليابس والماء يسمى الموقع الفلكي. (.....)
- ٣) حالة الجو خلال فترة زمنية طويلة يسمى الطقس. (.....)
- ٤) الرياح المحلية التي تهب على دولة الكويت تسمى الخمسين. (.....)
- ٥) عرف أهل اليمن الأبجدية التي كانت تكتب بالخط الهيروغليفي. (.....)



درجة السؤال الأول بالحروف



تابع الامتحان مقرر الكويت والوطن العربي - المصنف السابع - الفترة الدراسية الأولى - العام الدراسي ٢٠٢٣ / ٢٠٢٤ م

سؤال الرابع (مقالى) يتكون من (أ - ب - ج):

(أ) لاحظ الصورة التي أمامك ثم اجب عن الأسئلة التالية:

ا	ب	ج	د
هـ	و	ز	ح
ط	ي	ك	ل
م	ن	س	ع
ف	ق	ص	غ
ط	ي	ك	ل
م	ن	س	ع
ف	ق	ص	غ
ط	ي	ك	ل
م	ن	س	ع
ف	ق	ص	غ

(١) ما الاسم الذي يطلق على هذا النوع من الكتابة؟

(٢) كم يبلغ عدد حروفها؟

(٣) انكر اسم الحضارة التي ظهرت فيها هذه الكتابة.

(٤) عدد العلوم والفنون التي اشتهرت بها هذه الحضارة.

(ب) علل لما يلي:

(١) الأهمية الجغرافية للوطن العربي.

(٢) ازدهار الزراعة في بلاد الرافدين.

(ج) عدد اثنين لكل مما يلي:

(١) صفات المطر في الوطن العربي.

(٢) طرق ترشيد استخدام المياه.

(٣) العوامل التي ساعدت على قيام الحضارة المصرية القديمة.

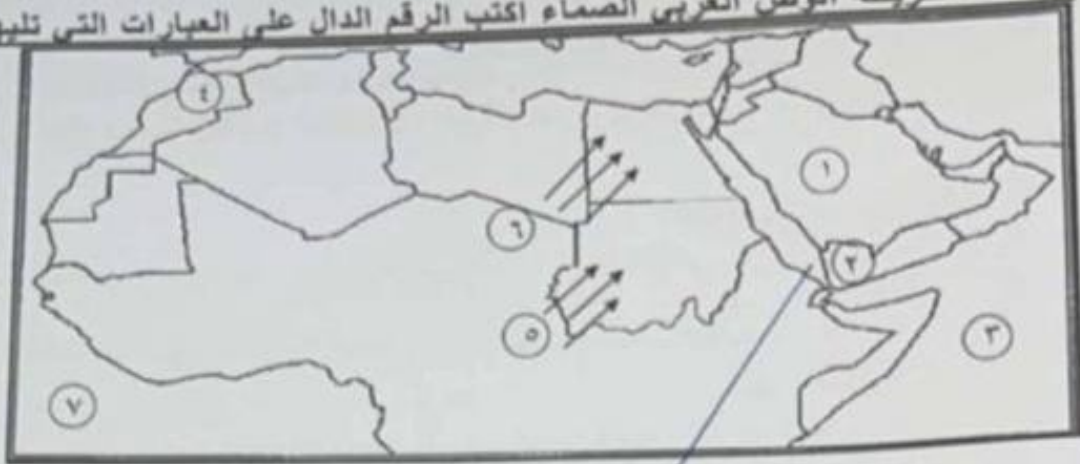
درجة السؤال الرابع بالحروف

انتهت الأسئلة،



تبع امتحان مقرر الكويت والوطن العربي لصف السابع - الفترة الدراسية الأولى - العام الدراسي ٢٠٢٣ / ٢٠٢٤ م
السؤال الثاني (موضوعي) ويتكون من (أ - ب - ج):


(أ) أمامك خريطة الوطن العربي الصماء اكتب الرقم الدال على العبارات التي تليها:



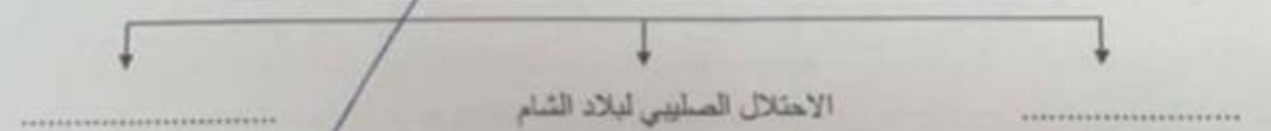
- جبل الأطلس يمثل على الخريطة الرقم
- هضبة نجد يمثلها على الخريطة الرقم
- المحيط الهندي يمثل على الخريطة الرقم
- رياح الهبوب يمثلها على الخريطة الرقم
- بلاد اليمن يمثلها على الخريطة الرقم

(ب) أكمل المخططات السهمية التالية:

١- مصادر المياه في الوطن العربي



٢- مراكز إشعاع الحضارة العربية الإسلامية إلى أوروبا



(ج) صنف الحيوانات الصحراوية التالية بمكانها الصحيح في الجدول الذي يليها:

(الصقور - الجراد - الخنافس - الأفاعي - الحباري)

الطيور	الحشرات	الزواحف

درجة السؤال الثاني بالحروف

