

تم تحميل هذا الملف من موقع المناهج الكويتية



هديل الحربي

الملف مراجعة للامتحان الثالث

[موقع المناهج](#) ← [المناهج الكويتية](#) ← [الصف الأول](#) ← [علوم](#) ← [الفصل الثاني](#)

روابط مواقع التواصل الاجتماعي بحسب الصف الأول



روابط مواد الصف الأول على تلغرام

[الرياضيات](#)

[اللغة الانجليزية](#)

[اللغة العربية](#)

[التربية الاسلامية](#)

المزيد من الملفات بحسب الصف الأول والمادة علوم في الفصل الثاني

الطرق الامنة في التعامل مع الماء	1
الماء والجليد وبخار الماء	2
أوراق عمل النمو	3
مذكرة مفيدة في مادة العلوم	4
مذكرة علوم	5



وزارة التربية

الإدارة العامة لمنطقة الجهراء التعليمية

مدرسة سيد خلف النقيب إ. بنين

قسم العلوم



مراجعة للإمتحان الثالث للصف الأول لمادة العلوم




اعداد المعلمة :هديل الحربي


رئيسة القسم :نورة الشمري

مديرة المدرسة :نوير الظفيري

السؤال الاول : اختر الإجابة الصحيحة علمياً لكل من العبارات التالية بوضع علامة (✓) في المربع المقابل لها:

1- دلالة اللوحة الإرشادية التالية : 

ممنوع الركن ممنوع الحفر ممنوع العبور أمامك مطب

2- دلالة اللوحة الإرشادية التالية : 

امامك دوار أمامك إشارة مرور قف ممنوع العبور

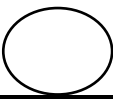
3 - يستخدم هذه النوع  من البطاريات في تشغيل:

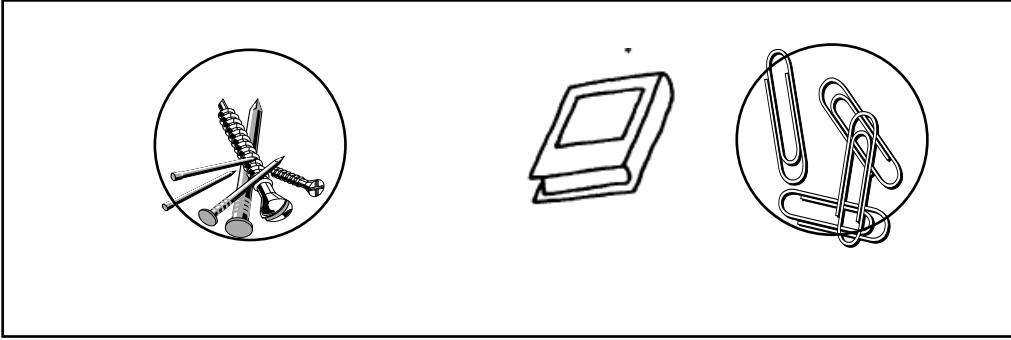
   

السؤال الثاني: ضع بين القوسين علامة (✓) للعبارة الصحيحة وعلامة (x) للعبارة غير الصحيحة في كل مما يأتي:

1- البوصلة تساعدنا في معرفة الإتجاهات الأصلية . (✓) .

2- تعمل الغسالة عن طريق الكهرباء (X) .

السؤال الثالث: اشر بالشكل  على الأشياء التي يجذبها المغناطيس



السؤال الرابع: صل الصور بالعبارة المناسبة لها :
1- مغناطيس 2- مغناطيس كهربائي

