



العام الدراسي: ٢٠١٩/٢٠١٨
الزمن: ساعة ونصف
عدد الأوراق: (٦)

امتحان نهاية الفترة الدراسية الثانية
للمصف السابع
الكويت والوطن العربي

وزارة التربية
الإدارة العامة لمنطقة الجهراء التعليمية
التوجيه الفني للاجتماعيات

أجب عن جميع الأسئلة التالية :-
السؤال الأول: (موضوعي) يتكون من (أ - ب - ج - د - هـ - و) :- (لكل سؤال درجة)
أ) ضع خطاً تحت الخيار الصحيح من بين الخيارات التي تلي كل عبارة :-

١ - من الغلات الصناعية التجارية : ص ١١٣

(البن) - العنب - التمور - الشعير)

٢ - أولى الدول العربية في إنتاج الموز : ص ١١٤

(مصر) - الصومال - السودان - المغرب)

٣ - أكثر أنواع الثروة الحيوانية انتشاراً في منطقة الوطن العربي : ص ١١٨

(الأبقار) - الماعز - الأغنام - الإبل)

٤ - من المقومات البشرية للصناعة : ص ١٣٩

(البترول) - الغاز الطبيعي - رؤوس الأموال - المحاصيل الزراعية)

٥ - تبلغ نسبة احتياطي النفط الخام في دول الوطن العربي : ص ١٢٧

(١٦.٥% - ٢٧.٥% - ٣٠% - ٥٥%)

ب) أكتب المفاهيم أو المصطلحات الدالة على العبارات التالية :-

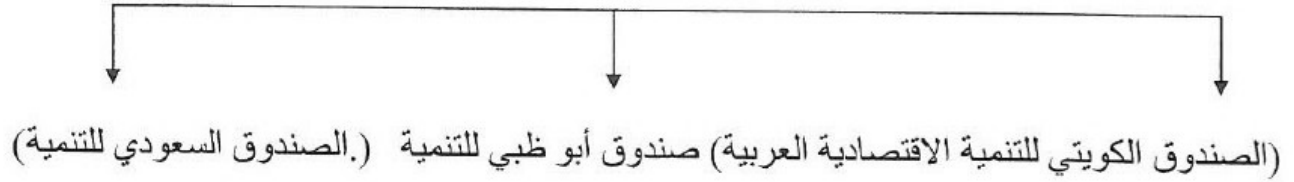
م	المفهوم	العبرة
١	إحصاء الحيوي	تسجيل المواليد والوفيات وحالات الزواج والطلاق ونحصل على بياناتها من واقع السجلات الرسمية للدولة . ص ٩٩
٢	طاقة	قوى محركة للألات وعنصر مهم للتقدم والتطور الاقتصادي في جميع المجالات . ص ١٢٥
٣	تبادل التجاري	عمليات التصدير والاستيراد بين الدول . ص ١٥١
٤	تصحّر	زحف رمال الصحراء على المناطق الجافة وشبه الجافة . ص ١٦٢
٥	تنمية المستدامة	برامج تحسين نوعية الحياة ولا تتحقق إلا بمشاركة جميع المواطنين . ص ١٧٥

ج) أكمل العبارات التالية بما يناسبها فيما درست :-

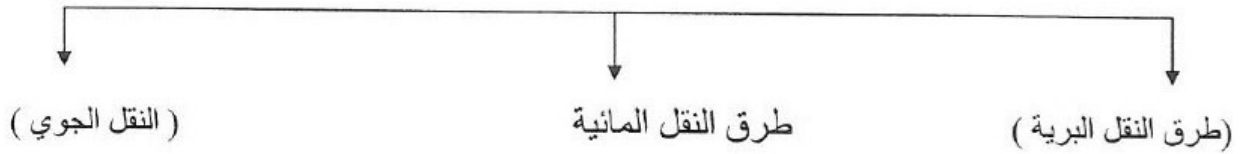
- ١ - الدولة العربية الأكثر سكانا حسب إحصائية عام ٢٠١٤م تسمىمصر.....ص١٠٠
- ٢ - تبلغ نسبة المساحة المزروعة في الوطن العربي٥٦..... % ص ١١٦
- ٣ - الدولة العربية الأولى في إنتاج الإبل تسمىالصومال..... ص ١١٨
- ٤ - تبلغ نسبة إنتاج الغاز الطبيعي في دول الوطن العربي١٦.٥.....% ص١٢٧
- ٥ - الدولة العربية التي عقد فيها أكبر وأهم مؤتمر للقمّة العربية عام ٢٠٠٩م تسمى ...الكويت...ص١٨٦

د) أكمل المخطط السهمي التالي :-

- ١ - أهم الصناديق الوطنية (على مستوى الدول العربية) ص ١٧٩



- ٢ - أنواع طرق النقل ص ١٤٨ - ١٥٠



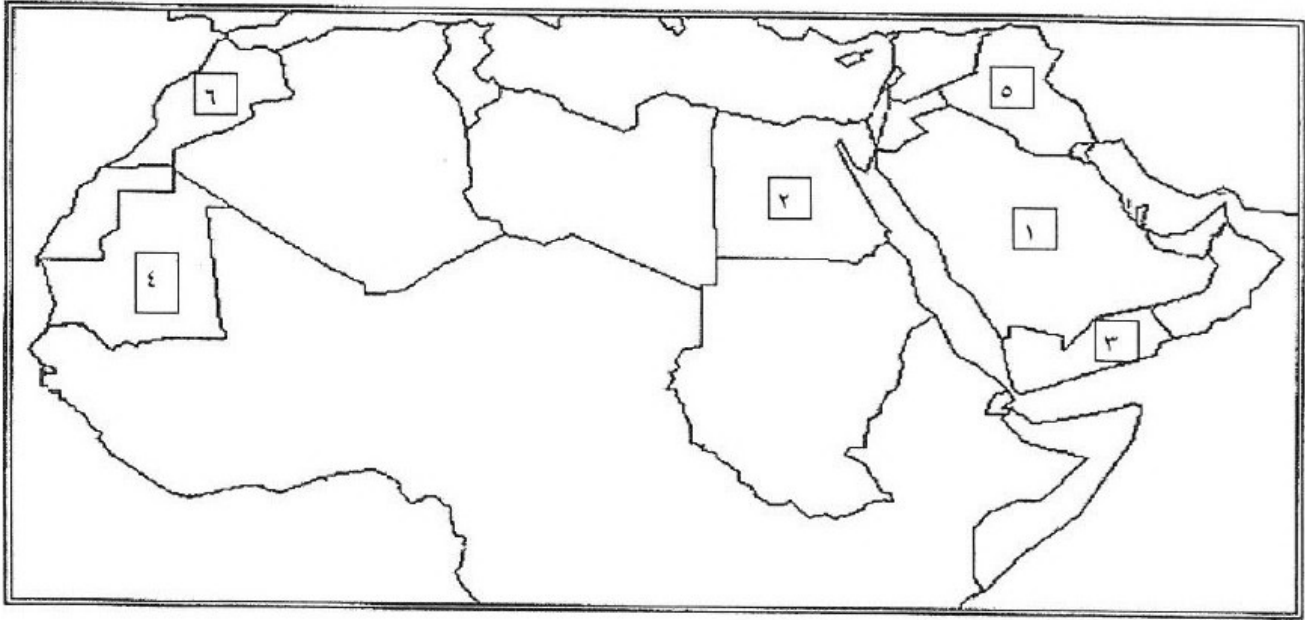
- ٣ - أسباب التصحر



هـ) صوب ما تحته خط في العبارات التالية :-

التصويب	العبارة
الحبوب الغذائية	١ - يعتبر القمح والأرز والذرة من <u>الغلات الصناعية التجارية</u> . ص ١١٣
السودان	٢ - أولى الدول العربية في نسبة إنتاج الأبقار <u>مصر</u> . ص ١١٨
متجددة	٣ - تعد الرياح والشمس من مصادر الطاقة <u>الغير المتجددة</u> . ص ١٧١
١٩٨١م	٤ - أعلن قيام مجلس التعاون الخليجي في ٢٥ مايو عام ١٩٨٨ م . ص ١٨١
الكويت	٥ - عقد المؤتمر الدولي للمحتاجين لدعم الوضع الإنساني في سوريا في <u>سلطنة عمان</u> . ص ١٨٨

و) أمامك خريطة صماء للوطن العربي نفذ المطلوب عليها :-



حدد على خريطة الوطن العربي الصماء ما يلي :-

- الدولة العربية الأولى في إنتاج البن يمثلها على الخريطة الرقم٣..... ص ١١٤
- الدولة العربية الأولى في إنتاج التمور يمثلها على الخريطة الرقم١..... ص ١١٤
- الدولة العربية الأولى في إنتاج الأسماك يمثلها على الخريطة الرقم٢..... ص ١٢٣
- الدولة العربية الأولى في إنتاج معدن الحديد يمثلها على الخريطة الرقم٤..... ص ١٣٢
- الدولة العربية الأولى في إنتاج معدن الفوسفات يمثلها على الخريطة الرقم٦..... ص ١٣٢

السؤال الثاني: (مقالي) يتكون من (أ - ب - ج) :-

أ) اقرأ الفقرة التالية ثم أجب عن الأسئلة التي تليها: - (لكل سؤال درجة) ص ١٦٦ / ص ١٦٧
" التلوث البيئي من أهم وأخطر المشاكل التي تواجه شعوب العالم اليوم ، حيث عقد أكبر مؤتمر للأمم المتحدة في مدينة ريودي جانيرو بالبرازيل عام ١٩٩٢ م ، ويصيب التلوث عناصر البيئة من عدة مصادر للملوثات منها صناعية وزراعية ومنزلية "

١ - عرف ما تحته خط ص ١٦٦
التلوث : هو الضرر الذي يلحق بالتربة والهواء والماء ويصيب التلوث عناصر البيئة من عدة مصادر للملوثات .

٢ - استخرج من القطعة ما يلي :-
أ - المدينة التي عقد فيها أكبر مؤتمر للأمم المتحدة لمواجهة مشكلة التلوث ص ١٦٧
ريودي جانيرو

ب - مصادر الملوثات. (يكتفى بعاملين) ص ١٦٦
- صناعية .
- زراعية .
- منزلية .
وكذلك الملوثات الصادرة عن البقايا الصلبة وتراكم النفايات والمواد البلاستيكية .

ب) عدد أهداف كل من :- (درجتين لكل سؤال)

١ - الصناعات البتروكيميائية . (يكتفى بنقطتين) ص ١٤٥
- تنويع مصادر الدخل للدولة المنتجة .
- توفير المواد الأولية للصناعات التحويلية لتأمين حاجات القطاعات الاستهلاكية (خاصة مجال البناء) .
- تطوير الصناعات البتروكيميائية إلى تقنيات متخصصة وعالية .
٢ - التنمية الاقتصادية . ص ١٧٤
- استخدام العلم في زيادة الإنتاج .
- تحقيق التكامل بين الدول العربية في الإمكانيات والحاجات .

ج) عرف المفاهيم التالية :- (درجة لكل سؤال)

١ - تنمية . ص ١٧٢
التطور والتطوير وهي عملية تتطلب التخطيط والمشاركة من الجميع .
٢ - صناعات تجميعية . ص ١٤٣
عملية تركيب وجمع المواد المصنعة على اختلاف مصادرهما كي نحصل على سلع متنوعة .
٣ - نمو سكاني . ص ١٠٦
تزايد عدد السكان من عام لآخر نتيجة للزيادة الطبيعية للسكان (معدل المواليد - معدل الوفيات) والهجرة .

السؤال الثالث (مقال) يتكون من (أ - ب - ج) :-

أ) فرق بين كل من :-

موارد بشرية (درجة) ص ١٠٩	موارد طبيعية (درجة) ص ١٠٩
هي التي ترتبط بالسكان من حيث أعدادهم وتوزيعهم ومناسبة أعدادهم لمساحة الأرض التي يستغلونها .	الثروات التي منحها الله لإقليم من دون أن يكون للإنسان أي دور في وجودها . مثل : الثروات المعدنية والغابات والمراعي والموارد المائية وموقع الإقليم .
غاز طبيعي (درجة) ص ١٢٥	نפט (درجة) ص ١٢٥
غاز مصاحب للنפט الخام أو يوجد منفردا تتم إيسالته لاستخدامات عديدة .	بقايا عضوية على هيئة نباتات وحيوانات دقيقة ترسبت في عصور قيمة وانظمرت وتحولت بالضغط والحرارة إلى صورتها الحالية .

ب) عدد المشكلات التي تواجه كل من :- (لكل سؤال درجتين)

١ - التنمية البشرية . (يكتفى بنقطتين) ص ١٧٥

- ضعف الاستفادة من القدرات البشرية في المنطقة العربية .
- مشكلة الأمية .
- نقص ومحدودية مشاركة المرأة في المنظمات السياسية .
- الاختلاف الكبير في مستويات المعيشة بين دولة وأخرى وفي داخل الدولة الواحدة .

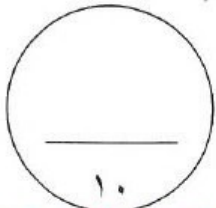
٢ - الزراعة . (يكتفى بنقطتين) ص ١٦١

- عدم استغلال الأراضي القابلة للزراعة لندرة مياه الري أو تذبذب الأمطار أو قلة الأيدي العاملة .
- اتباع طرق الزراعة التقليدية في معظم أجزاء الوطن العربي .
- زحف الرمال (التصحر) وانجراف التربة .
- تلوث التربة نتيجة للإسراف في استخدام المبيدات الحشرية وارتفاع نسبة الملوحة بالتربة .
- الرعي الجائر .

ج) علل لما يلي :- (درجة لكل سؤال)

- ١ - تختلف أنواع منتجات الإنتاج الزراعي من دولة عربية لأخرى . ص ١١٠
- بسبب اختلاف المناخ والتربة ومدى توفر المياه في هذه الدول .

- ٢ - يتمتع النفط بمكانة مهمة على المستوى العالمي . ص ١٣١
- نظرا لأهميته للدول الصناعية المتقدمة في أوروبا واليابان والولايات المتحدة الأمريكية .



السؤال الرابع (مقال) يتكون من (أ - ب - ج) :-
(أ) قارن بين كل من :- (٣ درجات) ص ١٣٤ / ١٣٥

أوجه المقارنة	أوبك	أوابك
التعريف	منظمة الدول المصدرة للنفط	منظمة الأقطار العربية المصدرة للنفط
سنة التأسيس	١٩٦٠م	١٩٦٨م
المقر	فيينا	الكويت

(ب) أذكر ما يلي :-

- ١ - أسباب تدني وفرة المياه في الوطن العربي . (يكتفى بنقطتين) ص ١٦٤ (درجتين)
- النمو السريع للسكان الذي يشكل ضغطاً متزايداً على المياه المتوفرة لكل فرد .
- ٥٠% من الموارد المائية في العالم العربي تأتي من خارج حدوده وتتحكم فيها دول المنبع في غياب التشريعات دولية تضمن حقوقنا .
- الطرق التقليدية المستخدمة في استغلال المياه في معظم مناطق العالم مسؤولة عن تدني نسبة المياه (استخدام الري بالغمر والاستهلاك غير المسؤول في مجالات المياه)
- الشبكات المؤهلة لنقل المياه شبكات قديمة .
- افتقار الدول العربية إلي برامج لإدارة المياه كما أنها لا تستخدم الأدوات الاقتصادية اللازمة لترشيد الاستخدام المتزايد من المياه .
- ٢ - أهداف القمة الاقتصادية للتنمية العربية . (يكتفى بنقطتين) ص ١٨٦ (درجتين)
- إنشاء بنك عربي لتمويل شتى المشاريع التنموية للتقليل من معدلات الفقر .
- القضاء على البطالة والفقر بتوفير فرص العمل .
- الاستثمار الاقتصادي بين الدول العربية وتقوية التبادل التجاري .
- الاعتناء بالعنصر البشري والتنمية المستدامة .
- ٣ - المناطق الرئيسية التي يتركز فيها معظم الحقول النفطية في الوطن العربي . (يكتفى بنقطتين) ص ١٢٦ (درجة)
- منطقة دول الخليج وسهول دجلة والفرات ويوازي إنتاجها ٨٠% .
- منطقة الصحراء البرية ويوازي إنتاجها ١٨% .
- منطقة خليج السويس ويوازي إنتاجها ٤,٧% .

(ج) نفذ ما بين القوسين :- (لكل سؤال درجة)

- ١ - الزيادة السكانية . (انواعها) . ص ١٠٦
- زيادة طبيعية .
- زيادة غير طبيعية .
- ٢ - تنوع الثروة المائية في الوطن العربي . (علل) . ص ١٢٢
دول الوطن العربي دول بحرية لها سواحل ومسطحات مائية واسعة منها المالحة ومنها العذبة .

" انتهت الإجابة "



أجب عن جميع الأسئلة التالية :

أولا : الأسئلة الموضوعية :

السؤال الأول: ويتكون من (أ - ب - ج - د - هـ - و) : (لكل نقطة درجة)

أ- أكمل العبارات التالية بما يناسبها فيما درست:

١- يمتد الوطن العربي بين قارتي آسيا وقارة تسمى أفريقيا ص ٢١

٢- الحضارة التي تميزت بوجود الأهرامات تسمى المصرية ص ٧٧

٣- معدل النمو السكاني في الوطن العربي يبلغ حوالي ٢,٢٠ ص ١٠٦

٤- الدولة العربية الأولى في إنتاج الغاز الطبيعي تسمى قطر ص ١٢٩

٥- الغلات التي تزرع بغرض التجارة تسمى الغلات النقدية ص ١١٣

ب- ضع خطأ تحت الخيار الصحيح من بين الخيارات التي تلي كل عبارة :

١- المسطح المائي الذي يحده الوطن العربي من ناحية الغرب : ص ٢٨

(أ- البحر الأحمر ب- المحيط الهندي ج- البحر المتوسط د- المحيط الأطلسي)

٢- يطلق أسم " أوال " على حضارة من الشرق القديم : ص ٨٨

(أ- شبه الجزيرة العربية ب- دلمون ج- المصرية د- بلاد الرافدين)

٣- العام الذي عقد فيه أكبر مؤتمر للأمم المتحدة وعرف باسم " قمة الأرض " : ص ١٦٧

(أ- ١٩٩٠ ب- ١٩٩١ ج- ١٩٩٢ د- ١٩٩٣)

٤- الدولة العربية التي تمتلك نسبة ٦,٦ من ثروة الوطن العربي للأبل : ص ١١٨

(أ- الصومال ب- السودان ج- العراق د- السعودية)

٥- أهم أهداف التنمية الاقتصادية : ص ١٧٤

(أ- حقوق المرأة ب- العلم وزيادة الانتاج ج- الحرية د- المعرفة)

ج- أكتب المفاهيم أو المصطلحات الدالة على العبارات التالية :

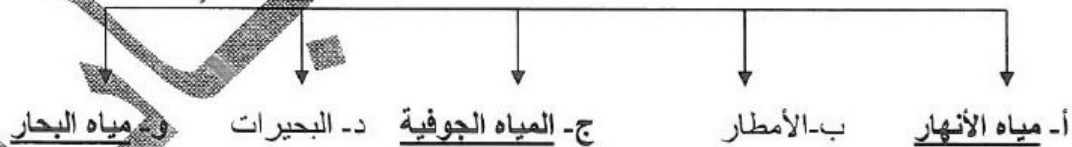
- ١- (الهضبة) أرض مرتفعة ، سطحها مستو، وتمتد على مساحة كبيرة.. ص ٤٠
- ٢- (الحضارة) كل ما يطرأ على المجتمع من تقدم وتطور ورقي في جميع نواحي الحياة والسياسة والاقتصادية والاجتماعية والفكرية . ص ٧١
- ٣- (الطاقة) قوى محركه للألات وعنصر مهم للتقدم والتطور الاقتصادي في جميع المجالات . ص ١٢٥
- ٤- (التلوث) الضرر الذي يلحق بالتربة والهواء والماء ، ويصيب عناصر البيئة . ص ١٦٦
- ٥- (الصناعة التحويلية) تحويل المواد الأولية من معدنية نباتية وحيوانية إلى سلع استهلاكية صالحة للاستعمال . ص ١٤٢

هـ - صوّب ما تحته خط في العبارات التالية :

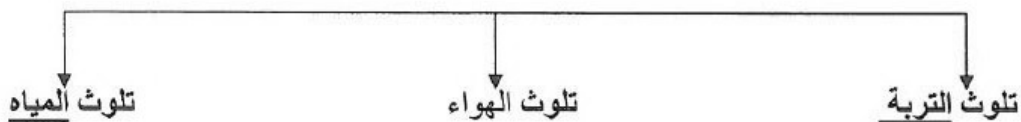
- ١- الديانة التي نزلت على سيدنا عيسى عليه السلام تسمى اليهودية (المسيحية) ص ٩٠
- ٢- سفينة الصحراء لقب يطلق على حيوان يسمى الحياري . (الجمال) ص ٥٦
- ٣- تبلغ نسبة إنتاج الوطن العربي من النفط الخام ٤٠% (٣٠) ص ١٢٧
- ٤- العام الذي انشئ فيه الصندوق السعودي للتنمية ١٩٧٥م (١٩٧٤) ص ١٧٩
- ٥- الدولة العربية الأولى في إنتاج معدن الحديد الجزائر (موريتانيا) ص ١٣٢

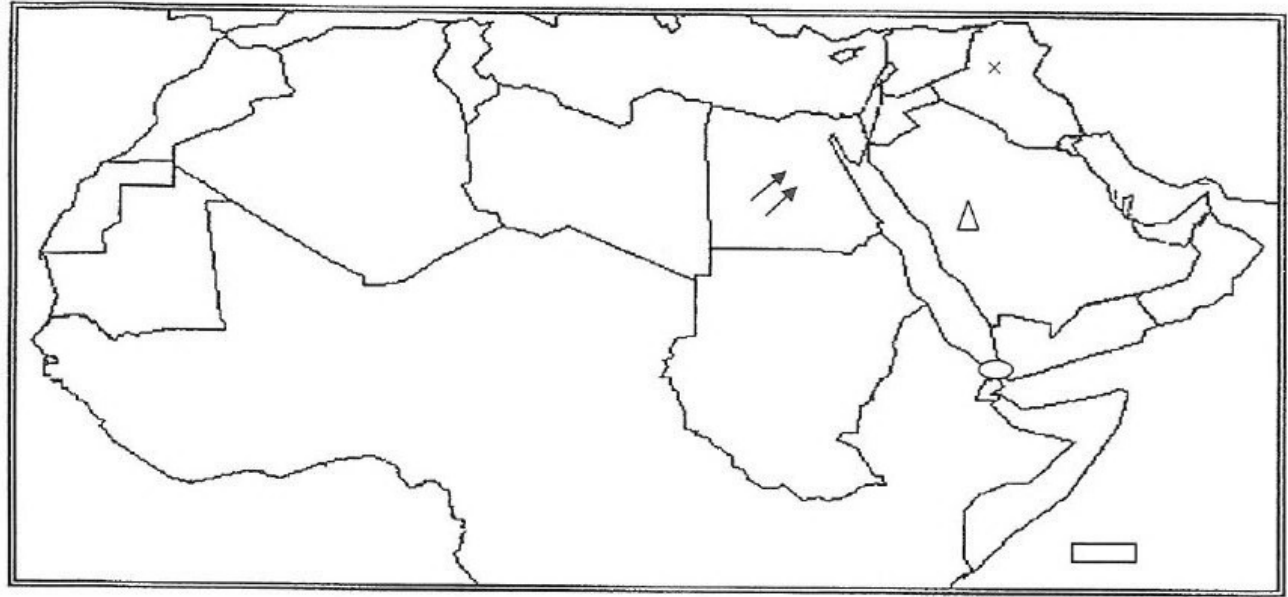
د - أكمل المخطط السهمي التالي :

(١) مصادر المياه في الوطن العربي: ص ٥٧








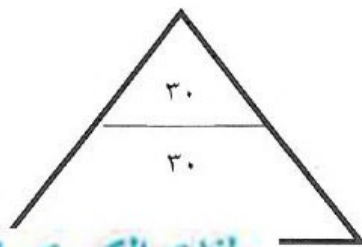
(٢) أنواع التلوث: ص ١٦٧





و- أمامك خريطة صماء للوطن العربي حدد باستخدام الرموز التالية :

- ١- جبال الحجاز  ص ٣٨
- ٢- مضيق باب المندب  ص ٢٨
- ٣- جزر القمر  ص ٣٣
- ٤- رياح الخماسين  ص ٤٨
- ٥- مملكة الآشوريون في حضارة بلاد الرافدين  ص ٧٩



ثانياً : الأسئلة المقالية :

السؤال الثاني : ويتكون من (أ ، ب ، ج) :

أ - علل لما يأتي : (لكل سؤال درجة)

١- تحتل الأغنام العربية مكاناً مهماً ضمن الثروة الرعوية .ص ١١٨ (يكتفي بثلاث نقاط) (ثلاث درجات)

- الأكثر انتشاراً في المراعي العربية / - أكثر الحيوانات المستأنسة والملائمة لمراعي الوطن العربي ؛ وذلك لتحملها الجفاف والانتقال / - لأهمية منتجاتها بالنسبة للسكان / - لأنها مصدر أساسي من مصادر الثروة القومية .

٢- تعد منطقة جنوب غرب شبه الجزيرة العربية من أكثر مناطق شبه الجزيرة العربية ملائمة لقيام الحضارة . ص ٨٥ (درجتان) (يكتفي بنقطتين)

- بسبب توافر المياه العذبة / - والمناخ المناسب لقيام الزراعة / - الموقع الذي يسمح بقيام النشاط التجاري فيها.

ب - أكتب نقطتين لكل مما يلي : (لكل نقطة درجة)

١- مقومات الهوية العربية . ص ٢٦

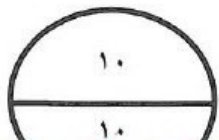
- وحدة الدين / - وحدة اللغة / - التراث / - الأهداف المشتركة

٢- طرق المحافظة على ثروة المياه . ص ٦٣

- ترشيد استخدام المياه والحد من التبذير في المنازل / - الحد من هدر المياه في عمليات الري ، وذلك باستخدام الوسائل الحديثة كالرش بالتنقيط والمحوري / - تنظيم عملية الاستفادة من المياه الجوفية ومنع تسرب الملاح الملوثة إليها واستثمارها على الوجه الأمثل / - تطوير استعمال مياه الصرف الصحي المعالجة في الزراعة / - إقامة البحيرات والسدود لتجميع مياه الأمطار والسيول للاستفادة منها في فصل الجفاف / - توقيع اتفاقيات مع الدول المشاركة ودول المنبع لتحقيق مصالح الدول العربية المعنية.

ج- عرف المصطلح التالي : (درجة)

١- وطن عربي: هو مجموعة الدول العربية التي يجمعها عدد من السمات المشتركة (الدين واللغة) ويمتد ضمن قارتين من أكبر قارات العالم مساحة. ص ٢٢



ملفات الكويت
التعليمية

ثالثا : الأسئلة المقالية :

السؤال الثالث : ويتكون (أ ، ب ، ج) :

(لكل نقطة درجة = ٤ درجات)

(أ) فرق بين كل مما يلي :

سهول ص ٤٢	جبل ص ٣٨
مساحة كبيرة من سطح الأرض تتميز باستوائها ، وقلّة ارتفاعها	هو كل ما ارتفع من الرض وله قمة ارتفاعها عن ١٠٠٠ متر
موارد البشرية ص ١٠٩	موارد الطبيعية ص ١٠٩
هي الثروات التي ترتبط بالسكان من حيث أعدادهم لمساحة الأرض التي يستغلونها .	الثروات التي منحها الله لإقليم من دون أن يكون للإنسان أي دور في وجودها . مثل الثروات المعدنية والغابات والمراعي والمواد المائية وموقع الإقليم .

ب- نفذ المطلوب منك بين الأقواس : (لكل سؤال درجتين)

- ١- المقومات الأساسية للحضارة . ص ٧٣
- الموقع الاستراتيجي / - توافر مصادر المياه العذبة / - واعتدال المناخ / - توافر الثروات الطبيعية / - توافر عنصر بشري.
- ٢- المقومات البشرية للصناعة . ص ١٣٩
- رؤوس الأموال / - الأيدي العاملة / - المهارة والخبرة / - السوق / - وسائل النقل

ج- أكتب مما درست : ص ١٦١

- ١- العقبات التي تواجه الإنتاج الزراعي في الوطن العربي . (درجتان)
- عدم استغلال الأراضي القابلة للزراعة لندرة مياه الري أو تذبذب الأمطار أو قلّة الأيدي العاملة / - اتباع طرق الزراعة التقليدية في معظم أجزاء الوطن العربي . / - زحف المال (التصحر) وانجراف التربة . / - تلوث التربة نتيجة للإسراف في استخدام المبيدات الحشرية وارتفاع نسبة الملوحة بالتربة . / - الرعي الجائر.



رابعاً: الأسئلة المقالية:

السؤال الرابع : ويتكون من (أ، ب، ج) :

أ- قارن بين كل مما يلي حسب الجدول: ص ٣٢ (٦ درجات)

وجه المقارنة	أوبك ص ١٣٤	أوبك ص ١٣٥
العام	١٩٦٠م	١٩٦٨م
المقر	فيينا	الكويت
الأهداف	- حرص على استقرار أسعار النفط في الأسواق العالمية	- تعميق التعاون بين دول العربية في مختلف أوجه النشاط الاقتصادي في صناعة النفط / - تأمين وصول النفط إلى الأسواق الاستهلاكية بشروط وأسعار عادلة / - تسهم في تطوير الصناعات البترولية في جميع المجالات وتبادل الخبرات ولها علاقة تعاون مع منظمة الأوبك

(ب) برهن على صحة العبارة التالية :

(لكل نقطة درجة / يكفي بنقطتين)

١- أكد الشيخ صباح الاحمد " أن القمة العربية الاقتصادية ستكون بوابة الخير " . ص ١٨٦

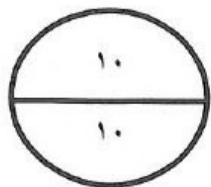
- أن العالم العربي يمر بمرحلة حرجة وتحديات خطيرة لم تعد تقتصر في تهديدها على أمن وسلامة واستقلال الدول العربية ووحدة ترابها الوطني بل تجاوزت تلك الأخطار لتمس الارضاع الاقتصادية والتنموية والاجتماعية والثقافية التي تحيط بحياة وكرامة المواطن العربي وحقه العيش الآمن واللائق .

ج- أجب على السؤال التالي:

(لكل نقطة درجة / يكفي بنقطتين)

١- أذكر أسباب تدني وفرة المياه في الوطن العربي. ص ١٦٤

- النمو السريع للسكان الذي يشكل ضغطاً متزايداً على المياه المتوفرة لكل فرد - ٥٠% من الموارد المائية في العالم العربي تأتي من خارج حدوده وتتحكم فيها دول المنبع في غياب تشريعات دولية تضمن حقوقنا- الطرق التقليدية المستخدمة في استغلال المياه في معظم مناطق العالم العربي مسؤولة عن تدني نسبة المياه (استخدام الري بالغمر والاستهلاك غير المسؤولة في مجالات المياه - الشبكات المؤهلة لنقل المياه شبكات قديمة - افتقار الدول العربية إلى برامج لإدارة المياه كما أنها لا تستخدم الأدوات الاقتصادية اللازمة لترشيد الاستخدام المتزايد من المياه .



"انتهت الأسئلة "

وزارة التربية
الإدارة العامة لمنطقة الجهراء التعليمية
إدارة الشؤون التعليمية
التوجيه الفني للتربية الإسلامية

المادة: تربية إسلامية
الزمن: ساعة ونصف
عدد الأوراق: (٥)
الدرجة: ستون درجة

نموذج إجابة اختبار الفترة الدراسية الثانية
للسف الثامن المتوسط للعام الدراسي (٢٠١٨ - ٢٠١٩ م)

تأكد أن عدد أوراق الاختبار (خمس) ورقات مختلفات ثم أجب عن جميع الأسئلة
الآتية:
عشرة درجات

السؤال الأول: في مجال حفظ الحديث الشريف:

أكمل الأحاديث الشريفة الآتية إلى آخرها:

أ- قال رسول الله - ﷺ -: " المرء على دين خليله فلينظر أحدكم من يخالل " ص ٦٠

ثلاث درجات

ب- عن أبي هريرة - رضي الله عنه - قال: قال رسول الله - ﷺ -: "من اتبع جنازة مسلم إيماناً واحتساباً، وكان معه حتى يصل عليها، وبفرغ من دفنها، فإنه يرجع من الأجر بقيراطين، كل قيراط

مثل أحد، ومن صلى عليها ثم رجع قبل أن تدفن فإنه يرجع بقيراط" ص ١١٦-١١٧ أربع درجات

ج- عن أبي هريرة - رضي الله عنه - قال: قال رسول الله - ﷺ -: "المؤمن القوي خير وأحب إلى الله من المؤمن الضعيف، وفي كل خير، احرص على ما ينفعك واستعن بالله ولا تعجز" ص ١٢٦

ثلاث درجات

السؤال الثاني: في مجال العقيدة:
تسع درجات

(أ) - عدد ثلاثاً من علامات الساعة الصغرى التي ظهرت وما زالت مستمرة: ص ٢٤،

ثلاث درجات

٢٥

١- ضياع الأمانة وإسناد الأمر إلى غير أهله/ اتباع سنن اليهود والنصارى.

٢- ظهور الفتن.

٣- تداعي الأمم على المسلمين.

تابع نموذج إجابة اختبار الفترة الدراسية الثانية- تربية إسلامية- للصف الثامن ٢٠١٨-٢٠١٩م

ثلاث درجات

(ب) أكمل الجمل الآتية بما يتم معناها:

- ١- الموتة الكبرى هي مفارقة الروح الجسد مفارقة تامة. ص ٨٩
- ٢- من علامات الساعة الكبرى الدخان و الدابة/ طلوع الشمس من مغربها/ خسف بالمغرب/ خسف بالمشرق/ خسف بجزيرة العرب/ نزول عيسى ابن مريم - عليه السلام/ يأجوج ومأجوج/ نار تخرج من اليمن / وخروج المسيح الدجال. ص ٨٢

٣- من صفات المسيح الدجال يكتب بين عينيه كافر أو كفر لا يقرؤها إلا المؤمن. ص ٨٣

ثلاث درجات

(ج) لمعرفة علامات الساعة فوائد، اكتب ثلاثاً منها. ص ١٨

- ١- تثبت الإيمان بالغيب واليوم الآخر في قلوب المؤمنين/ تنبيه الغافلين والضالين إلى ما هم مقنمون عليه.
- ٢- توجيه المسلمين على كيفية التصرف حال وقوع هذه العلامات.

٣- إقامة الحجة على المنكرين ليوم القيامة.

ست درجات

السؤال الثالث: في مجال الحديث وعلومه:

- (أ) - "عن ابن عباس- رضي الله عنه- قال: " فرض رسول الله - ﷺ - زكاة الفطر طهرة للصائم من اللغو والرفث، وطعمة للمساكين، من أداها قبل الصلاة فهي زكاة مقبولة، ومن أداها بعد الصلاة فهي صدقة من الصدقات" ص ٣٣

ثلاث درجات

- من خلال فهمك للحديث الشريف السابق: بين الحكمة من مشروعية زكاة الفطر.

١- امتثال لأمر الرسول ﷺ.

٢- تطهير للصائم من اللغو والرفث.

٣- إدخال السرور على الفقراء والمساكين ليفرحوا بالعيد.

- (ب) - عن أبي هريرة - رضي الله عنه- عن النبي - ﷺ - قال: " سبعة يظلهم الله في ظله يوم لا ظل إلا ظله: إمام عادل، وشاب نشأ في عبادة الله، ورجل نكر الله في خلاء ففاضت عيناه، ورجل قلبه معلق في المسجد، ورجلان تحابا في الله، ورجل دعت امرأته من قبله إلى نفسها قال: (إني أخاف الله، ورجل تصدق بصدقة فأخفاها حتى لا تعلم شماله ما صنعت يمينه"

- من خلال فهمك للحديث الشريف السابق، اكتب آثار التحلي بالصفات الواردة في

ثلاث درجات

الحديث على الفرد والمجتمع. ص ٩٤

- ١ - الأمن والاستقرار للمجتمعات. ٢- رسوخ العلاقات القائمة على الحب في الله . ٣ - تكافل وتعاون أفراد المجتمع.

تابع نموذج إجابة اختبار الفترة الدراسية الثانية- تربية إسلامية- للصف الثامن ٢٠١٨-٢٠١٩م

السؤال الرابع: في مجال السيرة والتراجم :-

تسع درجات

(أ) أكمل العبارات الآتية بما يناسبها من كلمات:

ثلاث درجات

- ١- آخر من توفي من أمهات المؤمنين هي السيدة أم سلمة رضي الله عنها. ص ١٠٨
- ٢- من دلائل عداة اليهود للمسلمين في العصر الحالي ترويج الشائعات و احتلال المسجد الأقصى / تدمير الفكر الإسلامي/ التحكم في الاقتصاد العالمي. ص ٣٨
- ٣- انضمت يهود بني قريظة إلى صفوف الأحزاب في غزوة الخندق. ص ٣٦

(ب) صحح ماتحته خط في العبارات الآتية واكتبها بين القوسين:-

ثلاث درجات

- ١- كان عدد زوجات الرسول الله ﷺ - سبع زوجات (إحدى عشرة زوجة) ص ١٠٨
- ٢- تأمر يهود بني قريظة لقتل النبي ﷺ - بإلقاء الصخرة عليه. (بني النضير) ص ٣٦
- ٣- حرّض كعب بن الأشرف أهل العراق لأخذ الثأر من الرسول ﷺ. (مكة) ص ٣٦

(ج) علل ما يأتي:

ثلاث درجات

- ١- تعدد زوجات النبي ﷺ. ص ١١٠
- أ- لتعليم نساء الأمة الشرائع و الأحكام/ ليكن قدوات صالحات للمؤمنات في كل العصور.
- ب- لتخفيف عداة القبائل وتوفير الحماية للدعوة.
- ٢- وصف النبي ﷺ - السيدة زينب بنت جحش - رضي الله عنها- بطول اليد. كناية عن إنفاقها وعطائها. ص ١٠٩

السؤال الخامس : في مجال الفقه:-

تسع درجات

(أ) صنف ما يأتي وفقا للجدول الآتي:

ثلاث درجات

- (ستة ايام من شوال - شهر رمضان - القضاء - يوم عرفة لغير الحاج - صيام التاسع والعاشر من شهر المحرم - النذور والكفارات) ص ٤٢-٤٣

الصوم المقروض	الصوم المسنون
شهر رمضان	ستة ايام من شوال
القضاء	يوم عرفة لغير الحاج
النذور والكفارات	صيام التاسع والعاشر من شهر المحرم

تابع نموذج إجابة اختبار الفترة الدراسية الثانية- تربية إسلامية- للصف الثامن ٢٠١٨-٢٠١٩م

ثلاث درجات (ب) اكتب ثلاثة من أركان صلاة الجنازة: ص ١١٤

١- القيام مع القدرة/ التكبيرات الأربع/ قراءة الفاتحة.

٢- الصلاة على النبي - ﷺ - / الدعاء للميت.

٣- التسليم/ الترتيب.

(ج) بين ما يجب فعله على كلِّ مما يأتي (لفطره في رمضان) بوضع كلمة (القضاء) أو (الفدية) :

ثلاث درجات ص ٥٤

١- المريض الذي لا يرجى شفاؤه. (الفدية)

٢- المسافر. (القضاء)

٣- النفساء. (القضاء)

تسع درجات

السؤال السادس: في مجال التهذيب :-

(أ) ظلل (أ) إذا كانت العبارة صحيحة وظلل (ب) إذا كانت العبارة غير صحيحة فيما يأتي:

ثلاث درجات

١- من وسائل المحافظة على الصديق نصحه ونصره. ص ٦٠ (أ) (ب)

٢- التناوب بالألقاب لا يعد من السخرية المحرمة. ص ١٢١ (أ) (ب)

٣- المسلم يرد الإساءة بالإساءة. ص ١٢٣ (أ) (ب)

(ب) أكمل العبارات الآتية بكلمات مناسبة:

ثلاث درجات

١- للصحة السيئة آثار منها:

١- تبعد عن ذكر الله تعالى ٢- تفسد الأخلاق و السمعة بين الناس ٣- توقع في المعاصي/ تؤدي إلى الهلاك في

الأخرة. ص ٦٢

ثلاث درجات

(ج) وجه نصيحة إسلامية لكل من:

١- طالب يطلق أسماء مسيئة على الآخرين ليضحك عليهم .

هذا تصرف خاطيء، وأنصحه بترك التناوب بالألقاب لأنه من السخرية التي حرمها الله تعالى ص ١٢١

٢- فتاة تختار صديقتها على أساس هبتها ولبسها.

هذا تصرف خاطيء ، وأنصحه بأن تختار صديقتها على أساس العقيدة الإسلامية، والحب في الله تعالى، وحبس

الخلق، ص ٥٩-٦٠

٣- شاب يسيء إلى جيرانه بحجة إيدائهم له.

هذا تصرف خاطيء، وأنصحه بأن يصبر على إيدائهم ويقابل الإساءة بالإحسان. ص ١٢٣

تابع نموذج إجابة اختبار الفترة الدراسية الثانية- تربية إسلامية- للصف الثامن ٢٠١٨-٢٠١٩م

السؤال السابع: في مجال الثقافة الإسلامية :- ثمان درجات

(أ) اكتب ما يأتي:

١- سبباً لتزايد أعداد المتعاطين للمخدرات. (ضعف الوازع الديني/ الصحبة السيئة/ التقليد الأعمى/

ضعف رقابة الأسرة / سهولة الحصول على المخدرات/ ضعف البرامج التوعوية) ص ١٣٠

٢- مظهراً لعناية الإسلام بذوي الاحتياجات الخاصة. (رفع الحرج عنهم/ احترامهم وعدم السخرية

منهم/ تقديم حاجاتهم على من سواهم/ مساعدتهم وقضاء حوائجهم) ص ٦٦

٣- واجباً شرعياً على من ابتلاه الله بإعاقة أو مرض. (الرضا بقضاء الله تعالى/ الصبر والتحمل)

ص ٦٧

٤- ضرراً من أضرار المخدرات في جانب الدين. (التكاسل عن أداء العبادات/ التفريط في حق الله

تعالى) ص ١٢٧

(ب) ١- اكتب المصطلح المناسب لكل عبارة مما يأتي:

١- سلامة البدن والنفس والعقل من العطل والأمراض. (الصحة في الإسلام) ص ١٢٦

٢- أفراد مصابون بقصور في القدرة على التعلم واكتساب المهارات وأداء الأعمال. (ذوي الاحتياجات

الخاصة) ص ٦٥

٣- كل مادة طبيعية أو مصنعة تُذهب العقل البشري جزئياً أو كلياً. (المخدرات) ص ١٢٧

٢- ضع خطأ تحت التكملة المناسبة لكل مما يأتي وذلك مما بين القوسين:

درجة واحدة

١- من أضرار المخدرات تدهور القيم الأخلاقية، وهذا يتعلق بجانب.... ص ١٢٧
(- العقل) - التربية - العلاقات الاجتماعية)

٢- من أصحاب الإعاقات الذي شغل مناصب مهمة منها منصب رئيس الجامعة الإسلامية:

(- الشيخ الألباني - الشيخ ابن باز ص ٦٨ - الشيخ ابن عثيمين)

* انتهت الأسئلة مع دعائنا لكم بالتوفيق والنجاح



وزارة التربية

الإدارة العامة لمنطقة الجهراء التعليمية

التوجيه الفني للتربية الإسلامية

نموذج إجابة

امتحان الفترة الدراسية الثانية

"المنهج الكامل"

الصف الثامن

للعام الدراسي ٢٠١٨/٢٠١٩ م

المجال: التربية الإسلامية

الزمن: ساعة ونصف

عدد الأوراق: ٦

الدرجة: ٦٠

أجب عن جميع الأسئلة بعد التأكد أن عدد الأوراق " ٦ " مختلفات

٩

السؤال الأول – في مجال حفظ الحديث الشريف:

- أكمل كتابة الأحاديث الشريفة الآتية إلى آخرها:

(أ) عن أبي هريرة -رضي الله عنه- أن النبي -صلى الله عليه وسلم- قال: " آية المنافق ثلاث: إذا حدث كذب، وإذا وعد أخلف، وإذا أؤتمن خان " (٣ درجات)

ج ١ ص ١٢٤

(ب) عن أبي هريرة -رضي الله عنه- قال: قال رسول الله - صلى الله عليه وسلم - : " إذا ضيقت الأمانة فانتظر الساعة " قال: وكيف إضاعتها يا رسول الله؟ قال: " إذا أسند الأمر إلى غير أهله فانتظر الساعة ". (٣ درجات)

ج ٢ ص ٢٤

(ج) عن أنس بن مالك - رضي الله عنه - قال: قال رسول الله - صلى الله عليه وسلم - : " إذا أراد الله بعبد خيراً استعمله، فقيل: كيف يستعمله يا رسول الله؟ قال: يوفقه لعمل صالح قبل الموت ". (٣ درجات)

ج ٢ ص ٩٠

السؤال الثاني – في مجال العقيدة:

٩

(أ) ضع علامة (✓) بعد العبارة الصحيحة، وعلامة (x) بعد العبارة غير الصحيحة فيما يأتي:

(٣ درجات)

- ١- الكتب السماوية الموجودة الآن يصدق بعضها بعضاً. (x) ج ١ ص ٢١
- ٢- من أسماء يوم القيامة التي ذكرت في القرآن الكريم يوم الخشوع. (x) ج ١ ص ٨٢
- ٣- كل مُنكر ليوم القيامة كافر خارج عن ملة الإسلام. (✓) ج ١ ص ٨٢

(ب) صنف علامات الساعة الصغرى والكبرى من خلال الجدول التالي: (٣ درجات)

(الدخان – انشقاق القمر – ظهور نار في أرض الحجاز – يأجوج ومأجوج – بعثة النبي ﷺ – الدابة) ج ٢ ص ٢٠-٢٨

علامات الساعة الكبرى	علامات الساعة الصغرى
الدخان	انشقاق القمر
يأجوج ومأجوج	ظهور نار في أرض الحجاز
الدابة	بعثة النبي ﷺ

(٣ درجات)

(ج) اكتب المصطلح الشرعي المناسب بين القوسين، فيما يأتي:

- ١- الأحداث والظواهر التي تقع قبل قيام الساعة. (علامات الساعة) ج ٢ ص ١٨
- ٢- مفارقة الروح الجسد مفارقة تامة. (الموتة الكبرى) ج ٢ ص ٨٩
- ٣- توفيق الله تعالى للعبد قبل الممات إلى الطاعات وأعمال الخير والتوبة من الذنوب. (حسن الخاتمة) ج ٢ ص ٩٢

السؤال الثالث – في مجال الحديث الشريف وعلومه:

أ) عن أنس بن مالك – رضي الله عنه - أن رجلاً دخل المسجد يوم الجمعة من بابٍ كان نحو دار القضاء ورسول الله - صلى الله عليه وسلم - قائم يخطب، فاستقبل رسول الله - صلى الله عليه وسلم - قائماً ثم قال: يا رسول الله: هلكت الأموال وانقطعت السبل فادع الله يُغثنا، فرفع رسول الله - صلى الله عليه وسلم - يديه ثم قال ((اللَّهُمَّ اغْثِنَا، اللَّهُمَّ اغْثِنَا، اللَّهُمَّ اغْثِنَا)) ج ١ ص ٨٧

٦

١. ضع رقم العبارة من المجموعة (أ) أمام ما يناسبه من المجموعة (ب) فيما يأتي:

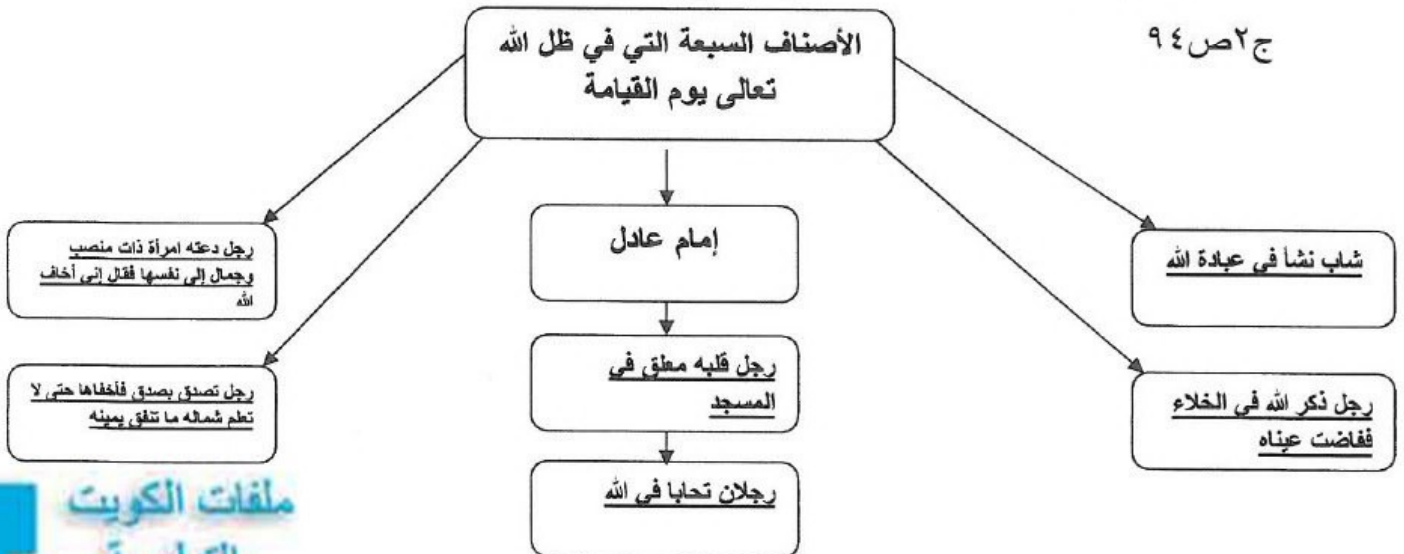
(٣ درجات)

- من آداب الاستسقاء: ج ١ ص ٩٠

(أ)		(ب)
١- قبل الخروج للصلاة	٣	الوقوف في أول المطر ليصيب البدن
٢- بعد الصلاة	٢	يندب قلب الرداء
٣- بعد نزول المطر	١	التوبة وإخراج الصدقة

ب) عن أبي هريرة - رضي الله عنه - عن النبي - صلى الله عليه وسلم - قال: ((سبعة يُظللهم الله في ظلّه يوم لا ظلّ إلا ظلّه: إمامٌ عادلٌ، وشابٌّ نشأ في عبادة الله، ورجلٌ ذكر الله في خلاءٍ ففاضت عيناه، ورجلٌ قلبه معلقٌ في المسجد، ورجلان تحابا في الله، ورجلٌ دعت امرأته ذات مناصبٍ وجمالٍ إلى نفسها قال: إني أخاف الله، ورجلٌ تصدق بصدقة فأخفاها حتى لا تعلم شماله ما صنعت يمينه))

١- من خلال فهمك للحديث الشريف السابق، أكمل المخطط السهمي الآتي: (٣ درجات)



السؤال الرابع- في مجال السيرة والتراجم:

(٣ درجات)

أ) صحح ما تحته خط فيما يأتي ، واكتبه بين القوسين:

١. الانتقال من المسجد الحرام إلى المسجد الأقصى بالجسد والروح هو المعراج. (الإسراء) ج١ ص٣٩
٢. الدابة التي ركبها النبي ﷺ في رحلته هي الجمل. (البراق) ج١ ص٣٩
٣. الملك الذي صاحب الرسول ﷺ في رحلته هو ميكائيل عليه السلام. (جبريل) ج١ ص٣٩

ب) حدّد مؤامرات اليهود على الرسول ﷺ والمسلمين حسب الجدول التالي:

(٣ درجات)

(التآمر على قتل النبي ﷺ - نقض العهود - إثارة الفتن) ج٢ ص٢٦

المؤامرة	الدليل
نقض العهود	انضمام بني قريظة إلى صفوف الأحزاب في غزوة الخندق.
إثارة الفتن	تذكير الأنصار بيوم بعث وحرب الفجار.
التآمر على قتل الرسول ﷺ	تآمر بنو النضير بإلقاء صخرة على الرسول ﷺ

ج) اكتب ثلاثاً من الحكم العامة لتعدد زوجات النبي صلى الله عليه وسلم : ج٢ ص١١٠

(٣ درجات)

١. ليكن قدوات صالحات للمؤمنات في كل العصور.
٢. لتعظيم نساء الأمة الشرائع والأحكام.
٣. لتخفيف عداء القبائل وتوفير الحماية للدعوة.

(٣ درجات)

السؤال الخامس - في مجال الفقه: ج٢ ص٥٠

أ) اكتب ثلاثة شروط لوجوب الصوم، وثلاثة شروط لصحة الصوم وفقاً للجدول التالي:

شروط وجوب الصوم	شروط صحة الصوم
١. الإسلام	١. النية
٢. العقل	٢. الطهارة من الحيض والنفاس
٣. البلوغ	٣. التمييز

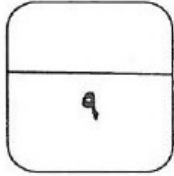
(ب) اختر التكملة المناسبة من بين البدائل، وضع خطأً تحتها فيما يأتي: (٣ درجات)

١. من صلى منفرداً خلف الصف لغير ضرورة فصلاته: (صحيحة - مقبولة - لا تصح) ج١ص٤٧
٢. حكم حضور النساء الجماعة في المسجد : (مكروهة - حرام - جائز) ج١ص٤٧
٣. حكم صلاة العيد: (فرض عين - فرض كفاية - سنة) ص٥٢

(ج) ماذا يفعل من أراد الصلاة على الجنزة في الحالات الآتية: (٣ درجات) ج١ص١١٦

١. من فاتته صلاة الجنزة في المسجد؟ (صلى عليها في المقبرة قبل الدفن أو بعده)
٢. من فاتته بعض التكبيرات في الصلاة على الميت؟ (ما أدركه مع الإمام هو أول صلاته)
٣. إذا مات المسلم في بلد ولم يصل عليه أحد؟ (يصل على صلاة الغائب)

السؤال السادس - في مجال التهذيب:



(أ) أكمل العبارات الآتية بما يتم معناها: (٣ درجات)

١. الكِبْر بَطْر الحق وغمط الناس . ج١ص١١٧
٢. من مظاهر خلق التواضع إقضاء السلام . ج١ص١١٦
٣. ينقسم الغضب إلى قسمين وهما الغضب المحمود والغضب المذموم . ج١ص٥٩

(ب) اكتب كلمة (صح) بعد العبارة الصحيحة، وكلمة (خطأ) بعد العبارة غير الصحيحة فيما يأتي:

- (٣ درجات)
١. التنايز بالألقاب هو مخاطبة الآخرين بأسماء يحبونها. (خطأ) ج١ص١٤١
 ٢. من أساليب التعامل مع الشخص السيء رد الإساءة بالإساءة. ج١ص١٤٣ (خطأ)
 ٣. من وسائل صون اللسان عن المساوىئ تجنب مجالس الغيبة والنميمة. (صح) ج١ص١٤٢

(ج) ما رأيك في كل مما يأتي مع بيان السبب: (٣ درجات)

١. طلب منك صديقك مساعدته في مذاكرة دروسه. ج١ص٦٤
- أساعده وأقدم له ما استطيع (أو نحو ذلك).
٢. أساء إليك أحد أصدقائك أثناء حديثه معك . ج١ص٦٤
- أسامحه على ذلك أبين له خطوه (أو نحو ذلك) .
٣. شاهدت صديق لك يدخن. ج١ص٦٤
- أبين له أضرار التدخين وحكم الإسلام فيها (أو نحو ذلك).

السؤال السابع – في مجال الثقافة الإسلامية:

(أ) استنبط من خلال الآيات الكريمة التالية، حق الوالدين على الأبناء: (٣ درجات)

١. قال تعالى: " يسألونك ماذا ينفقون قل ما أنفقتم من خير فلأولادين ". (الإِنْفَاقَ عَلَيْهِمَا)
٢. قال تعالى: " واخْفِضْ لَهُمَا جَنَاحَ الذُّلِّ مِنَ الرَّحْمَةِ ". (ملاطفتهما وإدخال السرور عليهما)
٣. قال تعالى: " وَقُلْ رَبِّ أَرْحَمُهُمَا كَمَا رَبَّيْتَنِي صَغِيرًا ". (الدعاء لهما)

ج ١ ص ٦٧

(ب) أكمل المخطط السهمي التالي: (٣ درجات)

أنا أعدد بعضاً من مظاهر حقوق الوالدين: ج ١ ص ٧١



-الإتقال عليهما بكثرة الطلبات.

-التخلي عنهما وقت الحاجة.

ج- اكتب الضرر المترتب على الجوانب الآتية جراء تعاطي المسكرات بأنواعها: ج ٢ ص ١٢٧

الضرر	الجانب
التكاسل عن أداء العبادات / التفريط في حق الله تعالى	الدين
فقدان القدرة على التفكير والتركيز	العقل
أمراض جسدية مهلكة / أمراض نفسية	النفس

(٣ درجات)