

سؤال وجواب



ثقتكم سر تفوقنا

ليس لدينا فروع أخرى



مكتبة المشاغل العالمية

الفصل

الأول

٢٠١٣ / ٢٠١٤

الصف : الخامس

المادة : الإجتماعيات

المذكرة لا تباع إلا في أبو حليفة : ق ١ - شارع حاتم الطائي

٢٣٧١٦٢٧١ - ٩٩٨٠٣٩٧٣ - ٦٦٧٥٦٢٠٠



98842807

50826064 - 50826063



معهد ستارز



معهد ستارز

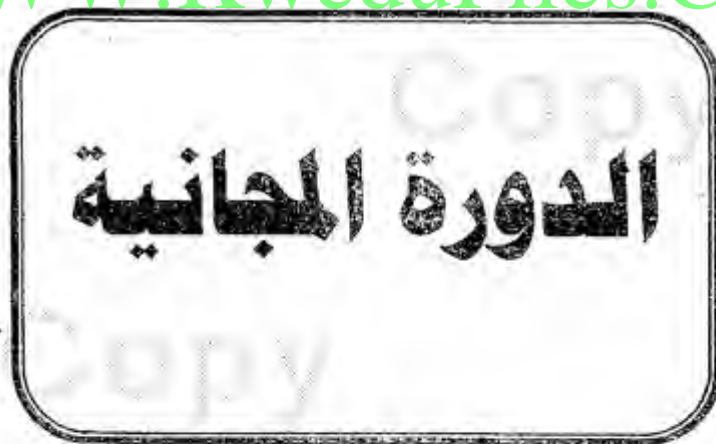
مسؤوليتنا تجاه أبنائك سر تميزنا

تأسيس .. ابتدائي .. متوسط .. ثانوي



مكتبة المشاعر

WWW.KweduFiles.Com



معهد ستارز

طلاب المسائي يومي الجمعة و السبت

سجل في الدورة المجانية وأحصل على الدراسة و المراجعة للفترة الثانية بنصف السعر

البنين من : 06:30 : 08:30

لا نقبل
أعداد إضافية

البنات من : 4:00 : 06:30



98842807



stars_kuwait



@stars_q8_mang

المنقف - ق3 - ش22 - بنايه 26 - خلف حملات الحج والعمرة

مفاهيم جغرافية

القارة :-

مساحة كبيرة من اليابسة تحتوي على مظاهر سطحية متنوعة كالسهول والجبال والتلال والهضاب وتحاط معظمها بالبحار والمحيطات .

- عدد قارات الكرة الأرضية (٧) قارات
- أكبر القارات مساحة : - قارة آسيا .
- أصغر القارات : قارة أستراليا .
- تقع الكويت في قارة آسيا .
- في الجنوب الغربي من قارة آسيا

القشرة الأرضية :-

طبقة سطحية من الأرض يعيش عليها الإنسان والنبات والحيوان ويختلف سمكها من مكان إلى آخر .

WWW.KweduFiles.Com

الموقع النسبي :-

موقع الدولة بالنسبة لكتلي اليابس والماء .

الموقع الفلكي :-

موقع الدولة بالنسبة لخطوط الطول ودوائر العرض .

خط الاستواء :-

دائرة وهمية تنصف الكرة الأرضية لقسمين متساويين شمالي

وجنوبي .



خطوط الطول

خطوط الطول عبارة عن خطوط وهمية وليست حقيقية .
يبلغ عدد خطوط الطول (٣٦٠ خطاً)
١٨٠ خطاً شرق جرينتش و ١٨٠ خطاً غرب جرينتش .
ويقسم الكرة الأرضية إلى قسمين : نصف شرقي ونصف غربي .

أهمية خطوط الطول

تساعد في تحديد مواقع الدول .
وتحديد التوقيت الزمني لأي دولة في العالم .

موقع بلادى

مساحة دولة الكويت (١٧,٨١٨ كلم .)

تقع بين خطي طول (٤٦ - ٤٨)

وبين دائرتي عرض (٢٨ - ٣٠)

وتحدها من الشمال والشمال الغربي جمهورية العراق
ومن الجنوب والجنوب الغربي المملكة العربية السعودية
أما من جهة الشرق فتطل على الخليج العربي .

أهمية موقع الكويت

- تمثل البوابة الشرقية للوطن العربي .
- لموقع دولة الكويت أهمية سياسية واقتصادية منذ القدم
- تقع في وسط قطارات العالم

خط جرينتش :-
خط وهمي يقسم الكرة الأرضية لقسمين متساويين شرقي
وغربي
يبدأ من القطب الشمالي .

المضيق :-
منفذ ضيق من الماء يصل بين مسطحين مائيين

المحيط :-
مساحة كبيرة من المياه تغطي أجزاء من الكرة الأرضية

المحيطات :-
المحيط الهادي المحيط الهندي المحيط الأطلسي
المحيط القطبي الشمالي المحيط القطبي الجنوبي
أكبر المحيطات مساحة :- المحيط الهادي

دوائر العرض

هي خطوط وهمية وليست حقيقية .
يبلغ عدد دوائر (١٨٠ دائرة) ٩٠ دائرة شمال خط الاستواء
و ٩٠ دائرة جنوب خط الاستواء .
يقسم خط الاستواء الكرة الأرضية إلى قسمين نصف شمالي
ونصف جنوبي .
وهي دوائر العرض الرئيسية

أهمية دوائر العرض

تمكن من تحديد المناخ لأي دولة



الدولة المغلقة

هي التي ليس لها منفذ بحري مثل (منغوليا)

الدولة البحرية

هي التي لها منفذ بحري مثل (الكويت)



التضاريس في بلادي

التضاريس : هي وصف لسطح الأرض .

أولا :- أرض الصحراء منبسطة تدريجيا من الغرب إلى الشرق .

تقع على الخليج العربي .

تتكون التضاريس من في بلادي من :-

التلال : - هو مكان مرتفع عن سطح الأرض أقل من الجبل

(تلال اللياح - تلال واره - تلال برقان - تلال قراع الرو)

المنخفضات :- هي مكان منخفض تتجمع فيه مياه الأمطار شتاء

مثل (الروضتين أم العيش وأم الرمم)

الأودية :- مكان منخفض بين جبلين - مثل (وادي الباطن)

الكثبان الرملية : هي تلال من الرمال تتراكم في الصحاري بفعل الرياح

مثل (أم نقا - الهويملية)

السهول :- هي أرض منخفضة قليلة المياه تنمو فيها النباتات الملحية.

(الخيران)

الجزيرة- هي مكان تحيط به المياه من جميع الجوانب .

يوجد في الكويت (٩ جزر) .

أكبر الجزر جزيرة بوبيان يفصلها عن أرض الكويت قناة ضيقة

هي خور عبد الله وخور الصبية .

الرأس :- لسان من اليابسة داخل الماء .
رأس السالمية رأس البرشة رأس الأرض

الخور :- لسان من الماء داخل اليابسة .

(خور الصبية خور عبد الله)

والبحون :- هو الخليج الصغير الذي يتوسط ساحل دولة الكويت
وهو محمية طبيعية دافئة تتكاثر فيه الأسماك .

WWW.KweduFiles.Com

كتبان رمليّة

منخفضات

سبخات

أودية جافة

تلال

عناصر المناخ

أولا حالة الجو ليست ثابتة بسبب دوران الأرض حول الشمس مما
يؤدي إلى تتابع الفصول الأربعة
(الشتاء الربيع الصيف الخريف)

عناصر المناخ :-

٣- الحرارة

٢- الرطوبة

١- الضغط

٥- الأمطار

٤- الرياح

٦-



الأقاليم المناخية

بم تتميز صحراء شبه الجزيرة العربية .

صفات / مميزاته	الإقليم	المناخي
حار ممطر طول العام	الاستوائي	١-
حار جاف صيفا دافئ ممطر شتاء	الصحراوي	٢-
معتدل دافئ ممطر شتاء	المعتدل (البحر المتوسط	٣-
متجمد طوال العام .	القطبي	٤-

WWW.KweduFiles.Com

المواسم المناخية

بم تتميز صحراء شبه الجزيرة العربية ؟
تتميز صحراء شبه الجزيرة العربية بجوها البارد .
وساعد ذلك سكانها في



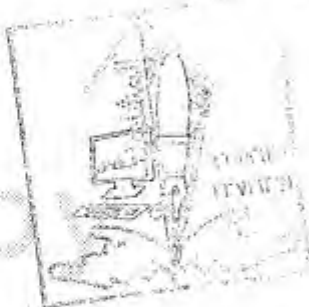
- ١/ التميز بعلم الفلك .
- ٢/ ومعرفة مواقع النجوم .
- علل أهمية النجوم .
- ١/ معرفة الجهات الأربع .
- ٢/ معرفة أحوال المناخ .

علل أهمية معرفة أحوال المناخ قديما .
 لتجنب أوقات الرياح الشديدة على السفن .
 أشهر علماء الفلك ؟
 الدكتور صالح العجيري .

المواسم المناخية في دولة الكويت

المواسم المناخية	مدته	صفاته
سهيل	٥٢ يوماً	ينكسر الجو ، تنخفض درجة الحرارة
الوسم	٥٢ يوماً	بداية الأمطار، ويكثر بالفقع ووفرة الخضرة .
المربعانية	٤٠ يوماً	شدة البرودة ، وانخفاض درجة الحرارة لمدة أربعين يوم
الثريا	٣١ يوماً	تظهر فيه رياح البوارح .
الجوزاء	٣١ يوماً	تظهر فيه رياح السموم حيث تكون شديدة الحرارة .
المرزم	٣١ يوماً	يتميز باستمرار الحرارة وبداية الرطوبة


علل تسمية موسم المربعانية بهذا الاسم .
 لأن مدته أربعين يوماً .




علل ظهور الفقع في موسم الوسم .
 بسبب سقوط الأمطار .
 بم يتميز موسم المربعانية؟

يتميز بشدة البرودة

حيوانات في بلادنا



أسماك



ثدييات



حشرات



طيور

الحقائق

- البيئة الكويتية تزخر بحيوانات عديدة منها البرمائيات والزواحف والطيور والثدييات والأسماك والحشرات.

- اختلاف درجة الحرارة في الكويت له أثره على الحيوانات وتكيفها مع البيئة.



نشاط [١]

١- ما اسم الحيوان الذي يعرف باسم سفينة الصحراء نتيجة تكيف مع فقر الصحراء؟
- الجمل

Copy

Copy

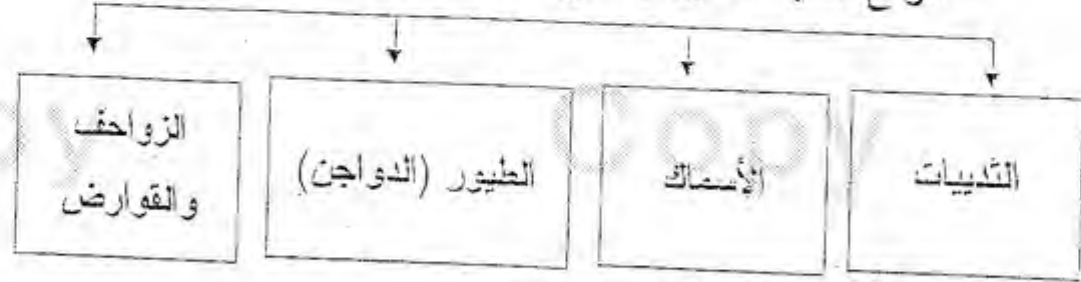
٢ - حيوان يعيش في أعلى الجبال والسهول والواحات والصحاري هو:
- الماعز.



ماعز

٣ - أكمل المخطط السهمي التالي:

- أنواع الحياة الحيوانية في دولة الكويت:



جربوع



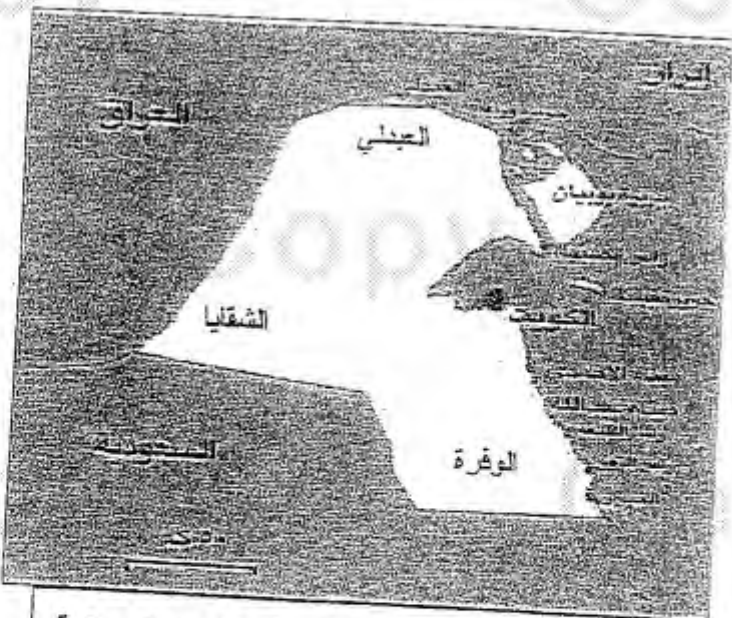
ديك



سمكة



خروف



خريطة الكويت للمناطق الرعوية والثروة الحيوانية

نشاط [٢]



□ عرف المفاهيم الآتية:

- الرعي الجائر: هو الإفراط في الرعي الذي يتسبب في أضراراً في البيئة الحيوية.

- التصحر: امتداد تأثير الصحراء على المناطق الرعوية والزراعية.

□ اذكر أحد أسباب ظاهرة التصحر في دولة الكويت؟

أ- استخدام الرعي الجائر.

ب- الاستخدام السيئ للإنسان مثل مرور السيارات.

□ اقترح حلاً لمشكلة التصحر في دولة الكويت؟

سن القوانين الصارمة في المحافظة على النبات الطبيعي مثل: فرض

عقوبات على الاستخدام السيئ للإنسان

□ أما هو دور دولة الكويت في الحفاظ على البيئة الحيوية سواء للنبات

الطبيعي أو الحياة الحيوانية؟ تعاون مع زملائك في البحث عن إجابة

السؤال؟

١. وضع النوائح والقوانين التي تساعد على تحديد أنواع الصيد وفترات

الصيد.

٢. إنشاء الهيئة العامة لشئون الزراعة والثروة السمكية عام ١٩٨٣م.

٣. تقديم الإرشادات الزراعية والحيوانية والدعم المادي لهم لزيادة

الإنتاج.

٤. توفير الرعاية البيطرية وتوفير الأعلاف بأسعار رمزية.



- ما هو المصدر الرئيسي لغذاء الحيوانات البرية أو الطيور.



- النباتات الطبيعية.

- سمى ثلاث من الحيوانات التي تستجيب للظروف المناخية القاسية في

دولة الكويت؟

(١) الأغنام. (٢) الماعز. (٣) الإبل.

- انظر الصورة التي أمامك ثم أجب عن السؤال التالي




حيوانات تتغذى على النباتات

www.KweduFiles.Com

□ حلل اختلاف النباتات الطبيعية في تلك المنطقة.

بسبب تغذي الحيوانات على النباتات في المنطقة

نشاط [٣]



أرض أصابها التصحر بسبب تغذي الحيوانات على النباتات

الوحدة الخامسة: "حكام من بلادنا"



الشيخ صباح الأحمد الصباح
أمير دولة الكويت

□ اختر الإجابة الصحيحة:

- ترتيب الشيخ صباح الأحمد الصباح بين

حكام دولة الكويت هو:

(١٢ - ١٣ - ١٤ - ١٥)



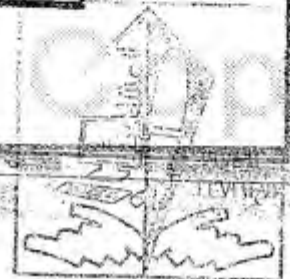
□ لاحظ الصورة التالية ثم اكتب تعليقا مناسباً على كل صورة:



- تم تصدير أول شحنة نفط
كويتي عام ١٩٤٦م.



- منح الشيخ أحمد الجابر
الصباح حق التنقيب عن
النفط للشركات الأجنبية





الشيخ أحمد الجابر الصباح

نشأته [١]

تعاون مع زملائك في كتابة أهم الأحداث التاريخية في عهد الشيخ أحمد الجابر الصباح؟

١. قيام أول مجلس شعوري في الكويت عام ١٩٢١م.

٢. افتتاح المدرسة الأحمدية عام ١٩٢١م.

٣. اكتشاف أول بئر نفطي في بحرة عام ١٩٣٦م.

٤. تم تصدير أول شحنة نפט للخارج عام ١٩٤٦م.

www.KweduFiles.Com

لما انقضى الاتفاقية أمارة النفط:
- اعطاء الدولة حق البحث والتنقيب عن النفط وبيعه لشركات أجنبية متخصصة.

متى تم تغير اسم دولة الكويت بدلاً من إمارة الكويت؟

- في عهد الشيخ أحمد الجابر الصباح.





الشيخ عبد الله السالم الصباح

١- اكتب أهم إنجازات الشيخ عبد الله السالم الداخلية والخارجية:

الإنجازات الخارجية	الإنجازات الداخلية
- إلغاء معاهدة الحماية عام ١٨٩٩م.	- رفع علم دولة الكويت الحالي.
- انضمام للجامعة العربية عام ١٩٦١م.	- صدور عملة جديدة وهي الدينار الكويتي.
- انضمام لهيئة الأمم المتحدة عام ١٩٦٣م.	- افتتاح مجلس الأمة عام ١٩٦٢م.
- حسن الجوار مع الدول المجاورة دولة الكويت.	

WWW.KyveduFiles.Com

٢- عرف المفاهيم الآتية:

الدستور: وثيقة مكتوبة تتكون من مجموعة من المواد التي تنظم العلاقة بين الحاكم والمحكوم وتنظم حقوق وواجبات المواطنين.

الاستقلال: مسؤولية الدولة بصورة مباشرة عن إدارة شؤونها الداخلية والخارجية.

٣- عطل: احتفال دولة الكويت بالعيد الوطني كل عام في ٢٥ فبراير.

- لأن تاريخ ٢٥ فبراير هو تاريخ جلوس الشيخ عبد الله السالم على كرسي الحكم وذلك تكريماً له.

- ١- صنف الأحداث التاريخية التي قام بها الشيخ عبد الله السالم حسب نوعها داخلياً أو خارجياً.
- تأسيس شركة البترول الوطنية
- إعداد والتصديق على الدستور الكويتي.
- الانضمام للجامعة العربية.
- إلغاء معاهدة الحماية مع بريطانيا.

أحداث خارجية	أحداث داخلية
- الإضمام للجامعة العربية.	- تأسيس شركة البترول الوطنية.
- إلغاء معاهدة الحماية مع بريطانيا.	- إعداد والتصديق على الدستور الكويتي.



WWW.KweduFiles.Com

٢- افكر بعض الألقاب للشيخ عبد الله السالم الصباح.

١- أبو الاستقلال.

٢- أبو الدستور.

٣- اختر من المجموعة (ب) ما يناسب المجموعة (أ) وذلك بوضع

الرقم في المكان المناسب:

المجموعة (ب) الأحداث	الرقم المناسب	المجموعة (أ) (العام)	الرقم
- انضمام دولة الكويت لهيئة الأمم المتحدة.	(٣)	١٩٦١م	١
- رفع علم الكويت الحالي وصدور العملة الجديدة.	(١)	١٩٦٢م	٢
- إنشاء المجلس التأسيسي.	(٢)	١٩٦٣	٣

أولا : أكمل العبارات التالية بكلمات مناسبة :

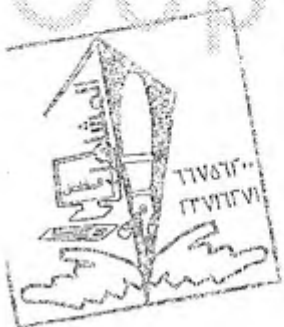
1. اكبر المحيطات مساحه المحيط الهادي....
2. تقع دولة الكويت بالنسبه لقارة اسيا في جهة الغرب.....
3. اصغر القارات مساحه قارة استراليا.....
4. اكبر القارات مساحه قارة اسيا.....
5. عدد قارات الكرة الارضية 7 قارات.....
6. يبلغ عدد دوائر العرض 180 دائرة.....
7. يبلغ عدد خطوط الطول 360 خطا.....
8. يسمى موقع دولة الكويت بالنسبه للنيابس والماء الموقع النسبي.....
9. الدول تختلف من حيث مساحتها.....
10. يتوسط ساحل دولة الكويت خليج صغير يعرف باسم جون الكويت.....
11. اكبر الجزر الكويتيه مساحه هي جزيرة بوبيان.....
12. لسان من الماء يمتد داخل اليابس يعرف الخور.....



ثانيا : على خريطة العالم الموجودة في الكتاب المدرسي ص 11 اكتب عليها أسماء قارات العالم.

ثالثا : اكمل الجدول التالي :

المحيطات	القارات
1- المحيط الاطلسي	1. اسيا
2- المحيط الهادي	2. افريقيا
3- المحيط الهندي	3. اوروبا
4- المحيط القطبي الجنوبي	4. امريكا الشماليه
5- المحيط القطبي الشمالي	5. امريكا الجنوبيه
	6. استراليا
	7. القارة القطبيه الجنوبيه



بما : اذكر اهميه كلا من :

خطوط الطول ؟

1. تساعد في تحديد مواقع الدول على الخريطة

2. تحديد التوقيت الزمني لأي دولة في العالم

دوائر العرض؟

1. تحديد نوع المناخ لأي دولة في العالم

مسا : اجيب على الاسئلة الاتيه :

عدد مميزات دولة الكويت ؟

1. يتوسط قارات العالم

2. تمثل البوابة الشرقية للوطن العربي

3- لها اهمية سياسية واقتصادية منذ القدم .



WWW.KweduFiles.Com

عدد أسماء القارات التي يمر بها خط جريتشن ؟

3. إفريقيا

2. أوروبا

3. القارة القطبية الجنوبية

اسما : تعرف المفاهيم التالية :

1. الرأس : جزء من اليابس داخل في الماء

2. الخور : لسان من الماء يمتد داخل اليابس

3. السبخات : أراضي منخفضة قليلة المياه تنمو فيها النباتات الملحية

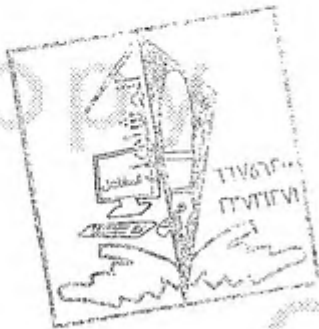
4. الكثبان الرملية : تلال من الرمال تتراكم في الصحاري بفعل الرياح

5. الدولة البحرية : الدولة التي لها منفذ بحري

6. الدولة المغلقة : الدولة التي يحيط بها اليابس من جميع الجهات

7. الموقع الفلكي : موقع الدولة أو القارة بالنسبة لخطوط الطول ودوائر العرض

8. الموقع النسبي : موقع الدولة بالنسبة لكتلتا اليابس



عناصر المناخ : ص 26

فرق بين مفهومي الطقس والمناخ من حيث التعريف

المناخ	الطقس
حالة الجو خلال فترة زمنية طويلة .	حالة الجو خلال فترة زمنية قصيرة يوم أو عدة أيام .

* عدد عناصر المناخ بأكمل المخطط السهمي التالي :

الحرارة	الضغط	الرطوبة	الرياح	الأمطار
.....

*- الفائدة التي نحققها هند سماعنا لأرصاد الجوية :
!- تفيدنا في الرحلات والنزهات (البرية والبحرية والجوية)
ب- لتجنب العواصف الشديدة .

WWW.KweduFiles.Com

• - علل لما يأتي :

- الحذر من التحدث بالهاتف النقال أثناء الأمطار الرعدية (لكي لاتحدث صاعقة كهربائية)
- يوضع جهاز مانع الصواعق فوق المباني العالية . (لمنع الصواعق البرقية وعدم الاحتراق)

• أكمل الفراغات التالية بكلمات مناسبة :

- 1- يبدأ سقوط المطر في الكويت في شهر نوفمبر 11 .
- 2- تعرف الأمطار الرعدية التي تسقط في مارس وابريل ومايو باسم السراريات .

العوامل المؤثرة في مناخ بلادى ص 28 :

- 1- اختلاف المناخ بين مناطق العالم يرجع الى 3 أسباب وهي :
أ- الموقع بالنسبة لدوائر العرض .
ب- توزيع اليابس والماء .
ت- الارتفاع عن مستوى سطح البحر .

• عدد المناطق المناخية في العالم 3

- قسم العالم إلى مناطق مناخية حسب قربها أو بعدها عن خط الاستواء .
- دوائر النصف الشمالي تتطابق مع دوائر النصف الجنوبي للكرة الأرضية .
- تقع دولة الكويت ضمن المنطقة الحارة الصحراوية .
- تمتد الكويت بين دائرتي عرض 28 – 30 شمال خط الاستواء .
- الإقليم الذي يمتاز بسقوط الأمطار والرطوبة والحرارة العالية طوال (الإقليم الاستوائي)
- الإقليم الذي يمتاز بالجفاف والحرارة العالية في فصل الصيف والأمطار في فصل الشتاء (الإقليم الصحراوي)
- الإقليم الذي يمتاز باعتدال الجو والأمطار في فصل الشتاء (الإقليم المعتدل والبحر المتوسط)
- الإقليم الذي يمتاز بشدة البرودة (جليد) والأمطار طول العام (الإقليم القطبي)

المواسم المناخية في بلادنا ص 30 :

علل لما يأتي - اهتمام الكويتيين بمعرفة مواقع النجوم وأحوال المناخ منذ القدم .
1- لمعرفة الاتجاهات الأصلية
2- لمعرفة أحوال المناخ وتجنب الرياح الشديدة على السفن .

أكمل الفراغات التالية :

- 1- البوارح رياح مغيرة تهب في فصل الصيف .
- 2- الوكالة التي أشادت بجهود العرب في مجال الفضاء وكالة ناسا .

اسم الموسم	الجو السائد فيه
1- سهيل	1- ينكسر الحر وبداية انخفاض درجات الحرارة
2- المربعانية	2- شدة البرودة لمدة 40 يوم .
3- الوسم	3- بداية الأمطار وظهور الفقع ووفرة الخضرة بالصحراء .
4- المرزم	4- استمرار الحرارة وبداية الرطوبة .
5- الثريا	5- البوارح حيث يثار فيها الغبار .
6- الجوزاء	6- رياح السموم حيث تكون الرياح شديدة الحرارة .

فسر المثل : (اذا ظهر المرزم شد المحزم)
أي بداية ظهور البلح

علل لما يأتي : 1- تسمية موسم المربعانية بهذا الاسم ؟

(3)

- لاستمرار البرد لمدة 40 يوم .

2- تسمية رياح السموم بهذا الاسم ؟

- بسبب الرياح شديدة الحرارة .

3- تميز العرب بعلوم الفلك ؟

- لصفاء جو شبه الجزيرة العربية .

4- ظهور الفقع في بعض المواسم ؟

- لكثرة سقوط المطر .

5- تسمية فترة ظهور المرزم بجمرة الغيظ ؟

- لشدة الحرارة .



WWW.KweduFiles.Com
النبات الطبيعي في بلادنا من ص 34 :

*ما الظروف المناخية المؤثرة على شكل الغطاء النباتي في دولة الكويت ؟

1- ارتفاع درجة الحرارة

2- قلة الأمطار

3- كثرة العواصف الترابية

4- ارتفاع نسبة التبخر

* فرق بين مفهومي نباتات حولية ونباتات معمرة من حيث التعريف :

نباتات دائمة (معمرة)	نباتات حولية (موسمية)
هي نباتات ذات جذور عميقة تعيش فترة زمنية طويلة تزدهر في فصل الربيع .	هي نباتات تتكاثر بعد سقوط الأمطار وتكمل دورة حياتها في فترة زمنية قصيرة .

* اختلاف تنوع النباتات يرتبط باختلاف طبيعة التربة والبعد عن البحر .

* عدم وجود تضاريس مختلفة كالمرتفعات العالية والوديان الواسعة يجعل الغطاء النباتي ضعيفا في الكويت .

• حيوانات في بلادى ص 38 :

أنواع الحياة الحيوانية في دولة الكويت

الثدييات الأسماك الطيور الحشرات والعناكب الزواحف والقوارض

- خريطة المناطق الرعوية في دولة الكويت (انظر الكتاب ص 40)
- عرف المفاهيم التالية : (4)
- الرعي الجائر : (هو الإفراط في الرعي دون دراسة أو تخطيط)
- التصحر : (هو زحف رمال الصحراء على المناطق الرعوية والزراعية)

* علل : الاختفاء الكامل للنباتات الطبيعية في الصحراء (بسبب الرعي الجائر)

WWW.KweduFiles.Com

- اكمل الفراغات التالية :
- من أسباب ظاهرة التصحر الرعي الجائر .
- أكثر الحيوانات استجابة للظروف المناخية حيوانات المراعي
- تعتبر مصدرا غذائيا مهما لأنواع عديدة من الحيوانات البرية والطيور النباتات الطبيعية

• ما دور الدولة في الحفاظ على البيئة الحيوية في دولة الكويت سواء للنبات الطبيعي أو للحياة الحيوانية :

- 1- توفير الرعاية البيطرية وتوفير الأعلاف بأسعار رمزية
- 2- إنشاء الهيئة العامة لشؤون الزراعة والثروة السمكية عام 1983 م
- 3- تقديم الإشارات الزراعية والحيوانية والدعم المادي لهم لزيادة الانتاج
- 4- منع الرعي الجائر واستزراع الصحراء .

* حلولا لمعالجة ظاهرة التصحر :

- 1- منع الرعي الجائر
- 2- استزراع الصحراء
- 3- توفير المياه لاستصلاح الصحراء .



حاكم من بلادي (الشيخ أحمد الجابر الصباح) الحاكم العاشر لدولة الكويت ص 44

- تولى الحكم بعد وفاة عمه الشيخ سالم المبارك الصباح
- من أهم الأحداث في عهده :
- 1- قيام أول مجلس للشورى في دولة الكويت 1921 م
- 2- افتتاح المدرسة الأحمدية 1921 م
- 3- منح امتياز التنقيب عن النفط للشركات الأجنبية عام 1934 م .
- 4- تصدير أول شحنة من النفط 1946 م .
- 5- اكتشاف أول بئر نفطي في منطقة بحرة 1936م ، وأول بئر منتجة في منطقة برقان 1938م .
- 6- جعل من الكويت دولة بدلا من إمارة .

(5)

• امتياز التنقيب عن النفط يعنى : إعطاء الدولة حق البحث والتنقيب عن النفط وبيعه لشركة أجنبية ، تشارك الدولة في قسط من العائدات المالية لمدة معينة .

• حاكم دولة الكويت الذي وقع اتفاقية امتياز النفط هو الشيخ أحمد الجابر الصباح .



WWW.KweduFiles.Com

* ترتيب الأحداث التاريخية :

- 1- المدرسة الاحمدية 1921م
- 2- امتياز التنقيب عن النفط 1934م
- 3- اكتشاف حقل برقان 1938 م
- 4- تصدير النفط 1946م

• بصمة حياتك في تاريخ الكويت (الشيخ عبدالله السالم الصباح) الحاكم الحادي عشر ص 46

- تولى الحكم بعد وفاة ابن عمه الشيخ أحمد الجابر الصباح .
- الدستور هو : وثيقة مكتوبة تتكون من مجموعة من المواد التي تنظم العلاقة بين الحاكم والمحكوم وتحدد حقوق وواجبات المواطنين نحو وطنهم .
- الاستقلال هو : عبارة عن مسؤولية الدولة بصورة مباشرة عن إدارة شؤونها الداخلية والخارجية .
- حصلت الكويت على استقلالها في 1961 / 6 / 19 م
- لقب الشيخ عبدالله السالم الصباح ب أبو الاستقلال وأبو الدستور .

علل / تحتفل دولة الكويت بالعيد الوطني كل عام في 25 فبراير ؟
(تكريما للشيخ عبدالله السالم لجلوسه على كرسي الحكم في 25 فبراير)

• إنجازات التي قام بها الشيخ عبدالله السالم داخليا وخارجيا

الانجازات الخارجية	الانجازات الداخلية
1- إلغاء معاهدة الحماية 1899 م واستبدالها بعاهدة تعاون وصداقة 1961 مع بريطانيا .	1- رفع العلم الجديد لدولة الكويت .
2- الانضمام للجامعة العربية 1961م.	2- صدور عملة جديدة هي الدينار الكويتي .
3- الانضمام لهيئة الأمم المتحدة 1963 م	3- إنشاء المجلس التأسيسي 1962م
4- التوسع في نشر الخدمات التعليمية في دول الخليج العربية .	الدستور الكويتي والتصديق عليه
5- الحرص على حسن الجوار مع الدول القريبة من الكويت	4- إجراء أول انتخابات نيابية وافتتاح مجلس الأمة 1963 م

* الشيخ صباح السالم الصباح (الحاكم الثاني عشر لدولة الكويت) ص 48

- لقب الشيخ صباح السالم بـ،، أبو الجميع ،،
- تولى الحكم بعد وفاة أخيه الشيخ عبدالله السالم عام 1965 م
- يتميز الشيخ صباح السالم (بإنسانيته وتواضعه وبساطته وحبه للخير وتسخير طاقاته لدولة الكويت وأهلها .

• أهم الأحداث في عهد الشيخ صباح السالم الصباح :

- 1- افتتاح جامعة الكويت 1966 م
- 2- اعتداء النظام العراقي على مركز الصامخة الحدودي عام 1973 م
- 3- امتلاك الدولة لشركات النفط العاملة في أراضيها 1975 م
- 4- إنشاء مؤسسة الكويت للتقدم العلمي 1976 م
- 5- عقد اتفاقيات اقتصادية مع دول الخليج العربي.
- 6- اشتراك الكويت في العديد من المنظمات والهيئات العالمية .



Copy ٧٢

((اختبار الفترة الدراسية الأولى))

((النموذج الأول))

السؤال الأول: أكمل العبارات التالية بما يناسبها

- ١) مساحة كبيرة من اليابس تحتوي على مظاهر سطحية متنوعة كالسهول والجبال والتلال والهضاب وتحاط معظمها بالبحار والمحيطات تسمى القارة
- ٢) خط وهمي يقسم الكرة الأرضية لقسمين متساويين شرقي وغربي يبدأ من القطب الشمالي إلى القطب الجنوبي يسمى خط جرينتش
- ٣) يحد دولة الكويت من جهة الشمال والشمال الغربي دولة تسمى العراق
- ٤) من أهم التلال في الكويت جال الزور واللياح و كراع المرو
- ٥) لسان من الماء ممتد في اليابس يسمى ميجون
- ٦) تعتبر السرايات من أنواع الأمطار الرعديّة
- ٧) أراض منخفضة قليلة المياه تنمو فيها النباتات الملحية تسمى السبخات
- ٨) لسان من اليابس ممتد في الماء يسمى رأس
- ٩) الأمطار الرعدية التي تسقط على الكويت في مارس وأبريل ومايو تسمى السرايات
- ١٠) تتحدر أرض الكويت من جهة الغرب
- ١١) طبقة سطحية من الأرض يعيش عليها الإنسان والحيوان والنبات ويختلف سمكها من مكان إلى آخر تسمى القشرة الأرضية
- ١٢) مساحة كبيرة من المياه تغطي أجزاء من الكرة الأرضية تسمى المحيط
- ١٣) يمكن تحديد ماقه الدهل على الخريطة وتحديد التوقيت الزمني من خلال ما يسمى خطوط الطول
- ١٤) موقع الدولة بالنسبة لكتلتَي اليابس والماء يسمى الموقع النسبي
- ١٥) خط وهمي يقسم الكرة الأرضية لقسمين متساويين شرقي وغربي يبدأ من القطب الشمالي إلى القطب الجنوبي يسمى جرينتش



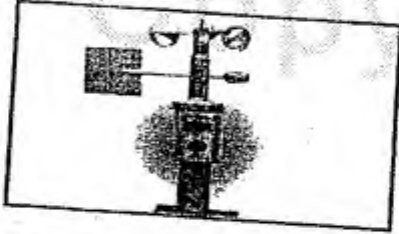
- (١٦) موقع الدولة بالنسبة لخطوط الطول ودوائر العرض يسمى الموقع الفلكي
- (١٧) منفذ ضيق من الماء يصل بين مسطحين مائيين يسمى المضيق
- (١٨) مساحة كبيرة من المياه تغطي أجزاء من الكرة الأرضية تسمى المحيط
- (١٩) تقع القارة القطبية الجنوبية (أنتاركتيكا) بالنسبة للكرة الأرضية باتجاه الجنوب
- (٢٠) القناة المائية التي تربط بين البحر الأبيض المتوسط والبحر الأحمر تسمى قناة السويس
- (٢١) المضيق الذي يربط بين الخليج العربي وخليج عمان يسمى مضيق هرمز
- (٢٢) المضيق الذي يربط بين قارتي أفريقيا وأوروبا يسمى جبل طارق
- (٢٣) يقع المحيط القطبي الشمالي بالنسبة لقارة أوروبا وآسيا باتجاه الشمال

السؤال الثاني : اختر البديل المناسب من بين البدائل التالية

- (١) تبلغ مساحة دولة الكويت حوالي :
- * ١٨,٨١٨ كم * ١٧,٨١٨ كم * ١٦,٨١٨ كم * ١٥,٨١٨ كم
- (٢) يقسم الكرة الأرضية إلى نصفين شمالي وجنوبي وهي دائرة العرض الرئيسية
- * خط جرينتش * خط الاستواء * مدار الجدي * مدار السرطان
- (٣) القناة التي تربط بين أمريكا الشمالية وأمريكا الجنوبية
- * قناة بنما * قناة السويس * قناة ملقا * قناة طارق
- (٤) تبرز بعض التلال في دولة الكويت ومنها :
- * جال الزور واللياح والروضتين
- * جال الزور وكراع المرو ووادي الباطن
- * اللياح وأم العيش وأم الرمم
- * كراع المرو وجال الزور واللياح ✓



* سبخات * تلال *



* اتجاه وسرعة الرياح ✓

* الحرارة

* الرطوبة

* الضغط

(٧) تظهر بعض المنخفضات في أرض الكويت ومنها :

* أم العيش وأم الرمم وكراع المرو

* الروضتين واللياح وأم الرمم

* الروضتين وجال الزور واللياح

* الروضتين وأم العيش وأم الرمم ✓




* قياس المطر

* مقياس الحرارة

(٨) الصورة التالية تعبر عن جهاز :

* مقياس الضغط ✓ * مقياس الرطوبة



* خور

* جزيرة

(٩) الصورة التالية تمثل :

* رأس ✓

* جون

(١٠) أكبر قارات العالم مساحة تسمى :

* قارة أستراليا

* قارة أفريقيا

* قارة أوروبا

* قارة آسيا ✓

(١١) أصغر قارات العالم مساحة تسمى :

* قارة أستراليا ✓

* قارة أفريقيا

* قارة أوروبا

* قارة آسيا

١٢) أكبر المحيطات مساحة يسمى :
* المحيط الهندي * المحيط الهادي * المحيط الأطلسي * المحيط القطبي الجنوبي

١٣) تقع دولة الكويت في قارة تسمى :

* أوروبا * أفريقيا * آسيا * أستراليا

١٤) تطل قارة آسيا على المحيطات التالية :

* الهادي - الهندي
* الأطلسي - الهادي
* الهادي - القطب الجنوبي
* الهادي - القطب الشمالي

١٥) تطل قارة أمريكا الجنوبية على المحيطات التالية :

* الهادي - الهندي
* الأطلسي - الهادي
* الهادي - القطب الجنوبي
* الهادي - القطب الشمالي

١٠) يطل المحيط القطبي الجنوبي على القارات التالية :

* أوروبا - آسيا
* أستراليا - أفريقيا
* أوروبا - أستراليا
* أفريقيا - أمريكا الجنوبية

السؤال الثالث : ما الفرق بين كل من

الموقع النسبي	الموقع الفلكي
هو موقع الدولة بالنسبة لكتلتي اليابس والماء	هو موقع الدولة بالنسبة لخطوط الطول ودوائر العرض

السؤال الرابع: ضع علامة (√) أمام العبارة الصحيحة وعلامة (×) أمام العبارة غير الصحيحة

م	العبارة	الإجابة
١	يعتبر خط الاستواء خط حقيقي يمكن مشاهدته إذا ذهبنا إلى منتصف الكرة الأرضية	×
٢	تعتبر دولة الكويت من الدول التي لها منفذ بحري	✓
٣	تقع دولة الكويت في قارة أفريقيا	×
٤	تسقط الأمطار على الكويت في شهر يونيو	×
٥	تقع وتكثر الكثبان الرملية في جنوب الكويت	✓
٦	تعتبر الحرارة والرطوبة من عناصر المناخ	✓
٧	يعتبر سهل الدببة من أهم سهول الكويت	✓
٨	الحاجة إلى النشرة الجوية أصبحت حالة ضرورية	✓
٩	مساحة المسطحات المائية أكبر بكثير من مساحة اليابس	✓
١٠	الدولة التي لها منفذ بحري تسمى الدولة البحرية	✓
١١	يعتبر المحيط الهندي أكبر المحيطات مساحة	×

السؤال الخامس: تخيل نفسك على متن سفينة تجارية قديمة ، تبحر متجهة من الكويت إلى الهند وأنت النوخذة فيها ، فما هو سير خطك للوصول إلى الهند (اذكر المسطحات المائية التي تمر بها)



(١) الخليج العربي

(٢) خليج عمان

(٣) بحر العرب

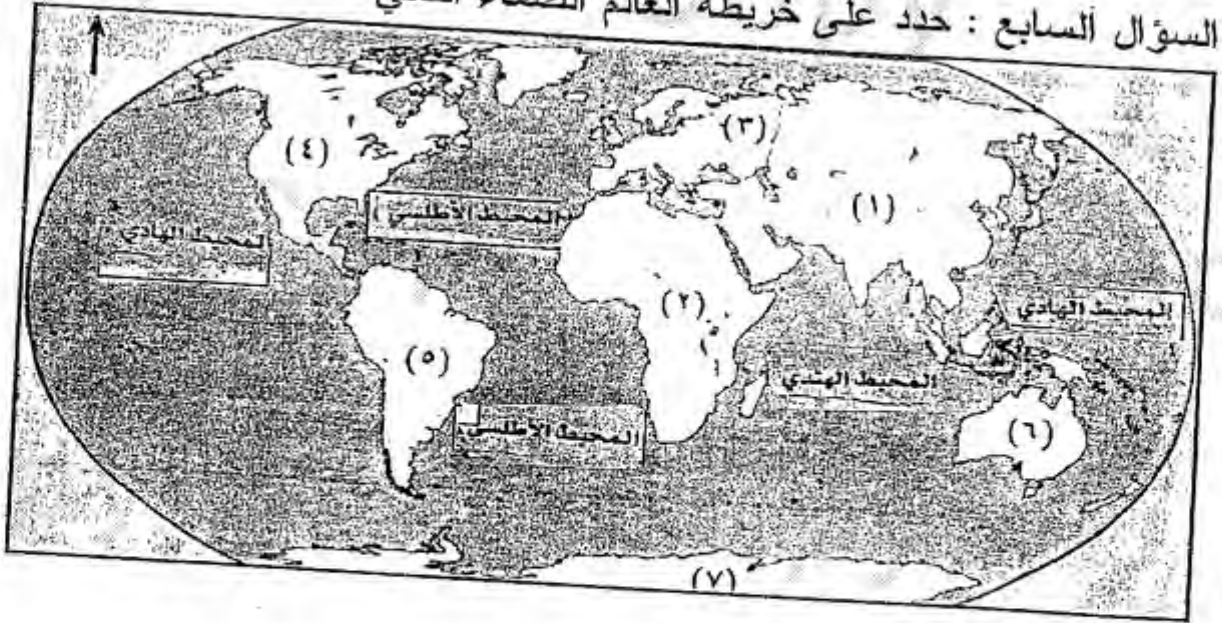
(٤) المحيط الهندي

السؤال السادس: أجب عن الأسئلة التالية

(١) متى يبدأ موسم سقوط المطر ؟

في فصل الشتاء

السؤال السابع : حدد على خريطة العالم الصماء التالي



- (١) المحيطات
(٢) الرقم (١) يشير إلى قارة تسمى آسيا
(٣) الرقم (٢) يشير إلى قارة تسمى أفريقيا
السؤال الثامن : أكمل المطلوب على الخريطة



- (أ) اكتب اسم القارة على الخريطة
(ب) أكمل رسم خط الاستواء الذي يمر بالقارة
(ج) سجل اسم خط الطول الرئيسي على الخريطة

((اختبار الفترة الدراسية الأولى))
((النموذج الثاني))

السؤال الأول: أكمل العبارات التالية بما يناسبها

- (١) موقع الدولة بالنسبة لكتلتي اليابس والماء يسمى الموقع النسبي
- (٢) موقع الدولة بالنسبة لخطوط الطول ودوائر العرض يسمى الموقع الفلكي
- (٣) تطل دولة الكويت على مسطح مائي يسمى الخليج العربي
- (٤) أهم الأودية الجافة في الكويت يسمى وادي الباطن
- (٥) خليج صغير يتوسط الساحل الكويتي وهو عبارة عن لسان مائي يسمى جون
- (٦) الدائرة الوهمية التي تتصف الكرة الأرضية لقسمين متساويين شمالي وجنوبي تسمى خط الاستواء
- (٧) منفذ ضيق من الماء يصل بين مسطحين مائيين يسمى مضيق
- (٨) تقع دولة الكويت بالنسبة للوطن العربي في الجهة الشرق
- (٩) يمكن تحديد موقع الدول على الخريطة وتحديد التوقيت الزمني من خلال ما يسمى الموقع الفلكي
- (١٠) لها أهمية مناخية بحيث تمكننا من تحديد نوع المناخ لأي دولة من خلال ما يسمى دوائر العرض
- (١١) يمر خط جرينتش في قارة أوروبا وقارة أوروبا
- (١٢) يمر خط الاستواء في دولة عربية تسمى الصومال
- (١٣) يمر خط جرينتش في دولة عربية تسمى الجزائر
- (١٤) تتحدر أرض الكويت من جهة الغرب
- (١٥) من أهم التلال في الكويت جبال الزور واللياح وكراع المزو
- (١٦) تلال من الرمال تتراكم في الصحاري تسمى الكتبان الرملية

١٧) أراض منخفضة قليلة المياه تنمو فيها النباتات الملحية تسمى السبخات

١٨) أهم الأودية الجافة في الكويت يسمى وادي الباطن

١٩) أكبر الجزر الكويتية مساحة تسمى بوبيان

٢٠) خور عبدالله يفصل جزيرة بوبيان عن اليابس يسمى

السؤال الثاني : اختر البديل المناسب من بين البدائل التالية

١) تقع دولة الكويت في قارة تسمى :

* آسيا ✓ * أفريقيا * أوروبا * أمريكا

٢) الدولة التي يحيط بها اليابس من جميع الجهات تسمى :

* الدولة المغلقة ✓ * الدولة البحرية * الدولة الجبلية * الدولة الساحلية

٣) أكبر قارات العالم مساحة تسمى :

* قارة آسيا ✓ * قارة أوروبا * قارة أفريقيا * قارة أستراليا

٤) تقع دولة الكويت بالنسبة للوطن العربي في الجهة :

* الشمال * الغرب * الجنوب * الشرق ✓

٥) يقسم الكرة الأرضية إلى نصفين شرقي وغربي وهو خط الطول الرئيسي

* خط جرينتش ✓ * خط الاستواء * مدار الجدي * مدار السرطان

٦) أكبر المحيطات مساحة يسمى :

* المحيط الهندي * المحيط الهادي ✓ * المحيط الأطلسي * المحيط القطبي الجنوبي



٧) الصورة التالية تعبر :

* منخفضات * كتبان رملية ✓ * تلال * سبخات





٨) الصورة التالية تعبر عن جهاز :
* مقياس الضغط * مقياس الرطوبة * مقياس الحرارة * مقياس المطر ✓
٩) تطل دولة الكويت على مسطح مائي يسمى :
* الخليج العربي ✓ * البحر الأحمر * خليج عمان * البحر المتوسط

١٠) الدولة التي لها منفذ بحري تسمى :
* الدولة المغلقة * الدولة البحرية ✓ * الدولة الجبلية * الدولة الساحلية
١١) تطل قارة أستراليا على المحيطات التالية :

* الهادي - الهندي
* الأطلسي - الهادي
* الهادي - القطب الجنوبي
* الهادي - القطب الشمالي
- القطبي الجنوبي ✓
- الهندي
- الهندي
- الأطلسي

١٢) تبلغ مساحة دولة الكويت حوالي :
* ١٥٠,٨١٨ كم * ١٦٠,٨١٨ كم * ١٧٠,٨١٨ كم ✓ * ١٨٠,٨١٨ كم

١٣) تطل دولة الكويت على مسطح مائي يسمى :
* الخليج العربي ✓ * البحر الأحمر * خليج عمان * البحر المتوسط

١٤) تظهر بعض المنخفضات في ارض الكويت ومنها :
* الروضتين واللياح وأم الرمم * أم العيش وأم الرمم وكراع المرو
* الروضتين وأم العيش وأم الرمم ✓ * الروضتين وجال الزور واللياح





(١٥) الصورة التالية تعبر عن :

* منخفضات * كثبان رملية ✓ * تلال * سيخات *



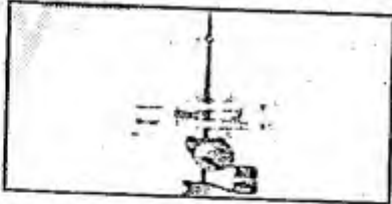
(١٦) الصورة التالية تعبر عن :

* منخفضات * كثبان رملية * تلال ✓ * سيخات *




(١٧) الصورة التالية تعبر عن :

* منخفضات * كثبان رملية * تلال * سيخات ✓ *



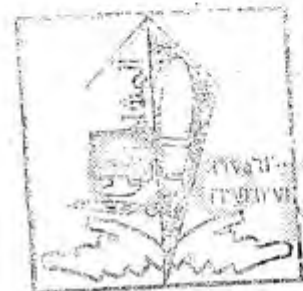
(١٨) الصورة التالية تعبر عن جهاز :

* مقياس الضغط * مقياس الرطوبة * مقياس الحرارة ✓ * قياس المطر *



(١٩) الصورة التالية تعبر عن جهاز :

* مقياس الضغط ✓ * مقياس الرطوبة * مقياس الحرارة * قياس المطر *





٢٠. الصورة التالية تعبر عن جهاز :
 * مقياس الضغط * مقياس الرطوبة ✓ * مقياس الحرارة * مقياس المطر

٢١. تسقط السرايات بسبب الأمطار :
 * الإعصارية * الرعدية ✓ * الركامية * الدخانية

السؤال الثالث: ضع علامة (✓) أمام العبارة الصحيحة وعلامة (×) أمام العبارة غير الصحيحة

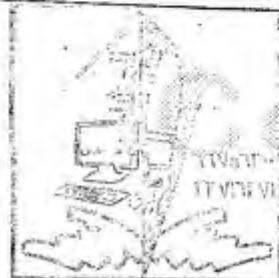
الإجابة	العبارة	م
✓	تعتبر الصين من أكبر دول آسيا مساحة	١
✓	تمثل دولة الكويت البوابة الشرقية للوطن العربي كله	٢
✓	لعبت الكويت دوراً هاماً في تاريخ العالم القديم والحديث	٣
✓	التضاريس على أرض الكويت بارزة بشكل كبير وواضح	٤
✓	يتمتع الساحل لكويتي بكثرة التعاريج والأخوار	٥
✓	التضاريس على أرض الكويت بارزة بشكل كبير وواضح	٦
✓	تعتبر السودان من أكبر الدول العربية مساحة	٧
✓	خطوط الطول تساعدنا في تحديد التوقيت الزمني لأي دولة في العالم	٨
✓	تتكون الكرة الأرضية من عدة طبقات يعيش الإنسان على قشرتها	٩

السؤال الرابع : ما الفرق بين كل من

(١)

خط جرينتش	خط الاستواء
يقسم الكرة الأرضية إلى قسمين شرقي وغربي	يقسم الكرة الأرضية إلى قسمين شمالي وجنوبي

Copy ٦٥

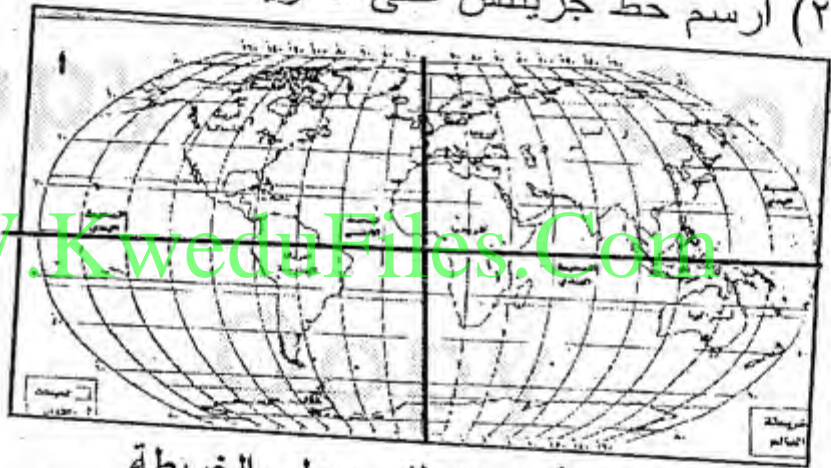


دوائر العرض	خطوط الطول
<ul style="list-style-type: none"> تقسم الكرة الرضية على قسمين شمالي وجنوبي عددها ١٨٠ دائرة ، ٩٠ دائرة شمال خط الاستواء ، و ٩٠ دائرة جنوب خط الاستواء 	<ul style="list-style-type: none"> تقسم الكرة الرضية إلى نصفين شرقي وغربي عددها ٣٦٠ خطاً ، ١٨٠ خطاً شرق خط جرينتش و ١٨٠ خطاً غرب خط جرينتش

السؤال الخامس : أكمل المطلوب على الرسم

(١) ارسم دائرة العرض الرئيسية (خط الاستواء)

(٢) ارسم خط جرينتش على الخريطة



السؤال السادس : أكمل المطلوب على الخريطة



- (أ) ارسم خطي الطول ودائرتي العرض
 (ب) سجل على خريطة الكويت خطوط الطول ودوائر العرض
 (ج) ماذا يسمى موقع دولة الكويت بالنسبة لدوائر العرض وخطوط الطول ؟
 (الموقع الفلكي)