

تم تحميل هذا الملف من موقع المناهج الكويتية



الملف نموذج اختبار تجريبي

موقع المناهج ← المناهج الكويتية ← الصف السابع ← اجتماعيات ← الفصل الثاني

روابط مواقع التواصل الاجتماعي بحسب الصف السابع



روابط مواد الصف السابع على تلغرام

[الرياضيات](#)

[اللغة الانجليزية](#)

[اللغة العربية](#)

[التربية الاسلامية](#)

المزيد من الملفات بحسب الصف السابع والمادة اجتماعيات في الفصل الثاني

<a href="#">مذكرة موضوعية محلولة</a>	1
<a href="#">حل الكتاب</a>	2
<a href="#">حل الوحدة الرابعة في مادة الاجتماعيات</a>	3
<a href="#">بنك اسئلة التربة سابع</a>	4
<a href="#">مراجعات الصف السابع</a>	5

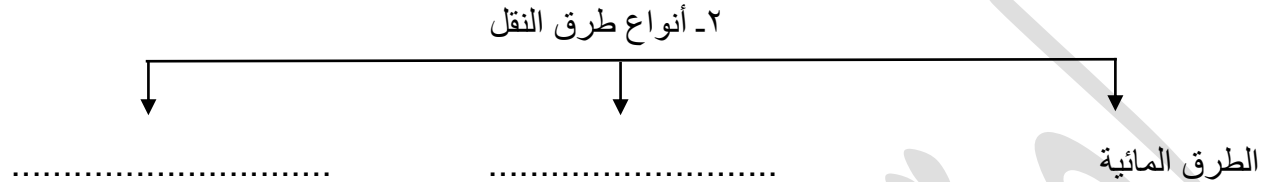
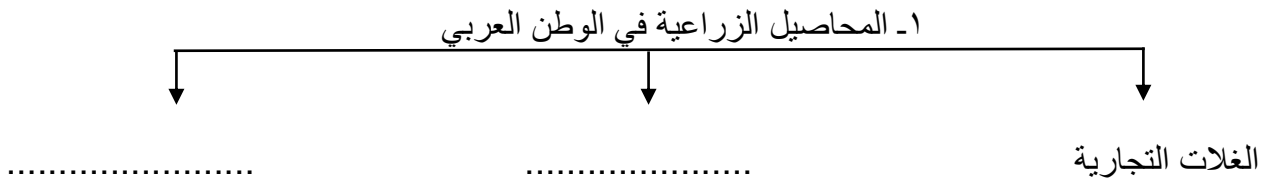
**السؤال الأول : موضوعي يتكون من ( أ - ب - ج )****أ - اكمل العبارات التالية بما يناسبها:**

- ١- يطلق على التبادل التجاري بين الدول العربية اسم.....
- ٢- تأسس الصندوق الكويتي للتنمية الاقتصادية العربية في عهد الشيخ.....
- ٣- عقد أكبر مؤتمر للأمم المتحدة في البرازيل عام ١٩٩٢م وعرف باسم .....
- ٤- الدولة العربية التي تحتل المركز الأول في عدد السكان اسمها.....
- ٥- عدد الدول التي تضمها جامعة الدول العربية .....
- ٦- الدولة العربية التي تحتل المرتبة الأولى في إنتاج معدن الحديد.....
- ٧- الدولة العربية التي تحتل المركز الأول في إنتاج البن هي.....

**ب - اختر الإجابة الصحيحة من بين البدائل التالية وضع خط تحتها:**

- ١- النسبة المئوية للموارد المائية التي تأتي خارج حدود الوطن العربي تبلغ :  
أ- ٢٠%      ب- ٣١%      ج- ٤٣%      د- ٥٠%
- ٢- تحتل سوريا المركز الأول في إنتاج فاكهة :  
أ- الموز      ب- العنب      ج- الموالح      د- التمر
- ٣- استخدام التكنولوجيا في صناعة الأقمار الصناعية تمثل تنمية :  
أ- مستدامة      ب- بشرية      ج- اقتصادية      د- اجتماعية
- ٤- عقد المؤتمر الدولي الأول لمانحي سوريا عام ٢٠١٣م بمبادرة الشيخ:  
أ- جابر الاحمد      ب- عبدالله السالم ج- صباح الأحمد      د- صباح السالم
- ٥- تتركز حقول النفط بنسبة ٨٠% بالنسبة للوطن العربي في منطقة:  
أ- خليج السويس ب- الخليج العربي      ج- الصحراء الكبرى      د- هضبة نجد
- ٦- أنشئت جامعة الدول العربية في عام :  
أ- ١٩٤٠م      ب- ١٩٤٥م      ج- ١٩٤٦م      د- ١٩٤٨م
- ٧- الدولة التي استضافت القمة العربية الاقتصادية عام ٢٠٠٩م هي دولة :  
أ- البحرين      ب- الكويت      ج- مصر      د- السعودية

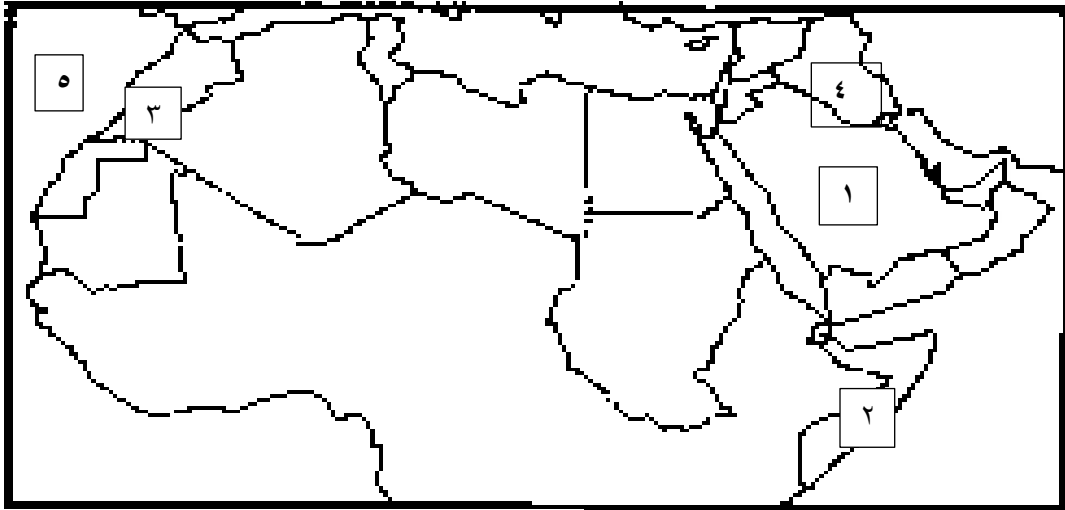
ج - اكمل المخططات السهمية التالية:



د - اكتب المفهوم الدال على العبارات التالية :

م	المفهوم	العبرة
1		العمل على توثيق الصلات بين الدول والشعوب العربية وحماية مصالحها السياسية والاقتصادية الثقافية
2		تسجيل المواليد والوفيات وحالات الزواج والطلاق والحصول على بيانها من واقع السجلات الرسمية
3		الثروات التي منحها الله لإقليم من دون ان يكون للإنسان أي دور في وجودها.
4		برامج تحسين نوعية الحياة ولا تتحقق الا بمشاركة جميع المواطنين
5		الضرر الذي يلحق بالتربة والهواء والماء ويصيب عناصر البيئة من عدة مصادر.
6		تركيب وجمع المواد المصنعة على اختلاف مصادرها كي نحصل على سلع متنوعة .

هـ - لاحظ خريطة الوطن العربي الصماء من ثم نفذ ما هو مطلوب منك:



- تنصدر المغرب المرتبة الأولى عربيا في انتاج الفوسفات ويمثلها على الخريطة رقم ( )
- المملكة العربية السعودية احد أعضاء منظمة اوابك و ويمثلها على الخريطة رقم ( )
- دولة عربية تحتل المركز الأول في نسبة انتاج الابل و ويمثلها على الخريطة رقم ( )
- المحيط الأطلسي يمثله على الخريطة رقم ( )
- دولة يجري بها نهري دجلة والفرات يمثله على الخريطة رقم ( )

**السؤال الثاني : مقال ( أ - ب - ج )**

**أ - علل مايلي:**

١- تختلف المنتوجات الزراعية من دولة عربية الى أخرى.

.....

.....

٢- تحتل الأغنام مكانا مهما ضمن الثروة الرعوية في الوطن العربي.

.....

.....

٣- تدني وفرة المياه في الوطن العربي.

.....

.....



**ب - عرف المفاهيم التالية:**

١- أوبك:

.....

٢- التبادل التجاري:

.....

٣- التصحر:

.....

**ج - فرق بين كل من :**

الصناعات التجميعية	الصناعات التحويلية
.....	.....
اهداف منظمة الاوابك	اهداف منظمة الأوبك
.....	.....
الغاز الطبيعي	النفط
.....	.....

السؤال الثالث : مقال ( أ - ب - ج )

أ) اقترح حلولاً للمشكلات التالية:

١- قلة وانخفاض الإنتاج الزراعي في الوطن العربي.

.....  
.....

٢- عدم استغلال الأراضي الصالحة للزراعة في الوطن العربي.

.....  
.....



ب) اجب عن الأسئلة التالية :

١- العوامل المؤثرة في توزيع السكان .

.....  
.....

٢- النتائج المترتبة على علاج مشكلة التصحر.

.....  
.....

٣- المشكلات التي تواجه التنمية البشرية.

.....  
.....

٤- عدد اهداف الصناعات البتروكيميائية.

.....  
.....

٥- عدد اهداف الجامعة العربية.

.....  
.....