

السؤال الثالث : مقالي يتكون من (أ - ب - ج) :

(أ) اقرأ الفقرة التالية ثم أجب عما يليها من أسئلة :

امتدت الحضارة العربية الإسلامية لتشمل مساحات كبيرة من العالم مما أدى إلى انتشار مراكز الإشعاع الحضاري وأبرزها جزيرة صقلية ، وهذا يدل على قوة ومثانة الأسس التي انطلقت من خلالها الحضارة الإسلامية وجعلتها تترقي وتزدهر وتصبح ذات نتاج مادي ومعنوي.

١- ضع عنواناً مناسباً للفقرة السابقة .

٢- عرف ما تحته خط .

الحضارة :

٣- استخرج من الفقرة السابقة مركز من مراكز اشعاع الحضارة العربية الاسلامية .

٤- أذكر أسس الحضارة الإسلامية .

(ب) فرق بين كل من :

الخراج	الزكاة
.....
.....
المُناخ	الطقس
.....
.....


(ج) عدد - أسماء الهضاب بدول العالم الإسلامي .



مجموع درجات السؤال الثالث بالحروف :

السؤال الثاني: مقالي يتكون من (أ - ب - ج) :

(أ) لاحظ الصورة المقابلة لأحد المساجد الرئيسية في الحضارة الإسلامية ثم أجب عن الأسئلة التالية :




- ١- ما اسم المسجد المشار له في الصورة المقابلة ؟
..... ■
- ٢- أكتب أسم مسجد آخر من المساجد الإسلامية الرئيسية .
..... ■

(ب) لاحظ الجدول التالي ثم أجب عما يلي :

نسبة إنتاج الذهب من جملة إنتاج دول العالم الإسلامي حسب إحصاء ٢٠١٤ م .

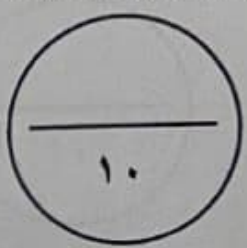
إندونيسيا	مالي	أوزباكستان	كازاخستان
٢,٣ %	١,٥ %	٣,٤ %	١,٧ %



- ١- استخرج من الجدول السابق:
- أعلى دولة في نسبة إنتاج الذهب .
.....
- ٢- حول نسب إنتاج الذهب للدول التالية إلى أعمدة بيانية.
(إندونيسيا ، أوزباكستان ، مالي)

(ج) عدد نقطتين لكل مما يلي :

- ١- خصائص الحضارة الإسلامية.
..... ■
- ٢- العوامل التي لعبت دوراً في تنوع المناخ بدول العالم الإسلامي .
..... ■





مجموع درجات السؤال الثاني بالحروف :

السؤال الرابع : مقالي يتكون من (أ - ب - ج) :

(أ) صمم مخطط سهمي لأهمية السهول في المربع التالي .

(ب) قارن بين كل من:

		وجه المقارنة
الحمام	خريطة	الاسم الدال على الصورة
..... ■ ■	طرق استفادة الأوروبيون منها

(ج) اكتب فيما يلي :

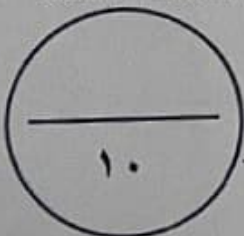
١- العوامل التي أدت إلى ازدهار العلم وظهور العلماء .

..... ■
..... ■

٢- المصادر الطبيعية لإنتاج الأسماك في دول العالم الإسلامي .

..... ■

(انتهت الأسئلة)



مجموع درجات السؤال الرابع بالحروف :



وزارة التربية
الإدارة العامة لمنطقة حولي التعليمية
التوجيه الفني للاجتماعيات

العام الدراسي : ٢٠٢٤ / ٢٠٢٥ م
الزمن: ساعة وخمسة وأربعون
عدد الأوراق : ٦

امتحان نهاية الفترة الدراسية الأولى
مقرر/ دولة الكويت والعالم الإسلامي
للمصف الثامن المتوسط

السؤال الأول: موضوعي يتكون من (أ - ب - ج - د - هـ - و) :

(أ) ظلل الخيار الصحيح من بين الخيارات التي تلي كل عبارة :

١- أحد العلوم العقلية في الحضارة الإسلامية :

التاريخ	التفسير	الفلك	الحديث
---------	---------	-------	--------

٢- المظهر التضاريسي المحدد على الخريطة المقابلة :

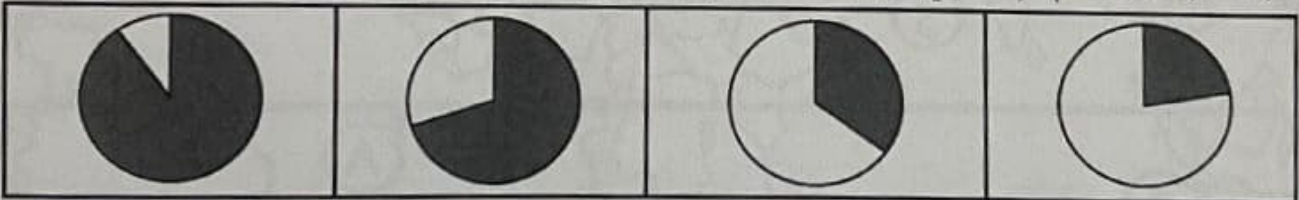


جبل	هضبة
وادي	تل

٣- الدليل على اهتمام المسلمين في مجال الزراعة :

شق القنوات المائية	بناء القباب	استيراد الأخشاب	غزل الجوت
--------------------	-------------	-----------------	-----------

٤- نسبة ما ينتجه العالم الإسلامي من النفط الخام يمثله الجزء المظلل من الدائرة البيانية :



٥- القارة التي تقع فيها دولة ألبانيا :

أفريقيا	آسيا	أمريكا الجنوبية	أوروبا
---------	------	-----------------	--------

(ب) أكمل العبارات التالية بما يناسبها فيما درست :

١- أول خليفة حكم المسلمين بعد وفاة الرسول ﷺ اسمه

٢- المرتفعات التي تحجز سهل تهامة في الغرب عن هضبة نجد في الشرق اسمها

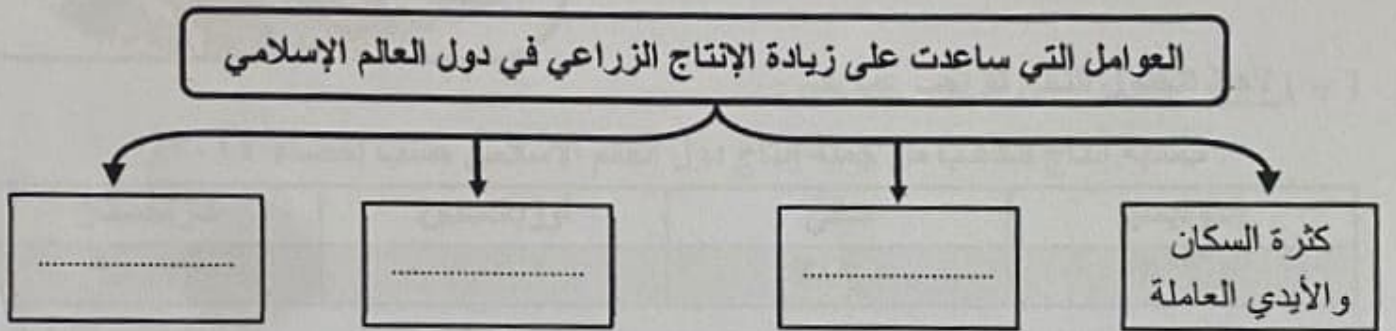
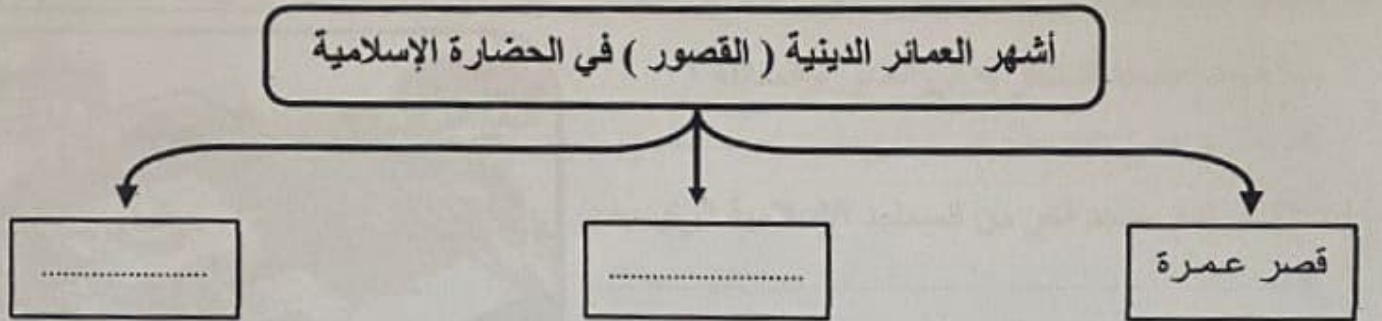
٣- أصغر دولة في العالم الإسلامي من حيث المساحة اسمها

٤- الإقليم المناخي الذي تقع فيه دول شبه الجزيرة العربية اسمه

٥- الدولة التي يقع فيها جامع الزيتونة اسمها

تابع / السؤال الأول موضوعي :

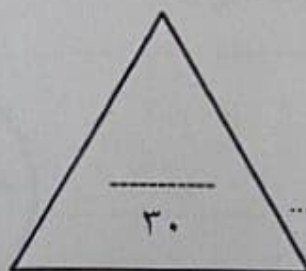
(هـ) أكمل المخططات السهمية التالية فيما درست :



(و) صوب ما تحته خط في العبارات التالية :

م	العبرة	التصويب
١	الاسم الذي أطلق على الصناعات الخشبية نسبة إلى العرب <u>الفسيفساء</u>
٢	المجال الذي برز فيه الدكتور عبد الرحمن <u>السميط الهندسة</u>
٣	أمير دولة الكويت الذي افتتح في عهده المسجد الكبير عام ١٩٨٦م الشيخ <u>صباح الأحمد الصباح</u>
٤	عدد الدول الإسلامية في قارة آسيا يبلغ <u>٣٢</u> دولة
٥	العالم المسلم الذي ألف كتاب الجبر والمقابلة <u>أبو بكر الرازي</u>

١٠



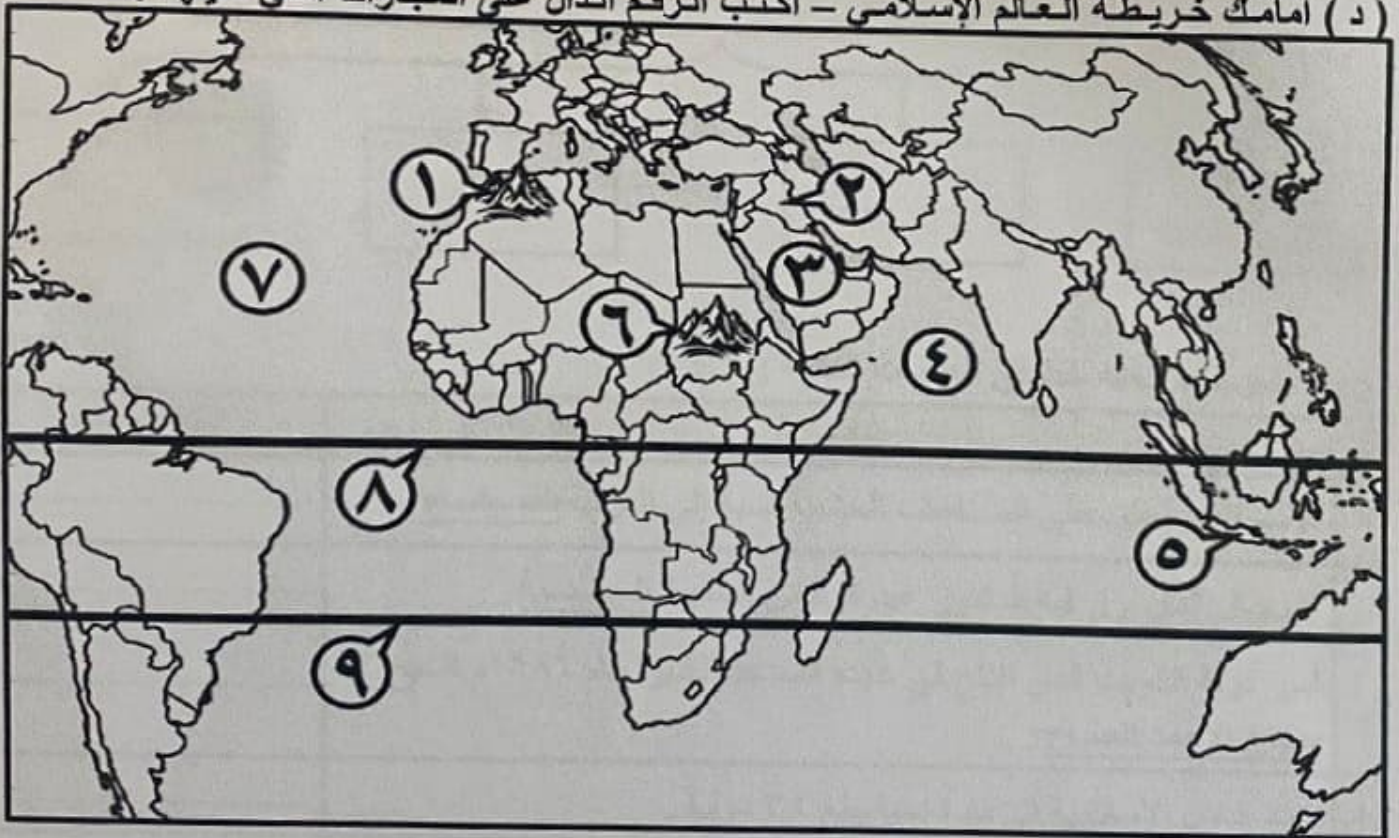
مجموع درجات السؤال الأول بالحروف :

تابع / السؤال الأول موضوعي :

(ج) أكتب المفاهيم أو المصطلحات الدالة على العبارات التالية :

م	المفهوم أو المصطلح	العبارة
١	النصارى واليهود الذين ظلوا على دينهم مع دفع الجزية.
٢	أرض مرتفعة سطحها مستو وتمتد في مساحة واسعة .
٣	كمية النفط المخزونة في باطن الأرض ولم تستخرج بعد.
٤	مساحة من الأرض تتصف بعناصر مناخية متشابهة .
٥	كل قمة لا يقل ارتفاعها عن ١٠٠٠ متر تقريباً.

(د) أمامك خريطة العالم الإسلامي - أكتب الرقم الدال على العبارات التي تليها :



- الدولة التي يقع فيها " بيت الحكمة " يُمثلها على الخريطة الرقم (.....)

- جبل مرة يُمثلهُ على الخريطة الرقم (.....)

- خط الاستواء يُمثلهُ على الخريطة الرقم (.....)

- المحيط الأطلسي يُمثلهُ على الخريطة الرقم (.....)

- دولة إندونيسيا يُمثلها على الخريطة الرقم (.....)



السؤال الأول: موضوعي يتكون من (أ - ب - ج - د - هـ - و) :

(أ) ظل الخيار الصحيح من بين الخيارات التي تلي كل عبارة :

١- أحد العلوم العقلية في الحضارة الإسلامية :

التاريخ	التفسير	الفلك	الحديث
---------	---------	-------	--------

٢- المظهر التضاريسي المحدد على الخريطة المقابلة :

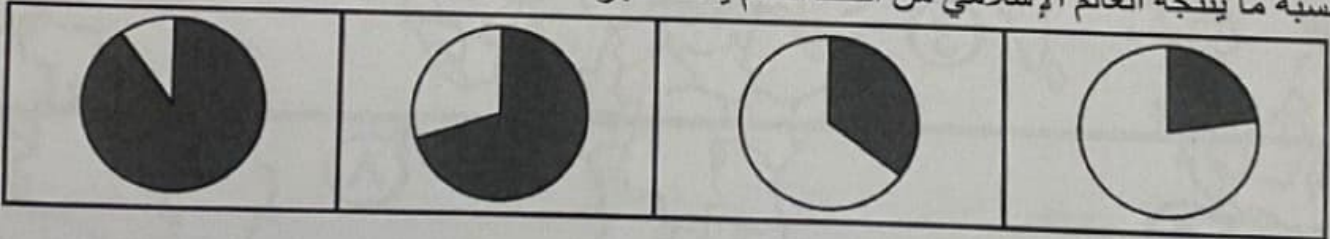


جبل	هضبة
وادي	تل

٣- الدليل على اهتمام المسلمين في مجال الزراعة :

شق القنوات المائية	بناء القباب	استيراد الأخشاب	غزل الجوت
--------------------	-------------	-----------------	-----------

٤- نسبة ما ينتجه العالم الإسلامي من النفط الخام يمثله الجزء المظلل من الدائرة البيانية :



٥- القارة التي تقع فيها دولة ألبانيا :

أفريقيا	آسيا	أمريكا الجنوبية	أوروبا
---------	------	-----------------	--------

(ب) أكمل العبارات التالية بما يناسبها فيما درست :

١- أول خليفة حكم المسلمين بعد وفاة الرسول ﷺ اسمه

٢- المرتفعات التي تحجز سهل تهامة في الغرب عن هضبة نجد في الشرق اسمها

٣- أصغر دولة في العالم الإسلامي من حيث المساحة اسمها

٤- الإقليم المناخي الذي تقع فيه دول شبه الجزيرة العربية اسمه

٥- الدولة التي يقع فيها جامع الزيتونة اسمها