

تم تحميل هذا الملف من موقع المناهج الكويتية




التعليم الخاص

الملف نموذج إجابة التعليم الخاص

موقع المناهج ← المناهج الكويتية ← الصف السابع ← اجتماعيات ← الفصل الأول

روابط مواقع التواصل الاجتماعي بحسب الصف السابع



روابط مواد الصف السابع على تلغرام

[الرياضيات](#)

[اللغة الانجليزية](#)

[اللغة العربية](#)

[التربية الاسلامية](#)

المزيد من الملفات بحسب الصف السابع والمادة اجتماعيات في الفصل الأول

كتاب الطالب في مادة الاجتماعيات للعام الدراسي 2018	1
حل الوحدة الاولى في مادة الاجتماعيات	2
تلخيص رائع في مادة الاجتماعيات	3
حل الوحدة الثانية في مادة الاجتماعيات	4
تلخيص ممتاز في مادة الاجتماعيات	5



السؤال الأول: موضوعي يتكون من (أ- ب- ج)

أ: ظلل البديل الصحيح من بين البدائل التالية التي كل عبارة: (١×٥=٥ درجات)

١- الدولة العربية التي تقع خارج نطاق موقع الوطن العربي : ص٢٣

جزر القمر	موريتانيا	الصومال	جيبوتي
-----------	-----------	---------	--------

٢- نسبة مساحة الوطن العربي من جملة مساحة العالم : ص٢٣

٪١٠	٪٢٠	٪٣٠	٪٤٠
-----	-----	-----	-----

٣- أكثر الأشكال التضاريسية انتشارا في الوطن العربي : ص٤٢

الجبال	السهول	الهضاب	القلال
--------	--------	--------	--------

٤- هو من أهم مصادر المياه العذبة في الوطن العربي : ص٥٧

الأنهار	البحيرات	البحار	المياه الجوفية
---------	----------	--------	----------------

٥- الدولة التي تقع فيها جبال الاحجار : ص٧٤

المغرب	ليبيا	الجزائر	موريتانيا
--------	-------	---------	-----------

ب : أكمل المخططات السهمية فيما يأتي : (١×٥=٥ درجات)



وزارة التعليم

الإدارة العامة

التعليم الخاص

التوجيه الفني

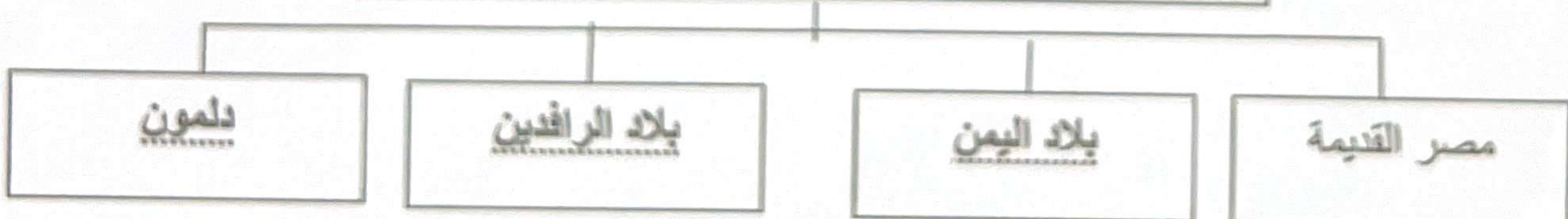
العام للاجتماعيات

نموذج إجابة

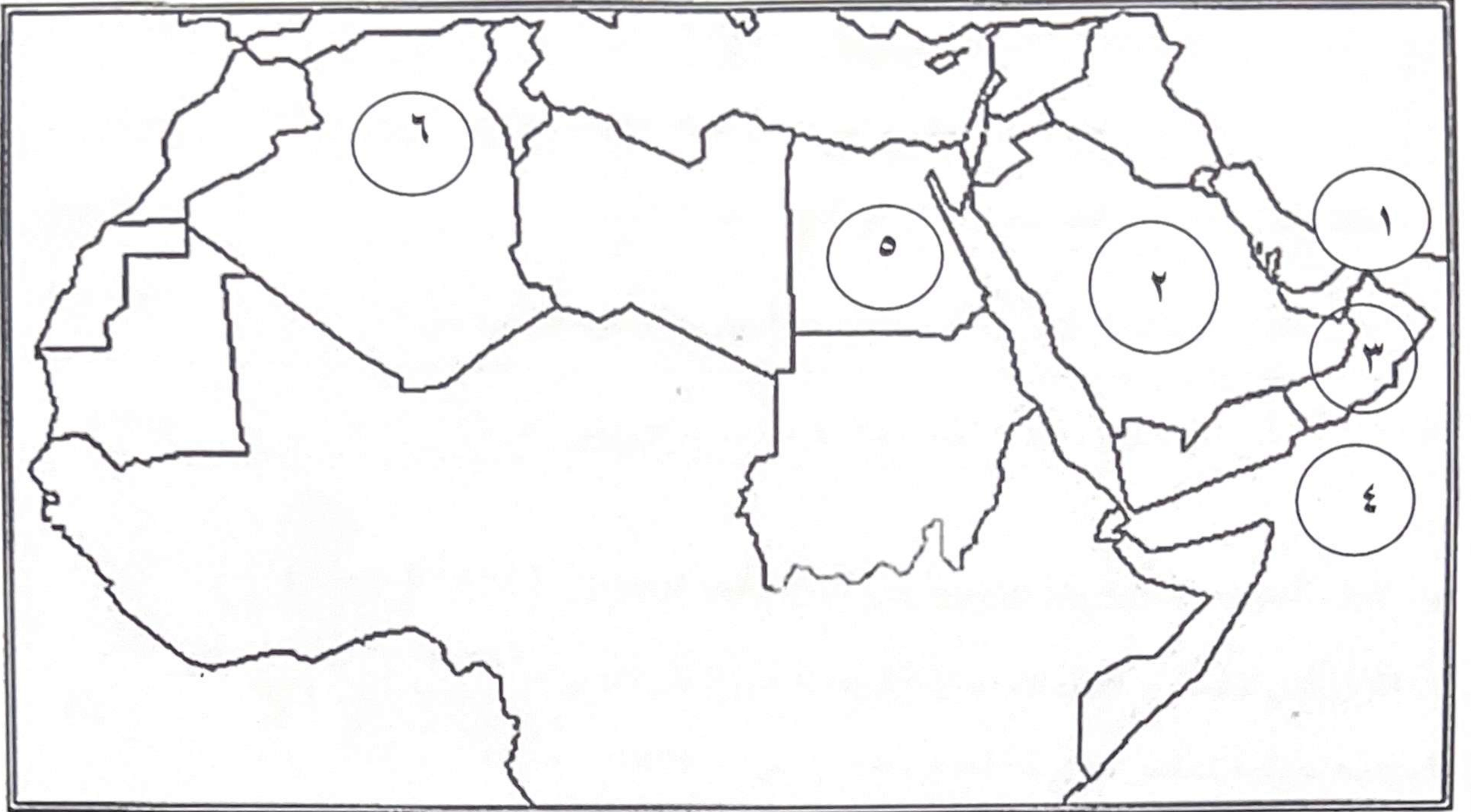
الحياة النباتية في الوطن العربي . ص٢٣



أهم الحضارات في الوطن العربي . ص٧٤ - ٨٨



ج: أمامك خريطة الوطن العربي الصماء أكتب الرقم الدال على العبارات التالية:- (١×٥=٥ درجات)



١- مضيق هرمز يمثله على الخريطة الرقم (١) ص ٢٨

٢- بحر العرب يمثله على الخريطة الرقم (٤) ص ٢٨

٣- الدولة التي بها قناة السويس يمثها على الخريطة الرقم (٥) ص ٣٤

٤- الدولة التي يقع بها الجبل الأخضر يمثها على الخريطة الرقم (٣) ص ٢٨

٥- هضبة الشطوط يمثها على الخريطة الرقم (٦) ص ٢٨

وزارة التربية
الإدارة العامة للتعليم الخاص
تم الإجابة

تم التحميل من شبكة ياكويت التعليمية



Telegram:
[ykuwait_net_home](https://t.me/ykuwait_net_home)

السؤال الثاني: موضوعي و يتكون من (أ-ب-ج)

أ: صحح ما تحته خط في العبارات التالية : (١×٥=٥ درجات)

التصويب	العبرة	
الأفلاج	مجري مائي صغير في الأرض يسمى <u>جدول</u> ص ٦٠	١
المعتدلة	أشجار الأرز والعرعر والصنوبر الحلبي والبلوط من أشجار الغابات <u>المدارية الحارة</u> ص ٥٢	٢
مصر القديمة	معتقد البعث والخلود ارتبط بحضارة بلاد <u>الرافدين</u> ص ٧٦	٣
الاحساء	أهم مناطق التحلية لمياه البحر في المملكة العربية السعودية تسمى <u>الطائف</u> ص ٦١	٤
مدغشقر	الجزيرة التي تقع جمهورية جزر القمر شمال غربها تسمى <u>موروني</u> ص ٢٢	٥



ب: أكمل العبارات التالية بما يناسبها من كلمات فيما درست: (١×٥=٥ درجات)

- ١- القرن الذي تنافست به الدول الاستعمارية للسيطرة على الوطن العربي هو ١٨ ص ٣٥
- ٢- مدينته سعودية تنخفض بها درجة الحرارة صيفا تسمى الطائف ص ٤٦
- ٣- مصدر الأساسي الذي تعتمد عليه دولة الكويت للمياه هو تحلية مياه البحر . ص ٦١
- ٤- الديانة التي نزلت على سيدنا عيسى عليه السلام تسمى المسيحية . ص ٩٠
- ٥- النهران اللذان اشتهرت بهما حضارة بلاد الرافدين هما دجلة و الفرات . ص ٧٩

ب. صنف الكلمات التالية حسب موقعها بالجدول بوضع الرقم المناسب فيما يأتي: (١×٥=٥ درجات) ص ٣٨

مرة - عسير - الصحراء الكبرى - نجد - أطلس - المجردة

هضاب	جبال
- الصحراء الكبرى - نجد	- مرة - عسير - أطلس

السؤال الثالث (مقال) و يتكون من (أ - ب - ج)
أ. لاحظ الصورة التي أمامك ثم أجب عما يأتي : ص ٨٨ (١×٥=٥ درجات)



- ١- أكتب اسم الصورة التي أمامك .
 رأس الثور.....
- ٢- اكتب اسم الحضارة التي تعود لها الصورة .
 حضارة دلمون.....
- ٣- أذكر اسمًا آخر لهذه الحضارة عرفت به قبل الإسلام.
أوال.....
- ٤- عدد اثنان من الأنشطة الاقتصادية لهذه الحضارة .
 -الزراعة / صيد الأسماك.....
 -الغوص على اللؤلؤ.....

ب. فرق بين كلاً مما يلي : (٢×٢=٤ درجة)

الطقس ص ٤٤	المناخ ص ٤٤
حالة الجو في مكان لمدة قصيرة تتراوح بين يوم أو عدة أيام من حيث درجة الحرارة والرطوبة والأمطار والرياح والضغط الجوي	حالة الجو خلال فترة زمنية طويلة من حيث درجة الحرارة والرطوبة والأمطار والرياح
البحيرة ص ٦٠	النهر ص ٥٨
مسطح مائي تحيط به اليابسة من جميع الجهات	مجري مائي عذب ينحدر على الدوام لينتهي إلى البحر أو إلى نهر آخر أو ينتهي تدريجياً في الصحراء

وزارة التربية
 الإدارة العامة للتعليم الخاص

تمهيد

ج. عدد ما يأتي : (٢×٣=٦ درجات)

ص ٢٦

١- مقومات الهوية العربية .
 (يكتفى بنقطتين)

- الدين / - اللغة العربية / - التراث / - الأهداف المشتركة.

ص ٤٦

٢- العوامل المؤثرة في مناخ الوطن العربي.
 (يكتفى بنقطتين)

- الموقع بالنسبة لدوائر العرض / - القرب و البعد عن المسطحات المائية .

- التضاريس / - الرياح

ص ٨٥

٣- حضارات بلاد اليمن .
 (يكتفى بنقطتين)

- سبأ / - معين / - حمير

السؤال الرابع : مقالتي و يتكون من (أ - ب - ج - د)

أ : علل لما يأتي : (٢ × ٢ = ٤ درجات)

١- تعد منطقة جنوب غرب شبه الجزيرة العربية من أكثر المناطق ملاءمة لقيام الحضارة . ص ٨٥
توافر المياه العذبة / المناخ المناسب لقيام الزراعة / الموقع الذي يسمح بقيام النشاط التجاري فيها

٢- نباتات الوطن العربي الصحراوية قادرة على مقاومة الجفاف . ص ٥٢

القدرة على تخزين المياه / تحمي نفسها بلحاء سميك و أوراق ابرية

أ. عرف المفاهيم التالية : (٣ × ٣ = ٩ درجات)

المصطلح	التعريف
الموقع الاستراتيجي	موقع ذي مكانة مهمة بين دول العالم. ص ٢٨
النبات الطبيعي	هو النبات الذي ينمو تلقائياً عقب سقوط المطر دون تدخل من الإنسان. ص ٥١
الحضارة	كل ما يطرأ على المجتمع من تقدم وتطور و رقي في جميع نواحي الحياة الدينية والسياسية والاقتصادية والاجتماعية والفكرية. ص ٧١

ج: أكتب فيما يلي : (٢ × ٢ = ٤)

١- صفات الأمطار في الوطن العربي . ص ٥٩

تذبذب كمية الأمطار بين عام كما أنها تسقط في أيام معدودة / الامطار في الوطن العربي تكاد تقتصر على الأطراف الجنوبية منها / تتصف الأمطار بأنها قليلة بصفة عامة و لا يستثنى من ذلك سوى المناطق التي تقع من ورائها الجبال .

٢- العوامل التي ساعدت على قيام الحضارة المصرية القديمة . ص ٧٥
تنوع الصخور و المعادن / امتداد الصحراء / نهر النيل / اعتدال المناخ و جفافه

د : قارن بين كلاً مما يأتي : (٤ × ٤ = ١٦ درجات)

وجه المقارنة	حضارة بلاد الرافدين ص ٨٣	حضارة بلاد اليمن ص ٨٧
نوع الكتابة	المسمارية	خط المسند
عدد الأحرف	٦٠٠ حرف	٢٩ حرف

تم التحميل من شبكة ياكويت التعليمية

((انتهت الأسئلة))

وزارة التربية
الإدارة العامة للتعليم الخاص
نموذج الإجازة



Telegram:
ykuwait_net_home