

تم تحميل هذا الملف من موقع المناهج الكويتية



مشاعل القحطاني

الملف وسائل الوحدة الأولى بطريقة مميزة

[موقع المناهج](#) ← [المناهج الكويتية](#) ← [الصف الرابع](#) ← [رياضيات](#) ← [الفصل الأول](#)

روابط مواقع التواصل الاجتماعي بحسب الصف الرابع



روابط مواد الصف الرابع على تلغرام

[الرياضيات](#)

[اللغة الانجليزية](#)

[اللغة العربية](#)

[التربية الاسلامية](#)

المزيد من الملفات بحسب الصف الرابع والمادة رياضيات في الفصل الأول

<a href="#">مسودة كتاب الطالب لعام 2018</a>	1
<a href="#">توزيع مقرر الرياضيات للصف الرابع منهج حديد عام 2018</a>	2
<a href="#">كفايات الوحدة الاولى في مادة الرياضيات منهج كفايات حديد</a>	3
<a href="#">كفايات الوحدة الثانية في مادة الرياضيات</a>	4
<a href="#">اختبار مسح في مادة الرياضيات</a>	5




وزارة التربية  
الإدارة العامة لمنطقة الأحمدية التعليمية  
مدرسة هدية الابتدائية بنين



موقع  
المناهج الكويتية  
almanahj.com/kw

# • الوحدة الأولى

للمصف الرابع



• أ. مشاعل القحطاني

• أ. شيمة المطيري


إعداد المعلمة

إشراف رئيسة القسم

# • بناء الأعداد واستكشاف القيمة المكانية

المناهج الكويتية  
الموقع  
almanahj.com/kw

بند (أ-أ)



# أكمل

)    ■    ■    ■    ■    ■    ■



موقع  
المنهج الكويتية  
almanahj.com/kw

Blank box for writing the answer.

)    ■    ■    ■

# أكمل

)

□ □ □ □ □ □



موقع  
المنهج الكويتية  
almanahj.com/kw

٩٩ □ □ □ □

# أكمل

ا



موقع  
المنهج الكويتية  
almanahj.com/kw

ا



# أكمل الجدول

العدد	عدد الآحاد	عدد العشرات	عدد المئات	عدد الألاف	عدد عشرات الألاف	عدد مئات الألاف	عدد الملايين
٣٠٠							
١٢٠٠							
٢١٠٦٤١					٢١		
١٠٠٠٠٠٠							١٠

# أجب عن الأسئلة التالية

كم وحدة في العدد ٢٠٠؟





# أجب عن الأسئلة التالية

كم عشرة في العدد ١٦٠٠؟

المناهج الكويتية  
almanahj.com/kw



# أجب عن الأسئلة التالية

كم مئة في العدد ١٦٢ ؟ ٥٣ ؟

المناهج الكويتية  
almanahj.com/kw



# اكتب رمز العدد

٦ مئآت = \_\_\_\_\_

١٧ عشرة = \_\_\_\_\_

٣٨٥ وحدة = \_\_\_\_\_

# ارسم صوراً لتبين عدد المئات

في العدد ) . . .






# اختر الإجابة الصحيحة بوضع


العدد المختلف هو :

موقع  
المناهج الكويتية  
almanahj.com/kw


١٠ مئآت



١٠ عشرات



١٠٠٠



لنفترض أن معك ٤٠٠ بطاقة ما عدد

المجموعات التي تحصل عليها إذا قمت

موقع  
المناهج الكويتية  
almanahj.com/kw

بتجميعها في مجموعات من ١٠ ؟ أو من

١٠٠ أو من ١٠٠٠ ؟

كم وحدة في العدد ٤٥٢ ١٣؟


وكم عشرة؟ وكم مئة؟ وكم ألفاً؟

وكم عشرة آلاف؟



• التمسك بالحدود

بند (١-٢)





# أكمل

٩٩٩ ٢٠٠

٩٩٩ ١٠٠

٩٩٩ ٧٠٠

٩٩٩ ٩٠٠

سوق  
المناهج الكويتية  
almanahj.com/kw



# اكتب رمز العدد

ستمئة وثلاثة وعشرون ألفاً  
وخمسة عشر

# اكتب رمز العدد

أربعون ألفاً وسبعمئة



# اكتب رمز العدد

تسعمئة ألف و خمسة



# اكتب رمز العدد

١ ..... + ٤ ..... +

٢ ..... + ٥ ..... + ٧ ..... +

---

# اكتب رمز العدد

$$٢٠٠٠٠ + ٩٠٠٠ + ٣$$

موقع  
المنهاج الكويتية  
almanahj.com/kw



# اكتب الاسم اللفظي

٥٢١٣٧



# اكتب الاسم اللفظي

٨ . . . . + ٣ . . . . + ٩

موقع  
المناهج الكويتية  
almanahj.com/kw

\_\_\_\_\_



# اكتب القيمة المكانية للرقم الذي تحته خط

٣٢٥.٩٤

موقع  
المناهج الكويتية  
almanahj.com/kw



# اكتب القيمة المكانية للرقم الذي تحته خط

٣٧ ٨٥٨



# اكتب القيمة المكانية للرقم الذي تحته خط

٤٠١ ٥٣٢



# مقارنة المماسات

بند (١-٣)



قارن . ضع رمز العلاقة المناسبة < أو > أو =


٩٩٠٠ . . ١٧٠٠ )

موقع  
المنهاج الكويتية  
almanahj.com/kw

٣٠٢٩٠٠ . . ٢٠٣٩٠٠ . .

قارن . ضع رمز العلاقة المناسبة < أو > أو =


٤٢٠ . ٢٣٧



٤٢١ . ١٦

المناهج الكويتية  
almanahj.com/kw

٢٨٥٧٠٠ . ٢٨٥٥٠٠



# يبين الجدول انتاج مزرعة من الفواكة

الفواكة	الانتاج بالكيلوجرامات
موز	١٤٠ ٢٠٠
عنب	١١٧ ٣٥٧
توت	١٩٩ ١٩٩

ما الفاكهة الأكثر انتاج ؟

# اكتب الكلمة المناسبة مستحيل أو مؤكد أو ممكن

كيس فيه ٣ بطاقات مكتوب على كل منها أحد هذه الأعداد



سحب بطاقة تحمل عدداً أصغر من العدد ١٠٠٠٠

سحب بطاقة تحمل عدداً أصغر من العدد ٧٠٠٠

سحب بطاقة تحمل عدداً أكبر من العدد ١٠٠٠٠



# تزيين الكعك

بند (٤-١)



# رتب الأعداد التالية تصاعدياً

٣١٢٥ ، ٤٠٧ ، ٧٠٠٢

\_\_\_\_\_ ، \_\_\_\_\_ ، \_\_\_\_\_

# رتب الأعداد التالية تنازلياً

١٩٤ ، ٣٠٠ ، ١٠٠٤

موقع  
المنهاج الكويتية  
almanahj.com/kw

\_\_\_\_\_ ، \_\_\_\_\_ ، \_\_\_\_\_

اكتب رمزا لعدد مناسباً لكي تكون


الأعداد التالية مرتبة تصاعدياً

المنهج الكويتي  
almanahj.com/kw

١٣١٢ ، ٦١٠ ، ٢٧٧ ، —

# تقديم المنهج

بند (١-٥)



# قرب الأعداد التالية إلى أقرب عشرة

المناهج الكويتية  
almanahj.com/kw

\_\_\_\_\_

≈ ٥٢

\_\_\_\_\_

≈ ٣١

# قرب الأعداد التالية إلى أقرب مئة

المناهج الكويتية  
almanahj.com/kw

—————

≈ ٢٦١٩٨

—————

≈ ٤١٤٩

# قرب الأعداد التالية إلى أقرب ألف

www.almanahj.com/kw

\_\_\_\_\_

≈ ٧٥٢٢

\_\_\_\_\_

≈ ٩٩٠١٦



**تقول مريم :**

**العدد ٩٩٧٥ ≈ ١٠٠٠٠**

موقع  
المناهج الكويتية  
almanahj.com/kw

**عند تقريية إلى أقرب مئة أو إلى أقرب**

**ألف . فهل هي على صواب ؟ فسر إجابتك**