

تم تحميل هذا الملف من موقع المناهج الكويتية



الملف نماذج اختبارات تجريبية

[موقع المناهج](#) ← [المناهج الكويتية](#) ← [الصف الثاني عشر الأدبي](#) ← [تاريخ](#) ← [الفصل الأول](#)

روابط مواقع التواصل الاجتماعي بحسب الصف الثاني عشر الأدبي



روابط مواد الصف الثاني عشر الأدبي على تلغرام

[الرياضيات](#)

[اللغة الانجليزية](#)

[اللغة العربية](#)

[التربية الاسلامية](#)

المزيد من الملفات بحسب الصف الثاني عشر الأدبي والمادة تاريخ في الفصل الأول

مذكرة الجمعية الكويتية للتاريخ الحديث	1
امتحان نهاية الفترة الدراسية الاولى في مادة التاريخ	2
نموذج اجابة اختبار لنهاية الفترة الدراسية الاولى في مادة التاريخ	3
مذكرة سلمان الفارسي في مادة التاريخ	4
مراجعة شاملة في مادة التاريخ	5

مذكرات سهر التفوق

خط اليد سابقاً



اختبارات تجريبية لنهاية الفصل الدراسي الأول

٢٠٢٤ - ٢٠٢٥ م

في مادة التاريخ للصف الثاني عشر أدبي

نموذج ١

إعداد نخبة من المعلمين

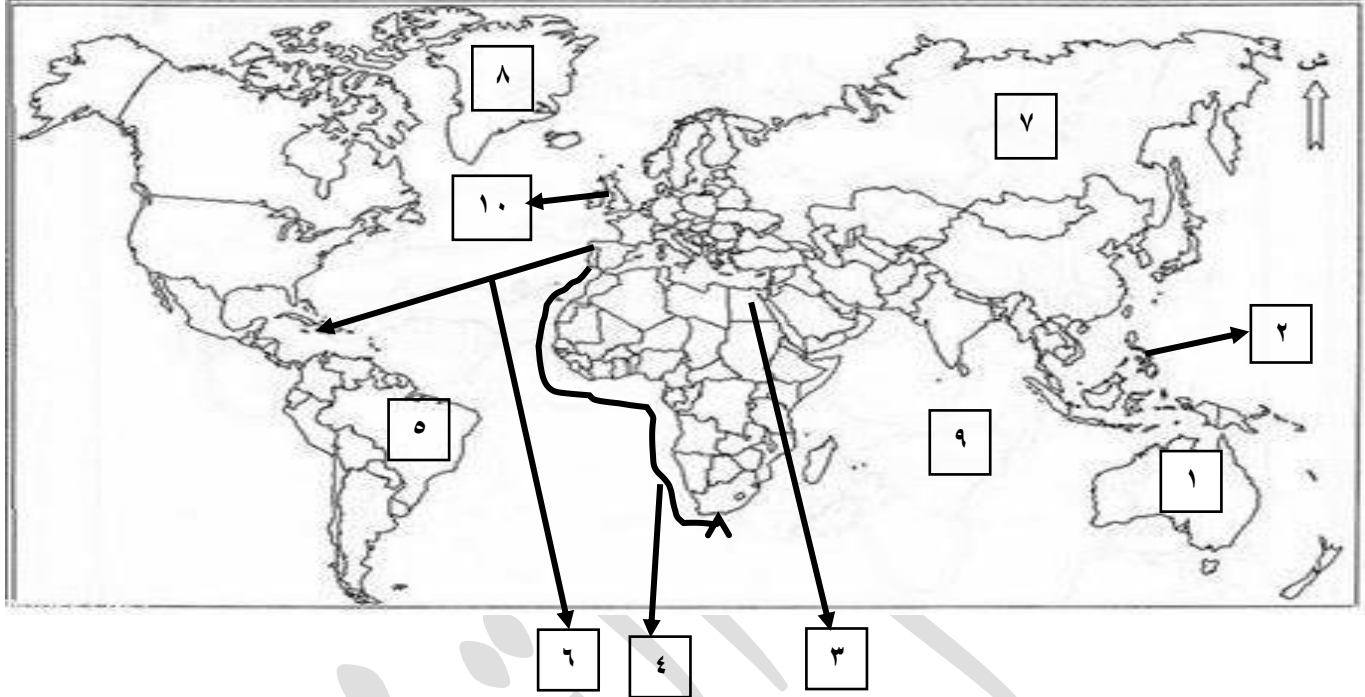
لا نحلل الطباعة والنشر

نماذج اختبارات تجريبية من اعداد معلمي مذكرات سهم التفوق

مذكرات خط اليد سابقاً

السؤال الأول: موضوعي يتكون من (أ - ب - ج)

أ - لاحظ خريطة العالم الذي أمامك ثم اكتب الرقم الدال على العبارات التالية:



- أحد مراكز انتقال الحضارة الإسلامية الى أوروبا يمثلته على الخريطة الرقم (٣) مصر
- خط سير رحلة "بارثلميودياز" يمثلها على الخريطة الرقم (٤)
- خط سير الرحالة الجغرافي " كرسطوفر كولومبس" يمثلها على الخريطة الرقم (٦)
- القارة التي وصل اليها الرحالة "جيمس كوك" يمثلها على الخريطة الرقم (١) استراليا
- الجزر التي قتل فيها الرحالة الجغرافي "ماجلان" عام ١٥٢١م يمثلها على الخريطة الرقم (٢) جزر الفلبين
- الدولة الاستعمارية التي اشتهرت في العمل بتجارة الفراء وسيطرت على إقليم سيبيريا يمثلها على الخريطة الرقم (٧) روسيا (الدولة الاستعمارية الروسية)
- الدولة التي دخلت مع فرنسا حرب السنين السبع يمثلها على الخريطة الرقم (١٠) إنجلترا
- المنطقة التي وصل اليها الرحال "امريكو فسبوتشي" يمثلها على الخريطة الرقم (٥) البرازيل
- جزيرة "جرينلند" يمثلها على الخريطة الرقم (٨)
- المحيط الهندي يمثلته على الخريطة الرقم (٩)

ب - صنف الشخصيات التالية حسب مكانها المناسب بالجدول التالي:

(ماجلان - جاك كارتية - هنري الملاح - مارتن فروبشير - جون ديفيز)

الكشوف البرتغالية	الكشوف الاسبانية	الكشوف الإنجليزية	الكشوف الفرنسية
هنري الملاح	ماجلان	مارتن فروبشير جون ديفيز	جاك كارتية

ج- ظلل الخيار الصحيح من بين الخيارات التالية:

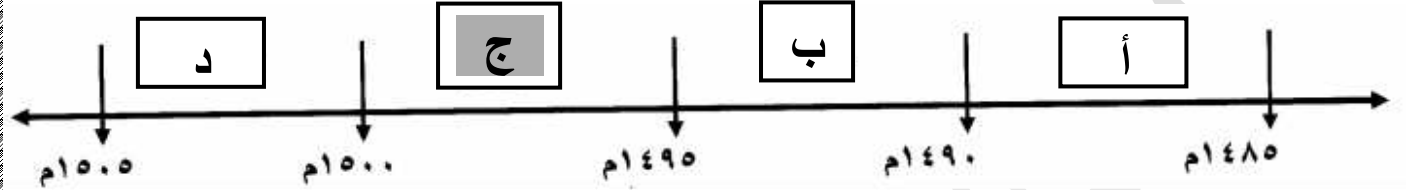
١- العاصمة البيزنطية التي فتحها السلطان محمد الفاتح منتصف القرن الخامس عشر اسمها:

روما	القسطنطينية	بوخارست	لشبونة
------	-------------	---------	--------

٢- الملكة الاسبانية التي اكتشفت في عهدا جزر الهند الغربية:

ماري	اليزابيث	ايزابيلا	فيكتوريا
------	----------	----------	----------

٣- الفترة الزمنية التي حدثت فيها رحلة جون كابوت يمثلها على المخطط الزمني الحرف:



٤- قارة غير مأهولة بالسكان وبقيت مجهولة بالنسبة للعالم حتى أوائل القرن التاسع عشر:

استراليا	أمريكا الجنوبية	افريقيا	انтарكتيكا
----------	-----------------	---------	------------

٥- الدولة التي استعمرتها فرنسا عام 1830م:

الجزائر	مصر	الأردن	العراق
---------	-----	--------	--------

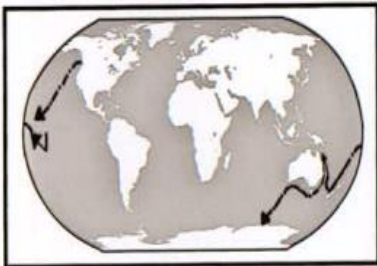
٦- العام الذي سقطت فيه الإمبراطورية الرومانية على يد القبائل الجرمانية:

٤٧٩ م	٤٧٨ م	٤٧٧ م	٤٧٦ م
-------	-------	-------	-------

٧- الرحالة الذي اكتشف نهر "بيس" وبحيرة "سليف الكبرى":

تشارلز ويلكز	روالد اموندسن	ألكسندر ماكينزي	صمويل هيرن
--------------	---------------	-----------------	------------

٨- الملاح الذي قام بالرحلة المشار إليها على الخريطة المقابلة:



هنري هيدسون	جون ديفيز
جيمس كوك	صمويل هيرن

٩- مسطح مائي عبرته رحلات الكشوف الاسبانية للوصول الى القارة الاسيوية:

المتجمد الشمالي	الهادي	الهندي	الاطلسي
-----------------	--------	--------	---------

١٠- يبلغ عدد الحجج التي علقها مارتن لوثر على كنيسة وتندرج:

٩٣	٩٤	٩٥	٩٦
----	----	----	----

١١- الرحلة التي اكتشف فيها كرسوفر كولمبس جزر الدومينكا:

الرحلة الأولى	الرحلة الثانية	الرحلة الثالثة	الرحلة الرابعة
---------------	----------------	----------------	----------------

السؤال الثاني: موضوعي يتكون من (أ - ب)

أ- أكمل العبارات التالية بما يناسبها:

- ١- الاسطول الاسباني الذي تحطم على يد الانجليز عام ١٥٨٨ م يسمى الأرمادا.
- ٢- المكتشف الأوروبي الذي وصل الى خط عرض ٧٢ شمالاً اسمه جون ديفيز.
- ٣- أول دولة أوروبية قامت بحركة الكشوف الجغرافية في نهاية القرن ١٥ م اسمها البرتغال.
- ٤- عالم الفلك الذي أثبت ان الشمس محور الكون اسمه نيكولاس كوبرنيكوس.
- ٥- العالم الذي اخترع الهاتف (التلفون) اسمه جرهام بل.
- ٦- المستكشف الذي أطلق على جزر الانتيل الصغرى والكبرى اسم "سان سلفادور" عام ١٤٩٢ م اسمه كولومبس.

ب - صحح ما تحته خط في العبارات التالية:

م	العبارات	التصويب
١	المكتشف الذي تمكن من اكتشاف مضيق هدرسن روبرت بييري.	مارتن فروبشير
٢	المكتشف الذي تمكن من الوصول الى القطب الجنوبي جون فرانكلين.	روالد أموندسن
٣	الدولة الاستعمارية التي احتلت الجزائر عام ١٨٣٠ م إيطاليا.	فرنسا
٤	الرحالة البرتغالي الذي اكتشف طريق مباشر للوصول الى الهند ألكسندر ماكينزي.	فاسكو دي جاما
٥	حاجة الاوربيين الى المزيد من الذهب والفضة كانت تسمى ازمة اقتصادية	مجاعة نقدية

السؤال الثالث: مقالي يتكون من (أ - ب - ج - د)

أ- عرف كل من:

- ١- الكرافيل: سفن عملاقة تميزت بكبر حمولتها واستعمالها لعدد أكبر من الاشرعة وازدياد القدرة على المغامرة وسط المحيطات.
- ٢- الثورة الصناعية: عملية تغيير شامل في أدوات الإنتاج ووسائله وحجمه وعلاقاته ومستواه وتبدل كامل في أساليب التمويل والتسويق والتوزيع.
- ٣- الاستعمار: ان تسيطر دولة ما بالاتفاقيات السياسية او القوة العسكرية او القوة الاقتصادية او المال او التفوق التكنولوجي والعلمي على دولة او عدة دول وتستغل مواردها وثرواتها لصالحها.
- ٤- عصر النهضة: الفترة من القرن ١٣ ميلادي الى القرن ١٦ ميلادي وتعتبر مرحلة انتقال من العصور الوسطى الى العصور الحديثة.

ب - دلائل على صحة العبارات التالية:

١- للأمير هنري الملاح دور هام في حركة الكشوف الجغرافية.

- أنشأ مدرسة بحرية اهتمت بتطوير الأدوات التي استخدمت في عملية الكشوف الجغرافية.
- أنشأ مرصداً بحرياً. - جلب علماء الرياضيات ورسامين الخرائط والفلكيين.
- الاستعانة بالمسلمين الذين لهم دراية بالمجال البحري.

٢- للمفكرين الاوربيون دور كبير في احياء الدراسات اليونانية القديمة.

- تبادل علماء القسطنطينية وإيطاليا الزيارات العلمية بحثاً عن العلوم والفنون الاغريقية والإيطالية.
- تنافس الامراء والاثرياء في انشاء المكتبات مما أدى ال ازدهار مكتبات البندقية وفلورنسا الى جانب مكتبة الفاتيكان. - ظهور الاكاديميات العلمية في إيطاليا مما ساعد على اثناء الحركة العلمية.
- جهود أسرة آل مديتشي في فلورنسا واسرة سوفرزا في ميلانو في رعاية الحركة العلمية والأدبية والفنية.
- اختراع أحرف الطباعة المعدنية على يد الألماني (حنا جوتنبرج) أدى الى سهولة طباعة الكتب.

٣- مرور المدن الأوروبية بعدة مراحل لنموها وازدهارها.

- تحالف المدن الصغيرة في شمل كومونات مما منحها الاستقلال والقوة السياسية.
 - ظهور الطبقة (البرجوازية) الوسطى التي تحالفت مع الملوك لتحطيم النظام الاقطاعي مما أحدث تغييراً كبيراً في ملامح المدن الأوروبية سياسياً واقتصادياً واجتماعياً.
 - قيام ثورة ثقافية من خلال إنشاء المدارس في المدن بعيداً عن سيطرة الكنيسة.
- ٤- يعتبر اليساندرو فولتا أحد أشهر العلماء الذين برزوا في مجال الكهرباء.
- اختراع البطارية الكهربائية مما أدى الى توليد تيار كهربائي ثابت.

ج - علل لما يلي:

١- انهيار الإمبراطورية البرتغالية في الشرق.

- سوء إدارة المستعمرات وانتشار الرشوة. - قسوة البرتغاليين في معاملة السكان الأصليين واجبارهم على اعتناق المسيحية. - السلطة كانت في يد نائب الملك في جوا وهو المسؤول امام الملك دون رقابة ويقوم بابتزاز الأموال وعدم الاعتناء بالمستعمرة. - منافسة الهولنديين والإنجليز للبرتغال في مجال الاستعمار.
- فقدت البرتغال استقلالها وضمت للتاج الاسباني.

٢- اعتبر المؤرخون سقوط العاصمتين (روما والقسطنطينية) نقطتي تحول في التاريخ.

- سقوط روما على يد القبائل الجرمانية عام ٤٧٦م بداية العصور الوسطى.
- الفتح العثماني لمدينة القسطنطينية عاصمة الإمبراطورية البيزنطية عام ١٤٥٣م بداية عصر النهضة والعصور الحديثة.

٣- ثورة الهولنديين ضد الحكم الاسباني في القرن السادس عشر الميلادي.

- بسبب تعرضهم للاضطهاد على يد الاسبان بعد اعتناقهم المذهب البروتستانتي مع ظهور حركة الإصلاح الديني.

٤- قيام الثورة الصناعية في إنجلترا.

- الاستقرار الداخلي بعد نجاح الثورة المجيدة عام ١٦٨٩م ووجود الدستور الإنجليزي ونظام الحكم البرلماني.
- وفرة رأس المال بسبب الكشوف الجغرافية حيث أصبحت لندن تتحكم في تجارة العالم. - سهولة الحصول على المواد الخام بسبب اتساع المستعمرات. - وجود القوى المحركة التي تمثلت في المساقط المائية والفحم. - الايدي العاملة الرخيصة. - تشجيع العلماء والمخترعين وتوفير الدعم والامكانيات اللازمة لهم لإتمام اختراعاتهم وابتكاراتهم. - وجود اسطول تجاري كبير سهل لإنجلترا عملية نقل المواد الخام الى مصانعها وإعادة تصديرها بعد التصنيع.

د- فرق بين كل من:

نظرية كوبرنيكوس في علم الفلك	نظرية بطليموس في علم الفلك
ان الشمس محور الكون وان الكواكب الأخرى بما فيها الأرض تسير في مدارات حول الشمس.	بنى نظريته على ان الأرض محور الكون وان الشمس والقمر والكواكب الأخرى تدور حول الأرض.
النتائج الاجتماعية لحركة الكشوف الجغرافية	النتائج الاقتصادية لحركة الكشوف الجغرافية
- اعتمدت على سياسة إبادة السكان الأصليين في العالم الجديد. كما دمر المستعمرون الجدد مدناً كاملة وقضوا على حضارة أهلها بعد ان استوطنوها ونهبوا ثروتها لسد احتياجاتهم. - جلب العبيد من افريقيا وظهور تجارة الرق. - ظهور الطبقة الرأسمالية التي لعبت دوراً مهماً في أوروبا.	- تحول طرق التجارة بين أوروبا واسيا فقد ضعفت مكانة البحر المتوسط تجارياً. - تدفقت الثروات من البضائع ومن المعادن الثمينة (الذهب والفضة) على أوروبا مما ادى الى ارتفاع كبير في أسعار المواد الغذائية فتضررت الفئات العامة والفلاحون واغتنى كبار التجار وازدادت أهمية البنوك ونمت طبقة البرجوازية التجارية. - قامت صناعات جديدة مما أدى الى زيادة رؤوس الأموال ومن هنا ظهرت الحاجة للحصول على مستعمرات لتصريف مصنوعات الدولة والحصول على المواد الأولية اللازمة للصناعة. - ظهور البورصات المالية وازدياد نشاط دور المصارف.

السؤال الرابع: مقالتي يتكون من (أ - ب - ج)

أ - قارن بين كل من:

وجه المقارنة	الانتداب	الوصاية
التعريف	ظهر إثر انتهاء الحرب العالمية الأولى عام ١٩١٩م حيث انتدبت الدول المنتصرة لإدارة شؤون الأقطار التي تحكمها الدولة العثمانية أو المانيا لهزيمتهما بالحرب بحجة الاخذ بيدها نحو التطور والاستقلال	ظهر في اعقاب الحرب العالمية الثانية عام ١٩٤٥م حيث وضعت المناطق التي كانت تحت النفوذ الألماني والإيطالي والياباني تحت وصاية دولة من اختيار الأمم المتحدة.
الأمثلة	- سوريا ولبنان تحت الانتداب الفرنسي. - فلسطين والأردن تحت الانتداب البريطاني.	- الصومال تحت الوصايا الإيطالية. - إقليم ناميبيا تحت وصاية اتحاد جنوب افريقيا.

ب - عدد كل من:

- العوامل التي ساعدت البرتغاليين في تأسيس الإمبراطورية واحتكار تجارة الشرق.
 - انشغال الدولة العثمانية بحربها مع الصفويين. - عدم توحيد القوى الإسلامية الكبرى (الدولة العثمانية - الصفوية - الملوكية).
 - تفكك بلاد الهند. - استخدام البرتغاليين قوة السلاح والبارود والاساطيل الضخمة حيث لم تكن متوفرة لدى شعوب الشرق.
- المناطق المكتشفة في رحلة "جاك كارتية".
 - اكتشاف كندا. - اكتشاف نهر سانت لورانس وجزيرة أورليانز. - وصل الى ما وراء نهر سانت لورانس وهي منطقة تسمى حالياً مونتريال. - أسس مدينة كويك.

ج-فند العبارات التالية:

١- انحصرت آثار الاستعمار الأوروبي على المستعمرات في الجانب السلبي فقط.

عبارة غير صحيحة والدليل على ذلك:

- حقق المستعمرين شيئاً من التنمية الاقتصادية للمستعمرات. - ادخلوا اليها طرق الزراعة والصناعة والعلوم الطبية الغربية. - ربط المستعمرات بالنظام الاقتصادي الدولي. - أدخلت النظام الديمقراطي بالحكم في هذه المستعمرات. - ارتفاع مستوى المعيشة والاستقرار السياسي مما أدى الى زيادة كبيرة في عدد السكان.
- ٢- أيد كتاب (الأمير) ننيقولا مكيافيللي المشاركة الشعبية في الحكم والسياسة.

عبارة غير صحيحة والدليل على ذلك:

- أيد نظام الحكم المطلق القائم على نظرية التفويض الإلهي التي تقول ان الملوك يمثلون الله على الأرض. وانهم يستمدون سلطتهم منه وائس للشعوب. - إقرار مبدأ (أن الغاية تبرر الوسيلة) بمعنى ان من حق الحاكم اتخاذ كل وسيلة تحقق استقرار حكمه مهما كانت متعارضة مع الدين او الاخلاق.

السؤال الأول: يتكون من (أ - ب - ج - د)

أ- ظلل الخيار الصحيح من بين الخيارات التالية:

١- شخصية إيطالية ساهمت في تقدم فن العمارة في عصر النهضة:

فيليو برونيلسكي	رافائيل	حنا جوتنبرج	مارتن لوثر
-----------------	---------	-------------	------------

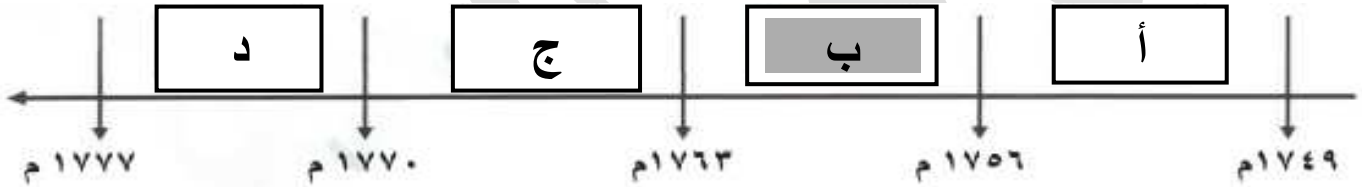
٢- مخترع التلغراف الكهربائي:

جرهام بل	وليم ماركوني	صمويل موريس	بلا نشارد
----------	--------------	-------------	-----------

٣- عالم اخترع المكوك الطائر عام ١٧٣٣م:

جيمس هارجريفز	جيمس وات	ريتشارد ار كرايت	جون كي
---------------	----------	------------------	--------

٤- الفترة الزمنية لحرب السنين السبع يمثلها على المخطط الزمني الحرف:



٥- اول شعب أوروبي قام بتأسيس امبراطورية استعمارية فيما وراء البحار:

الاسبان	البرتغاليون	الايطاليون	الانجليز
---------	-------------	------------	----------

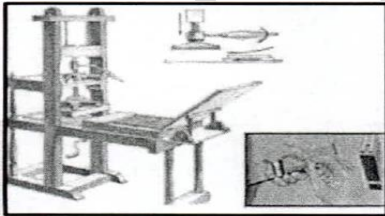
٦- الجزر التي قتل فيها الرحالة الجغرافي ماجلان عام ١٥٢١م:

الانتيل	ماديرا	الدومينكا	الفلبين
---------	--------	-----------	---------

٧- شاعر إيطالي تأثر بقصة المعراج ورسالة الغفران للشاعر العربي أبي علاء المعري:

دانتي	ارازموس	بوكاشيو	بترارك
-------	---------	---------	--------

٨- الأثر المترتب على اختراع الآلة التي تمثلها الصورة:



سهولة طباعة الكتب	انتاج آلات من الصلب
بث الإشارات والاصوات	استخدام قوة الماء لعملية الغزل

٩- الساحل الذي اكتشفه الرحالة أمريكي فسيوتشي:

السنغال	كلكتا	المكسيك	مونتريال
---------	-------	---------	----------

١٠- العام الذي قامت فيه الثورة المجيدة في إنجلترا:

١٦٨٦م	١٦٨٧م	١٦٨٨م	١٦٨٩م
-------	-------	-------	-------

١١- المجال الذي اشتهر فيه الفنان "مايكل انجلو":

النحت	العمارة	التصوير	الرسم
-------	---------	---------	-------

ب - اكتب المفاهيم او المصطلحات الدالة على العبارات التالية:

- ١- (الغزو العسكري) احتلال بالقوة العسكرية.
- ٢- (العصور الوسطى) العصور التاريخية التي تميزت بسيطرة رجال الكنيسة والنظام الاقطاعي.
- ٣- (الاكاديميات) أماكن مخصصة يلتقي فيها الطلاب مع معلمهم في حلقات الدروس اثرت الحركة العلمية في أوروبا.
- ٤- (البرجوازية) طبقة وسطى تحالفت مع الملوك لتحطيم النظام الاقطاعي.

ج- أكمل العبارات التالية بما يناسبها:

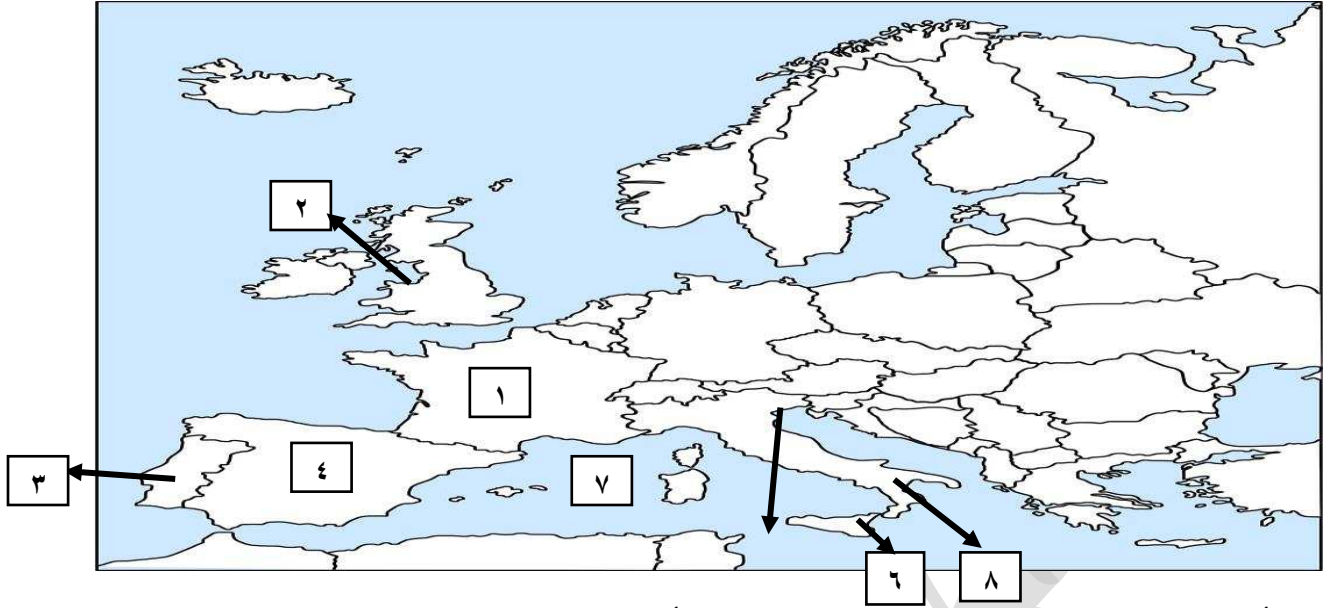
- ١- الاستعمار الذي اخضع سيبيريا وعمل بتجارة الفراء اسمه الروسي.
- ٢- فنان متعدد المواهب اطلق عليه لقب (عبقرى النهضة) اسمه ليوناردو دافنشى.
- ٣- جزر وصل اليها الملاح جيمس كوك عام ١٧٧٦م اسمها هاواي.
- ٤- مكتشف اثبت ان قارة انتاركتيكا عبارة عن كتلة ضخمة مغطاة بالتلج اسمه تشارلز ويلكز.
- ٥- الاختراع الذي توصل اليه توماس اديسون عام ١٨٧٧م اسمه المصباح الكهربائى.

السؤال الثاني: موضوعي يتكون من (أ - ب)

أ - صحح ما تحته خط في العبارات التالية:

م	العبارات	التصويب
١	المحور الرئيسي للأعمال الفنية بعصر النهضة <u>الكنيسة</u> .	الانسان
٢	نتج عن رحلة فاسكو دي جاما وصول البرتغال الى <u>السنغال</u> .	الهند
٣	الشكل الذي تحالفت فيه المدن الأوروبية الصغيرة مما منحها الاستقلال والقوة السياسية يسمى <u>البرجوازية</u> .	الكومونات
٤	الآراء المضادة للفكر الرأسمالي تسمى <u>الامبريالية</u> .	الاشتراكية
٥	أسهم "الاخوان رايت" في احداث الثورة الصناعية في مجال <u>التعدين</u> .	الطيران

ب - أمامك خريطة العالم الصماء أكتب الرقم الدال على العبارات التالية:



- أول دولة أوروبية قامت بحركة الكشوف الجغرافية أو (دولة استعمارية سيطرت على مضيق هرمز عام ١٥٠٧م) يمثلها على الخريطة الرقم (٣) البرتغال
- الدولة التي يقع فيها ميناء بريستول الذي أبحر منه الرحالة الجغرافي "جون كابوت" أو (القاعدة التي انطلقت منها الثورة الصناعية) يمثلها على الخريطة الرقم (٢) إنجلترا
- جزيرة صقلية يمثلها على الخريطة الرقم (٦)
- بلاد الاندلس يمثلها على الخريطة الرقم (٤)
- مدينة البندقية يمثلها على الخريطة الرقم (٥)
- أول الدول الأوروبية في حركة النهضة يمثلها على الخريطة الرقم (٨) إيطاليا
- الدولة الاستعمارية التي انتدبت على سوريا ولبنان أو (دولة استعمارية احتلت الجزائر عام ١٨٣٠م) يمثلها على الخريطة الرقم (١) فرنسا
- المسطح المائي الذي قلت أهميته بعد حركة الكشوف الجغرافية يمثلها على الخريطة الرقم (٧) البحر المتوسط

السؤال الثالث: مقالي يتكون من (أ - ب - ج - د)

أ- عدد ما يلي:

١- عوامل قيام النهضة في إيطاليا. او (أسبقت إيطاليا في حركة النهضة الأوروبية)

- لعبت دور الوسيط التجاري بين موانئ البحر المتوسط. - وجود مركز البابوية فيها.
- حلقة اتصال بين الشرق والغرب. - ماضي الإمبراطورية الرومانية العريقة.

٢- الآثار السلبية للاستعمار الأوروبي.

- قامت القوى الاستعمارية باستغلال مستعمراتها واستفادت منها اقتصادياً. - الزموا المستعمرات بإنتاج المواد الخام وشراء معظم السلع المصنعة من الدول الحاكمة. - حطم المستعمرون الأنشطة التجارية والصناعية في المستعمرات. - فرض ثقافتهم على الشعوب المستعمرة.
- فقد شعوب المستعمرات القدرة على التحكم في مقدراتها الاقتصادية. - توقف التحسن في مستوى المعيشة.

ب- فرق بين كل من:

الكشوف الجغرافية البرتغالية من حيث الاتجاه	الكشوف الجغرافية الإسبانية من حيث الاتجاه
اتجه البرتغاليون في كشوفهم الجغرافية الى (الشرق) لتحقيق أهدافهم.	اتخذوا الاتجاه (غرباً) وذلك بعبور المحيط الأطلسي للوصول الى القارة الآسيوية لتحقيق هدفهم.
نتائج الثورة الصناعية من الناحية السياسية	نتائج الثورة الصناعية من الناحية الاجتماعية
- سيطرة الطبقة الرأسمالية على مقاليد السلطة السياسية في أوروبا. - التسابق الاستعماري حول المستعمرات لجلب المواد الخام منها وجعلها أسواق للإنتاج الصناعي. - ظهور الأحزاب السياسية عن حقوق العمال.	- زيادة السكان في أوروبا وارتفاع المستوى المعيشي نتيجة لنمو الدخل القومي. - ظهور الصراع الطبقي بين طبقة العمال الكادحين والطبقة الرأسمالية المسيطرة. - انتشار الآراء الاشتراكية المضادة للفكر الرأسمالي.
المظاهر الأدبية في عصر النهضة	المظاهر الفنية في عصر النهضة
- الاهتمام بدراسة الانسان باعتباره محور الحياة. - جهود الانسانيين الذين عبروا في كتاباتهم الأدبية عن صورة الانسان الذي يتصف بالإبداع والثقة في النفس والمحب للحياة بجوانبها المشرقة.	- حرص الفنانون على محاكاة الفنون القديمة في الروح والتعبير مع التجديد والابتكار والابداع. - أصبح الانسان المحور الرئيسي الذي تدور حوله الاعمال الفنية لتعبر عن قدراته وتقدمه في صورة جميلة مشرقة محب للحياة قادر على العطاء والإنتاج في شتى مجالات الحياة. - وجد الفنانون التشجيع والدعم الفني والمعنوي فأنتجوا أعظم أعمالهم الفنية التي حولت المدن الأوروبية الى متاحف.

ج - عرف كل من:

- ١- النهضة الأوروبية: حركة انطلقت من إيطاليا ثم انتقلت الى كافة انحاء أوروبا بهدف إعادة اكتشاف الذات وإعادة احياء الامجاد اليونانية والرومانية القديمة في كافة مجالات العلوم والآداب والفنون.
- ٢- الانسانيين: هم ادباء عبروا في كتاباتهم الأدبية عن صورة الانسان الذي يتصف بالإبداع والثقة في النفس والمحب للحياة بجوانبها المشرقة.
- ٣- الكشوف الجغرافية: حركة قام بها الاوروبيون خلال القرنين ١٥ و ١٦ الميلاديين للتعرف على اراض جديدة لم تكن معروفة لهم من قبل في المعمورة.
- ٤- المعاهدات والاتفاقيات الخاصة: عقد معاهدات حماية بين دولة أوروبية (المستعمرة) والدولة الضعيفة تحت ستار من الحجج والأسباب.

د - لاحظ الصورة المقابلة ثم اجب عن الأسئلة التالية:



- ١- ما اسم صاحب الصورة؟ - مارتن لوثر
- ٢- ما اسم الحركة التي قادها صاحب الصورة؟ - حركة الإصلاح الديني.
- ٣- عدد - النتائج المترتبة على تلك الحركة.
- الصراع الكبير بين اتباع لوثر والكنيسة. - ثورات وحروب.
- نبهت لأهمية تحرير الكنيسة من مفسدها والتخلص من هيمنتها على حياة الناس.
- ٤- ماذا كان يحدث لو لم - ينادي صاحب الصورة بإصلاح أوضاع الكنيسة.
- لما حدثت اكبر حركة اصلاح ديني في أوروبا. - لما قام الصراع بين اتباعه والكنيسة.
- لما قامت الثورات والحروب. - لما تم المطالبة بتحرير الكنيسة من المفساد والتخلص من هيمنتها على حياة الناس.
- ٥- اذكر - أهم حجج صاحب الصورة التي علقها على باب كنيسة وتبرج.
- معارضة فكرة صحوك الغفران. - رفض احتكار البابا لتفسير الكتاب المقدس. - طلب انقاص عدد الاديرة.
- عارض الحج الى روما. - المطالبة بالسماح بزواج رجال الدين.

السؤال الرابع: مقالتي يتكون من (أ - ب - ج - د)

أ - نفذ المطلوب مما بين القوسين:

- ١- انهيار الإمبراطورية الاستعمارية الإسبانية. (اسبابها)
 - استبداد الاسبان والمعاملة السيئة للشعوب الأصلية. - استغلال المستعمرات لمصلحة اسبانيا والملك.
 - تدفق الثروات على الاسبان حرض قرصنة الانجليز والهولنديين والفرنسيين بتشجيع من حكوماتهم بالسطو على السفن الاسبانية. - تحطيم الاسطول الاسباني (الارمادا) على يد الانجليز عام ١٥٨٨م مما أدى الى ضعف القوة البحرية الاسبانية.
- ٢- الثورة الصناعية. (النتائج الاقتصادية)
 - قيام المصانع الكبيرة التي تعتمد على الصناعة الآلية مما أدى الى زيادة الإنتاج.
 - انتعاش النشاط الاقتصادي من خلال حركة البنوك والوكالات التجارية ومراكز التوزيع والتسويق.
 - اتساع النشاط التجاري العالمي. - ارتفاع الدخل القومي نتيجة لزيادة عائدات التجارة.
 - ظهور المدن الصناعية واتساع حركة العمران في أوروبا. - سيادة النظام الاقتصادي الرأسمالي.
- ٣- حركة الكشوف الجغرافية. (الدافع الاقتصادي)
 - البحث عن التوابل. - محاولة تخطي الوساطة التجارية الإسلامية وسيطرتها على طرق التجارة.
 - الوصول الى منابع التجارة الاسيوية والافريقية. - حاجة الاوربيون الى المزيد من الذهب والفضة.
 - الحروب التي عانت منها أوروبا في أواخر القرن الخامس عشر وترتب عليها حدوث ازمة اقتصادية في أوروبا.
 - العثور على أراضي جديدة للسيطرة عليها الايواء من ضاقت بهم اوطانهم بسبب زيادة عدد السكان.

ب - علل لما يلي:

- ١- يعتبر الدافع الديني أحد أسباب الكشوف الجغرافية.
 - رغبة الدول الأوروبية بنشر المسيحية في المناطق المكشوفة. - محاولة تطويق العالم الإسلامي.
 - تقوية الممالك المسيحية.
- ٢- انهيار الإمبراطورية الاستعمارية الهولندية.
 - الهولنديون امة صغيرة غير قادرة على حماية الإمبراطورية التي تم تأسيسها بشكل كبير تجاوز حدود إمكاناتهم.
 - كان اعتمادهم الأول على التجارة مما أدى لإهمال قطاعي الزراعة والصناعة.
 - سياستهم الاستبدادية في المستعمرات. - منافسة الدول الأوروبية الجديدة لها مثل إنجلترا وفرنسا.
- ٣- قيام حركة الإصلاح الديني.
 - جهود الحركة الإنسانية في التنبيه لأهمية اصلاح الكنيسة. - الرغبة في تحرير التقدم العلمي من قيود الكنيسة.
 - اهتمام أوروبا بجوانب الحياة الدنيوية. - ظهور كثير من المصلحين الذين نادوا بتخليص الكنيسة من مفسدها.
- ٤- احياء المفكرين الأوروبيين الدراسات اليونانية القديمة.
 - لاستعادة المجد الادبي والعلمي العريق.

ج - قارن بين كل من:

وجه المقارنة	الاستيطان	التمييز العنصري
التعريف	هجرة مجموعة من سكان دولة أجنبي قوية الى دولة ضعيفة وتملك الأرض بطرد السكان المحليين وتكون الهجرة على شكل ارساليات تنصيرية / تجار / سياح.	أسلوب استعماري قائم على التفرقة بين الناس بسبب اللون او الجنس او الدين حيث مورست فيه ألوان من القهر والاستعباد.
الأمثلة	- هجرة الاوربيون للعالم الجديد وطرد الهنود الحمر. - هجرة الاوربيون لأستراليا وطرد السكان الأصليين. - الغزو الصهيوني لفلسطين.	- جنوب فريقيا. - فلسطين وممارسات الصهاينة.

د - كون فقرة باستخدام الكلمات التالية:

كولومبس - الملكة ايزابيلا - مشروعه - المسلمين - ١٤٩٢م

عرض كولومبس مشروعه على ملك البرتغال فرفضه بناء على توصية مستشاريه الذين رأوا انه لا ضرورة للبحث عن طرق جديدة وعلى أثر ذلك توجه لإسبانيا وقدم مشروعه الى الملك فرديناند والملكة ايزابيلا ولكنها رفضت بدعوى انها مشغولة بالحرب مع المسلمين في الاندلس الا انه لم ييأس من رفضها وانتظر الى ان انتهت الحرب وعاد ليجدد طلب تمويل ايزابيلا لمشروعه وبالفعل وافقت له ومولته في عام ١٤٩٢م.