

تم تحميل هذا الملف من موقع المناهج الكويتية



التعليم الخاص

الملف نموذج إجابة اختبار التعليم الخاص

[موقع المناهج](#) ← [المناهج الكويتية](#) ← [الصف السادس](#) ← [اجتماعيات](#) ← [الفصل الثاني](#)

روابط مواقع التواصل الاجتماعي بحسب الصف السادس



روابط مواد الصف السادس على تلغرام

[الرياضيات](#)

[اللغة الانجليزية](#)

[اللغة العربية](#)

[التربية الاسلامية](#)

المزيد من الملفات بحسب الصف السادس والمادة اجتماعيات في الفصل الثاني

مراجعة	1
مراجعة	2
مراجعة	3
مذكرة في مادة الاجتماعيات	4
مراجعة محلولة ومفيدة في مادة الاجتماعيات	5

(١ × ٦ = ٦ درجات)

السؤال الأول: (موضوعي) ويتكون من (أ- ب):

(أ) أكمل العبارات بما يناسبها مما درست:

- ١- حقل في جنوب دولة الكويت به كميات ضخمة من النفط يسمى برقان ص ٨٧
- ٢- الدولة الخليجية التي ظهرت فيها حضارة أم النار تسمى قطر ص ١٠٥
- ٣- أقل دولة خليجية في نسبة المواطنين تسمى الإمارات ص ١١٢
- ٤- الشيخ الذي تم في عهده تصدير أول شحنة نפט اسمه الشيخ أحمد الجابر الصباح ص ٩٠
- ٥- القوات التي أنشأها مجلس التعاون الخليجي عام ١٩٨٤م بهدف حماية دول المجلس تسمى درع الجزيرة ص ١٢٩
- ٦- الدرع الواقي للأحياء ضد خطر الأشعة فوق البنفسجية الضارة يسمى طبقة الأوزون ص ١٣٥

(١ × ٦ = ٦ درجات)

(ب) ظلل الخيار الصحيح من بين الخيارات التي تلي كل عبارة:

- ١- توحيد المناهج التعليمية وتطويرها بين دول الخليج العربية تعتبر من مجالات التعاون : ص ١٣٠

التقافي	السياسي	الاقتصادي	العسكري
---------	---------	-----------	---------

- ٢- منطقة في عمان اشتهرت بصناعة النحاس : ص ٩٦

امسيعيد	الجبيل	صحار	الرويس
---------	--------	------	--------

- ٣- الدولة الخليجية التي لم تتعرض للاستعمار الأجنبي : ص ١٢٠

قطر	السعودية	عُمان	البحرين
-----	----------	-------	---------

- ٤- حضارة وجدت في دولة الإمارات : ص ١٠٥

دلمون	أم النار	تاورت	هيلي
-------	----------	-------	------

- ٥العام الذي تعرضت فيه دولة الكويت للغزو العراقي الغاشم : ص ١٣٩

١٩٦٠م	١٩٧٠م	١٩٨٠م	١٩٩٠م
-------	-------	-------	-------

- ٦- أكثر دولة خليجية من حيث الكثافة السكانية : ص ١١٤

السعودية	البحرين	عُمان	الكويت
----------	---------	-------	--------

السؤال الثاني: (موضوعي) ويتكون من (أ-ب-ج):

(١ × ٦ = ٦ درجات)

(أ) صوب ما تحته خط في العبارات التالية:

م	العبرة	التصويب
١	بدأ التنقيب عن النفط في دولة الكويت عام ١٩٣٦م .	١٩٣٤م ص ٨٧
٢	العنف عادة <u>موروثة</u> .	متعلمة ص ١٤٦
٣	تتركز الصناعات النفطية في مملكة البحرين بمنطقة <u>الفحل</u> .	شمال سترة ص ٩٦
٤	القبائل العربية التي هاجرت إلى أبو ظبي تسمى <u>المعاضيد</u> .	بني ياس ص ١٠٨
٥	تعرض الغلاف الجوي لمواد تسبب الضرر للإنسان والكائنات الحية الأخرى و تؤدي إلى الإضرار بالبيئة هو <u>التلوث المائي</u> .	الهوائي ص ١٣٤
٦	إعادة تصدير البضائع المستوردة يسمى <u>الواردات</u> .	ترانزيت ص ٩٩

almanahj.com/kw

(ب) صنف أسماء المناطق الزراعية التالية حسب الدول الموضحة في الجدول الذي يليها:

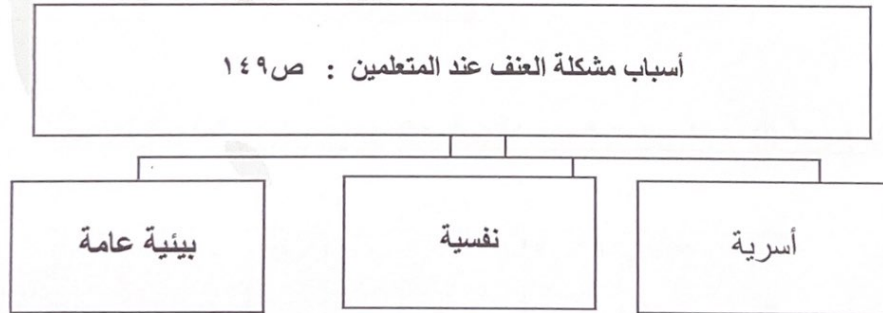
(١ × ٤ = ٤ درجات)

(سهل تهامة - ليوا - سهل الباطنة - العبدلي) ص ٩٢

مناطق زراعية في دول مجلس التعاون الخليجي			
الكويت	الإمارات	السعودية	عُمان
العبدلي	ليوا	سهل تهامة	سهل الباطنة

(١ × ٢ = ٢ درجات)

(ج) أكمل المخطط السهمي التالي:



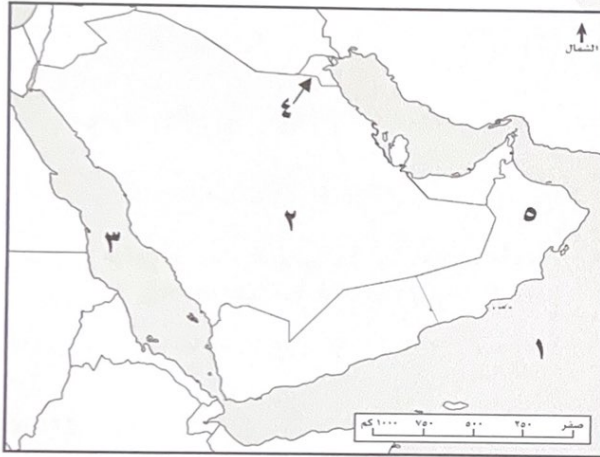
السؤال الثالث: (موضوعي) ويتكون من (أ- ب-ج):

(١ × ٥ = ٥ درجات)

(أ) اكتب المفهوم أو المصطلح الدال على العبارات التالية:

م	العبرة	المفهوم أو المصطلح
١	مجموع الدخول التي تحصل عليها الدولة خلال عام.	الدخل القومي ص ٩٥
٢	الضرر الذي يصيب عناصر البيئة الأساسية فتتحول من عناصر مفيدة إلى عناصر ضارة.	التلوث ص ١٣٣
٣	تحويل المواد الخام إلى مواد يمكن الاستفادة منها.	الصناعة ص ٩٥
٤	مجموعة من الناس تشترك فيما بينها في الصفات الجسمانية الرئيسية.	السلالة ص ١٠٦
٥	التغيير الذي يحدث لعدد السكان نتيجة للزيادة الطبيعية وغير الطبيعية.	النمو السكاني ص ١١١

(ب) لاحظ خريطة شبه الجزيرة العربية الصماء ثم اكتب الرقم الدال على العبارات التالية: (١ × ٤ = ٤ درجات)



- ١- الدولة الخليجية التي توجد بها منطقة الشعيبة الصناعية يمثلها الرقم ٤ ص ٩٧
- ٢- الدولة الخليجية التي يوجد بها حقل الغوار يمثلها الرقم ٢ ص ٩١
- ٣- الدولة الخليجية التي هاجرت إليها قبائل الأزد يمثلها الرقم ٥ ص ١٠٨
- ٤- بحر العرب يمثلها الرقم ١ ص ٩٢

(ج) اختر للمجموعة (أ) ما يناسبها من المجموعة (ب) وذلك بوضع الرقم في المكان المناسب :

(١ × ٣ = ٣ درجات)

م	(أ) ص ١٥٠/١٤٢	الرقم	(ب)
١	الاهتمام بالقراءة والمطالعة بدلاً من أصدقاء السوء.	٣	وظائف العمالة المنزلية.
٢	يتحمل كل فرد في الأسرة مسؤوليته والقيام بدوره.	١	حلول لعلاج مشكلة العنف.
٣	طباخ ، سائق ، مربية .	٢	حلول لعلاج مشكلة العمالة المنزلية

السؤال الرابع: (مقالى) ويتكون من (أ-ب-ج):

(أ) علل لما يلى:

(٤ درجات)

- ١- انتعاش الموانئ التجارية في دول الخليج العربية. (يكتفى بنقطة واحدة/ درجة) ص ٩٩
 - لارتباط دول مجلس التعاون بعلاقات تجارية مع دول العالم وفيما بينها أيضاً (الصادرات والواردات).
 - تجارة الترانزيت.
- ٢- استخدام كلمة خليجين للدلالة على سكان منطقة الخليج العربية بدلاً من إطلاق لفظ دولة. (درجة) ص ١١٧
 - بسبب التشابه الثقافي بين دول الخليج العربية.
- ٣- العدوان العراقي على دولة الكويت له تأثير تدميري على البيئة البرية والبحرية والهوائية. (يكتفى بنقطتين/ درجتان)
 - تفجير وإحراق معظم الآبار النفطية الكويتية (٧٣٧) بئراً. / ضخ النفط متعمداً في مياه البحر. ص ١٣٩
 - أحدثت البحيرات النفطية تلوثاً للتربة وتدمير للحياة الفطرية. / كميات كبيرة من الدخان محدثاً تلوثاً هوائياً هائلاً / تساقط الرذاذ النفطي على التربة حيث تحول لون الرمال من اللون الأصفر إلى اللون الأسود.

almanahj.com/kw

(ب) فرق بين كل مما يلى:

(٤ درجات)

إنتاج النفط ص ٨٨	احتياطي النفط ص ٨٨
كميات النفط التي يتم استخراجها للاستفادة منها	كميات النفط المخزونة في باطن الأرض
بيوت بلاستيكية ص ٩٤	الزراعة بدون تربة ص ٩٤
يزرع فيها الخضراوات في غير مواسمها (أوقاتها) وتقوم بحماية المحاصيل من تقلبات الجو.	هي الزراعة التي تتم في بيئة مائية أو رملية أو حصى أو نشارة خشب تضاف إليها المحاليل الغذائية.

(ج) عدد لما يلى:

(٤ درجات)

- ١- مظاهر التعاون السياسي بين دول مجلس التعاون الخليجي. (يكتفى بنقطتين/ درجتان) ص ١٢٩
 - ادانة احتلال الجزر الإماراتية الثلاث. / مناصرة القضايا العادلة مثل قضية الشعب الفلسطيني وحقه في تقرير مصيره.
 - توحيد الموقف السياسي الخليجي تجاه عدوان النظام العراقي البائد على دولة الكويت.
- ٢- أسباب التلوث المائي. (يكتفى بنقطتين/ درجتان) ص ١٣٦
 - مخلفات المصانع / النفط ومشتقاته / النفايات الخطرة .
 - الأمطار الحمضية / مياه الصرف الزراعي / مياه الصرف الصحي غير المعالجة.

السؤال الخامس: (مقالى) ويتكون من (أ-ب-ج):

(أ) عرف ما يلي:

(٣ درجات)

- ١- الثقافة: مجموعة من العادات والتقاليد والقيم في مجتمع من المجتمعات. ص ١١٨
- ٢- التلوث الأرضي: دخول مواد غريبة في التربة مما يلحق الضرر في خواصها ومكوناتها. ص ١٣٤
- ٣- العمالة المنزلية: مجموعة من الأفراد الذين يشاركون الأسرة في دور أو أكثر داخل المنزل أو خارجه من المربيات والطباخين والسائقين والخدم... إلخ. ص ١٤٢

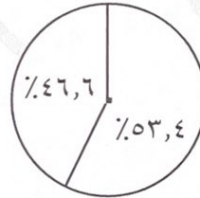
(ب) اقرأ الفقرة التالية ثم أجب عما يليها من أسئلة:

(٥ درجات)

" شهدت دولة الكويت و دول الخليج العربية تزايداً مستمراً في عدد السكان بعد اكتشاف النفط بسبب الزيادة الطبيعية والزيادة غير الطبيعية ، و على الرغم من أن الكثافة السكانية تبدو منخفضة في منطقة الخليج العربية إلا أنه هناك بعض دول الخليج العربية لديها خلل في توزيع السكان مثل دولة الكويت فنسبة عدد الوافدين (٥٣,٤%) أكثر من عدد المواطنين (٤٦,٦%) وفقاً لإحصاء عام ٢٠٠٦م. "

almanahj.com/kw

١. ما المقصود بما تحته خط : (عدد المواليد - عدد الوفيات) ص ١١٠
٢. عدد العوامل التي شجعت على استقطاب الهجرات لمنطقة الخليج العربية . (يكتفي بنقطتين) ص ١١١
 - الأمن والأمان / ارتفاع الأجور / السماح للوافدين باصطحاب عائلاتهم .
 - توفر فرص العمل / توفر الرعاية الصحية .
٣. اكتب في الدائرة البيانية التالية نسبة المواطنين والوافدين بدولة الكويت في مكانها الصحيح. (درجتان) ص ١١٢



(٤ درجات)

(ج) اكتب فيما يلي:

- ١- الروابط التي تربط بين سكان دول الخليج العربية. (يكتفي بنقطتين) ص ١١٧-١٢٠
 - وحدة الأصل / العادات والتقاليد.
 - الدين واللغة / التاريخ المشترك .
- ٢- أهم الدول المستوردة للنفط الكويتي. (يكتفي بنقطتين) ص ٩٠
 - الولايات المتحدة الأمريكية .
 - اليابان / هولندا .

انتهت الأسئلة