

تم تحميل هذا الملف من موقع المناهج الكويتية



الملف نموذج إجابة التعليم الخاص

[موقع المناهج](#) ⇐ [المناهج الكويتية](#) ⇐ [الصف السادس](#) ⇐ [اجتماعيات](#) ⇐ [الفصل الأول](#)

روابط مواقع التواصل الاجتماعي بحسب الصف السادس



روابط مواد الصف السادس على تلغرام

[الرياضيات](#)

[اللغة الانجليزية](#)

[اللغة العربية](#)

[التربية الاسلامية](#)

المزيد من الملفات بحسب الصف السادس والمادة اجتماعيات في الفصل الأول

نموذج احابة اختبار لمنطقة مبارك الكبير عام 2016	1
اوراق عمل مهمة في مادة الاجتماعيات	2
بنك اسئلة ممتاز في مادة الاجتماعيات	3
بنك معلومات مهم في مادة الاجتماعيات	4
تلخيص اجتماعيات بشكل مبسط	5



أجب على جميع الأسئلة:

(١ × ٦ = ٦ درجات)

السؤال الأول: موضوعي ويتكون من (أ - ب) :

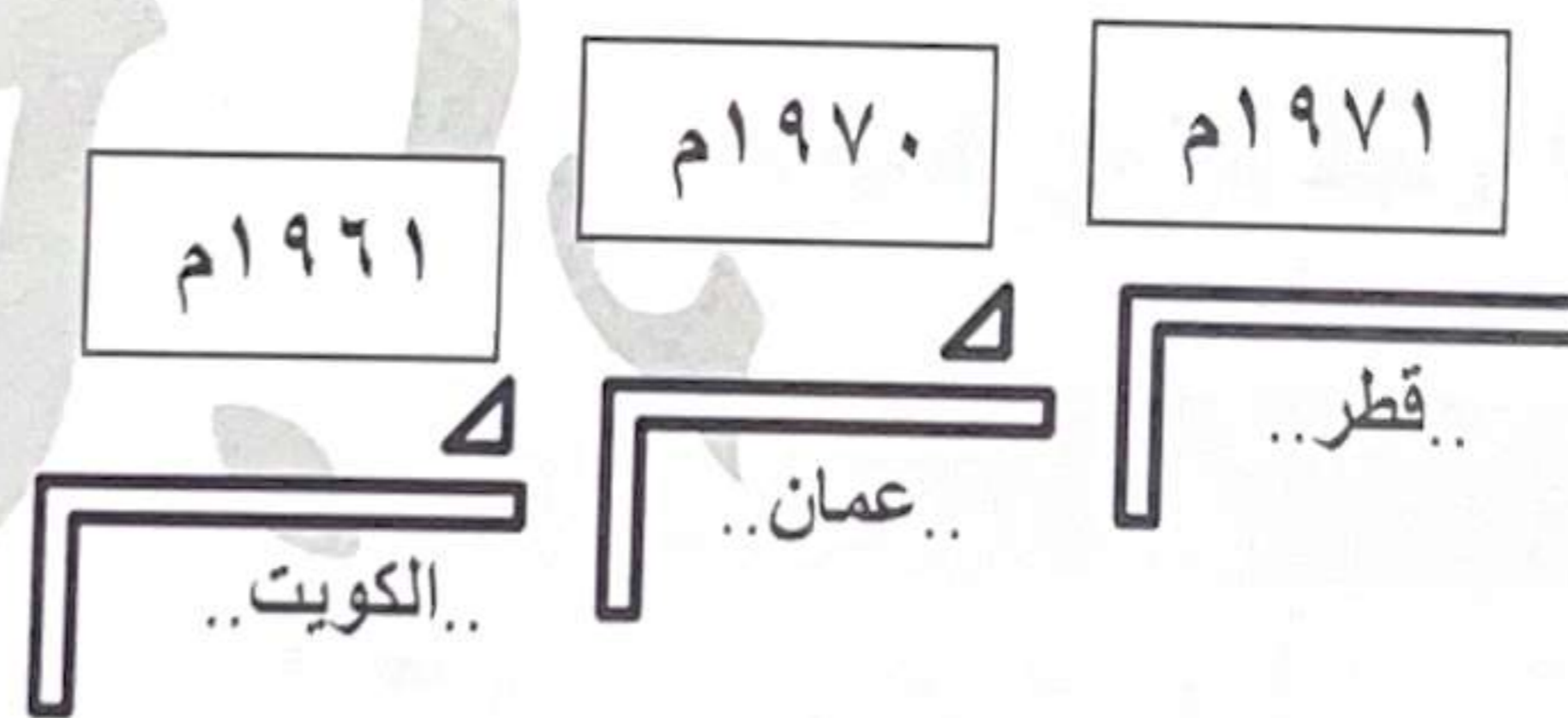
أ- ضع خطأ تحت الخيار الصحيح من بين الخيارات التي تلي كل عبارة :

- ١- أشكال سطح الأرض تعني: ص ٢٣
أ- المناخ ب- الإقليم ج- البيئة د- التضاريس
- ٢- القرن الميلادي الذي ظهر فيه الإسلام : ص ٥٣
أ- السابع ب- السادس ج- الخامس د- الرابع
- ٣- الحضارة التي استوطنت في جزيرة فيلكا : ص ٤٧
أ- الفينيقية ب- الفرعونية ج- الهلينستية د- الآشورية
- ٤- نبات يرتبط وجوده بموسم سقوط المطر (حولي) : ص ٢٦
أ- العرفج ب- الخبيزة ج- التندا د- الرمث
- ٥- المنطقة التي هاجر إليها القواسم : ص ٥٧
أ- رأس الخيمة ب- الشارقة ج- أبوظبي د- عجمان
- ٦- البلد الخليجي الوحيد الذي لم يتعرض للاستعمار : ص ٦٥
أ- البحرين ب- قطر ج- عمان د- السعودية

ب- رتب الأحداث التاريخية التالية ترتيباً تصاعدياً بكتابة الإجابة الصحيحة في المكان المناسب:

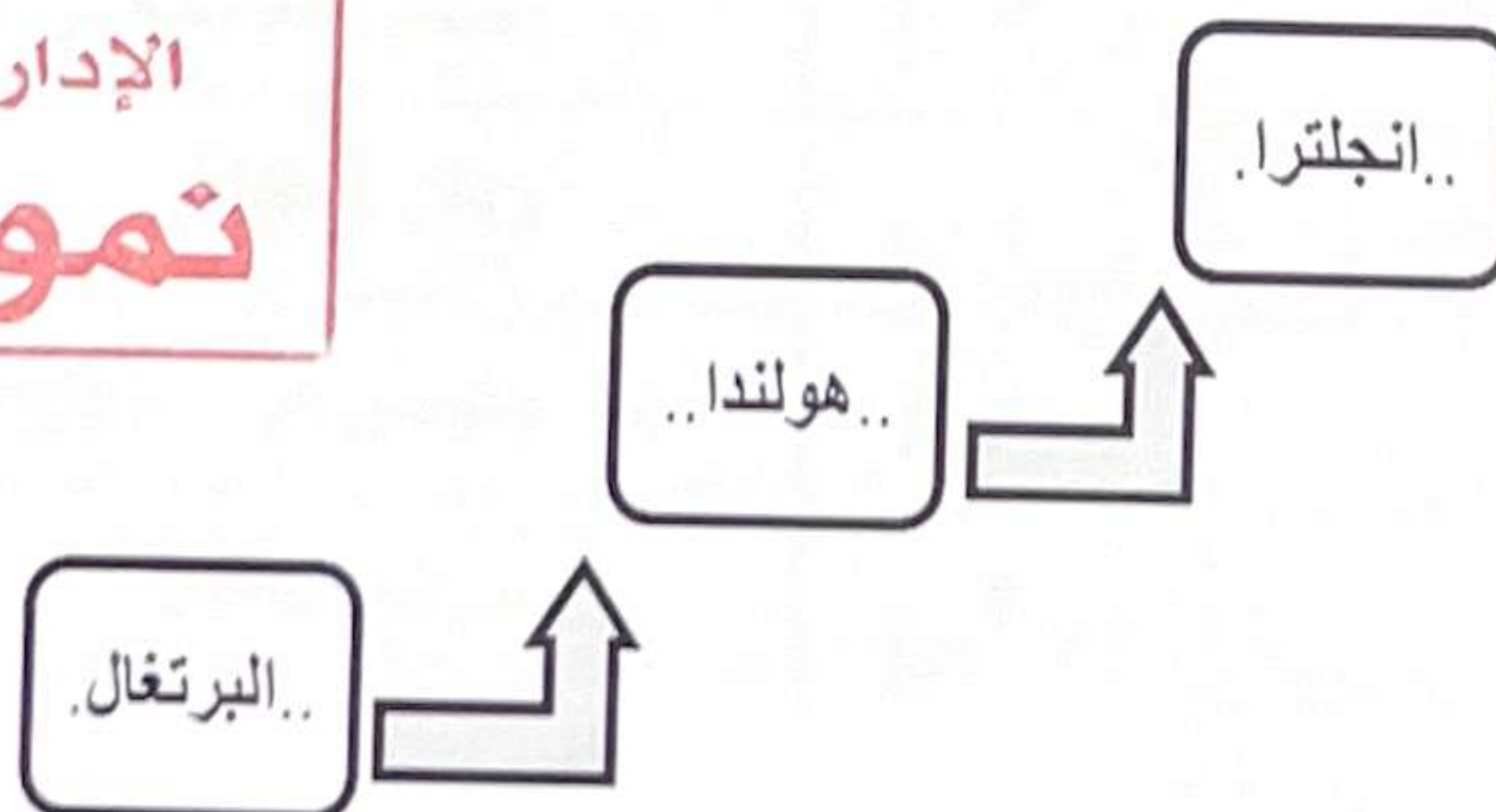
١- استقلال دول منطقة الخليج العربية.

(١- قطر ٢- الكويت ٣- عمان) ص ٦٥ (١ × ٦ = ٦ درجات)



٢- الدول الاستعمارية التي توالى على منطقة الخليج العربية .

(انجلترا - البرتغال - هولندا)



(١)

تم التحميل من شبكة ياكويت التعليمية



Telegram:
[ykuwait_net_home](https://t.me/ykuwait_net_home)



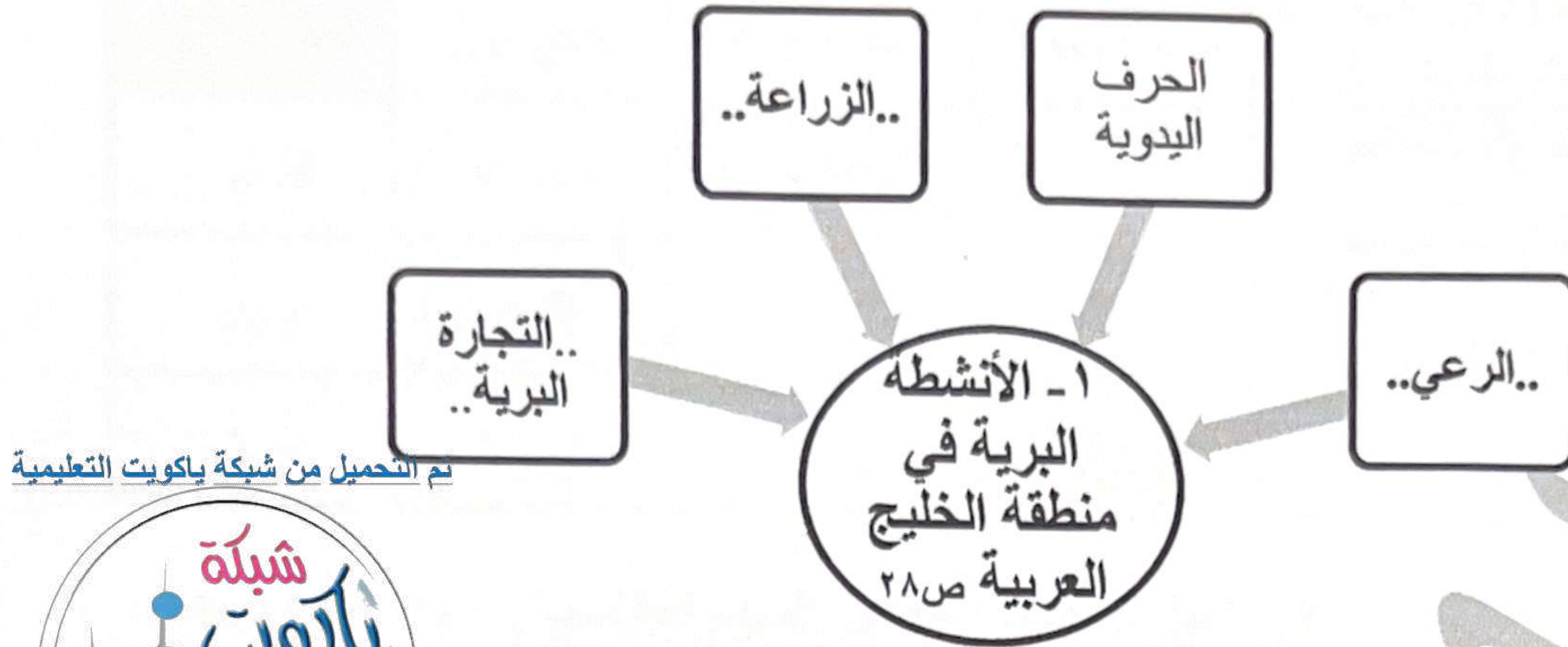
ص ٦٠

وزارة التربية
الإدارة العامة للتعليم الخاص

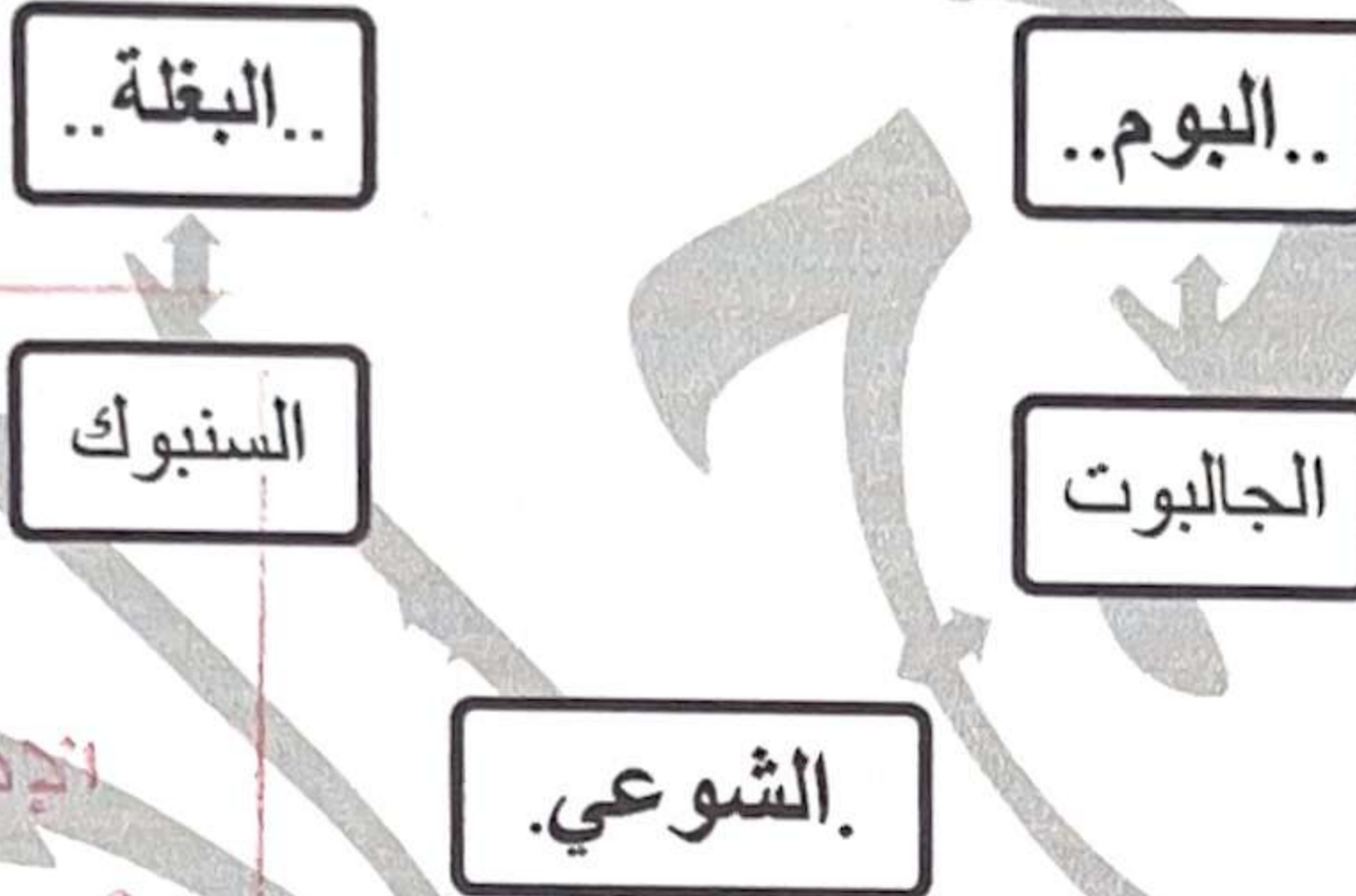
نموذج الإجابة

(١ × ٦ = ٦ درجات)

أ- أكمل المخططات السهمية التالية بما يناسبها مما درست :



٢- أنواع السفن في منطقة الخليج العربية : ص ٣٣



ب- اختر للمجموعة (أ) ما يرتبط بها من المجموعة (ب) بوضع الرقم في المكان المناسب :

(١ × ٦ = ٦ درجات)

م	المجموعة (أ)	الرقم المناسب	المجموعة (ب)
١-	الرضيف. ص ٣٢	(...٤...)	- رئيس البحرية.
٢-	النوخة. ص ٣٢	(...٦...)	- مطرب السفينة.
٣-	القلاف . ص ٣٣	(...١...)	- صغار السن وهو المساعد للسبب في السفن الكبيرة.
٤-	المجدي. ص ٣٢	(...٥...)	- يسحب الغاصة من أعماق البحر .
٥-	السبب . ص ٣٢	(...٢...)	- ربان السفينة.
٦-	النهام. ص ٣٢	(.....)	- يغوص في أعماق البحر بحثاً عن اللؤلؤ.
		(...٣...)	- صانع السفينة .

تابع/ امتحان نهاية الفترة الدراسية الأولى/ مقرر الكويت ودول الخليج العربية /الصف السادس / العام الدراسي ٢٠٢٤ - ٢٠٢٥ م
السؤال الثالث: موضوعي ويتكون من (أ- ب - ج) :

(١ × ٤ = ٤ درجات)

أ- ظلل الكلمة التي (لا تنتمي) إلى المجموعات التالية :

١	مسطحات مائية تطل عليها شبه الجزيرة العربية ص ٢٣	البحر الأحمر	بحر العرب	خليج عدن	البحر المتوسط
٢	وسائل صيد الأسماك قديماً ص ٣١	الميدار	الفخ	الحظرة	القرقور
٣	البضائع المستوردة إلى منطقة الخليج العربية ص ٣٤	السكر	الأرز	اللؤلؤ	التوابل
٤	قارات العالم القديم ص ٥٧	استراليا	آسيا	أوروبا	أفريقيا

ب- اختر الصورة الصحيحة الدالة على العبارات التالية بتظليل السهم المناسب : (١ × ٤ = ٤ درجات)

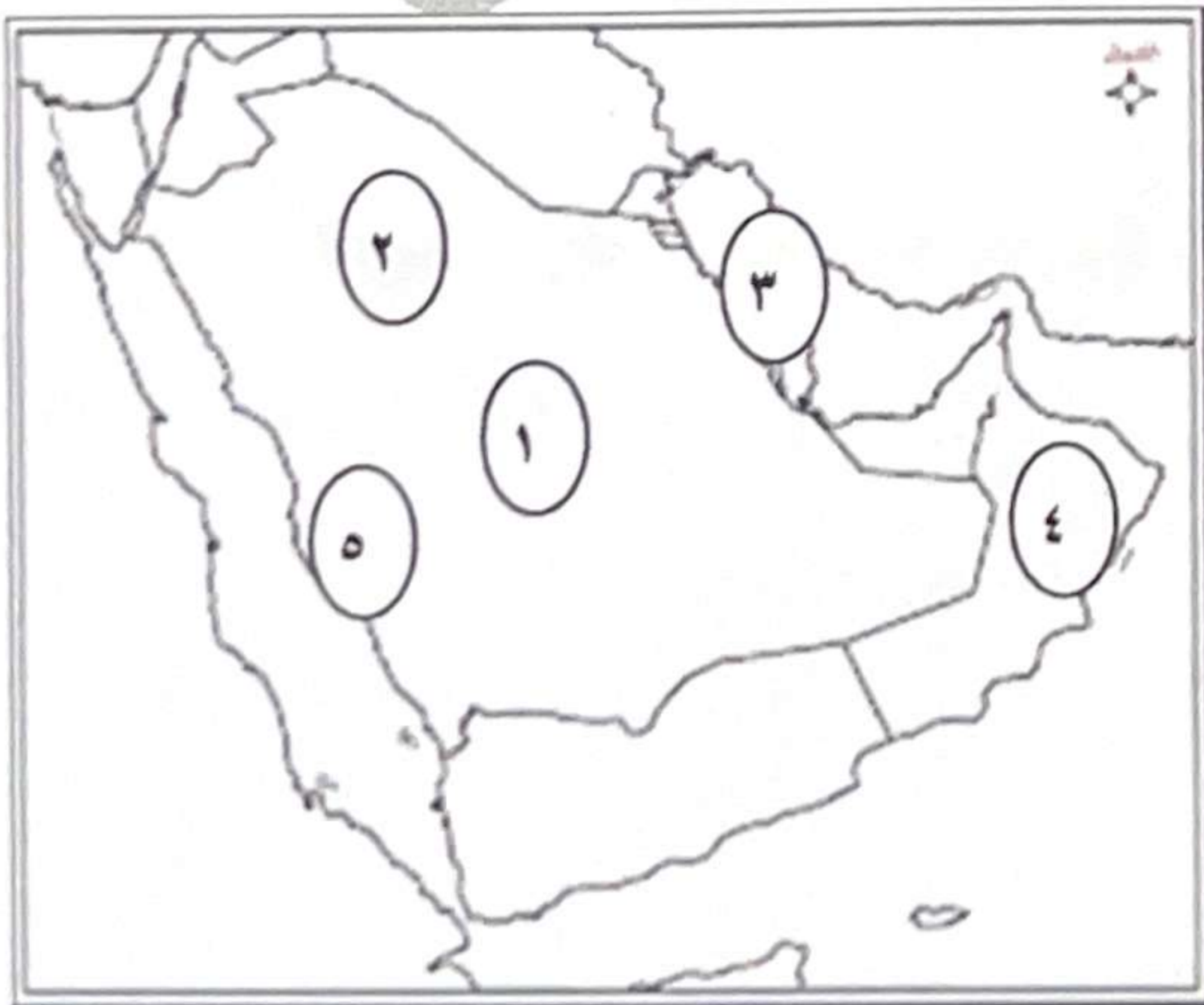
تم التحميل من شبكة ياكويت التعليمية



Diagram showing matching between text boxes and images:

- Text: خط الطول جرينتش (21 ص) → Image: Globe showing the Prime Meridian.
- Text: آثار دلمون (48 ص) → Image: Ruins of Dilmun.
- Text: الطواش (36 ص) → Image: A man in traditional Arab dress.
- Text: معالم دولة الإمارات (68 ص) → Image: The Burj Khalifa in Dubai.

ج- لاحظ خريطة شبه الجزيرة العربية الصماء ثم اكتب الرقم الدال على العبارات التالية: (١ × ٤ = ٤ درجات)



- الخليج العربي يمثله على الخريطة الرقم (٣..) ص ٢٣
- حضارة مجان يمثله على الخريطة الرقم (٤..) ص ٤٩
- هضبة نجد يمثله على الخريطة الرقم (١..) ص ٢٣
- سهل تهامة يمثله على الخريطة الرقم (٥..) ص ٢٣

(٣)

وزارة التربية
الإدارة العامة للتعليم الخاص
نموذج الإجابة

السؤال الرابع : مقالتي ويتكون من (أ - ب - ج) :

(١ × ٤ = ٤ درجات)

أ- فرق بين كلاً مما يلي:

الهبضية ص ٢٣	الجبل ص ٢٣
أرض مرتفعة سطحها مستوي ، وتمتد مساحة كبيرة.	هو كل مرتفع له قمة لا يقل ارتفاعه عن ١٠٠٠ متر تقريباً.
القفال ص ٣٢	الدشة ص ٣٢
نهاية موسم الغوص	بداية موسم الغوص

(١ × ٤ = ٤ درجات)

(يكتفى بنقطتين لكل منهما)

ب- اكتب فيما يلي مما درست :

١- مظاهر الحضارة الإسلامية ص ٥٥

- الصناعة.

- الفن.

- العمران.

٢- أنواع الرياح التي تهب على منطقة الخليج العربي.

- الرياح الشمالية .

- الرياح الجنوبية الشرقية (الكوس).

- الزوابع الترابية (العواصف).



(١ × ٤ = ٤ درجات)

(يكتفى بنقطتين لكل منهما)

ج- علل لما يلي :

١- أهمية الموقع الجغرافي لمنطقة الخليج العربية . ص ١٩

- تقع في وسط العالم .

- تتحكم بأهم طرق التجارة العالمية.

٢- كانت حياة السكان في البيئة الصحراوية لمنطقة الخليج العربية قاسية وخشنة. ص ٢٧

- فقر البيئة

- قلة الموارد فيها خاصة المياه .

- فقر النباتات والحياة الحيوانية.

تم التحميل من شبكة ياكويت التعليمية




Telegram:
ykuwait_net_home

السؤال الخامس : مقالتي ويتكون من (أ - ب - ج) :

أ- عرف المفاهيم والمصطلحات التالية :

(١ × ٤ = ٤ درجات)



١- الموقع النسبي : الموقع بالنسبة للماء واليابس. ص ٢٠

٢- الواحة : عبارة عن منطقة تقع في الصحراء ، فيها مياه عذبة صالحة للزراعة . ص ٢٩

٣- المناخ : حالة الجو في مكان ما خلال فترات زمنية طويلة. ص ٢٥

٤- الديمقراطية : تعني حكم الشعب لنفسه . ص ٦٤

ب- قارن بين كلا مما يلي حسب المطلوب في الجدول التالي :

(١ × ٤ = ٤ درجات)

تم التحميل من شبكة ياكويت التعليمية



Telegram:
ykuwait_net_home

أوجه المقارنة	معاهدة الحماية ص ٦٢	معاهدة الاستقلال ص ٦٣
العام	١٨٩٩ م	١٩٦١ م
اسم الحاكم	الشيخ مبارك الصباح	الشيخ عبدالله السالم الصباح

ج- لاحظ الشعار الذي أمامك ثم أجب على الأسئلة التالية:

(١ × ٤ = ٤ درجات)



١- متى تم إنشاء هذه المنظمة ؟ ص ٧٠

- .. في عام ١٩٨١ م

٢- أين يقع المقر الدائم لهذه المنظمة ؟ ص ٧٠

- مدينة الرياض في المملكة العربية السعودية

٣- اذكر اثنين من انجازات هذه المنظمة . ص ٧٧

- إقامة الاتحاد الجمركي .

- انطلاق السوق الخليجي المشترك في يناير ٢٠٠٨ م

- وثيقة التطوير الشامل للتعليم.

- اتفاقية الدفاع المشتركة واستمرار تعزيز قوة درع الجزيرة .

- التنسيق في المجال السياسي في المحافل الدولية لكل القضايا التي تهم المجلس .

- التعاون في مجال العمل البيئي لحل المشكلات ذات الاهتمام المشترك، وتوحيد الرؤى في المحافل الدولية البيئية

بما يخدم دول المجلس.

انتهت الأسئلة،،،