

تم تحميل هذا الملف من موقع المناهج الكويتية



الملف أسئلة منطقة الفروانية لمقرر الكويت والعالم

[موقع المناهج](#) ← [المناهج الكويتية](#) ← [الصف التاسع](#) ← [اجتماعيات](#) ← [الفصل الأول](#)

روابط مواقع التواصل الاجتماعي بحسب الصف التاسع



روابط مواد الصف التاسع على تلغرام

[الرياضيات](#)

[اللغة الانجليزية](#)

[اللغة العربية](#)

[التربية الاسلامية](#)

المزيد من الملفات بحسب الصف التاسع والمادة اجتماعيات في الفصل الأول

مسودة كتاب الطالب اجتماعيات لعام 2018	1
نموذج اجابة اختبار لعام 2017 تعليم خاص	2
نموذج اجابة اختبار لمنطقة العاصمة لعام 2016 في مادة الاجتماعيات	3
مراجعة رائعة للفصل الاول في مادة الاجتماعيات	4
حل تقويم الكورس الاول في مادة الاجتماعيات	5



أجب عن جميع الأسئلة

السؤال الأول (موضوعي) ويتكون من (أ - ب - ج - د - هـ - و) :
أ) ضع خطأ تحت الخيار الصحيح من بين الخيارات التي تلي كل عبارة :-

- ١- تقع دولة الكويت بالنسبة لقارة آسيا في الجهة :
(الشمالية الشرقية) - الشمالية الغربية - الجنوبية الشرقية - الجنوبية الغربية)
- ٢- مرحلة من مراحل تطور علاقة الإنسان بالبيئة استطاع أن فيها يكتشف النار :
(الزراعة والاستقرار) - الصيد والقتل - التصنيع - الرعي)
- ٣- من مصادر المياه غير التقليدية :
(الأمطار) - المياه الجوفية - الأمطار الصناعية - المياه السطحية)
- ٤- عقد المؤتمر الدولي للأرض في مدينة ريو دي جانيرو بالبرازيل عام :
(١٩٩٠ م - ١٩٩١ م - ١٩٩٢ م - ١٩٩٣ م)
- ٥- أكبر الدول المانحة للدول النامية في العالم :
(الصين) - كوريا - اليابان - ماليزيا)

ب) صف المكونات التالية حسب النظام الأيكولوجي التابعة له بالجدول التالي :

[الإنسان والحيوان - البكتيريا والفطريات - الكائنات الحية النباتية - الماء والهواء]

العناصر الغير حية	العناصر الحية المنتجة	العناصر الحية المستهلكة	العناصر الحية المحلات
.....

السؤال الثاني (المقالي) : يتكون من [أ ، ب]

أ- عدد لكل مما يلي:

١- مميزات البيئة الطبيعية .

..... -

..... -

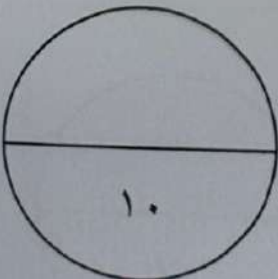
٢- مصادر تلوث الهواء .

..... -

..... -

ب) فرق بين كل مما يلي :

الموقع النسبي	الموقع المكاني
..... - - - -
الجبال	السهول
..... - - - -
ندرة المياه المعنوية	ندرة المياه المادية
..... - - - -



السؤال الرابع : ويتكون من (أ ، ب ، ج)

(أ) اقرأ الفقرة التالية ثم أجب عما يليها من أسئلة :

تعد مشكلة التصحر من الظواهر المهمة وأصبحت أثارها السلبية لا تقتصر على منطقة محددة دائما تشكل مساحة كبيرة وفي معظم القارات ولاسيما في قارة افريقيا مما أدى الى قلة انتاج المحاصيل والذي ينعكس على تغذية الانسان والحيوان .

١- عرّف ما تحته خط .

- التصحر :

٢- عدّد - الأسباب الطبيعية لمشكلة التصحر .

.....

.....

(ب) لاحظ الشعار الذي أمامك ثم أجب عن الأسئلة التالية :

١- ماذا يمثل الشعار أمامك ؟

.....

٢- اكتب في - أهمية زراعة الأشجار على كوكب الأرض .

.....

.....

(ج) اكتب لكل مما يلي :-

١- أدوات تنفيذ السياسة الخارجية .

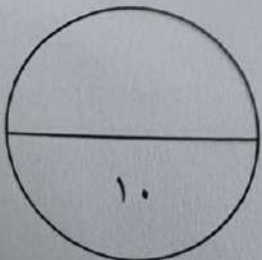
.....

.....

٢- دور دولة الكويت في الميدان الثقافي .

.....

.....



انتهت الأسئلة ،،

السؤال الثالث (المقالي) : يتكون من [أ ، ب ، ج]

أ) قارن بين كل من :

بيئة المقارنة	بيئة حضارية متقدمة	بيئة نامية حضارياً
دور الإنسان في البيئة	-..... -.....	-..... -.....
أمثلة على الدول	-.....	-.....

ب) عرف المفاهيم التالية:

- ١- البيئة الطبيعية :
- ٢- المناخ :
- ٣- نظام GPS :

ج) علل لما يلي :

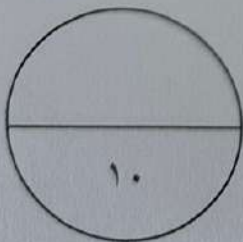
١- تعد السهول من أفضل مناطق الاستقرار البشري.

.....

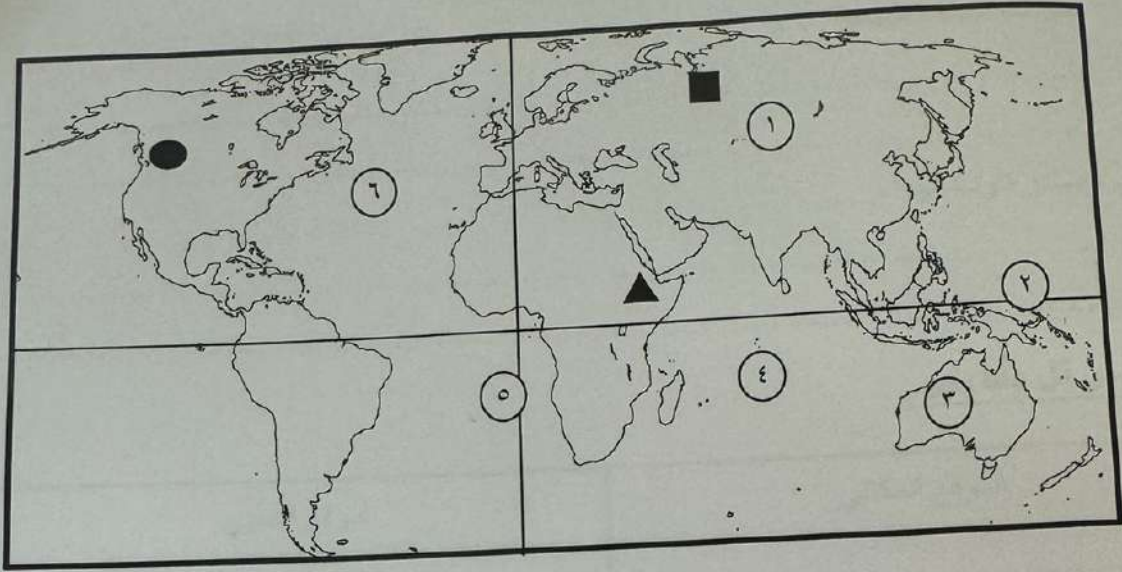
٢- ندرة المياه بدول مجلس التعاون لدول الخليج العربية .

.....

.....



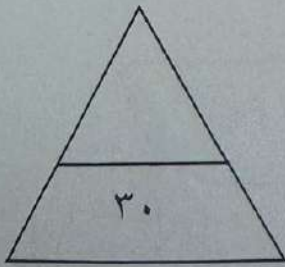
هـ) لاحظ خريطة العالم الصماء ثم أجب عن الأسئلة التي تليها:-



- خط الإستواء يمثل على الخريطة الرقم (.....)
- قارة آسيا يمثلها على الخريطة الرقم (.....)
- المحيط الأطلنطي يمثل على الخريطة الرقم (.....)
- الشكل (▲) على الخريطة يمثل هضبة اسمها (.....)
- الشكل (●) على الخريطة يمثل جبال اسمها (.....)
- الشكل (■) على الخريطة يمثل سهول اسمها (.....)

و) اكتب المفهوم أو المصطلح الدال على العبارات التالية :-

- ١- (.....) التوزيع الأمثل للموارد الطبيعية التي توفرها البيئة لعملية التنمية المستدامة .
- ٢- (.....) كافة التفاعلات الدولية وحركات الشعوب وتبادل السلع والافكار وتشمل العلاقات السياسية والاقتصادية والاجتماعية والثقافية .
- ٣- (.....) النشاط الموجه نحو الخارج لمعالجة مشاكل ما وراء الحدود و اخرى ضمن الحدود.
- ٤- (.....) إحدى أهم المنظمات الدولية التي تهدف إلى المساهمة في رفع مستوى التعاون بين دول العالم .




تابع السؤال الأول (الموضوعي) :

ج) أكمل العبارات التالية بما يناسبها :

- ١- العالم الذي استخدم علم البيئة الطبيعية كمفهوم جديد يدرس في الجامعات يسمى
- ٢- خط الأساس لخطوط الطول اسمه خط
- ٣- أفضل مظاهر التضاريس صلاحية للإستقرار البشري هي
- ٤- النسبة المئوية للبحار والمحيطات من مساحة الكرة الأرضية تبلغ
- ٥- يبلغ عدد الآبار الكويتية التي قامت القوات العراقية بحرقها عام ١٩٩١ م حوالي
- ٦- الغاز الرئيسي المسبب للاحتباس الحراري يسمى

د) أكمل المخططات السهمية التالية بما يناسبها :

١- العوامل المؤثرة في التضاريس



٢- مصادر تلوث التربة

