

تم تحميل هذا الملف من موقع المناهج الكويتية



عزة علي

الملف شرح وسائل الوحدة الخامسة بطريقة رائعة

[موقع المناهج](#) ← [المناهج الكويتية](#) ← [الصف الرابع](#) ← [رياضيات](#) ← [الفصل الأول](#)

روابط مواقع التواصل الاجتماعي بحسب الصف الرابع



روابط مواد الصف الرابع على تلغرام

[الرياضيات](#)

[اللغة الانجليزية](#)

[اللغة العربية](#)

[التربية الاسلامية](#)

المزيد من الملفات بحسب الصف الرابع والمادة رياضيات في الفصل الأول

مسودة كتاب الطالب لعام 2018	1
توزيع مقرر الرياضيات للصف الرابع منهج حديد عام 2018	2
كفايات الوحدة الاولى في مادة الرياضيات منهج كفايات حديد	3
كفايات الوحدة الثانية في مادة الرياضيات	4
اختبار مسح في مادة الرياضيات	5




وزارة التربية
الإدارة العامة لمنطقة الأحمدية التعليمية
مدرسة هدية الابتدائية بنين



موقع
المناهج الكويتية
almanahj.com/kw

• الوحدة الخامسة

للمصف الرابع



• أ. عزة علي

إعداد المعلمة


• أ. شيمة المطيري

إشراف رئيسة القسم


• استكشاف وتسمية وكتابة الكسور

المنهج الكويتي
almanahj.com/kw



بند (٥-١)



اكتب رمز الكسر و الاسم اللفظي الذي يعبر عن الأجزاء المظلمة

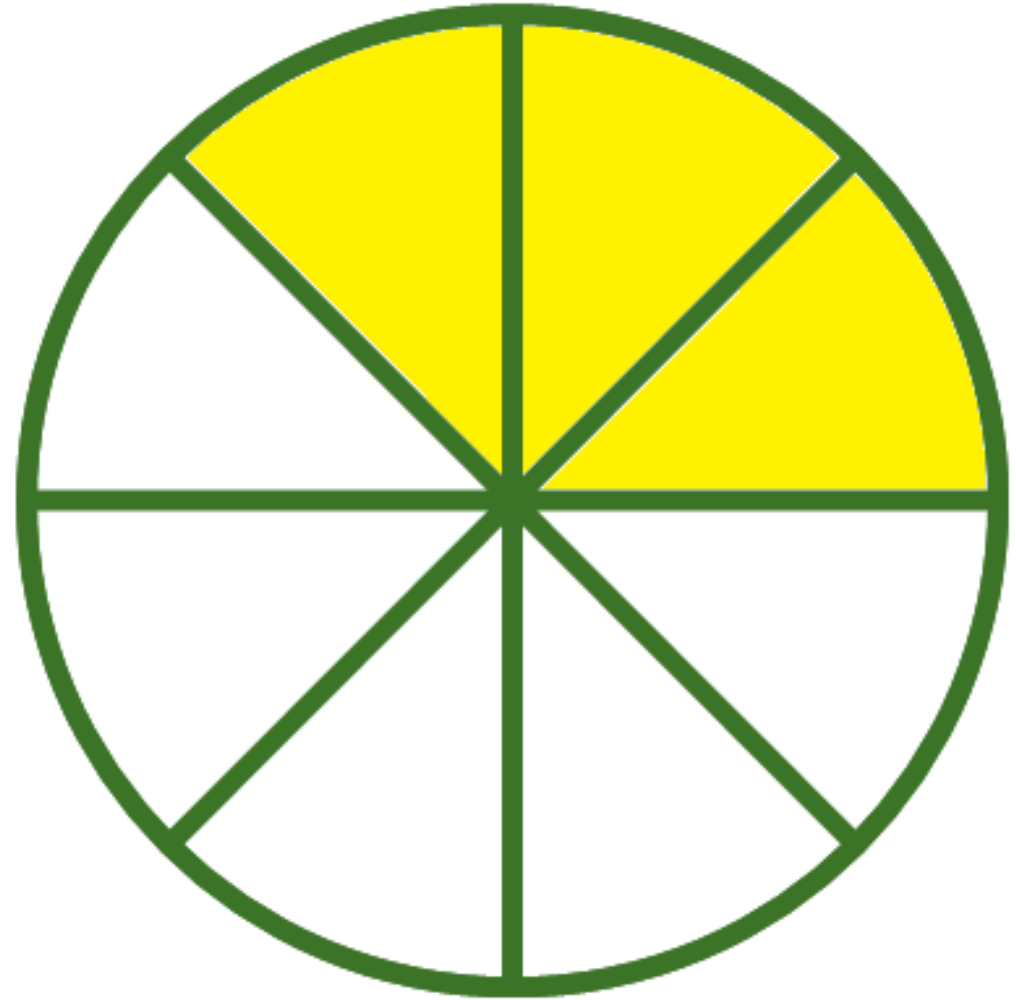



موقع
المنهج الكويتية
almanahj.com/kw





اكتب رمز الكسر و الاسم اللفظي الذي يعبر عن الأجزاء المظلمة

موقع
المنهج الكويتية
almanahj.com/kw






اكتب رمز الكسر و الاسم اللفظي الذي يعبر عن الأجزاء المظلمة



موقع
المنهج الكويتية
almanahj.com/kw

اكتب رمز الكسر و الاسم اللفظي له الذي يمثل
عدد العناصر المحوطة من المجموعة



اكتب رمز الكسر و الاسم اللفظي له الذي يمثل عدد العناصر المحوطة من المجموعة



Two empty rounded rectangular boxes for writing the fraction and the word, separated by a horizontal line.

أكمل



◻
—
◻

)
—
◻


)
—
◻

ما الكسر الذي يمثل العنب الأخضر في هذه
المجموعة ؟



اكتب رمز الكسر الذي عدد أيام

العطل الرسمية خلال الأسبوع؟



لون جزءاً واحداً ثم حوِّط الكسر الدال على الجزء الملون فيما يلي

موقع
المنهج الكويتية
almanhaj.com/kw

$$\frac{1}{9}, \frac{1}{6}, \frac{1}{3}$$

• استكشاف الكسور المتكافئة

المنهج الكويتية
almanahj.com/kw

بند (٥-٢)



أكمل

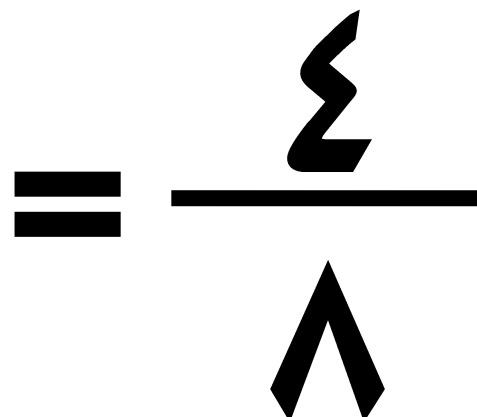
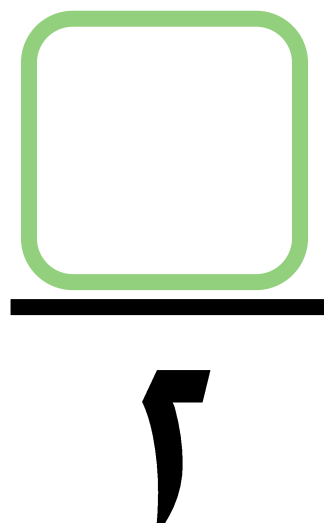
)

$\frac{1}{6}$	$\frac{1}{6}$	$\frac{1}{6}$	$\frac{1}{6}$	$\frac{1}{6}$	$\frac{1}{6}$				
$\frac{1}{12}$	$\frac{1}{12}$	$\frac{1}{12}$	$\frac{1}{12}$	$\frac{1}{12}$	$\frac{1}{12}$	$\frac{1}{12}$	$\frac{1}{12}$	$\frac{1}{12}$	$\frac{1}{12}$

$$\frac{\square}{12} = \frac{2}{6}$$

أكمل

موقع المناهج الكويتية almanahj.com/kw



لون ما يمثل الكسرين ثم اكتب متكافئان أو غير متكافئين

موقع
المنهاج الكويتية
almanahj.com/kw

--	--	--



--	--	--	--	--	--	--	--	--

$$\frac{2}{3}$$

$$\frac{1}{9}$$

الكسيران _____


ابحث عن النمط ثم أكمل



$$\frac{\quad}{25} < \frac{\quad}{20} < \frac{6}{15} < \frac{4}{10} < \frac{2}{5}$$

• الكسر في أبسط صورة

بند (٣-٥)



أكمل

1			
$\frac{1}{4}$	$\frac{1}{4}$	$\frac{1}{4}$	$\frac{1}{4}$
$\frac{1}{2}$		$\frac{1}{2}$	

$$\frac{\square}{2} = \frac{2}{4}$$

$$= \frac{2}{4}$$

$$\frac{\square}{\square} =$$

في أبسط صورة =

$$\frac{2}{4}$$

ضع في أبسط صورة ، استخدم رقائق الكسور أو ارسم صورة

موقع
المنهاج الكويتية
almanahj.com/kw

$$\frac{\square}{\square} = \frac{3}{12}$$

ضع في أبسط صورة ، استخدم رقائق الكسور أو ارسم صورة

موقع
المنهج الكويتية
almanahj.com/kw

$$\frac{\square}{\square} = \frac{7}{14}$$

ضع في أبسط صورة ، استخدم رقائق الكسور أو ارسم صورة

$$\frac{\square}{\square} = \frac{1}{9}$$



اختر الإجابة الصحيحة بوضع

$$\frac{9}{18} = \text{في أبسط صورة}$$

موقع
المناهج الكويتية
almanahj.com/kw

$$\frac{3}{9}$$


$$\frac{1}{2}$$

$$\frac{1}{3}$$

$$\frac{3}{6}$$

• مقارنة الكسور

بند (٤-٥)




اكتب رمز العلاقة المناسب < أو > أو =



--	--	--	--

--	--	--	--

موقع
المناهج الكويتية
almanahj.com/kw



اكتب رمز العلاقة المناسب < أو > أو =



موقع
المنهج الكويتية
almanahj.com/kw

$$\frac{5}{5} \quad \bigcirc \quad \frac{3}{5}$$

حوظ رمز الكسر

استعن برفائق الكسور أو بخط الأعداد

موقع
المنهج الكويتية
almanahj.com/kw

$$\frac{٢}{٧} < \square$$

$$\frac{١}{٧} ، \frac{٢}{٧} ، \frac{١}{٧}$$

حوظ رمز الكسر

استعن برفائق الكسور أو بخط الأعداد

موقع
المنهج الكويتية
almanahj.com/kw

$$\square = \frac{٢}{٣}$$

$$\frac{١}{٣} ، \frac{٤}{٩} ، \frac{٤}{٦}$$

يقول ظلال إن $\frac{3}{8} = \frac{3}{5}$

فهل توافقه الرأي؟ فسر إجابتك

استغرق طلاء حائط $\frac{2}{3}$ ساعة

واستغرق طلاء سور $\frac{3}{4}$ ساعة

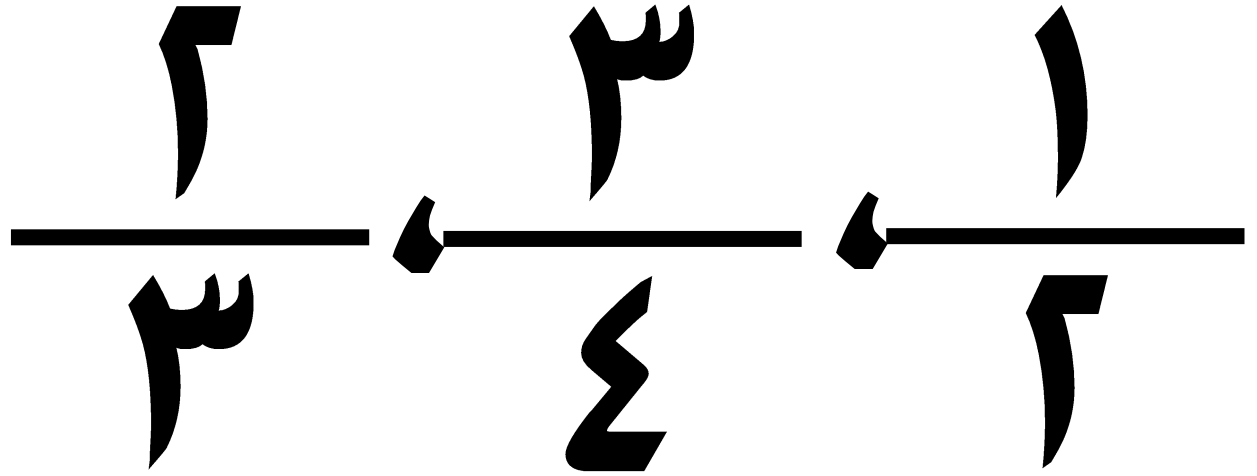


أي العمليين استغرق وقتاً أطول؟

• تزيين الكسور

بند (٥-٥)



رتب الكسور تنازلياً



رتب الكسور تصاعدياً

$$\frac{2}{1}, \frac{4}{1}, \frac{1}{2}$$

_____ ، _____ ، _____

رتب الكسور تنازلياً

$$\frac{2}{6} \quad \frac{3}{4} \quad \frac{5}{8} \quad \frac{1}{2}$$

موقع
المناهج التعليمية
almanahj.com/kw



أكمل لتحصل على ترتيب تصاعدي

موقع
المنهج الكويتية
almanahj.com/kw

$$\frac{\quad}{\quad}, \frac{3}{6}, \frac{3}{8}$$

أكمل لتحصل على ترتيب تنازلي


موقع
المنهج الكويتية
almanahj.com/kw

$$\frac{1}{15}, \quad \frac{2}{9}$$

• حل المسائل / رسم صورة

amanahj.com/kw

بند (5-6)



حل حسن واجب الرياضيات في

$\frac{3}{5}$ ساعة و واجب العلوم في $\frac{1}{2}$ ساعة .

ساعة .

في أيهما استغرق وقتاً أطول؟

$\frac{1}{9}$ علبة الأقلام حمراء و $\frac{4}{9}$

العلبة زرقاء والبقية خضراء .

أي الأقلام أكثر: الحمراء أو

الزرقاء أو الخضراء ؟