

تم تحميل هذا الملف من موقع المناهج الكويتية



الملف أوراق عمل للتقويم الأول مرفقة بالإجابة

[موقع المناهج](#) ⇨ [المناهج الكويتية](#) ⇨ [الصف الرابع](#) ⇨ [رياضيات](#) ⇨ [الفصل الأول](#)

روابط مواقع التواصل الاجتماعي بحسب الصف الرابع



روابط مواد الصف الرابع على تلغرام

[الرياضيات](#)

[اللغة الانجليزية](#)

[اللغة العربية](#)


[التربية الاسلامية](#)

المزيد من الملفات بحسب الصف الرابع والمادة رياضيات في الفصل الأول

مسودة كتاب الطالب لعام 2018	1
توزيع مقرر الرياضيات للصف الرابع منهج جديد عام 2018	2
كفايات الوحدة الاولى في مادة الرياضيات منهج كفايات جديد	3
كفايات الوحدة الثانية في مادة الرياضيات	4
اختبار مسح في مادة الرياضيات	5

السؤال الأول : قارن بوضع رمز العلاقة المناسب ($<$ أو $>$ أو $=$).


٥١٠ ٤٦٢



٣٢ ٤٦٠

أ


١٠٠٠٠٠٠



٩٩٩٩٠٠

ب

٧٧ ٦٤٥



٧٧ ٦٥٤

ج

السؤال الثاني : اختر الإجابة الصحيحة بوضع


أ القيمة المكانية للرقم ٧ في العدد ٩٧٩٣٠ هي

٧٠٠٠

٧٠٠

٧٠

٧



ب عدد العشرات في العدد ٤٥٠٠ هو

٤٥٠٠

٤٥٠

٤٥

٤





السؤال الأول : قارن بوضع رمز العلاقة المناسب ($<$ أو $>$ أو $=$).

موقع
المنهج الكويتية
almanahj.com/kw


٥١٠ ٤٦٢



٣٢ ٤٦٠

أ


١٠٠٠٠٠٠



٩٩٩٩٠٠

ب

٧٧ ٦٤٥



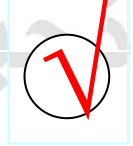
٧٧ ٦٥٤

ج

السؤال الثاني : اختر الإجابة الصحيحة بوضع

أ القيمة المكانية للرقم ٧ في العدد ٩٧٩٣٠ هي

٧٠٠٠٠




٧٠٠



٧٠



٧



ب عدد العشرات في العدد ٤٥٠٠ هو

٤٥٠٠



٤٥٠



٤٥



٤

