

تم تحميل هذا الملف من موقع المناهج الكويتية



الملف نموذج إجابة منطقة العاصمة

[موقع المناهج](#) ⇐ [المناهج الكويتية](#) ⇐ [الصف الثامن](#) ⇐ [اجتماعيات](#) ⇐ [الفصل الثاني](#)

روابط مواقع التواصل الاجتماعي بحسب الصف الثامن



روابط مواد الصف الثامن على تلغرام

[الرياضيات](#)


[اللغة الانجليزية](#)

[اللغة العربية](#)

[التربية الاسلامية](#)

المزيد من الملفات بحسب الصف الثامن والمادة اجتماعيات في الفصل الثاني

<a href="#">تلخيص</a>	1
<a href="#">امتحان دولة الكويت والعالم الاسلامي</a>	2
<a href="#">حل التقويم لمادة الاجتماعيات</a>	3
<a href="#">نموذج احابة اختبار في مادة الاجتماعيات لنهاية الفترة الدراسية الثانية</a>	4
<a href="#">نموذج الاحابة لامتحان الاجتماعيات فرواتية</a>	5



موقع  
المنهج الكويتية  
almanahj.com/kw

منطقة العاصمة التعليمية

الإجـابة  
النموذجية



العام الدراسي : ٢٠٢١ / ٢٠٢٢ م  
الزمن : ساعة و ٤٥ دقيقة  
عدد الأوراق : ( ٦ )

نموذج إجابة  
امتحان الفترة الدراسية الثانية  
لمقرر دولة الكويت و العالم الإسلامي  
للفص الثامن المتوسط

وزارة التربية  
الإدارة العامة لمنطقة العاصمة التعليمية  
التوجيه الفني للاجتماعيات

السؤال الأول :- موضوعي ويتكون من ( أ - ب - ج - د - هـ - و )

( أ ) : أكمل العبارات التالية بما يناسبها فيما درست : ( ٦ × ١ = ٦ درجات )

- ١ - الفرق بين قيمة الصادرات وقيمة الواردات بالدولة يسمى الميزان التجاري ص ١٠٠
- ٢ - المؤتمر الذي عقد لإيجاد حل لمشكلات الحدود بين العراق وكل من الكويت والسعودية يسمى العقير ص ١٠٣
- ٣ - أدنى مستوى من الدخل يحتاجه المرء أو الأسرة لتوفير مستوى معيشي ملائم يسمى خط الفقر ص ٩٧
- ٤ - العام الذي تم فيه انشاء شرطة البيئة في دولة الكويت ٢٠١٥ م ص ٨٢
- ٥ - مقر منظمة التعاون الإسلامي مدينة اسمها جدة ص ١٣٨
- ٦ - الغاز الأول المسؤول عن الاحتباس الحراري في الجو يسمى ثاني أكسيد الكربون ص ٩٠

( ب ) : ضع خطأ تحت الخيار الصحيح من بين الخيارات التي تلي كل عبارة : ( ٦ × ١ = ٦ درجات )

١- أعلى دولة إسلامية في معدل محو الأمية في منظمة التعاون الإسلامي عام ٢٠١٥ م : ص ١٢٩

٢- اليمن	تركيا	كازاخستان	النيجر
----------	-------	-----------	--------

٢- العام الذي تم فيه الاعتداء العراقي على مركز الصامته الحدودي الكويتي : ص ١٠٣

١٩٧٠	١٩٧١	١٩٧٢	١٩٧٣
------	------	------	------

٣- مقر اللجنة الإسلامية للهِلال الدولي : ص ١٤٥

الرباط	بنغازي	القاهرة	جدة
--------	--------	---------	-----

٤- عدد الدول المشاركة في مؤتمر المانحين الأول عام ٢٠١٣ م في دولة الكويت : ص ١٦٠

٥٧ دولة	٥٨ دولة	٥٩ دولة	٦٠ دولة
---------	---------	---------	---------

٥ - الشيخ الذي وقع اتفاقية الحماية مع بريطانيا عام ١٨٩٩ م ص ١٠٦

أحمد الجابر الصباح	عبدالله السالم	صباح السالم	مبارك الصباح
--------------------	----------------	-------------	--------------

٦- بلغ عدد آبار النفط الكويتية التي أشعلها النظام العراقي البائد عام ١٩٩١ م حوالي : ص ١٢٠

٣٣٧ بئر	٣٧٣ بئر	٧٣٧ بئر	٧٧٣ بئر
---------	---------	---------	---------



( ج ) أكتب المفهوم أو المصطلح الدال على كل من العبارات التالية : ( ٥ × ١ = ٥ درجات )

- ١- ( الانفجار السكاني ) الزيادة الكبيرة في أعداد السكان . ص ٩٥
- ٢- ( الحدود ) خطوط حددت بواسطة الإنسان ورسمت حتى تفصل بين سيادة دولة ودولة أخرى. ص ١٠٢
- ٣- ( التدوير ) إعادة استخدام المخلفات لإنتاج منتجات أخرى أقل جودة من المنتج الأصلي . ص ٩١
- ٤- ( الدولة الإسلامية ) الدولة التي يكون فيها نسبة المسلمين ٥٠% أو أكثر ويحكمها حاكم مسلم . ص ١٣٧
- ٥- ( التصحر ) زحف رمال الصحراء على المناطق الجافة وشبه جافة . ص ٨٨



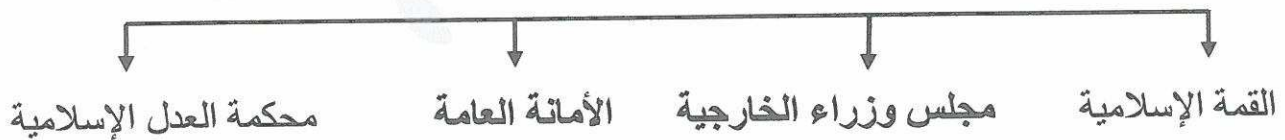
( د ) انسب الأحداث التاريخية إلى سنوات حدوثها في الجدول التالي :- ( ٥ × ١ = ٥ درجات )

- ( قرار مجلس الأمن رقم ٨٣٣ بترسيم الحدود بين الكويت والعراق - مؤتمر الأمم المتحدة للتصحر - مؤتمر العقير - إحصار جونو أو غونو - الغزو العراقي على دولة الكويت )

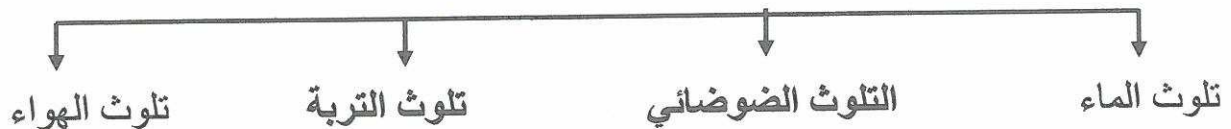
١٩٢٢م	١٩٧٧م	١٩٩٠م	١٩٩٣م	٢٠٠٧م
مؤتمر العقير	مؤتمر الأمم المتحدة للتصحر ص ٨٩	الغزو العراقي على الكويت ص ١٢٢	قرار مجلس الأمن رقم ٨٣٣ بترسيم الحدود بين الكويت والعراق ص ١٠٦	إحصار جونو أو غونو ص ٩٠

( هـ ) أكمل المخططات السهمية التالية : ( ٤ × ١ = ٤ درجات )

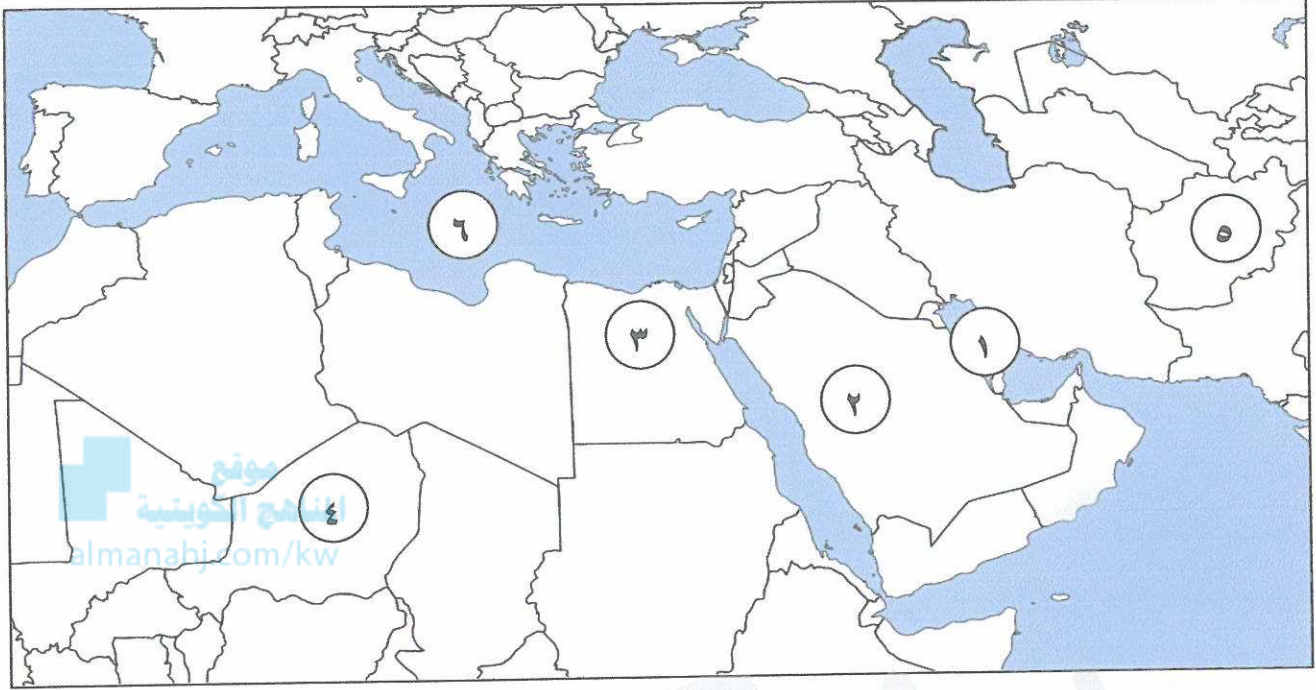
١- أجهزة منظمة التعاون الإسلامي ( الهيكل التنظيمي ) ص ١٤١



٢- أنواع التلوث البيئي ص ٨٣



(و) لاحظ خريطة العالم الإسلامي التي أمامك ثم نفذ المطلوب عليها : ( ٤ × ١ = ٤ درجات )



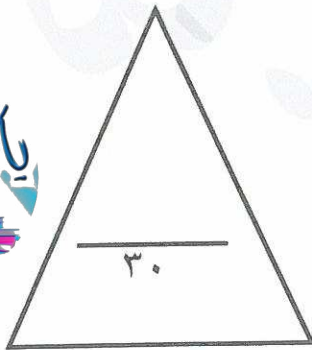
\* مسطح مائي تعرض لتلوث مائي نتيجة سكب كميات كبيرة من النفط عام ١٩٩١ م يمثلها الرقم

.....١..... ص ٨٥

\* مدينة يوجد بها مقر مجمع الفقه الإسلامي يمثلها الرقم .....٢..... ص ١٤٥

\* أقل دولة إسلامية في معدل محو الأمية يمثلها الرقم .....٤..... ص ١٢٩

\* مدينة تعتبر نموذجاً للتلوث الضوضائي في العالم الإسلامي يمثلها الرقم .....٣..... ص ٨٧



درجة السؤال الأول بالحروف .....

السؤال الثاني :- مقالتي ويتكون من ( أ - ب - ج )

( أ ) عرف المفاهيم التالية : ( ٣ × ١ = ٣ درجات )

- ١ - التلوث البيئي: أي تغير غير مرغوب به في الخواص الطبيعية أو الكيميائية أو البيولوجية للبيئة المحيطة. ص ٨١
- ٢ - الاحتباس الحراري : ارتفاع درجات حرارة الأرض عن معدلها الطبيعي مما يؤدي إلى تغيرات مناخية. ص ٩٠
- ٣ - النفايات : أي مواد زائدة وغير مرغوبة من مخلفات البيئة والفضلات . ص ٩١

(ب) علل لما يلي : ( ٣ × ١ = ٣ درجات )

- ١- إنشاء منظمة التعاون الإسلامي عام ١٩٦٩ م . ص ١٣٨
- قيام المحتل الاسرائيلي بإحراق المسجد الأقصى في فلسطين عام ١٩٦٩ م والذي يعد أحد مقدسات المسلمين.
- ٢- تعتبر التربة عنصراً مهماً من عناصر البيئة الطبيعية . ص ٨٨
- لأنها المصدر الرئيسي لإنتاج الغذاء .
- ٣- يعتبر التلوث المائي من أخطر أشكال التلوث البيئي . ص ٨٥
- لأن الماء هو المادة الضرورية لبقاء الحياة وأي خلل بهذا العنصر الاساسي سيؤدي إلى تدهور واختلال بقية نظام الحياة .

( ج ) أكتب اثنين لكل من : ( ٤ × ١ = ٤ درجات )

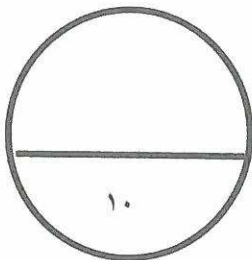
١- أسباب الفقر في الدول الإسلامية . ص ٩٨

- عدم توفر فرص عمل
- انتشار البطالة
- قلة التبرعات والصدقات في المجتمع .
- ضعف اقتصاد الدولة
- تضخم اسعار السلع والخدمات

٢- أثر التلوث الهوائي

- سبب رئيسي لأمراض القلب والأوعية الدموية
- اضطراب في الجهاز العصبي - تآكل وتلف المباني والمنشآت والآثار

درجة السؤال الثاني بالحروف .....

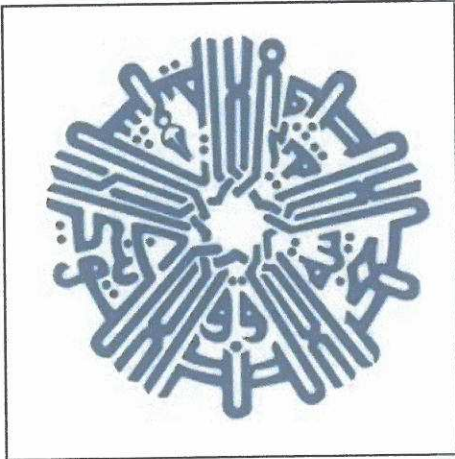


السؤال الثالث :- مقالي ويتكون من ( أ - ب )

( أ ) قارن بين كل من : ( ٦ × ١ = ٦ درجات )

وجه المقارنة	المنظمة الإسلامية للتربية والعلوم والثقافة ( الإيسيسكو ) ص ١٤٥	البنك الإسلامي للتنمية ص ١٤٥
سنة التأسيس	١٩٨٢ م	١٩٧٥ م
المقر	الرباط	جدة
الأهداف	- تقوية التعاون وتشجيعه وتعميقه بين الدول الاعضاء في مجالات التربية والعلوم والثقافة والاتصال . - العمل على التكامل بين المنظومات التربوية في الدول الأعضاء .	- دعم التنمية الاقتصادية والتقدم الاجتماعي للشعوب الإسلامية . - تنمية التجارة الخارجية للدول الأعضاء والتبادل التجاري .

( ب ) انظر إلى الشكل الذي أمامك ثم اجب على الأسئلة التي تليه: ( ٤ × ١ = ٤ درجات )



١- ماذا يمثل هذا الشعار . ص ١٥٩

الصندوق الكويتي للتنمية الاقتصادية العربية

٢- اذكر سنة التأسيس . ص ١٥٩

١٩٦١ م

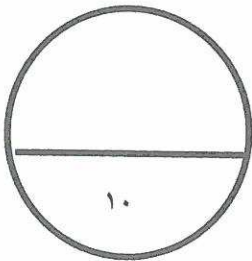
٣- عدد أهم أهدافه . ص ١٥٩

- تقديم القروض الميسرة للدول المحتاجة .

- تقديم المنح على سبيل المعونات الفنية .

- الإسهام في برامج التنمية .

درجة السؤال الثالث بالحروف .....



السؤال الرابع :- مقالي ويتكون من ( أ - ب )

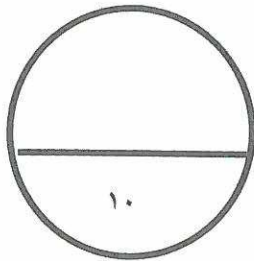
(أ) فرق بين كل مما يلي: ( ٤ × ١ = ٤ درجات )

أسباب تلوث التربة ص ٨٨	أسباب التلوث الضوضائي ص ٨٧
- الإفراط باستخدام المبيدات الحشرية على المزروعات النباتية . - المخلفات الصناعية و الكيماوية و البشرية . - الأمطار الحمضية .	- وسائل النقل بأنواعها المختلفة و الطائرات و القطارات و غيرها . - عمليات البناء و الهدم و أصوات آلات الحفر .

موقع  
المنهج الكويتية  
almanahj.com/kw

(ب) أجب عن الأسئلة التالية: ( ٦ × ١ = ٦ درجات )

- ١- علل ظهور المشكلة السكانية . ص ٩٥  
- عدم التوازن بين أعداد السكان والخدمات والموارد .  
- عدم توافر فرص العمل .  
- ارتفاع مستوى المعيشة تسبب في مشكلات كثيرة أخرى مثل الجريمة ، البطالة ، الطلاق ، المخدرات .
- ٢- انكر الجهات الحكومية التي تشرف على المساعدات الخارجية ( القطاع الحكومي ) ص ١٥٩  
- وزارة المالية - جمعية الهلال الأحمر - الصندوق الكويتي - الهيئة الخيرية الإسلامية العالمية - بيت الزكاة
- ٣- عدد أهم قرارات المؤتمر الإسلامي الخامس عام ١٩٨٧ م . ص ١٤٣ ( يكتفي بنقطتين)  
- دعم القضية الفلسطينية . - الحرص التام على استقلال لبنان ، ووحدة اراضية ، ورفض الاحتلال الإسرائيلي للجزء الجنوبي منه - ضرورة الوقف الفوري لكل العمليات الحربية بين الجمهورية العراقية وجمهورية إيران الإسلامية - الموافقة على مشروع النظام الأساسي لمحكمة العدل الإسلامية الدولية .



درجة السؤال الرابع بالحروف .....

انتهت الأسئلة مع تمنياتنا لكم بالتوفيق ،،