

تم تحميل هذا الملف من موقع المناهج الكويتية



الملف اختبار تقويمي ثاني لدعم تمارين الوحدة الثامنة

[موقع المناهج](#) ⇐ [المناهج الكويتية](#) ⇐ [الصف الرابع](#) ⇐ [رياضيات](#) ⇐ [الفصل الثاني](#)

روابط مواقع التواصل الاجتماعي بحسب الصف الرابع



روابط مواد الصف الرابع على تلغرام

[الرياضيات](#)

[اللغة الانجليزية](#)

[اللغة العربية](#)

[التربية الاسلامية](#)

المزيد من الملفات بحسب الصف الرابع والمادة رياضيات في الفصل الثاني

<a href="#">تدريبات</a>	1
<a href="#">مذكرة شاملة ومجموعة من التمارين</a>	2
<a href="#">مذكرة الاختبار القصير الاول لمادة الرياضيات</a>	3
<a href="#">مذكرة رياضيات للصف الرابع</a>	4
<a href="#">اسئلة تقويمية في الرياضيات للصف الرابع</a>	5

# الاختبار التقويهي الثاني

## للمصف الرابع

الفصل الدراسي الثاني 2023 / 2024

بنود الاختبار	توزيع درجات الاختبار		درجة الاختبار	مدة الاختبار	موعد الاختبار
الوحدة الثامنة	مقال	موضوعي	٥ درجات	لا تتجاوز ١٥ دقيقة من زمن الحصة	الأسبوع ٦
	٣	٢			

إشراف الوجيه الفني : أ. مها العنزي

السؤال الأول :

أوجد الناتج

$$\begin{array}{r} 36123 \\ + 14294 \\ \hline \end{array}$$

السؤال الثاني اختر الإجابة الصحيحة بوضع (✓) .

العدد الأقرب إلى الناتج التقديري لـ ١٣٤٠٠ - ٥٣٨١٠				
٤٠٠٠٠٠	٣٠٠٠٠٠	٤٠٠٠٠٠	١٠٠٠٠٠	١
<input type="radio"/>	<input type="radio"/>	<input type="radio"/>	<input type="radio"/>	
حيوانات تعيش في الماء		من مخطط قن المجاور الذي يوضح تصنيف بعض الحيوانات التي تعيش في اليابسة فقط		
حيوانات تعيش على اليابسة				
القط	السلحفاء	الأخطبوط		٢
الأسد	البطريق	السماك		
السلحفاء والبطريق	القط والأسد	القط والأسد والسلحفاء والبطريق	الأخطبوط والسماك	
<input type="radio"/>	<input type="radio"/>	<input type="radio"/>	<input type="radio"/>	

انتهت الأسئلة ،،،

السؤال الأول :

أوجد الناتج

٣٦ ١٢٣

١٤ ٢٩٤ +

٥٠ ٤١٧

السؤال الثاني اختر الإجابة الصحيحة بوضع (✓) .

العدد الأقرب إلى الناتج التقديري لـ ١٣ ٤٠٠ - ٥٣ ٨١٠				
٤٠٠ ٠٠٠	٣٠ ٠٠٠	٤٠ ٠٠٠	١٠ ٠٠٠	١
<input type="radio"/>	<input type="radio"/>	<input checked="" type="radio"/>	<input type="radio"/>	
حيوانات تعيش على اليابسة		حيوانات تعيش في الماء		٢
من مخطط قن المجاور الذي يوضح تصنيف بعض الحيوانات الحيوانات التي تعيش في اليابسة فقط				
القط	الأسلحفاء	الأخطبوط	السماك	
الأسد	البطريق			
الأسلحفاء والبطريق	القط والأسد والاسلحفاء والبطريق	القط والأسد	الأخطبوط والسماك	
<input type="radio"/>	<input checked="" type="radio"/>	<input type="radio"/>	<input type="radio"/>	

انتهت الأسئلة ،،،،

السؤال الأول :

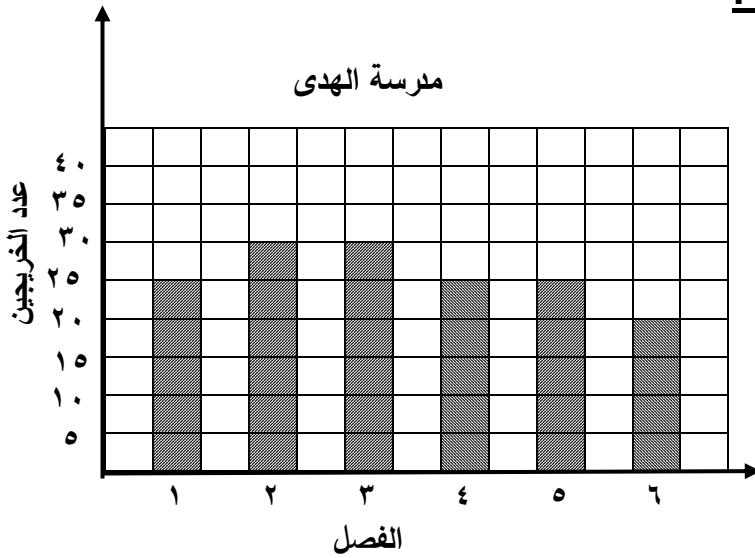
أوجد الناتج

١٥٧ ٦١٠

٣٨ ٣٠٢ -

السؤال الثاني اختر الإجابة الصحيحة بوضع (✓)

يوضح الشكل البياني عدد الخريجين في كل فصل  
من فصول الصف الخامس في مدرسة الهدى



١ يبلغ عدد الخريجين في الفصل ٦

٢٥

٢٠

٣٥

٣٠

١

٢ يزيد عدد الخريجين في الفصل ٣ عن عدد الخريجين في الفصل ٤ بـ

٨ خريجين

٦ خريجين

١٠ خريجين

٥ خريجين

٢

انتهت الأسئلة ،،،

السؤال الأول :

أوجد الناتج

١٥٧ ٦١٠

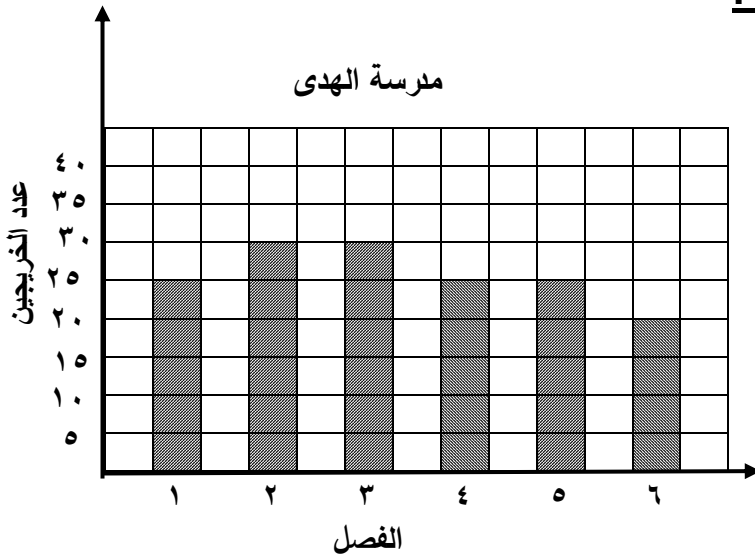
٣٨ ٣٠٢ -

١١٩ ٣٠٨

السؤال الثاني اختر الإجابة الصحيحة بوضع (✓)

يوضح الشكل البياني عدد الخريجين في كل فصل

من فصول الصف الخامس في مدرسة الهدى



١ يبلغ عدد الخريجين في الفصل ٦

٢٥



٢٠



٣٥



٣٠



١

٢ يزيد عدد الخريجين في الفصل ٣ عن عدد الخريجين في الفصل ٤ بـ

٨ خريجين



٦ خريجين



١٠ خريجين

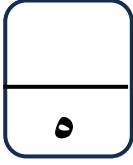


٥ خريجين



٢

انتهت الأسئلة ،،،

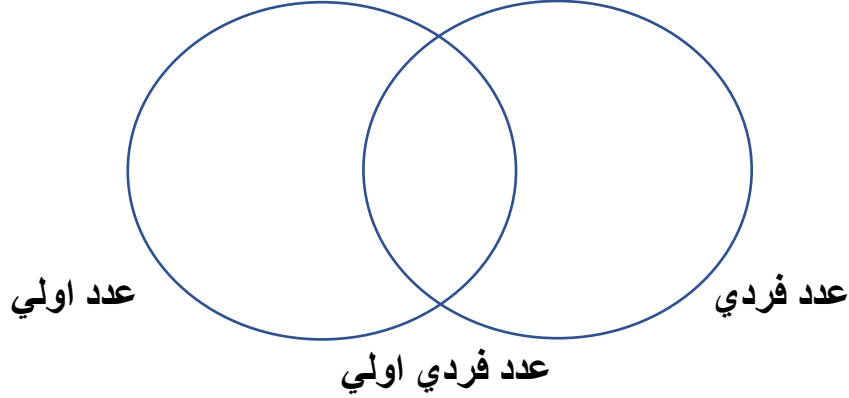


نموذج ٣ اختبار تقويمي (٢)  
في مادة الرياضيات للصف الرابع  
الفصل الدراسي الثاني للعام الدراسي ٢٠٢٣ / ٢٠٢٤



### السؤال الأول :

اكتب الاعداد ٢، ٩، ١١، ١٣، ١٥، ٢٣ في المكان المناسب في مخطط فن التالي



### السؤال الثاني :

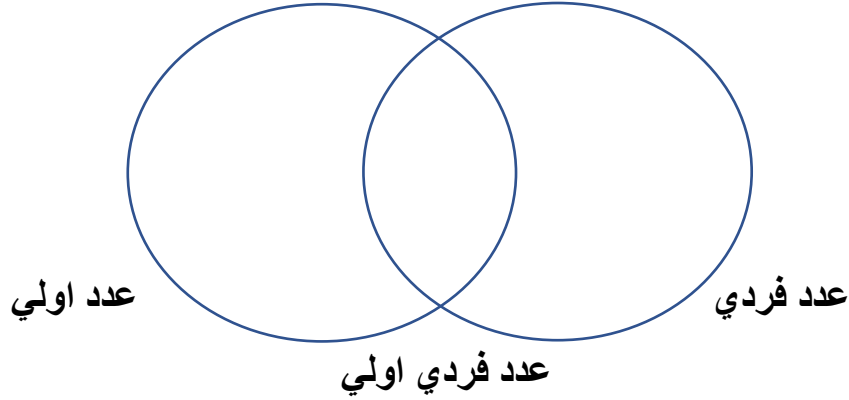
ظل  إذا كانت العبارة صحيحة، و ظل  إذا كانت العبارة خطأ

<input checked="" type="checkbox"/>	<input checked="" type="checkbox"/>	١ ناتج جمع العددين ١٦٩١٥، ٢١١٠٥ يساوي ٣٨٠٢٠
<input checked="" type="checkbox"/>	<input checked="" type="checkbox"/>	٢ ناتج طرح ٦٠٠٠٠٠ من ٧٠٠٠٠٠ يساوي ١٠٠٠٠

انتهت الأسئلة ،،،

السؤال الأول :

اكتب الاعداد ٢، ٩، ١١، ١٣، ١٥، ٢٣ في المكان المناسب في مخطط فن التالي



السؤال الثاني :

ظل  إذا كانت العبارة صحيحة، و ظل  إذا كانت العبارة خطأ

<input type="checkbox"/>	<input checked="" type="checkbox"/>	١ ناتج جمع العددين ١٦٩١٥، ٢١١٠٥ يساوي ٣٨٠٢٠
<input checked="" type="checkbox"/>	<input type="checkbox"/>	٢ ناتج طرح ٦٠٠٠٠٠ من ٧٠٠٠٠٠ يساوي ١٠٠٠٠

انتهت الأسئلة ،،،