

تم تحميل هذا الملف من موقع ملفات الكويت التعليمية



[com.kwedufiles.www//:https](https://www.kwedufiles.com)

\*للحصول على أوراق عمل لجميع الصفوف وجميع المواد اضغط هنا

\* للحصول على أوراق عمل لجميع مواد الصف السادس اضغط هنا

<https://kwedufiles.com/6>

\* للحصول على جميع أوراق الصف السادس في مادة رياضيات وجميع الفصول, اضغط هنا

<https://kwedufiles.com/6math>

\* للحصول على أوراق عمل لجميع مواد الصف السادس في مادة رياضيات الخاصة بـ الفصل الأول اضغط هنا

<https://www.kwedufiles.com/6math1>

\* لتحميل كتب جميع المواد في جميع الفصول للـ الصف السادس اضغط هنا

<https://www.kwedufiles.com/grade6>

[bot\\_kwlinks/me.t//:https](https://t.me/bot_kwlinks)

للحصول على جميع روابط الصفوف على تلغرام وفيسبوك من قنوات وصفحات: اضغط هنا

الروابط التالية هي روابط الصف السادس على مواقع التواصل الاجتماعي

مجموعة الفيسبوك

صفحة الفيسبوك

مجموعة التلغرام

بوت التلغرام

قناة التلغرام

رياضيات على التلغرام



# الرياضيات

مراجعة الاختبار القصير ٢ الرياضيات

الصف السادس

لمشاهدة الحل مع الشرح متابعه قناتنا باليوتيوب  
Naglaa math teacher

Whatsapp: 97247064

أوجد ناتج قسمة كل مما يلي:

$= 0,07 \div 1,33$  ١٠

$= 0,8 \div 26,08$  ٩

قرب ناتج القسمة إلى المنزلة المشار إليها:

$0,8 \div 0,75$  (جزء من ألف). ١٧



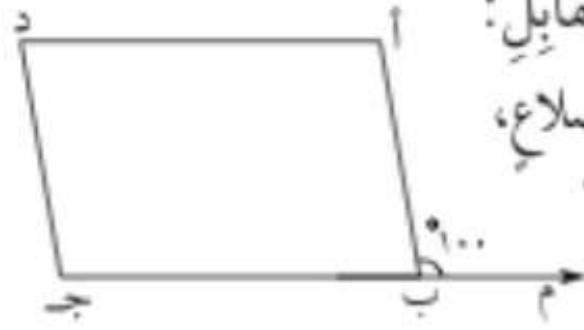
في الشكل المقابل إذا كان قياس (أ م ج) =  $28^\circ$  ، أكمل ما يلي:

قياس (د م ن) = ..... السبب: .....

قياس (أ م د) = ..... السبب: .....

قياس (ج م ن) = ..... السبب: .....

٢ في الشكل المقابل:



أب ج د متوازي أضلاع،

ق (أب م) = 100°

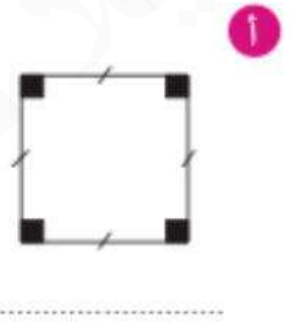
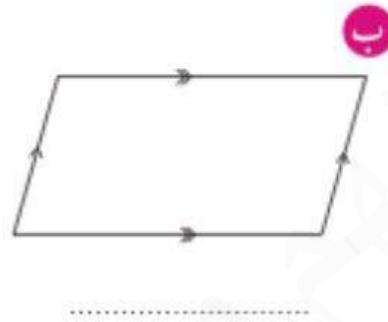
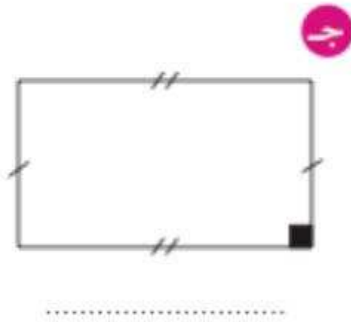
أوجد:

أ قياس (أب ج) = .....

ب قياس (أ) = .....

ج قياس (د) = .....

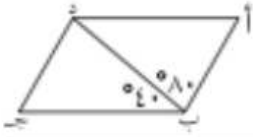
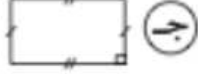
١ صنف المضلعات التالية:



ارسم المثلث أ ب ج حيث: أ ب = 5 سم ، أ ج = 4 سم ، ب ج = 3 سم .

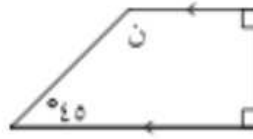
اختر الاجابة الصحيحه

٤ الشَّكْلُ الرَّبَاعِيُّ الَّذِي لَا يُمَثِّلُ مُتَوَازِي أَضْلَاحَ هُوَ:



٥ في الشَّكْلِ الْمُقَابِلِ إِذَا كَانَ أ ب ج د مُتَوَازِي أَضْلَاحَ فَإِنَّ ق (ب د أ) =

- ١ ٤٠ (ا) ٢ ٦٠ (ب) ٣ ٨٠ (ج) ٤ ١٢٠ (د)



٦ في الشَّكْلِ الْمُقَابِلِ قِيَاسُ ( ن ) =

- ١ ٩٠ (ا) ٢ ٥٥ (ب) ٣ ١٣٥ (ج) ٤ ٣٥ (د)

سارع بحجز نسختك لمذكره نهايه الفصل الدراسي الاول

مذكره شامله لمراجعته وحدات المنهج مع شرح شامل بالفيديو

وحل اختبارات المحافظات مذكرة يلا نفهم طريقك الي التفوق

للاستفسار. واتساب : 97247064

---

