





أكمل :-

وزعت ١٦ خرزة على ٤ خيوط بالتساوي


عدد الخرزات في كل خيط \_\_\_\_\_ خرزات



كون مجموعات متكافئة ثم أكمل

حوظ كل ٥ أقلام

عدد المجموعات \_\_\_\_\_ مجموعات



اوجد ناتج القسمة

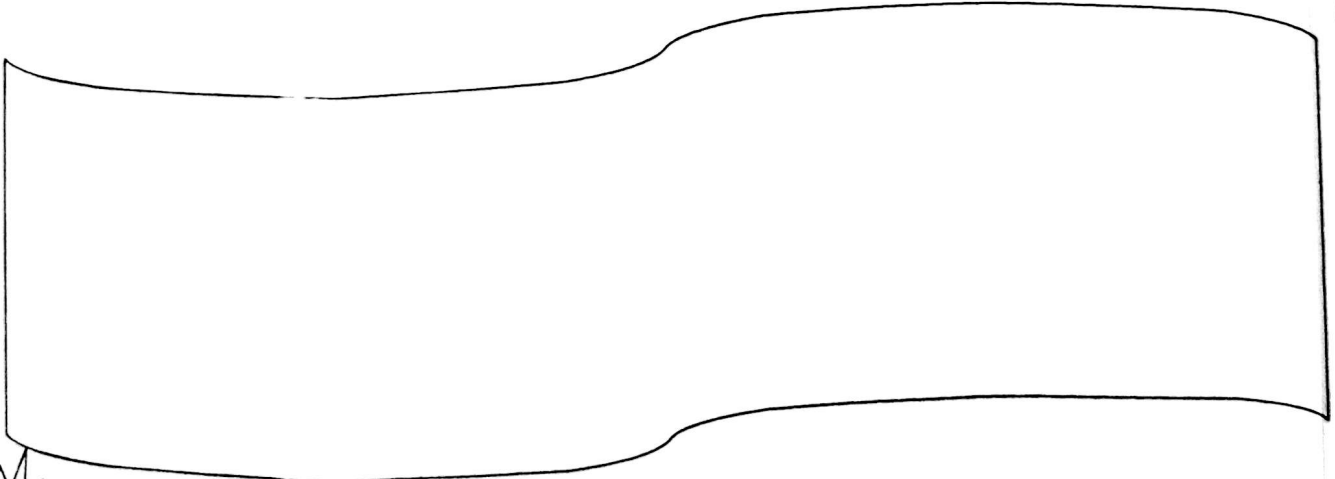
$$\underline{\hspace{2cm}} = 3 \div 9$$



ثم اكتب الناتج

$$\underline{\hspace{2cm}} = 0 \div 0$$

وضح بالرسم



أكمل . اكتب عدد المجموعات



حوط كل ٢

$10 \div 2 = \underline{\quad}$


عدد المجموعات

اكتب عبارة القسمة الممثلة:-



$\underline{\quad} = \underline{\quad} \div \underline{\quad}$

هل يمكنك كتابة عبارة قسمة أخرى؟

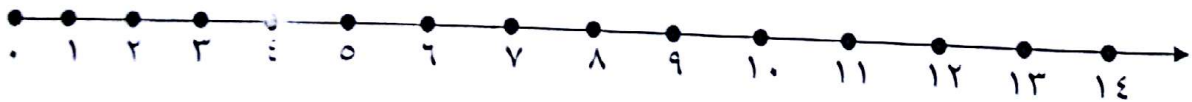


اوجد ناتج القسمة مستخدما الطرح المتكرر

$12 \div 4 = \underline{\quad}$

باستخدام خط الأعداد

وزع ١٤ ☆ على المتعلمين بحيث يأخذ كل متعلم ٢ ☆



$14 \div 2 = \underline{\quad}$

قسم الى مجموعات متساوية



$\underline{\quad} = \underline{\quad} \div \underline{\quad}$

$\underline{\quad} = \underline{\quad} \div \underline{\quad}$

اكتب عبارات الضرب والقسمة للأعداد ٤ ، ٥ ، ٢٠ .

$$\underline{\quad} = \underline{\quad} \div \underline{\quad}$$

$$\underline{\quad} = \underline{\quad} \times \underline{\quad}$$

$$\underline{\quad} = \underline{\quad} \div \underline{\quad}$$

$$\underline{\quad} = \underline{\quad} \times \underline{\quad}$$

اكتب العدد الناقص

$$٢ = ٥ \div \square$$

$$٤ = ٣ \div \square$$

أكمل .

|    |   |   |  |
|----|---|---|--|
| ١٨ | ٨ | ٦ |  |
|    |   |   |  |

www.kwedufiles.com اختر العملية المناسبة ، ثم اوجد الناتج

\* وضع محمد ٧ برتقالات في و ٩ برتقالات أخرى

فكم أصبح عدد كل البرتقالات في ؟

برتقالة \_\_\_\_\_ عدد كل البرتقالات

$$٧ + ٩$$

$$٧ - ٩$$

\* وزع خالد ١٢ على ٤ من أصدقائه بالتساوي فكم نصيب كل صديق ؟

نصيب كل صديق \_\_\_\_\_

$$٤ - ١٢$$

$$٤ \div ١٢$$

\* عند فهد ٣ سلال في كل منها ٥ ، فكم عدد كل البرتقال ؟

عدد كل البرتقال \_\_\_\_\_

$$٥ \times ٣$$

$$٥ + ٣$$

\* أعطى سالم أخاه ٨ أقلام من أقلامه الملونة . إذا كان لديه ١٣ قلمًا ؟ فكم قلمًا بقي معه ؟

عدد الأقلام المتبقية \_\_\_\_\_

$$٨ - ١٣$$

$$٨ \div ١٣$$



## نموذج اختبار الوحدة التاسعة

اكتب عبارة ضرب و عبارة قسمة للأعداد ٣ ، ٥ ، ١٥



$$\underline{\hspace{2cm}} = \underline{\hspace{2cm}} \div \underline{\hspace{2cm}}$$

$$\underline{\hspace{2cm}} = \underline{\hspace{2cm}} \times \underline{\hspace{2cm}}$$

أكمل . اكتب عدد المجموعات



حوط كل ٤

$$\underline{\hspace{2cm}} = 4 \div 12$$

عدد المجموعات

\* وزع عمر ١٠ على ٥ من أصدقائه بالتساوي فكم نصيب كل صديق؟



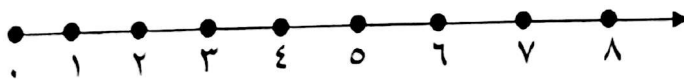
www.kwedufiles.com

نصيب كل صديق =

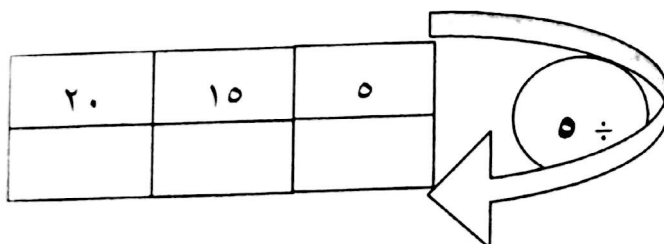
باستخدام خط الأعداد



وزع ٨ ☆ على المتعلمين بحيث يأخذ كل متعلم ٢ ☆

متعلمين  $\square = 8 \div 2$ 

أكمل .



| صفحة ٥                              | صفحة ٦                             | صفحة ٧                             |
|-------------------------------------|------------------------------------|------------------------------------|
| رقم ١ الإجابة                       | رقم ٥ الإجابة ٥ مجموعات            | رقم ١٠ الإجابة                     |
| $٣ = ٥ \div ١٥$ ، $١٥ = ٥ \times ٣$ | رقم ٦ الإجابة                      | $٤ = ٥ \div ٢$ ، $٢٠ = ٥ \times ٤$ |
| رقم ٢ الإجابة ٣ مجموعات             | $٣ = ٥ \div ١٥$ او $٥ = ٣ \div ١٥$ | $٥ = ٤ \div ٢$ ، $٢٠ = ٤ \times ٥$ |
| رقم ٣ الإجابة                       | رقم ٧ الإجابة ٣                    | رقم ١١ الإجابة                     |
| $٢ = ٥ \div ١٠$                     | رقم ٨ الإجابة ٧                    | (أ) ١٠ ، ١٢                        |
| رقم ٤ الإجابة ٤ متعلمين             | رقم ٩ الإجابة                      | (ب) ٩ ، ٤ ، ٣                      |
|                                     | $٣ = ٢ \div ٦$                     | (ج) ٥ ، ١٥ ، ٣ ، ١٦                |
|                                     | $٢ = ٣ \div ٦$                     |                                    |

WWW.KweduFiles.Com

| صفحة ٨                  |
|-------------------------|
| رقم ١ الإجابة ٤ خرزات   |
| رقم ٢ الإجابة ٣ مجموعات |
| رقم ٣ الإجابة ٣         |
| رقم ٤ الإجابة ١         |
| رقم ٥ الإجابة           |
| ٤ ، ٣ ، ١               |

