

تم تحميل هذا الملف من موقع المناهج الكويتية



الملف نموذج أسئلة منطقة الفروانية

[موقع المناهج](#) ← [المناهج الكويتية](#) ← [الصف السادس](#) ← [اجتماعيات](#) ← [الفصل الأول](#)

روابط مواقع التواصل الاجتماعي بحسب الصف السادس



روابط مواد الصف السادس على تلغرام

[الرياضيات](#)

[اللغة الانجليزية](#)

[اللغة العربية](#)

[التربية الاسلامية](#)

المزيد من الملفات بحسب الصف السادس والمادة اجتماعيات في الفصل الأول

<a href="#">نموذج احابة اختبار لمنطقة مبارك الكبير عام 2016</a>	1
<a href="#">اوراق عمل مهمة في مادة الاجتماعيات</a>	2
<a href="#">بنك اسئلة ممتاز في مادة الاجتماعيات</a>	3
<a href="#">بنك معلومات مهم في مادة الاجتماعيات</a>	4
<a href="#">تلخيص اجتماعيات بشكل مبسط</a>	5

للعام الدراسي ٢٠٢١ / ٢٠٢٢ م

زمن الإجابة: ساعة وخمسة وأربعون دقيقة

عدد الأوراق : (٦)

امتحان نهاية الفصل الدراسي الأول  
للصف السادس في مادة الاجتماعيات  
لمقرر الكويت ودول الخليج العربيةوزارة التربية  
الإدارة العامة لمنطقة الفروانية التعليمية  
التوجه الفني للاجتماعيات

(أجب عن جميع الأسئلة )



السؤال الأول ( الموضوعي ) ويتكون من ( أ - ب - ج - د - هـ - و - ز ) :

أ- اختر الخيار الصحيح من بين الخيارات التي تلي كل عبارة بوضع خط تحتها:

١- تقع منطقة الخليج العربية بالنسبة لقارة آسيا في الجهة :

أ- الشمالية الشرقية      ب- الشمالية الغربية      ج- الجنوبية الشرقية      د- الجنوبية الغربية

٢- الدولة الخليجية التي قامت على أرضها حضارة دلمون :

أ- الإمارات      ب- قطر      ج- البحرين      د- عمان

٣- العام الذي تم فيه انطلاق السوق الخليجي المشترك :

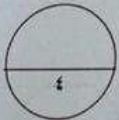
أ- ٢٠٠٧م      ب- ٢٠٠٨م      ج- ٢٠٠٩م      د- ٢٠١٠م

٤- القمة السابعة والعشرين لمجلس التعاون لدول الخليج العربية اطلق عليها اسم الشيخ :

أ- صباح السالم الصباح      ب- جابر الأحمد الصباح      ج- سعد العبدالله الصباح      د- صباح الأحمد الصباح

٥- الاسم الذي يطلق على الصبية الذين يعملون على ظهر السفينة لاكتساب الخبرة:

أ-التبابة      ب- الطواويش      ج- العواصين      د - الفواخذة



ب- صنف أسماء النباتات الطبيعية التالية حسب مكانها المناسب في الجدول :-

( الخبزة - الصبار - العرفج - الحويذان )

النباتات الحولية	النباتات المعمرة
.....	.....
.....	.....

(١)

تابع/امتحان نهاية الفترة الفصل الدراسي الأول - الصف السادس- مقرر (الكويت ودول الخليج العربية) ٢٠٢١ - ٢٠٢٢ م



ج، اكتب العنوان المناسب أسفل كل صورة لكل مما يلي :

( خياطة المشوت - صناعة السفن - صناعة الخوص )



د) أكمل العبارات التالية بما يناسبها مما درست :

١- الموقع بالنسبة لخطوط الطول ودوائر العرض يعرف باسم .....

٢- يوجد الجبل الأخضر في دولة خليجية اسمها .....

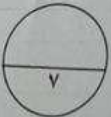
٣- يطلق على ريان السفينة في الكويت قديماً اسم .....

٤- الدولة الخليجية العربية الوحيدة التي لم تتعرض للاستعمار تسمى .....

٥- المدينة التي اتخذت مقراً دائماً لمنظمة مجلس التعاون الخليجي تسمى .....

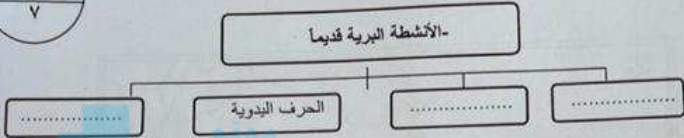
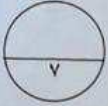
٦- عرف الخليج العربي قديماً باسم .....

٧- أعلن قيام مجلس التعاون لدول الخليج العربية في عام .....



تابع / امتحان نهاية الفصل الدراسي الأول - الصف السادس - مقرر (الكويت ودول الخليج العربية) ٢٠٢١ - ٢٠٢٢ م

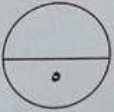

هـ. أكمل المخططات السهمية التالية :



٢- الهيكل التنظيمي لمجلس التعاون الخليجي



٣- الدول الاستعمارية التي توالى على منطقة الخليج العربية



و- أكتب المفهوم أو المصطلح الدال على العبارات التالية :

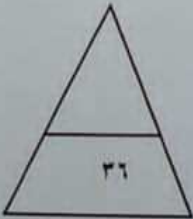
المفهوم	التعريف
١-.....	ذراع مائي لبحر العرب يمتد من خليج عمان جنوباً حتى شط العرب شمالاً.
٢-.....	الشخص الذي يغوص في أعماق البحر بحثاً عن اللؤلؤ .
٣-.....	منطقة تقع في الصحراء بها مياه عذبة صالحة للزراعة .
٤-.....	نباتات يرتبط وجودها بموسم سقوط الأمطار .
٥-.....	تحرر الدولة من المستعمر الأجنبي وقيامها بمسؤولية إدارة شؤونها الداخلية والخارجية .

تلخيص امتحان نهاية الفصل الدراسي الأول - الصف السادس - مقرر (الكويت ودول الخليج العربية) ٢٠٢١ - ٢٠٢٢ م

١) لاحظ خريطة دول الخليج العربية ثم أجب عن الأسئلة التي تليها.



- الدولة الخليجية التي ظهرت بها حضارة مجان يمثلها على الخريطة الرقم .....
- الدولة الخليجية التي توجد بها هضبة نجد يمثلها على الخريطة الرقم .....
- الدولة الخليجية التي ظهرت بها الحضارة الهلنستية يمثلها على الخريطة الرقم .....
- الدولة التي أعلن فيها عن قيام منظمة مجلس التعاون لدول الخليج العربية يمثلها على الخريطة الرقم .....
- الشكل ( ● ) على الخريطة يرمز إلى مسطح مائي اسمه .....



(٤)



تليح / امتحان نهاية الفصل الدراسي الأول - الصف السادس مقرر (التكويت ودول الخليج العربية) ٢٠٢١ - ٢٠٢٢ م



السؤال الثامن : يتكون من [ أ ، ب ]

أ) علل لما يلي : (اذكر السبب) :

١- التصرف سكان منطقة الخليج العربية عن حرفة الغوص على اللؤلؤ .

٢- تعتبر سفينة البقلة من أفضل أنواع السفن المستعملة في السفر قديماً في منطقة الخليج العربية .

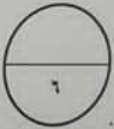
٣- أهمية الموقع الجغرافي لمنطقة الخليج العربية .

ب) عرف المفاهيم والمصطلحات التالية :

١- الموقع النسبي :

٢- المناخ :

٣- الاستعمار :



السؤال الثالث : عدد لكل مما يلي :

١- وسائل صيد الأسماك قديماً .

٢- أشكال سطح الأرض ( التضاريس) .

٣- الصفات المشتركة بين دول الخليج العربية .

تابع/امتحان نهاية الفصل الدراسي الأول - الصف السادس - مقرر (التكوير ودول الخليج العربية) (٢٠٢١ - ٢٠٢٢ م)

السؤال الرابع - ويتكون من (أ - ب)

أ) قارن بين (معاهدة الحماية والاستقلال) لدولة الكويت مع بريطانيا حسب الجدول التالي :

أوجه المقارنة	معاهدة الحماية	معاهدة الاستقلال
العام	.....	.....
اسم الحاكم	.....	.....

ب) اكتب فصلاً يلي مما درست :

١- أنواع الرياح التي تهب على منطقة الخليج العربية .

.....  
.....

٢- أهم الأنشطة البحرية في منطقة الخليج العربية قديماً .

.....  
.....

٣- أهداف مجلس التعاون لدول الخليج العربية .

.....  
.....



انتهت الأسئلة

(٦)

