

تم تحميل هذا الملف من موقع المناهج الكويتية



هالة لبيب

الملف إجابة اختبار تحصيلي أول

[موقع المناهج](#) ← [المناهج الكويتية](#) ← [الصف الأول](#) ← [رياضيات](#) ← [الفصل الأول](#)

روابط مواقع التواصل الاجتماعي بحسب الصف الأول



روابط مواد الصف الأول على تلغرام

[الرياضيات](#)

[اللغة الانجليزية](#)

[اللغة العربية](#)


[التربية الاسلامية](#)

المزيد من الملفات بحسب الصف الأول والمادة رياضيات في الفصل الأول


تدريبات على كتابة الاعداد من 1 وحتى 10 في مادة الرياضيات	1
التصنيف وفق خاصية واحدة في مادة الرياضيات	2
اوراق عمل في مادة الرياضيات	3
تحضير درس الانماط في مادة الرياضيات	4
تحضير درس التطابق في مادة الرياضيات	5

الإجابات
فقط
H.I.C.

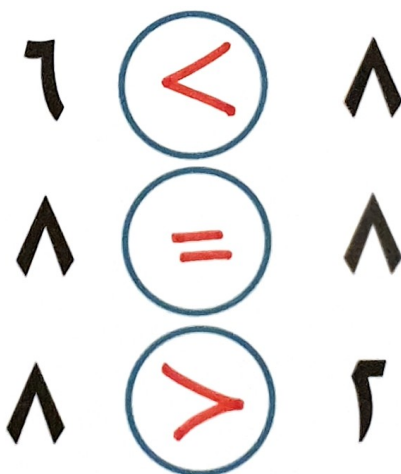
السؤال الأول : أكمل



السؤال الثاني : استكمل رسم العناصر حسب العدد الموضح



السؤال الثالث : قارن بين العددين بوضع علامة > او < او =



السؤال الرابع : عد ثم اكتب رمز العدد

٣



٢




٤



٥



السؤال الخامس : أكمل



السؤال السادس : قارن بين العددين بوضع علامة > او < او =

السؤال الثامن: لون 9 تفاحات



السؤال التاسع: صل