

نموذج الاجابة

<p>العام الدراسي : ٢٠٢٣/٢٠٢٤ م الزمن : ساعة و ٤٥ دقيقة عدد الأوراق : (٦)</p>	<p>امتحان الفترة الدراسية الأولى مقرر دولة الكويت والعالم الإسلامي الصف الثامن</p>	<p>وزارة التربية الإدارة العامة لمنطقة العاصمة التعليمية التوجيه الفني للاجتماعيات</p>
--	--	--

(١٠ × ١ = ١٠ درجات)



السؤال الأول : موضوعي و يتكون من (أ - ب)

(أ) ظلل الخيار الصحيح من بين الخيارات التي تلي كل عبارة :

ص ٣٩

١. العالم الذي ألف كتاب " الجبر والمقابلة " :

الحسن بن الهيثم	البكري	الخوارزمي	الرازي
-----------------	--------	-----------	--------

٢. الدولة الإسلامية التي تحتل المركز الثاني على مستوى العالم في الإنتاج البحري لعام ٢٠١٤ م : ص ٧٤

باكستان	إندونيسيا	كازاخستان	اوزباكستان
---------	-----------	-----------	------------

ص ٣٨

٣. المركز العلمي الذي يقع في مدينة بغداد :

بيت الحكمة	المسجد النبوي	المرصد الفلكي	مجمع باي كاليان
------------	---------------	---------------	-----------------

٤. المنصب الإداري الجديد الذي استحدث في عهد الخليفة عمر بن الخطاب رضي الله عنه : ص ٢٥

الخليفة	الوالي	الحاجب	المحتسب
---------	--------	--------	---------

ص ٢٨

٥. تجب الزكاة على الأموال النقدية التي حال عليها الحول بما نسبة :

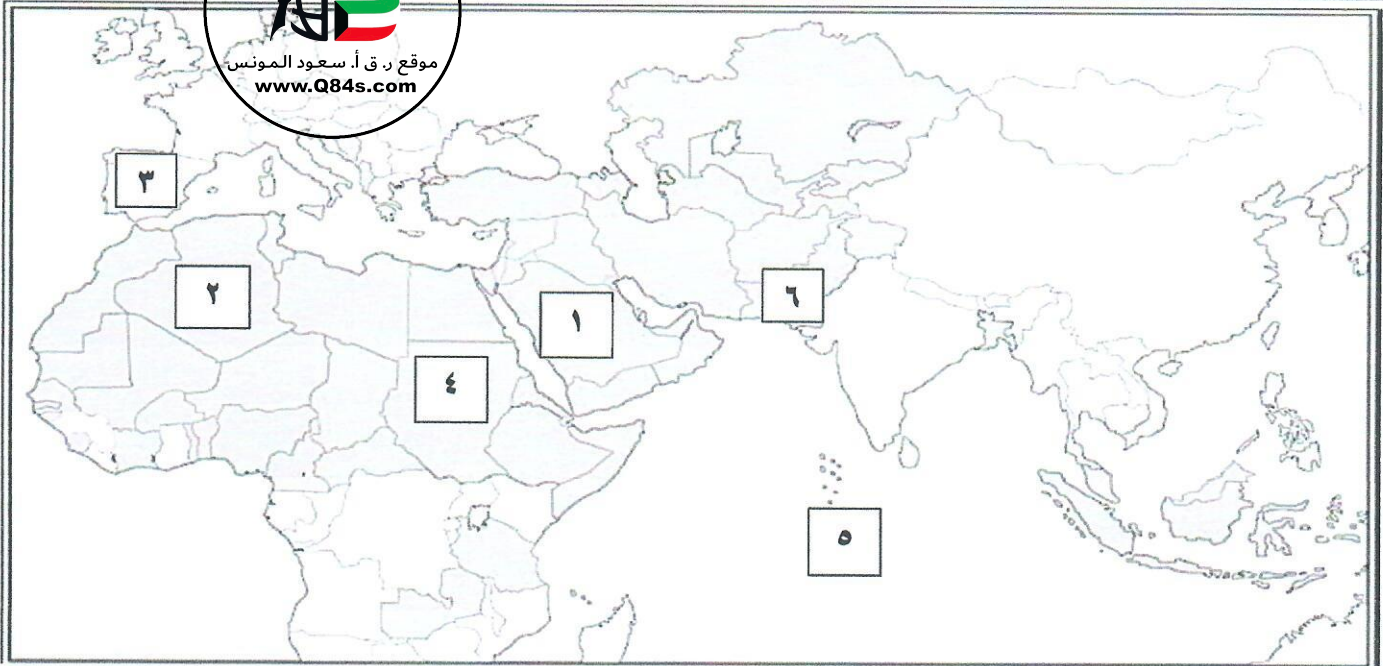
١,٥ %	٢,٥ %	٣,٥ %	٤,٥ %
-------	-------	-------	-------

(ب) أكمل العبارات التالية بما يناسبها مما درست :

١. الصدقة الجارية التي يوقفها المرء في حياته لوجوه الخير والبر تسمى الوقف الإسلامي . ص ٢٩
٢. الدولة الإسلامية الوحيدة التي تقع في قارة أمريكا الجنوبية اسمها سورينام . ص ٥١
٣. المدينة التي أنشئ فيها ديوان الماء في خراسان اسمها مرو . ص ٢٧
٤. الدولة التي تعتبر أكبر دولة إسلامية من حيث المساحة اسمها جمهورية كازاخستان . ص ٥٢
٥. حاكم دولة الكويت الذي لقب بقائد العمل الإنساني اسمه الشيخ صباح الأحمد . ص ٢٤

السؤال الثاني : موضوعي و يتكون من (أ - ب)

(أ) لاحظ خريطة العالم الإسلامي الصماء ثم أجب على الأسئلة التي تليها :



- ١- أصغر الدول الإسلامية مساحة يمثلها الرقم (٥) ص ٥٢ / ٦٨
- ٢- الدولة العربية التي تقع فيها هضبة نجد يمثلها الرقم (١) ص ٥٦
- ٣- الدولة التي يقع فيها جبل مرة يمثلها الرقم (٤) ص ٥٤
- ٤- مركز إشعاع حضاري إسلامي في أوروبا يمثله الرقم (٣) ص ٤١
- ٥- دولة إسلامية تقع ضمن الإقليم الموسمي الحار الممطر صيفا يمثلها الرقم (٦) ص ٦٣

(ب) صنف المساجد التي بين القوسين حسب مكانها الصحيح في الجدول التالي :

(جامع الزيتونة - مسجد السلطان أحمد - جامع قرطبة - جامع الأزهر - المسجد الأموي) ص ٣٣

الأندلس	تونس	إسطنبول	القاهرة	دمشق
جامع قرطبة	جامع الزيتونة	مسجد السلطان أحمد	جامع الأزهر	المسجد الأموي

(١٠ × ١ = ١٠ درجات)

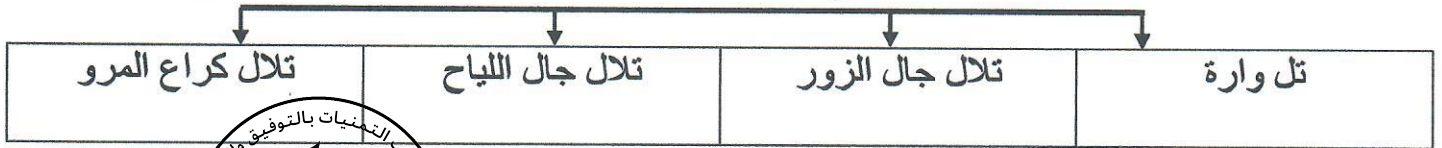
السؤال الثالث : موضوعي ويتكون من (أ - ب)

(أ) أكمل المخططات السهمية التالية :

١- المصادر الطبيعية والغير طبيعية لإنتاج الأسماك في دول العالم الإسلامي . ص ٧٤



٢- التلال في دولة الكويت . ص ٦١




(ب) أكمل العبارات التالية مستعينا بالصور والأشكال المقابلة :

١- داعية كويتي عمل في المجال الخيري عبد الرحمن السميطة . ص ٢٤



٢- صناعة خشبية ظهرت في الحضارة الإسلامية الأرابيسك . ص ٢٧



٣- أكبر مساجد العالم وأولى القبلتين في الإسلام المسجد الأقصى . ص ٣٠



٤- نوع من الحمام استخدمه المسلمون في نقل الرسائل جوا الزاجل . ص ٣٣



٥- حاكم الكويت تم في عهده افتتاح المسجد الكبير الشيخ جابر الأحمد . ص ٤٣





(٥ = ١ × ٥ درجات)

ص ٣٧

السؤال الرابع: مقالي و يتكون من (أ - ب)

(أ) علل لما يلي (أذكر السبب) :

١- ازدهار العلم وظهور العلماء في الحضارة الإسلامية .

- تشجيع العلماء ورعاية وتمويل القيادات لهم
- حركة التعريب (الترجمة) للكتب القديمة اليونانية والهندية والفارسية وغيرها - الرخاء الاقتصادي .

ص ٥٨

٢- أهمية السهول في العالم الإسلامي .

- استخدامها كموانئ طبيعية - تشييد المدن - تركيز السكان فيها لسهولة النقل

ص ٥٥

٣. تسمية مرتفعات الحجاز بهذا الاسم .

- لأنها تحجز سهل تهامة في الغرب عن هضبة نجد في الشرق

(٥ = ٥ × ١ درجات)

(ب) عرف المفاهيم أو المصطلحات التالية :

السهول	أجزاء فسيحة من سطح الأرض تتميز باستوائها وقلّة ارتفاعها .	ص ٥٣
الوادي	حوض أو منخفض طبيعي على سطح الأرض .	ص ٥٣
احتياط النفط	كمية النفط المخزونة في باطن الأرض ولم تستخرج بعد .	ص ٦٨
الغلات النقدية	المحاصيل التي تزرع من أجل التصدير مثل القطن والجوت والمطاط الطبيعي.	ص ٧٣
الحضارة	كل ما يطرأ على المجتمع من تقدم وتطور ورقي سواء في الجانب المادي او الروحي	ص ١٨

السؤال الخامس : مقالتي يتكون من (أ - ب)

(٦ × ١ = ٦ درجات)

(أ) اقرأ الفقرة التالية ثم أجب عن الأسئلة التي تليها :

" أهتمت الدولة الإسلامية بالموارد الاقتصادية والمالية لما لها من دور في تقدم البلاد وازدهارها فشملت مجالات عديدة منها مجالات الصناعة التي أخذت اهتماماً كبيراً من أجل استثمار الموارد الطبيعية المتوفرة بها فظهرت صناعات عديدة ومتنوعة "

ص ٢٧/٢٦

١- ضع عنواناً مناسباً للفقرة السابقة .

(درجة)

- الاجابة على حسب ما يراه المصحح .

٢- علل من خلال الفقرة السابقة: اهتمام الدولة الإسلامية اهتماماً كبيراً في قطاع الصناعة . (درجة)

- من أجل استثمار الموارد الطبيعية المتوفرة بها .

(درجة)

٣- عدد الصناعات التي اهتمت بها الدول الإسلامية .

- صناعة السفن - صناعة الأسلحة - صناعة الورق

- صناعة الأدوية - صناعة المنسوجات - صناعة الخزف والمعادن

- الصناعات الخشبية مثل الأرابيسك .

(٤ × ١ = ٤ درجات)

(ب) فرق بين كل من حيث التعريف :

الجزية ص ٢٩	الخراج ص ٢٨
مبلغ مالي يدفعه الرجال غير المسلمين من (أهل الذمة) ممن هم قادرين على حمل السلاح نظير حماية الدولة لهم .	ضريبة الأرض الزراعية التي تخرج مبلغاً مالياً معيناً من ناتج المحصول الزراعي .
الجبيل ص ٥٣	الهضبة ص ٥٣
كل قمة لا يقل ارتفاعها عن ١٠٠٠ متر تقريباً .	أرض مرتفعة سطحها مستوي وتمتد لمساحة واسعة .

السؤال السادس: مقالتي ويتكون من (أ - ب) :

(٦ = ١ × ٦ درجات)

(أ) أجب عن الأسئلة التالية :

- ١- اكتب العوامل التي لعبت دوراً في تنوع المناخ في دول العالم الإسلامي . ص ٦٣
- امتداد دول العالم الإسلامي على مساحة شاسعة - التنوع في التضاريس من جبال وهضاب وسهول ووديان . - الإطالة على عدة مسطحات مائية في معظم أجزائه - الموقع بالنسبة لدوائر العرض
- ٢- ما الأسس التي انطلقت من خلالها الحضارة الإسلامية . ص ٢٠
- الدين الإسلامي - اللغة العربية - الحضارات الأخرى
- ٣- اذكر اثنين من المظاهر العمرانية في الحضارة الإسلامية . ص ٣٠
- الأسوار - القباب - المآذن - المنابر - الزخارف .

(٤ = ١ × ٤ درجات)

(ب) قارن بين كل من :

أوجه المقارنة	البيروني ص ١٩	الجاحظ ص ٤٠
عدد الكتب التي ألفها	١٨٠ كتاب	٣٥٠ كتاب
أهم الكتب	الصيدلة في الطب	كتاب الحيوان



انتهت الإجابة مع تمنياتنا بالتوفيق والنجاح