







الاسم : .....

ورقة عمل

اكمل الفراغات التالية بما يناسبها :  
1- ما هي العناصر المكونة للدولة ؟

		
.....	.....	.....

2- اذكر اسماء السلطات في دولة الكويت:

		
.....	.....	.....

3- من هو الرئيس الاعلى لدولة الكويت ؟

عرفي مفهوم الدولة :

.....

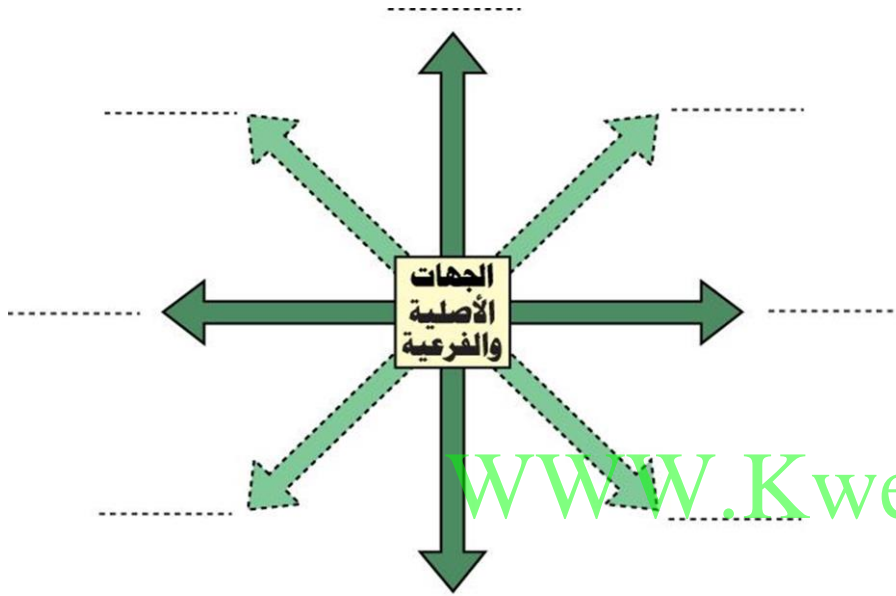
.....

.....

الاسم : .....

ورقة عمل

اكمل الفراغات التالية بما يناسبها :  
1- حددي الجهات الاصلية و الفرعية على المخطط التالي :



2- عددي عناصر الخريطة :

.....	.....	.....	.....
-------	-------	-------	-------

3- ما الفائدة من الاتجاهات ؟

.....

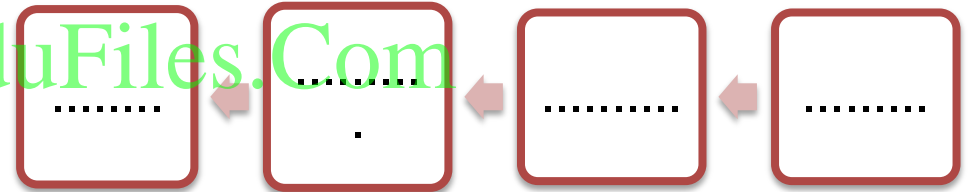
.....

الاسم : .....

ورقة عملاكمل الفراغات التالية بما يناسبها :

- 1- تبلغ مساحة دولة الكويت .....  
 2- يعتبر ..... من اكبر الخيران في شمال الخليج العربي.

3- من مميزات سطح دولة الكويت:



4- عرف في الخور:

.....

الاسم : .....

ورقة عملحددي على خريطة دولة الكويت الصماء التي امامك مايلي :

- 1- دوله تحد دولة الكويت من جهة الشمال والشمال الغربي.  
 2- دولة تحد دولة الكويت من جهة الجنوب والجنوب الغربي  
 3- المسطح المائي الذي تطل عليه دولة الكويت



الاسم : .....

ورقة عمل

اكمل الفراغات التالية بما يناسبها :

- 1- عدد الجزر الكويتية .....
- 2- اكبر الجزر الكويتية مساحة هي جزيرة .....
- 3- الجزيرة الكويتية التي كانت مأهولة بالسكان هي .....
- 4- من الجزر التي تقع داخل جون الكويت هي جزيرة .....
- 5- الجزيرة تعني .....
- 6- الرأس هو .....

اكمل الفراغات التالية بما يناسبها من كلمات:

- 1- تدور الارض حول الشمس كل .....
- 2- الفصول الاربعة هي ..... و .....
- 3- مناخ دولة الكويت مناخ .....
- 4- ترتفع درجة حرارة دولة الكويت في فصل .....
- 5- تنخفض درجة الحرارة في دولة الكويت في فصل .....

الاسم : .....

ورقة عمل

فرقي بين كل من الطقس و المناخ :

الطقس	المناخ
.....	.....
.....	.....
.....	.....
.....	.....

و تمتلك دولة الكويت العديد من الجزر و يبلغ عددها 9 جزر



الاسم : .....

### ورقة عمل

اكمل الفراغات التالية بما يناسبها :  
1- ينحدر سطح دولة الكويت تدريجيا من .....الى.....

2- من المظاهر التضاريسية في دولة الكويت :



.....  
.....



.....  
.....



.....  
.....

3- عرف كل من :

-التضاريس : .....

-السهل : .....

-الوادي : .....

-التل : .....

### حددي على خريطة دولة الكويت اسماء اشهر المظاهر التضاريسية في دولة الكويت



الاسم : .....

ورقة عمل

فرقي بين كل من الطقس و المناخ :

الطقس	المناخ
.....	.....
.....	.....
.....	.....
.....	.....

WWW.KweduFiles.Com

اكمل الفراغات التاليه بما يناسبها من كلمات :

- 1- تدور الارض حول الشمس كل .....
- 2- الفصول الاربعة هي ..... و .....
- ..... و .....
- 3- مناخ دولة الكويت مناخ .....
- 4- ترتفع درجة حرارة دولة الكويت في فصل .....
- 5- تنخفض درجة الحرارة في دولة الكويت في فصل .....