

تم تحميل هذا الملف من موقع المناهج الكويتية



منطقة الجهراء التعليمية

الملف نموذج أسئلة منطقة الجهراء التعليمية

موقع المناهج ← المناهج الكويتية ← الصف الثامن ← اجتماعيات ← الفصل الأول

روابط مواقع التواصل الاجتماعي بحسب الصف الثامن



روابط مواد الصف الثامن على تلغرام

[الرياضيات](#)

[اللغة الانجليزية](#)

[اللغة العربية](#)

[التربية الاسلامية](#)

المزيد من الملفات بحسب الصف الثامن والمادة اجتماعيات في الفصل الأول

<a href="#">مسودة كتاب الطالب في مادة الاجتماعيات لعام 2018</a>	1
<a href="#">خطة توزيع منهج العام الجديد في مادة الاجتماعيات</a>	2
<a href="#">حل الوحدة الاولى في مادة الاجتماعيات</a>	3
<a href="#">ورقة عمل في مادة الاجتماعيات</a>	4
<a href="#">ورقة عمل في مادة الاجتماعيات</a>	5

السؤال الرابع (مقالى) يتكون من (أ - ب - ج) :

(أ) اقرأ الفقرة التالية ثم أجب عما يليها من الأسئلة :

تعددت أنواع السهول في العالم الإسلامي ومنها السهول الساحلية والسهول الفيضية (النهرية) ، وتتكون السهول الفيضية نتيجة فيضان الأنهار على الضفاف والتي تؤدي لغمر المناطق المجاورة بالمياه لتتكون طبقة من التربة والرواسب على طول الضفاف مكونة بذلك السهول الفيضية الخصبة ، ومن أهميتها تستخدم كموانئ طبيعية .

١- ضع عنواناً مناسباً للفقرة السابقة .

٢- استخرج من الفقرة أنواع السهول .

٣- عرف ماتحته خط .

(ب) أجب عن الأسئلة التالية :

١- اذكر أهم مصادر إنتاج الأسماك في دول العالم الإسلامي .

٢- عدد خصائص الحضارة الإسلامية .

(ج) فرق بين كل من :

الطقس	المناخ
.....	.....
.....	.....

مجموع درجات السؤال الرابع بالحروف .....

انتهت الأسئلة مع تمنياتنا لكم بالنجاح والتوفيق .

**السؤال الثالث (مقالى) : يتكون من (أ - ب - ج) :**

**(أ) قارن بين كل مما يلي:**

أوجه المقارنة	قصر الخضراء	قصر عمرة
الخليفة	.....	.....
المكان	.....	.....

موقع  
المناهج الكويتية  
almanahj.com/kw

**(ب) علل لما يلي :**

١- قلة عدد السكان في المناطق الجبلية في دول العالم الإسلامي .

- .....
- .....

٢- ازدهار العلم وظهور الطماء .

- .....
- .....

**(ج) دلل على صحة العبارة التالية :**

( هناك عوامل ساعدت على زيادة الإنتاج الزراعي في دول العالم الإسلامي ) .

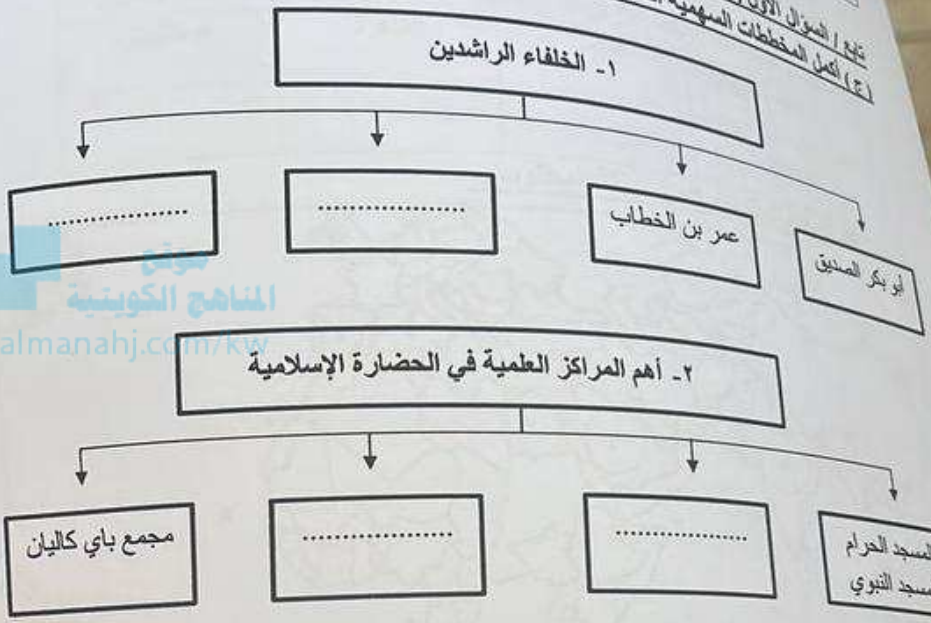
- .....
- .....



مجموع درجات السؤال الثالث بالحروف .....



تاريخ / السؤال الأول (موضوعي) :  
 (ج) أكمل المخططات السهمية التالية:



د) اكتب المفاهيم أو المصطلحات الدالة على العبارات التالية :

م	المفهوم	العبرة
١	.....	أرض مرتفعة سطحها مستوي ، وتمتد لمساحة واسعة .
٢	.....	مساحة من الأرض تتصف بعناصر مناخية متشابهة .
٣	.....	النصارى واليهود الذين ظلوا على دينهم مع دفع الجزية .
٤	.....	تقام فيها الصلوات وخطبة الجمعة والتعليم الديني .

السؤال الثاني (مفاتيح) يتكون من (أ - ب - ج) :  
 (أ) لاحظ الجدول الذي أمامك ثم أجب عن الأسئلة التالية :  
 ١- ما هي أقل دولة منتجة لليورانيوم .

الدولة	النسبة
كازاخستان	٤١%
أوزباكستان	٤,٣%
النيجر	٧,٢%
باكستان	٠,١%

٢- رتب الدول الثلاث الأولى، ترتيباً تنازلياً حسب إنتاجها لليورانيوم .

١- .....	٢- .....	٣- .....
----------	----------	----------

(ب) عدد ما يلي :

١- العوامل التي لعبت دوراً في تنوع المناخ في دول العالم الإسلامي .

- .....
- .....

٢- أسس الحضارة الإسلامية .

- .....
- .....

٣- موارد بيت مال المسلمين .

- .....
- .....

(ج) عرف المفاهيم والمصطلحات التالية :

١- حضارة :

- .....

٢- احتياطي النفط :

- .....



مجموع درجات السؤال الثاني بالحروف





وزارة التربية  
الإدارة العامة لمنطقة الجھراء التعليمية  
التوجيه الفني للاجتماعيات

امتحان نهاية الفترة الدراسية الأولى  
لمقرر دولة الكويت والعالم الإسلامي  
للصف الثامن المتوسط  
العام الدراسي: ٢٠٢٣ م /  
الزمن: ساعة وخمسة وأر  
عدد الأوراق: ٦

### أجب عن جميع الأسئلة

السؤال الأول (موضوعي) يتكون من ( أ - ب - ج - د - هـ - و ):

( أ ) أكمل العبارات التالية بما يناسبها :

- ١- العالم الذي ألف كتاب ( الصيدلة في الطب ) اسمه .....
- ٢- الشيخ الذي افتتح المسجد الكبير في عام ١٩٨٦ اسمه .....
- ٣- أصغر الدول الإسلامية مساحة دولة اسمها .....
- ٤- العام الذي لقب فيه الشيخ صباح الأحمد الصباح رحمه الله بقائد العمل الإنساني .....
- ٥- نبات يصنع منه الحبال والأحذية والحقائب والأقمشة الخشنة يسمى .....
- ٦- المنصب الإداري الجديد الذي تم استحداثه في عهد الخليفة عمر بن الخطاب يسمى .....

( ب ) ضع خطأ تحت الخيار الصحيح من بين الخيارات التي تلي كل عبارة :

- ١- أكبر الهضاب في العالم وتمتد من ساحل المحيط الأطلسي غرباً إلى مرتفعات البحر الأحمر شرقاً :  
- هضبة نجد - هضبة الأناضول - الهضبة الإيرانية - هضبة الصحراء الكبرى

- ٢- تبلغ نسبة إنتاج العالم الإسلامي من النفط الخام من إجمالي الإنتاج العالمي :  
- ٣١,٥% - ٤١,٥% - ٥١,٥% - ٦١,٥%

- ٣- تقع دولة الكويت ضمن الإقليم المناخي :  
- الصحراوي الحار - الإستوائي - المداري - المعتدل

- ٤- يبلغ عدد الدول الإسلامية في قارة آسيا :  
- ٢٧ دولة - ٢٨ دولة - ٢٩ دولة - ٣٠ دولة

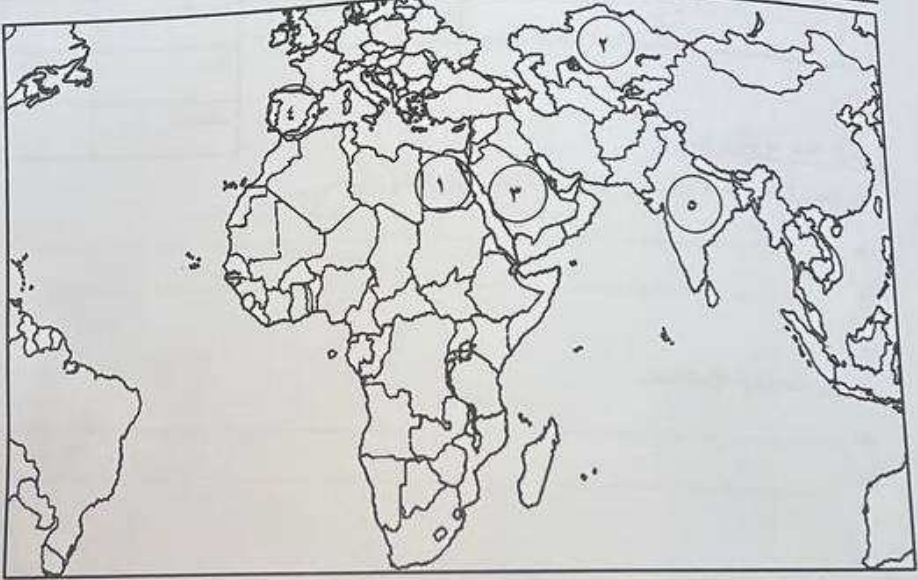
- ٥- الدولة الإسلامية التي يوجد بها تلال جال الزور :  
- البحرين - الكويت - قطر - الإمارات

- ٦- العالم المسلم الذي ألف كتاب ( نزهة المشتاق في اختراق الآفاق ):  
- الإدريسي - الجاحظ - الرازي - البكري

تابع / السؤال الأول (موضوعي) :  
(٥) صنف المساجد التالية حسب موقعها في العالم الإسلامي في الجدول التالي :

( المسجد النبوي - جامع الأزهر - مسجد السلطان أحمد - المسجد الأقصى )	المدينة المنورة	القدس	القاهرة	إسطنبول
.....	.....	.....	.....	.....

(٦) لاحظ خريطة العالم الإسلامي ثم نفذ المطلوب :

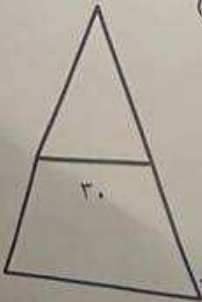


أ- اكتب الرقم الدال على العبارات التالية:

- مركز من مراكز إشعاع الحضارة الإسلامية في أوروبا يمثلها على الخريطة الرقم (.....)
- سهول نهر النيل يوجد في الدولة التي يمثلها على الخريطة الرقم (.....)
- المدينة التي انطلقت منها قيام الدولة الإسلامية يمثلها على الخريطة الرقم (.....)
- أكبر دولة إسلامية من حيث المساحة يمثلها على الخريطة الرقم (.....)

ب- حدد على الخريطة باستخدام الرموز التالية:

- جبل مرة باستخدام الرمز ▲
- المحيط الهندي باستخدام الرمز ●



مجموع درجات السؤال الأول بالحروف .....