

تم تحميل هذا الملف من موقع المناهج الكويتية



الملف نموذج إجابة منطقة الجهراء

[موقع المناهج](#) ← [المناهج الكويتية](#) ← [الصف السادس](#) ← [رياضيات](#) ← [الفصل الثاني](#)

روابط مواقع التواصل الاجتماعي بحسب الصف السادس



روابط مواد الصف السادس على تلغرام

[الرياضيات](#)

[اللغة الانجليزية](#)

[اللغة العربية](#)

[التربية الاسلامية](#)

المزيد من الملفات بحسب الصف السادس والمادة رياضيات في الفصل الثاني

<a href="#">اوراق عمل رياضيات</a>	1
<a href="#">اوراق عمل ونماذج اختبار ممتازة في مادة الرياضيات</a>	2
<a href="#">نموذج اختبار مهم لمادة الرياضيات</a>	3
<a href="#">نموذج اجابة اختبار مهم لمادة الرياضيات</a>	4
<a href="#">نماذج اختبارات مهمة في مادة الرياضيات</a>	5

المادة : رياضيات  
الزمن : ساعتان  
عدد الصفحات : ( ٦ )

امتحان الفترة الدراسية الثانية  
للفصل السادس  
للعام الدراسي ٢٠٢١ / ٢٠٢٢ م

وزارة التربية  
الإدارة العامة لمنطقة الجهاد التعليمية  
التوجيه الفني للرياضيات



تراعى جميع الحلول الصحيحة المختلفة

نحوذج الإجابة

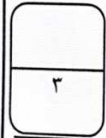
### السؤال الأول:

( أ ) أوجد الناتج في أبسط صورة :

$$3\frac{5}{10} + 1\frac{2}{10} =$$

$$3\frac{1}{2} + 1\frac{1}{5}$$

$$4\frac{7}{10} =$$



١

( ب ) أوجد ناتج كلا مما يلي :

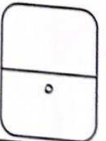
$$3^+ = 9^- + 12^+ \quad (١)$$

$$0 = 5^- + 5^+ \quad (٢)$$

$$14^- = 4^- + 10^- \quad (٣)$$

$$3^+ + 8^+ = 3^- - 8^+ \quad (٤)$$

$$11^+ =$$



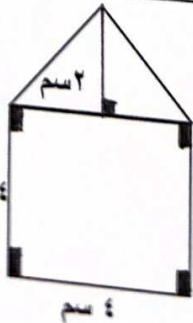
١

١

( ح ) أوجد مساحة الشكل المقابل :

$$\text{مساحة المنطقة المثلثة} = \frac{1}{2} \times \text{ق} \times \text{ع}$$

$$2 \text{ سم}^2 = \frac{1}{2} \times 4 \times 2 =$$



نصف درجة + ١

المادة : رياضيات  
الزمن : ساعتان  
عدد الصفحات : ( ٦ )

امتحان الفترة الدراسية الثانية  
للسف السادس  
للعام الدراسي ٢٠٢١ / ٢٠٢٢ م

وزارة التربية  
الإدارة العامة لمنطقة الجهراء التعليمية  
التوجيه الفني للرياضيات



تراعى جميع الحلول الصحيحة المختلفة

لتحذير الإجابة

**السؤال الأول:**

أ) أوجد الناتج في أبسط صورة :

$$1 + 1$$

$$3 \frac{0}{10} + 1 \frac{2}{10} =$$

$$3 \frac{1}{2} + 1 \frac{1}{10}$$

$$4 \frac{7}{10} =$$



موقع  
المنهج الكويتي  
amanahj.com/kw

ب) أوجد ناتج كلا مما يلي :

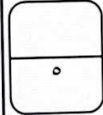
$$3^+ = 9^- + 12^+ \quad (1)$$

$$0 = 5^- + 5^+ \quad (2)$$

$$14^- = 4^- + 10^- \quad (3)$$

$$3^+ + 8^+ = 3^- - 8^+ \quad (4)$$

$$11^+ =$$



١  
١  
١  
١  
١

ج) أوجد مساحة الشكل المقابل :

$$\text{مساحة المنطقة المثلثة} = \frac{1}{2} \times \text{ق} \times \text{ع}$$

$$^2 \text{سم} 4 = 2 \times 4 \times \frac{1}{2} =$$

$$\text{مساحة المنطقة المربعة} = \text{ل} \times \text{ل} =$$

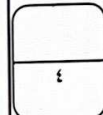
$$^2 \text{سم} 16 = 4 \times 4 =$$

$$\text{المساحة الكلية} = \text{مساحة المنطقة المثلثة} + \text{مساحة المنطقة المربعة}$$

$$^2 \text{سم} 20 = 16 + 4 =$$

نصف درجة + ١

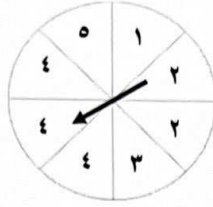
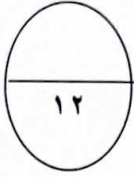
نصف درجة + ١



١

## السؤال الثاني :

(أ) انظر إلى الدوارة المبينة في الشكل المقابل، ثم أوجد كل من الاحتمالات التالية:



- احتمال وقوف المؤشر عند ( العدد ٥ ) =  $\frac{1}{8}$

- احتمال وقوف المؤشر عند ( العدد ٤ ) =  $\frac{3}{8}$

- احتمال وقوف المؤشر عند ( العدد ٧ ) =  $\frac{0}{8}$

١

١

١



موقع  
المنهج الكويتية  
almanahj.com/kw

(ب) أوجد الناتج في أبسط صورة:

$$1 \frac{1}{3} \times 1 \frac{7}{8}$$

$$\frac{4}{3} \times \frac{15}{8} =$$

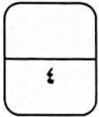
$$\frac{1 \cancel{4} \times 15^0}{1 \cancel{6} \times 2} =$$

$$2 \frac{1}{2} = \frac{5}{2} =$$

$$1 + 1$$

١ (اختصار)

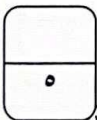
$$\frac{1}{2} + \frac{1}{2}$$



(ج) رتب الأعداد التالية ترتيباً تنازلياً :

٢٥+ ، ١٧- ، ١١- ، ٠ ، ٣+

الترتيب هو: ٢٥+ ، ٣+ ، ٠ ، ١١- ، ١٧- (درجة واحدة لكل عدد)



### السؤال الثالث:



(أ) أوجد قيمة الخصم وسعر البيع إذا كان السعر الأصلي ٢٠ دينار ، ونسبة الخصم ٢٥٪

نصف درجة

نصف درجة

١

نصف درجة

نصف درجة



المناهج الكويتية

almanahj.com/kw

قيمة الخصم = السعر الأصلي × نسبة الخصم

$$20 \times 25\% =$$

$$20 \times 0,25 =$$

$$= 5 \text{ دنانير}$$

سعر البيع = السعر الأصلي - قيمة الخصم

$$20 - 5 =$$

$$= 15 \text{ دينار}$$

(ب) أوجد الناتج :

$$10 + \sqrt{4} - 2(3)$$

$$= 10 + 2 - 6 =$$


$$= 10 + 7 =$$

$$= 17$$

$$1 + 1$$

$$1$$

$$1$$



(ج) أوجد الناتج في أبسط صورة :

$$1 \frac{2}{5} \div 2 \frac{1}{10}$$

$$\frac{7}{5} \div \frac{21}{10} =$$

$$\frac{7}{5} \times \frac{21}{10} =$$


$$\frac{147}{50} =$$

$$1 \frac{1}{2} = \frac{3}{2} =$$

$$\frac{1}{2} + \frac{1}{2}$$

$$\frac{1}{2} + \frac{1}{2}$$

١ (اختصار)



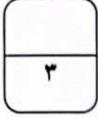
$$\frac{1}{2} + \frac{1}{2}$$

### السؤال الرابع :

(أ) حل المعادلة التالية :



$$\begin{array}{r} 1 + 1 \\ 1 \end{array}$$



$$\text{س} - 12 = 15$$

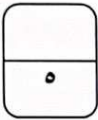
$$\text{س} - 12 + 12 = 15 + 12$$

$$\text{س} = 27$$

(ب) تقطع سيارة 360 كم خلال 4 ساعات. أوجد المسافة التي تقطعها السيارة في الساعة الواحدة

موقع  
المنهج الكويتية  
almanahj.com/kw

$$\begin{array}{r} 1 + 1 \\ 1 \\ 1 \\ 1 \end{array}$$



$$\frac{ن}{1} = \frac{360}{4}$$

$$1 \times 360 = ن \times 4$$

$$4 \div 360 = ن$$

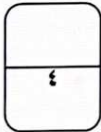
$$ن = 90$$

تقطع سيارة 90 كم في ساعة الواحدة

(ج) أوجد قيمة ما يلي :

$$30\% \text{ من } 700$$

$$\begin{array}{r} 1 \\ 1 \\ \frac{1}{3} + \frac{1}{3} \\ 1 \end{array}$$



$$\frac{ن}{700} = \frac{30}{100}$$

$$700 \times 30 = ن \times 100$$

$$\frac{700 \times 30}{100} = ن$$

$$ن = 210$$



٨	التعبير الجبري لـ "ضعف عدد مطروحاً منه العدد ٣" هو					
Ⓐ	٣ - ٣	Ⓑ	٣ - ٣	Ⓒ	٣ - ٣	Ⓓ
٩	إذا كان $ص \div ٢ = ٤$ فإن $ص =$					
Ⓐ	٢	Ⓑ	٤	Ⓒ	٨	Ⓓ
١٠	زوج النسب الذي يمثل تناسباً هو					
Ⓐ	$\frac{٣}{١٢}$ ، $\frac{٢}{٨}$	Ⓑ	$\frac{٣}{٧}$ ، $\frac{٢}{٧}$	Ⓒ	$\frac{٥}{٣}$ ، $\frac{٣}{٥}$	Ⓓ
١١	زكاة المال الواجبة على مبلغ قدره ٤٠٠٠ دينار حال عليه الحول هي					
Ⓐ	١٠ دينار	Ⓑ	١٠٠ دينار	Ⓒ	٤٠ دينار	Ⓓ
١٢	إذا كان لدى مطعم ٣ أنواع من الخبز و <b>نوعان</b> من الجبن فإن عدد الطرق الممكنة لاختيار شطيرة هو					
Ⓐ	٢	Ⓑ	٣	Ⓒ	٦	Ⓓ

### إجابة السؤال الخامس (الموضوعي) أولاً وثانياً :

#### أولاً : بنود الصحة والخطأ.

١	<input checked="" type="radio"/>	Ⓑ
٢	<input type="radio"/>	Ⓑ
٣	<input checked="" type="radio"/>	Ⓑ
٤	<input checked="" type="radio"/>	Ⓑ

#### ثانياً : بنود الاختيار من متعدد

٥	<input type="radio"/>	<input checked="" type="radio"/>	<input type="radio"/>	<input type="radio"/>
٦	<input type="radio"/>	<input checked="" type="radio"/>	<input type="radio"/>	<input type="radio"/>
٧	<input type="radio"/>	<input checked="" type="radio"/>	<input type="radio"/>	<input type="radio"/>
٨	<input checked="" type="radio"/>	<input type="radio"/>	<input type="radio"/>	<input type="radio"/>
٩	<input type="radio"/>	<input checked="" type="radio"/>	<input type="radio"/>	<input type="radio"/>
١٠	<input type="radio"/>	<input type="radio"/>	<input checked="" type="radio"/>	<input type="radio"/>
١١	<input type="radio"/>	<input type="radio"/>	<input checked="" type="radio"/>	<input type="radio"/>
١٢	<input type="radio"/>	<input checked="" type="radio"/>	<input type="radio"/>	<input type="radio"/>

(أطيب التمنيات بالنجاح والتوفيق)



المادة : رياضيات  
الزمن : ساعتان  
عدد الصفحات : ( ٦ )

امتحان كامل المنهج ( الفترة الثانية )  
للفصل السادس  
للعام الدراسي ٢٠٢١ / ٢٠٢٢ م

وزارة التربية  
الإدارة العامة لمنطقة الجهاد التعليمية  
التوجيه الفني للرياضيات



يجب مراعاة كافة الحلول الصحيحة المختلفة

لنؤخذ الجواب

السؤال الأول :-

نصف درجة + نصف درجة + نصف درجة

نصف درجة

نصف درجة + نصف درجة

نصف درجة

نصف درجة

٤

$$\begin{array}{r} 0.14 \\ 32 \overline{) 448} \\ \underline{32} \phantom{0} \\ 128 \\ \underline{128} \\ 000 \end{array}$$

( أ ) أوجد الناتج :

( ب ) أوجد ناتج ما يلي :

درجة

$$(1) \quad 28^- = 13^- + 15^-$$

درجة

$$(2) \quad 2^- = 5^- + 3^+$$

درجة

$$(3) \quad 0 = 10^- + 10^+$$

درجة + درجة

$$(4) \quad 42^+ = 21^+ + 21^+ = 21^- - 21^+ = 42^+$$

٥

( ح ) إذا كان سعر ٣ ألعاب إلكترونية ١٥ ديناراً . فكم سعر اللعبة الواحدة ؟

درجة

$$\frac{\text{س}}{\text{اللعبة الواحدة}} = \frac{15 \text{ دينار}}{3 \text{ ألعاب}}$$

درجة

$$1 \times 15 = 3 \times \text{س}$$

نصف درجة

$$3 \div 15 = \text{س}$$

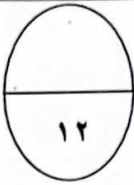
نصف درجة

$$0 = \text{س}$$

سعر اللعبة الواحدة ٥ ديناراً

٣

## السؤال الثاني :



(أ) إنترمز بترتيب العمليات ثم أوجد الناتج :

$$= ٥ + (٤ \times ٢) \div ٢٤$$

$$\text{الحل : } ٥ + ٨ \div ٢٤ =$$

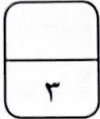
$$٥ + ٣ =$$

$$٨ =$$

درجة

درجة

درجة



(ب) أوجد قيمة الخصم وسعر البيع إذا كان السعر الأصلي ١٨ دينار ، ونسبة الخصم ٥٠ %

موقع  
المناهج الكويتية  
almanahj.com/kw

قيمة الخصم = السعر الأصلي  $\times$  نسبة الخصم

$$\%٥٠ \times ١٨ =$$

$$٠,٥٠ \times ١٨ =$$

$$٩ \text{ دينار} =$$

سعر البيع = السعر الأصلي - قيمة الخصم

$$٩ - ١٨ =$$

$$٩ \text{ دينار} =$$

نصف درجة

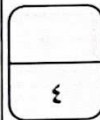
نصف درجة

درجة

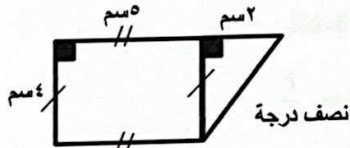
نصف درجة

نصف درجة

درجة



(ج) أوجد مساحة الشكل المقابل :



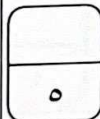
نصف درجة

نصف درجة + نصف درجة

نصف درجة

نصف درجة + نصف درجة

درجة + درجة



الحل : مساحة المنطقة المثلثة =  $\frac{1}{2} \times ق \times ع$

$$٢ \text{ سم} \times ٤ = ٤ \times ٢ \times \frac{1}{2} =$$

مساحة المنطقة المستطيلة =  $ل \times ض$

$$٢٠ \text{ سم} = ٥ \times ٤ =$$

المساحة الكلية للشكل = مساحة المنطقة المثلثة + مساحة المنطقة المستطيلة

$$٢٤ \text{ سم} = ٢٠ + ٤ =$$

### السؤال الثالث:

(أ) أوجد الناتج في أبسط صورة:

$$= 2 \frac{1}{2} \div 8 \frac{1}{3}$$

$$\frac{5}{2} \div \frac{25}{3} \quad \text{الحل:}$$

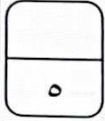
$$\frac{2 \times 25}{5 \times 3} = \frac{2}{5} \times \frac{25}{3}$$

$$3 \frac{1}{3} = \frac{10}{3} =$$

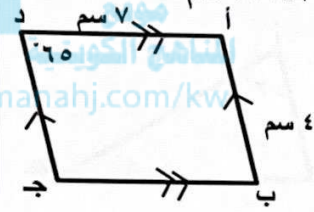


درجة + درجة

نصف درجة + نصف درجة + درجة (اختصار)



نصف درجة + نصف درجة



(ب) في الشكل المقابل: أ ب ج د متوازي أضلاع، قياس (أ د ج) = 65°، طول أ د = 7 سم

طول أ ب = 4 سم . أوجد ما يلي:

- طول ب ج = طول أ د = 7 سم

السبب: كل ضلعين متقابلين متطابقين في متوازي الأضلاع

- قياس (ب) = قياس (أ د ج) = 65°

السبب: كل زاويتين متقابلتين متطابقتين في متوازي الأضلاع

درجة

نصف درجة

درجة

نصف درجة



(ج)

1- اكتب في أبسط صورة:

$$3 = \frac{3}{1} = \frac{4 \div 12}{4 \div 4} = \frac{12}{4}$$

2- اكتب الكسر المكافئ:

$$\frac{9}{15} = \frac{3 \times 3}{3 \times 5} = \frac{3}{5}$$

(درجة لكل سؤال)

3- رتب الكسور التالية ترتيباً تصاعدياً:

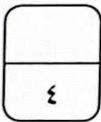
$$\frac{1}{10}, \frac{1}{2}, \frac{2}{5}, \frac{3}{10}$$

الحل: (م 0 م 0 أ للمقامات 10)

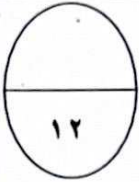
$$\frac{1}{10}, \frac{5}{10}, \frac{4}{10}, \frac{3}{10}$$

(نصف درجة لكل كسر)

الترتيب هو:  $\frac{1}{10}, \frac{2}{5}, \frac{3}{10}, \frac{1}{2}$



**السؤال الرابع :**



(أ) من البيانات التالية أوجد ما يلي :

١ ، ٣ ، ٧ ، ١٥ ، ٩

الحل : الترتيب ١ ، ٣ ، ٧ ، ٩ ، ١٥

(١) الوسيط = ٧

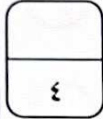
درجة ونصف

درجة

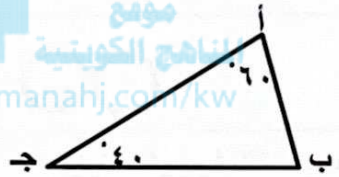
درجة ونصف

(٢) المدى = أكبر قيمة - أصغر قيمة = ١٥ - ١ = ١٤

(٣) المتوسط الحسابي =  $\frac{\text{مجموع القيم}}{\text{عددها}} = \frac{١٥+٣+٩+٧+١}{٥} = \frac{٣٥}{٥} = ٧$



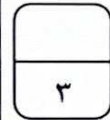
(ب) في الشكل المقابل : استخدم البيانات على الرسم ، ثم أوجد ما يلي :



قياس (ب) =  $(\hat{ب}) = 180 - (40 + 60) = 180 - 100 = 80$  درجة

السبب : مجموع قياسات زوايا المثلث يساوي ١٨٠ درجة

نوع المثلث من حيث الزوايا هو : مثلث حاد الزوايا



(ج) أكمل ما يلي لتحصل على عبارة صحيحة :

(١) رمز العدد " ٤ مليارات و ٣٠٥ ملايين و ٢٤١ ألفاً " هو ٤ ٣٠٥ ٢٤١ ٠٠٠ درجة

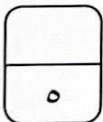
(٢) القيمة المكانية للرقم ٦ في العدد ٠,٦٢ هي ٠,٦ درجة

(٣) رمز العدد ٣٦ صحيح و ٤ أجزاء من مئة بالشكل النظامي هو ٣٦,٠٤ درجة

(٤) الترتيب التنازلي للأعداد " ٠,٧٥ ، ٠,٠٧٥ ، ٧,٠٥ ، ٠,٧٠٥ " نصف درجة

لكل كسر

هو : ٧,٠٥ ، ٠,٧٥ ، ٠,٧٠٥ ، ٠,٠٧٥



**السؤال الخامس:**



(1×4)

**أولاً:** في البنود ( ١ - ٤ ) توجد عبارات، ظلل في ورقة الإجابة:  
 إذا كانت العبارة صحيحة ، (ب) إذا كانت العبارة خاطئة :

(ب) (أ)

١  $4 = 3 \frac{2}{7} + \frac{5}{7}$

(ب) (أ)

٢ إذا كان ك  $3 \div 10 = 13 = ك$  فإن ك = ١٣

(ب) (أ)

٣ عند رمي مكعب مرقم من (١-٦) فإن ظهور العدد ٥ حدث ممكن

(ب) (أ)

٤ العدد ١٩ عدد أولي

**ثانياً:** في البنود ( ٥ - ١٢ ) لكل بند يوجد أربع اختيارات، واحدة فقط منها صحيحة، ظلل في ورقة الإجابة  
 الدائرة الدالة على الاختيار الصحيح : (1×8)

$\frac{4}{5}$  (د)

$\frac{4}{25}$  (ج)

$\frac{1}{5}$  (ب)

$\frac{1}{25}$  (أ)

٥  $= \frac{1}{20} \times \frac{4}{5}$

٠ ، ١٢- ، ٥+ (د)

٥+ ، ٠ ، ١٢- (ج)

١٢- ، ٠ ، ٥+ (ب)

٥+ ، ١٢- ، ٠ (أ)

٦ الأعداد المرتبة تنازلياً فيما يلي هي

$\frac{1}{4}$  (د)

$\frac{1}{40}$  (ج)

$\frac{5}{200}$  (ب)

$\frac{25}{100}$  (أ)

٧ ٢,٥ % في صورة كسر اعتيادي في أبسط صورة هو

٨ إذا كان لدى عمر ٤ أنواع من الخبز ونوعان من الجبن ، فإن عدد الطرق الممكنة لاختيار شطيرة هو

١٦ (د)

١٢ (ج)

٨ (ب)

٤ (أ)

٩	$= ٠,٠٠٥ \times ٠,٠٤$	أ ( ) ٠,٢	ب ( ) ٠,٠٢	ج ( ) ٠,٠٠٢	د ( ) ٠,٠٠٠٢
١٠	في الشكل المقابل : قيمة ن تساوي	أ ( ) ٣٥	ب ( ) ٥٥	ج ( ) ٩٠	د ( ) ١٣٥
١١	المضاعف المشترك الأصغر (م.م.أ) للعددين ٦ ، ٤ هو	أ ( ) ٤	ب ( ) ٦	ج ( ) ١٢	د ( ) ٢٤
١٢	العدد ٦٣٥ يقبل القسمة على	أ ( ) ٢	ب ( ) ٣	ج ( ) ٥	د ( ) ١٠

**إجابة السؤال الخامس (البنود الموضوعية) أولا و ثانيا :-**

١	أ ( )	ب ( )	ج ( )	د ( )
٢	أ ( )	ب ( )	ج ( )	د ( )
٣	أ ( )	ب ( )	ج ( )	د ( )
٤	أ ( )	ب ( )	ج ( )	د ( )
٥	أ ( )	ب ( )	ج ( )	د ( )
٦	أ ( )	ب ( )	ج ( )	د ( )
٧	أ ( )	ب ( )	ج ( )	د ( )
٨	أ ( )	ب ( )	ج ( )	د ( )
٩	أ ( )	ب ( )	ج ( )	د ( )
١٠	أ ( )	ب ( )	ج ( )	د ( )
١١	أ ( )	ب ( )	ج ( )	د ( )
١٢	أ ( )	ب ( )	ج ( )	د ( )

(أطيب التمنيات بالنجاح و التوفيق)