

تم تحميل هذا الملف من موقع المناهج الكويتية



منطقة مبارك الكبير التعليمية

الملف نموذج إجابة منطقة مبارك الكبير

موقع المناهج ← المناهج الكويتية ← الصف السادس ← علوم ← الفصل الأول

روابط مواقع التواصل الاجتماعي بحسب الصف السادس



روابط مواد الصف السادس على تلغرام

[الرياضيات](#)

[اللغة الانجليزية](#)

[اللغة العربية](#)

[التربية الاسلامية](#)

المزيد من الملفات بحسب الصف السادس والمادة علوم في الفصل الأول

بنك أسئلة الوحدة الأولى (طريق النجاح)	1
تلخيص مهم للكورس اول في مادة العلوم	2
نموذج اجابة بنك أسئلة وحدة الارض والفضاء في مادة العلوم	3
اجابة بنك اسئلة الروافع في مادة العلوم	4
اجابة بنك اسئلة وحدة التكيف مع الكائنات الحية	5



وزارة التربية

الإدارة العامة لمنطقة مبارك الكبير التعليمية

موقع
المناهج الكويتية
almanahj.com/kw

نموذج إجابة

اختبار الفترة الدراسية الأولى

2023/2022

السادس

الصف

العلوم

المادة



نموذج الإجابة

وزارة التربية
الإدارة العامة لمنطقة مبارك الكبير التعليمية
التوجيه الفني للعلماء

امتحان نهاية الفصل الدراسي الأول في مادة العلوم للصف السادس

١٦

السؤال الأول: اختر الإجابة الصحيحة علمياً لكل من العبارات التالية وضع علامة (✓) في المربع المقابل لها: (٨ X ٢)

موقع
المناهج الكويتية
almanahj.com/kw

- الفراشة التي لها القدرة على التخفي في بيئة المصانع هي .. ص ٢١

- سلوك يختص بفرد من أفراد النوع الواحد ينشأ نتيجة الخبرة التي يكتسبها من بيئته.. ص ٥٨
 السلوك الفطري السلوك المكتسب السلوك الموروث التكيف البيئي
- الأداة التي تعتبر رافعة من النوع الأول هي .. ص ٨١

- الأداة التي يكون فيها تأثير القوة بين المقاومة ونقطة الارتكاز هي ... ص ٨١

- الأداة التالية تكون فيها ل١ لا يساوي ل٢ هي .. ص ١٠٤

- يشعر خالد بالحرارة على يديه في الصورة بسبب انتقال الحرارة بـ.. ص ١٢٧

 التوصيل الحمل والتوصيل الإشعاع والتوصيل الإشعاع والحمل
- يمتلك البندول أكبر طاقة حركة عند النقطة.. ص ١٤٤

 أ ب ج أ.ج
- يسمى القمر عندما يكون نصفه المواجه للأرض مضاء .. ص ١٧١
 تربيع أول هلال محاق بدر

٨

السؤال الثاني: اكتب بين القوسين كلمة (صحيحة) أمام العبارة الصحيحة و كلمة

(خطأ) أمام العبارة غير الصحيحة علميا في كل مما يلي : (٨ X ١)

١. الجراب في الكنغر أحد أشكال التكيف السلوكي. (خطأ) ص ٥٣

٢. زقزقة العصافير سلوك فطري. (صحيحة) ص ٥٧

٣. الأرجوحة ستتزن إذا جلس أحمد كما في الشكل. أحمد (خطأ) ص ٨٦



موقع
المنهج الكويتية
almanahj.com/kw

٤. قراءة الميزان الزنبركي في الرسم المقابل هي (10N) (صحيحة)

ص ١٠٣



٥. تنتقل حرارة الشمس لكوكب الأرض بتيارات الحمل. (خطأ) ص ١٢٧

٦. الصورة لجهاز يحول الطاقة الكهربائية إلى طاقة حركية. (صحيحة)

ص ١٤٨

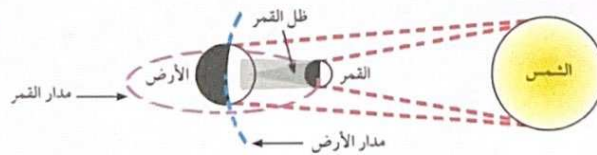


٧. الطاقة لا تفنى ولا تستحدث من عدم. (صحيحة)

ص ١٦٠





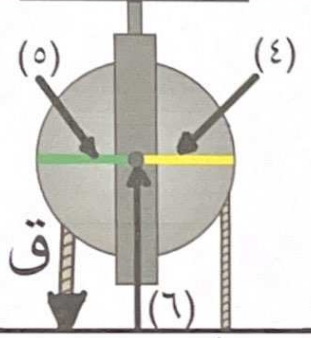
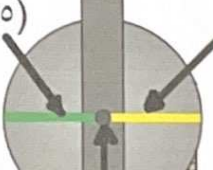




٨. الصورة تمثل ظاهرة كسوف الشمس (صحيحة)

صحيحة ١٧٥



السؤال الثالث: في الجدول التالي اختر العبارة أو الشكل من المجموعة (ب) واكتب

رقمها أمام ما يناسبها من عبارات المجموعة (أ): (٦ X ١)

المجموعة (ب)	المجموعة (أ)
 <p>١. </p> <p>٢. </p> <p>٣. </p>	<p>(_ ٣ _) المنقار الذي يساعد الطائر على التقاط وتقسير البذور.</p> <p>(_ ١ _) المنقار الذي يحوي صفائح مثقبة لتصفية المواد التي يحتويها الماء ص ٣٢</p>
 <p>(٤) </p> <p>(٥) </p> <p>ق </p>	<p>(_ ٦ _) رقم يشير إلى نقطة الارتكاز.</p> <p>(_ ٤ _) رقم يشير إلى ذراع المقاومة . ص ١٠٤</p>
<p>٧. ضوئية</p> <p>٨. كهربائية</p> <p>٩. حرارية</p>	<p>(_ ٧ _) الجهاز () يحول الطاقة الكهربائية إلى طاقة..</p> <p>(_ ٩ _) الجهاز () يحول الطاقة الكهربائية إلى طاقة..</p> <p>ص ١٥٢</p>



السؤال الرابع (أ) : علل لما يلي تعليلاً علمياً دقيقاً : (٤ X ١)

١. يخزن النمل الغذاء خلال فصل الصيف.

ليتغذى عليه أثناء فصل الشتاء (السبات الشتوي) ص ٤٧

٢. تعبر الصورة عن أحد أمثلة الروافع من النوع الثالث.

لأنه القوة تقع بين نقطة الارتكاز و المقاومة. ص ٩٣

٣. البكرة الثابتة رافعة من النوع الأول.

نقطة الارتكاز تقع بين ق و مق ص ١٠١ (ملاحظة: ل=١=٢ اجابة غير صحيحة)

٤. نوافذ بعض المباني عبارة عن زجاج مزدوج بينهما هواء.

موقع
الانماج الكويتية
almanahj.com/kw

للتخفيف من تسرب الحرارة/ لأن الهواء رديئ التوصيل للحرارة. ص ٣٤

أو لتخفيف الضوضاء

السؤال الرابع (ب) : صنف التكيفات التالية حسب الجدول التالي (٤ X ١)

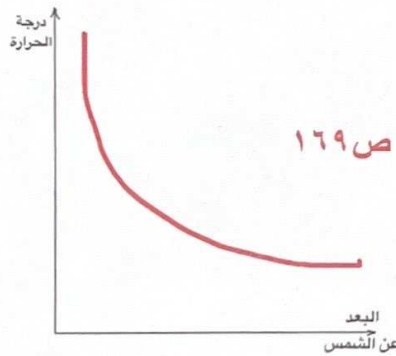
(حركات دب السيرك - بناء المأوى - منقار النسر - تعلم النطق)

تكيف بنيوي	سلوك مكتسب	سلوك فطري
<u>منقار النسر ص ٣٢</u>	<u>حركات الدب في السيرك</u> <u>تعلم النطق</u>	<u>بناء المأوى</u>

السؤال الرابع (ج) : ارسم علاقة بيانية و أجب عن السؤال (٢ X ١)

١. ارسم العلاقة بين درجة حرارة الكوكب و البعد عن الشمس.

٢. ثالث كوكب من حيث ترتيب البعد عن الشمس هو كوكب.. الأرض ص ١٦٩



١٠



السؤال الخامس (أ) أي مما يلي لا ينتمي للمجموعة مع ذكر السبب. (٢ X ١)

١. زرع الأشجار - المحميات الطبيعية - منع الصيد الجائر - حرق الغابات

لا ينتمي للمجموعة : حرق الغابات لأنه : ليس من طرق المحافظة على البيئة ص ٣٨

٢. مقاومة - قوة - نقطة الارتكاز - نيوتن

لا ينتمي للمجموعة : نيوتن لأنه : ليس من عناصر الرافعة ص ٨١

السؤال الخامس (ب) : التفكير الناقد (٤ X ١)

أ. هل يستطيع علي رفع السيارة ؟ قم باجراء العمليات الحسابية لمعرفة ذلك



400N

3000N

2m = 3000N

القانون : $ق \times ١ = مق \times ٢$

الحل : $١ \times ٣٠٠٠ > ٥ \times ٤٠٠$


$٣٠٠٠ > ٢٠٠٠$

ب. ما رأيك؟ اختر إجابتك:

نعم. يستطيع علي رفع السيارة.

لا . لا يستطيع علي رفع السيارة. ①

السؤال الخامس (ج) : ادرس (الشكل - الرسم) (٤ X ١)



١) أ. تكيف يمنع دخول حبات الرمل إلى عيني الجمل مشار له بالرقم (١) ص ٢٤

ب. تركيب يساعد الجمل على السير فوق الرمال الأكثر نعومة مشار له بالرقم (٣)

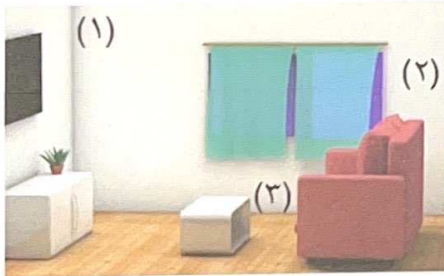
٢) اشترى خالد مدفأة لغرفة المعيشة.

أين تقترح عليه وضعها ؟ (انظر الصورة)

افضل مكان لوضع المدفأة هو عند الرقم (٣)

السبب : الهواء الساخن خفيف فيرتفع للأعلى

لأن الهواء البارد أثقل من الهواء الساخن (ص ١٣٣)



١٠

انتهت الأسئلة بحمد الله ☺