

تم التحميل من شبكة ياكويت التعليمية



Telegram:
[ykuwait_net_home](https://t.me/ykuwait_net_home)





وزارة التربية
الإدارة العامة لمنطقة الفروانية التعليمية
التوجيه الفني للاجتماعيات

نموذج إجابة
امتحان نهاية الفترة الدراسة الأولى
للمنتصف الثامن
للعام الدراسي : ٢٠٢٣/٢٠٢٤ م

المقرر : دولة الكويت والعالم الإسلامي
الزمن : ساعة وخمس وأربعون دقيقة
عدد الصفحات : (٦)

تم التحميل من شبكة ياكويت التعليمية



Telegram:
ykuwait_net_home

أجب عن جميع الأسئلة التالية :

السؤال الأول:- موضوعي يتكون من (أ - ب - ج - د - هـ - و)

(أ) - أكمل العبارات التالية بما يناسبها مما درست : $٦ = (٦ \times ١)$

١- قامت الدولة الإسلامية في المدينة المنورة في القرن الثامن م ص ١٧

٢- العام الذي توفي فيه الرسول صلى الله عليه وسلم ١١ هـ ص ٢٥

٣- المدينة التي يوجد بها المسجد الأموي تسمى دمشق ص ٣٣

٤- الدولة الإسلامية الأولى في إنتاج معدن الذهب تسمى أوزباكستان ص ٧٠

٥- أصغر دول العالم الإسلامي مساحةً جمهورية تسمى المالديف ص ٥٢

٦- المدينة التي يقع فيها قصر الحمراء تسمى غرناطة ص ٣٥

(ب) - ضع خطأ تحت الخيار الصحيح من بين الخيارات التي تلي كل عبارة : $٦ = (٦ \times ١)$

١- اليوم الذي يتم فيه الاحتفال باللغة العربية من كل عام : ص ٢١

أ- ١٥ ديسمبر ب- ١٦ ديسمبر ج- ١٧ ديسمبر د- ١٨ ديسمبر

٢- مدينة في خراسان تم إنشاء ديوان الماء فيها : ص ٢٧

أ- مرو ب- بغداد ج- قرطبة د- الفسطاط

٣- الخليفة الذي قام ببناء قصر الرصافة : ص ٣٥

أ- معاوية بن أبي سفيان ب- الوليد بن عبد الملك ج- هشام بن عبد الملك د- يزيد بن الوليد

٤- تبلغ نسبة مساحة العالم الإسلامي من مساحة العالم حوالي : ص ٥١

أ- ٢٠,٢% ب- ٢٢,٢% ج- ٢٤,٢% د- ٢٥,٢%

٥- تقع جبال الألب الدينارية في قارة : ص ٥٤

أ- آسيا ب- أفريقيا ج- أوروبا د- أمريكا الجنوبية

٦- أولى دول العالم الإسلامي في إنتاج معدن اليورانيوم حسب أحصاء ٢٠١٤م : ص ٧٠

أ- كازاخستان ب- النيجر ج- باكستان د- السعودية

- تابع السؤال الأول الموضوعي:

(ج) - اختر من المجموعة (أ) ما يناسبها من المجموعة (ب) بوضع الرقم المناسب: (١×٥)=٥

م	المجموعة (أ)	الرقم المناسب	المجموعة (ب)
١	كتاب الحاوي في الطب	٢	الجاحظ ص ٤٠
٢	كتاب الحيوان	٣	الخوارزمي ص ٣٩
٣	كتاب الجبر والمقابلة	٥	الشريف الإدريسي ص ٤٢
٤	كتاب في الهندسة	١	أبو بكر الرازي ص ٤٠
٥	نزهة المشتاق في اختراق الأفاق	٤	الكندي ص ٤٢
			الحسن ابن الهيثم


(د) - صنف العلوم التالية حسب الجدول الذي يليها: (١×٤)=٤

- الفلك - التفسير - فقه - الفلسفة

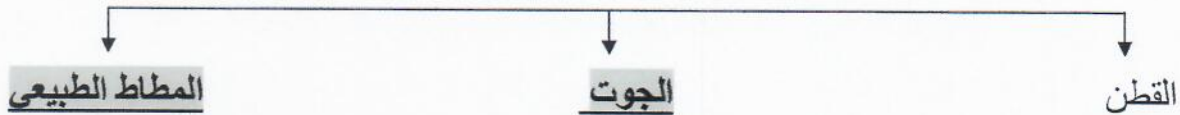
العلوم العقلية ص ١٧	العلوم النقلية ص ١٧
- الفلك - الفلسفة	- فقه - التفسير

(هـ) - أكمل المخططات السهمية التالية: ((١×٤)=٤

١. أهم المراكز العلمية في الحضارة الإسلامية ص ٣٨

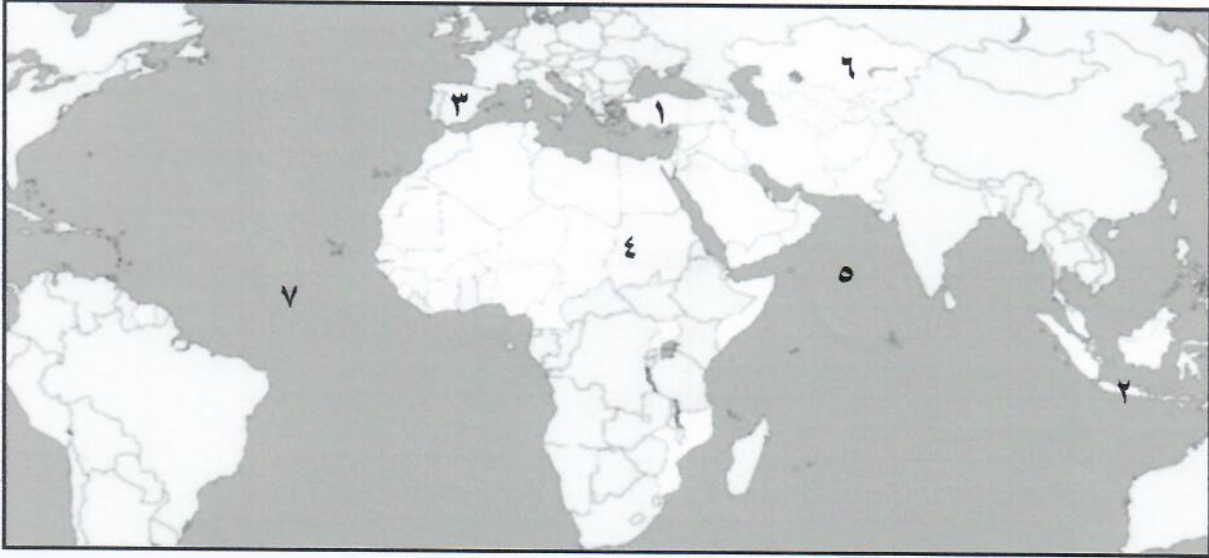


٢. الغلات النقدية ص ٧٣



- تابع السؤال الأول موضوعي:

(و) - لاحظ خريطة العالم الإسلامي التي أمامك ثم أجب عن الأسئلة التي تليها : (١×٥) = ٥



- المحيط الهندي يمثله على الخريطة الرقم ٥ ص ٥٦
- جبل مرة يمثله على الخريطة الرقم ٤ ص ٥٤
- اندونيسيا يمثها على الخريطة الرقم ٢ ص ٧٤
- بلاد الاندلس يمثها على الخريطة الرقم ٣ ص ٤١
- هضبة الأناضول يمثها على الخريطة الرقم ١ ص ٥٦


تم التحميل من شبكة ياكويت التعليمية



Telegram:
[ykuwait_net_home](https://t.me/ykuwait_net_home)

السؤال الثاني :- مقالتي ويتكون من (أ - ب)

(أ) - لاحظ الصورة المقابلة ثم أجب على الأسئلة التالية : (١×٤) = ٤



١- ما أسم المسجد الذي تمثله الصورة المقابلة ؟ ص ٣١

- **المسجد الكبير**

٢- في أي عام تم افتتاح المسجد ؟

- **١٩٨٦م**

٣- في عهد أي شيخ تم افتتاح المسجد؟

- **الشيخ جابر الأحمد الصباح**

٤- ما نوع الطراز المعماري الذي صمم عليه المسجد؟

- **الطراز الأندلسي الإسلامي**

(ب) - علل لما يلي (٢×٣) = ٦ : (يكتفى بنقطتين لكل سؤال)

١- **لقيت التجارة تشجيعاً كبيراً في الحضارة الإسلامية. ص ٢٨**

- لدورها الكبير في التبادل التجاري مع المناطق المجاورة مما ساهم في نشر الدين الإسلامي

- يمتلك موقع العالم الإسلامي الاستراتيجي العديد من الخطوط التجارية البرية والبحرية مما انعكس على

صادراته ووارداته.

٢- **استفادت الحضارة الأوربية من شبكة موارد المياة الجوفية التي أقامها المسلمون. ص ٤٣**

- برع المسلمون في شق القنوات.

- مد المجاري الجوفية تحت الأرض بطريقة هندسية محكمة في غاية الدهشة والإتقان.

٣- **قلة عدد السكان في المناطق الجبلية في دول العالم الإسلامي. ص ٥٥**

تم التحميل من شبكة ياكويت التعليمية

-شدة انحدارها

- قلة وجود الأوكسجين

- انخفاض الضغط الجوي

- صعوبة التنقل



Telegram:
ykuwait_net_home

السؤال الثالث :- مقالتي يتكون من (أ - ب)

(أ) - فرق بين كل مما يلي : (١×٦)=٦

الجزية ص ٢٩	الخراج ص ٢٨
- مبلغ مالي يدفعه الرجال الغير المسلمين من أهل الذمة نظير حماية الدولة لهم.	- ضريبة الأرض الزراعية التي تخرج مبلغا ماليا معيناً من ناتج المحصول الزراعي.
التل ص ٥٣	الجبل ص ٥٣
- يشبه الجبل ولكن ارتفاعه أقل من ١٠٠٠ متر.	- هو كل قمة لا يقل ارتفاعها عن ١٠٠٠ متر تقريباً.
المناخ ص ٦٤	الطقس ص ٦٤
- هو حالة الجو خلال فترة زمنية طويلة من حيث عناصره وهي درجة الحرارة، الرطوبة، الأمطار، الضغط الجوي.	- هو حالة الجو في مكان لمدة قصيرة تتراوح بين يوم أو عدة أيام من حيث درجة الحرارة والرطوبة والأمطار والضغط الجوي.

(ب) - أجب عن الأسئلة الآتية : (يكتفي بنقطتين لكل سؤال)

١- عدد : أسس الحضارة الإسلامية. ص ٢٠ (درجتان)

- الحضارات الأخرى.

- الدين الإسلامي

- اللغة العربية .

٢- اذكر: العوامل التي أدت الى ازدهار العلم وظهور العلماء. ص ٣٧ (درجتان)

- تشجيع العلماء ورعاية وتمويل القيادات السياسية لهم من حلفاء، وسلاطين، وملوك، ورؤساء .

- التنافس العلمي بين الدول الإسلامية.

- حركة التعريب (الترجمة) للكتب القديمة اليونانية، والهندية، والفارسية، وغيرها .

- الرخاء الاقتصادي .

السؤال الرابع :- مقالتي يتكون من (أ - ب)

(أ) - عرف المفاهيم والمصطلحات الآتية :

١- الحضارة: هي كل ما يطرأ على المجتمع من تقدم وتطور ورقي سواء في الجانب المادي أو الجانب

الروحي. ص ١٨ (درجة واحدة)

٢- احتياطي النفط: هو كمية النفط المخزونة في باطن الأرض ولم تستخرج بعد. ص ٦٨ (درجة واحدة)

(ب) - عدد لكل مما يلي : (يكتفي بنقطتين)

١- أهم مصادر إنتاج الأسماك. ص ٧٤ (درجتان)

- مصادر طبيعية (المحيطات والبحار - المياه العذبة).

- مصادر غير طبيعية (الاستزراع السمكي).

٢- أهم المناصب السياسية والإدارية التي ظهرت في الدولة الإسلامية. ٢٥ (درجتان)

- الخليفة . - المحتسب - القاضي

- الوالي - الوزير - الحاجب

٣- العوامل التي لعبت دور في تنوع المناخ في دول العالم الإسلامي. ص ٦٣ (درجتان)

- امتداد دول العالم الإسلامي على مساحة شاسعة . - الموقع بالنسبة لدوائر العرض.

- الإطلالة على عدة مسطحات مائية في معظم أجزائه.

- التنوع في التضاريس من جبال، وهضاب، وسهول، ووديان .

٤- خصائص الحضارة الإسلامية . ص ٢٢، ٢٣ (درجتان)

- حضارة تسامح . - حضارة إنسانية . - حضارة شمولية . - حضارة عالمية . - حضارة إيمان وعمل

تمنياتنا لكم بالتوفيق والنجاح

ديانة نبيهة بحسنة أ
تليدلمتبه الكاراهة ريفها فجهنا

تم التحميل من شبكة ياكويت التعليمية



Telegram:
ykuwait_net_home