

تم تحميل هذا الملف من موقع المناهج الكويتية



منطقة مبارك الكبير التعليمية

الملف نموذج إجابة منطقة مبارك الكبير

موقع المناهج ← المناهج الكويتية ← الصف السابع ← اجتماعيات ← الفصل الأول

روابط مواقع التواصل الاجتماعي بحسب الصف السابع



روابط مواد الصف السابع على تلغرام

[الرياضيات](#)

[اللغة الانجليزية](#)

[اللغة العربية](#)

[التربية الاسلامية](#)

المزيد من الملفات بحسب الصف السابع والمادة اجتماعيات في الفصل الأول

كتاب الطالب في مادة الاجتماعيات للعام الدراسي 2018	1
حل الوحدة الاولى في مادة الاجتماعيات	2
تلخيص رائع في مادة الاجتماعيات	3
حل الوحدة الثانية في مادة الاجتماعيات	4
تلخيص ممتاز في مادة الاجتماعيات	5



وزارة التربية
الإدارة العامة لمنطقة مبارك الكبير التعليمية



المنهج الكويتية
almanah.com

نموذج إجابة

اختبار الفترة الدراسية الأولى

2023/2022

السابع	الصف
الاجتماعيات	المادة



نموذج إجابة

العام الدراسي : ٢٠٢٢/٢٠٢٣ م
الزمن : ساعة و ٤٥ دقيقة
عدد الأوراق : (٦)

امتحان نهاية الفترة الدراسية الأولى
مقرر / الدراسات الاجتماعية الكويت والوطن العربي
للصف السابع المتوسط

وزارة التربية
الإدارة العامة لمنطقة مبارك الكبير التعليمية
التوجيه الفني للاجتماعيات

السؤال الأول (موضوعي) : يتكون من (أ - ب - ج - د - هـ - و) : (لكل إجابة درجة ١ × ٣٠ = ٣٠ درجة)

(أ) ضع خطأ تحت الخيار الصحيح من بين الخيارات التي تلي كل عبارة مما يلي :

١- تبلغ مساحة الوطن العربي من جملة مساحة العالم حوالي : ص ٢٣
أ- ١٠٪ ب- ٢٠٪ ج- ٣٠٪ د- ٤٠٪

٢- الأهرامات مظهر من مظاهر حضارة : ص ٧٧

أ - بلاد اليمن ب- نلمون ج- بلاد الرافدين

٣- الصورة التي أمامك تمثل الكتابة : ص ٨٣

أ - الهيروغليفية ب - الأبجدية

ج - الفينيقية د - المسمارية

ا	ب	ج	د
هـ	و	ز	ح
ط	ي	ك	ل
م	ن	س	ع
ف	ق	ص	غ
ط	ق	ص	غ

٤- العام الذي اعتمدت فيه دولة الكويت على تحلية مياه البحر بشكل كامل : ص ٦١

أ - ١٩٥١ م ب - ١٩٥٢ م ج - ١٩٥٣ م د - ١٩٥٤ م

٥- الدولة التي تقع فيها جبال الحجاز : ص ٣٨

أ - المغرب ب - اليمن ج - السعودية د - موريتانيا

٦- من الزواحف السائدة في المنطقة الصحراوية بالوطن العربي : ص ٥٥

أ - الحباري ب - الإبل ج - الجراد د - الأفاعي

(ب) صنف الكلمات التالية في مكانها الصحيح بالجدول التالي :

(الإنجيل - القرآن الكريم - عيسى بن مريم عليه السلام - محمد صلى الله عليه وسلم) ص ٩٠

الديانة	الكتاب	النبي
الإسلام	القرآن الكريم	محمد صلى الله عليه وسلم
المسيحية	الإنجيل	عيسى بن مريم عليه السلام

تابع / السؤال الأول (موضوعي) :

(ج) أكمل العبارات التالية بما يناسبها :

١- وزن الهواء فوق أي مكان يسمىالضغط الجوي..... ص ٤٤

٢- المضيق الذي يصل بين الخليج العربي و خليج عمان اسمههرمز..... ص ٢٨

٣- الكتاب الذي انزل على سيدنا موسى عليه السلام يسمى التوراة ص ٩٠

٤- يستخدم لحاء البلوط و السنديان في صناعة تسمىالفلين..... ص ٥٢

٥- المسطح المائي الذي يحد الوطن العربي من جهة الغرب اسمه المحيط الأطلسي ص ٣٣

٦- الدولة التي توجد بها محطة الشويخ لتحلية مياه البحر تسمى الكويت ص ٦١

(د) أكمل المخططات السهمية التالية :



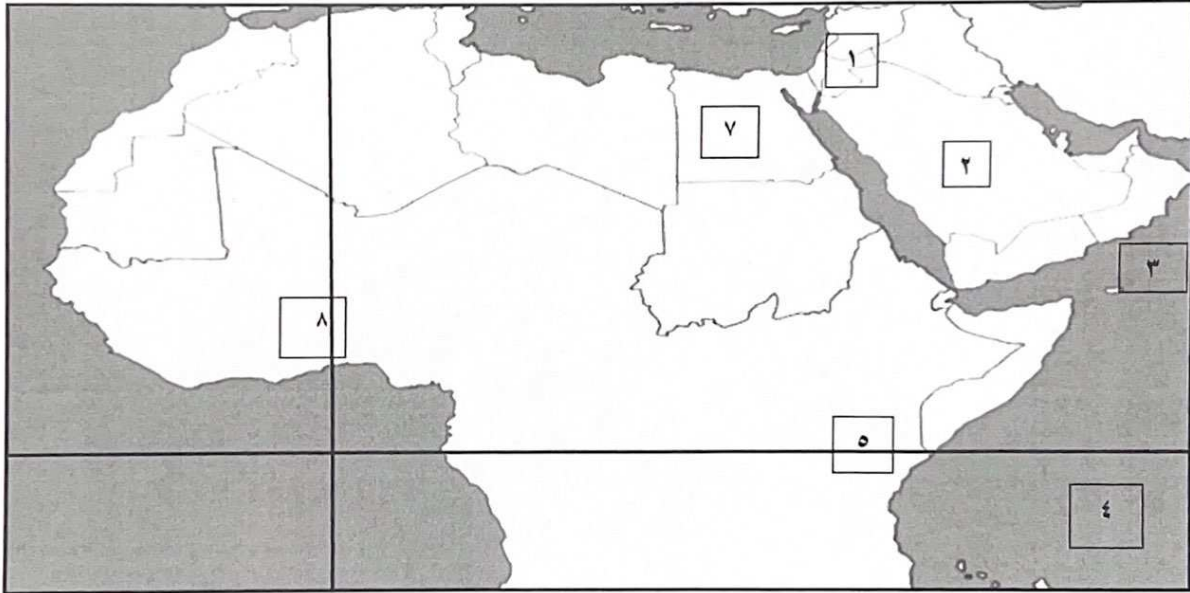
تابع / السؤال الأول (موضوعي) :

(هـ) اكتب المفاهيم أو المصطلحات الدالة على العبارات التالية :

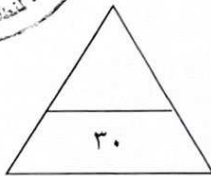
م	المفهوم أو المصطلح	العبرة
١	الموقع الاستراتيجي ص ٢٨	أي موقع ذي مكانة مهمة بين دول العالم .
٢	بلاد الرافدين ص ٧٩	بلاد ما بين النهرين ، ويطلق عليها حالياً اسم العراق .
٣	البحيرة ص ٦٠	مسطح مائي تحيط به اليابسة من جميع الاتجاهات .
٤	الجبل ص ٣٨	كل ما ارتفع من الأرض وله قمة لا يقل ارتفاعها عن ١٠٠٠ متر .
٥	الحضارة ص ٧١	كل ما يطرأ على المجتمع من تقدم وتطور ورفي في جميع نواحي الحياة الدينية والسياسية والاقتصادية والاجتماعية والفكرية .

almanahj.com/kw

(و) أمامك خريطة الوطن العربي الصماء اكتب الرقم الدال على العبارات التالية :



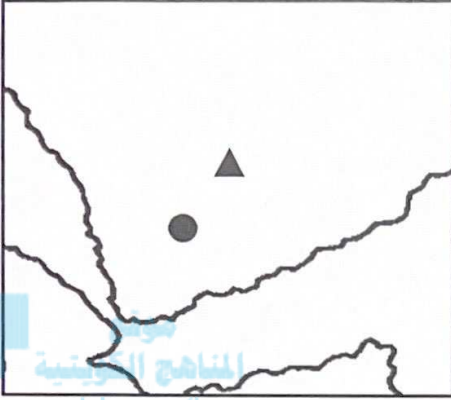
- المحيط الهندي يمثل على الخريطة الرقم . (٤) ص ٥٨
- جمهورية مصر العربية يمثلها على الخريطة الرقم . (٧) ص ٢٨
- حضارة بلاد الشام يمثلها على الخريطة الرقم . (١) ص ٧١
- هضبة نجد يمثلها على الخريطة الرقم . (٢) ص ٤٠
- خط غرينتش يمثل على الخريطة الرقم . (٨) ص ٣١



الدرجة السؤال الأول بالحروف :

السؤال الثاني (المقالى) يتكون من (أ - ب - ج) :

(أ) لاحظ خريطة حضارات بلاد اليمن التى أمامك ثم أجب عما يلي :



١- حدد على الخريطة - مملكة سبأ باستخدام الرمز (▲) ص ٨٥ (درجة)

- مملكة حمير باستخدام الرمز (●) ص ٨٥ (درجة)

٢- علل - منطقة جنوب غرب شبه الجزيرة العربية من أكثر المناطق

ملاءمة لقيام الحضارة . (درجتان - يكتفى بإجابتين)

* توافر المياه العذبة . * المناخ المناسب لقيام الزراعة . ص ٨٥

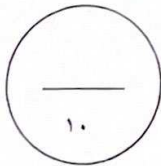
* الموقع الذي سمح بقيام النشاط التجاري .

(ب) فرق بين كل مما يلي من حيث التعريف: (لكل نقطة درجة)

القناة	المضيق
مجرى مائي صناعي ضيق يشق لأغراض الري أو النقل. ص ٢٨	ممر مائي ضيق يصل بين بحرين أو محيطين أو أي مساحتين كبيرتين نسبيا من الماء . ص ٢٨
الموقع النسبي	الموقع الفلكي
موقع الدولة بالنسبة لليابسة و الماء. ص ٣٣	هو نقطة من الكرة الأرضية يتحدد موقعها بخطوط الطول ودوائر العرض . ص ٣١

(ج) اذكر اثنين من العلوم و الفنون التى اشتهرت بها حضارة بلاد الرافدين . (درجتان) ص ٨٢

* الهندسة * الحساب * الفلك * الطب * البناء * فن النحت * الرسم * الأواني الفخارية



الدرجة السؤال الثاني بالحروف :



السؤال الثالث (المقالى) يتكون من (أ - ب - ج) :

(أ) اقرأ الفقرة التالية ثم أجب عن الأسئلة التي تليها :

" تتنوع السهول و تتوزع على مختلف أنحاء الوطن العربي ، و يمكن أن نميز بين نوعين رئيسيين من السهول هما ، السهول الفيضية و هي الأراضي المنخفضة التي تكونت من التربة التي حملتها مياه الأنهار اما السهول الساحلية هي الأراضي المنبسطة التي تجاور سواحل البحار و المحيطات " .

١- عرف - ما تحته خط .

- * مساحة كبيرة من سطح الأرض تتميز باستوائها وقلّة ارتفاعها . ص ٤٢ (درجة)
- ٢- فرق بين كل مما يلي من حيث التعريف.

السهول الساحلية ص ٤٢	السهول الفيضية ص ٤٢
هي الأراضي المنبسطة التي تجاور سواحل البحار والمحيطات . (درجة)	هي الأراضي المنخفضة التي تكونت من التربة التي حملتها مياه الأنهار . (درجة)

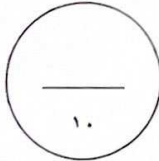
(ب) عدد اثنين لكل مما يلي :

١- العوامل التي ساعدت على قيام الحضارة المصرية القديمة . ص ٧٥ (درجتان - يكتفى بإجابتين)
* تنوع الصخور والمعادن . * امتداد الصحراء * نهر النيل . * اعتدال المناخ وجفافه .

٢- العوامل التي تؤثر في مناخ الوطن العربي . ص ٤٦ (درجتان - يكتفى بإجابتين)
* الموقع بالنسبة لدوائر العرض . * القرب أو البعد عن المسطحات المائية .
* التضاريس . * الرياح .

(ج) اكتب ثلاث مقترحات حول كيفية المحافظة على ثروة المياه . ص ٦٣

* ترشيد استخدام المياه والحد من التبذير في المنازل . / * الحد من هدر المياه في عمليات الري وذلك باستخدام الوسائل الحديثة كالرش بالتنقيط والمحوري . / * تنظيم عملية الاستفادة من المياه الجوفية ومنع تسرب الأملاح الملوثة إليها واستثمارها على الوجه الأمثل . / * تطوير استعمال مياه الصرف الصحي المعالجة في الزراعة . / * إقامة البحيرات والسدود لتجميع مياه الأمطار والسيول للاستفادة منها في فصل الجفاف . / * توقيع اتفاقيات مع الدول المشاركة ودول المنبع لتحقيق مصالح الدول العربية المعنية. (أو كل ما يكتبه المتعلم و يراه المصحح مناسب) (ثلاث درجات - يكتفى بثلاث مقترحات)



الدرجة السؤال الثالث بالحروف :



السؤال الرابع (المقالى) يتكون من (أ - ب - ج) :

(أ) عرف المفاهيم أو المصطلحات التالية : (درجة لكل نقطة)

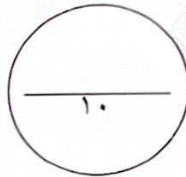
- ١- النهر: مجرى مائي عذب ينحدر على الدوام لينتهي الى البحر أو الى نهر آخر أو ينتهي تدريجيا في الصحراء. ص ٥٨
- ٢- المناخ: هو حالة الجو خلال فترة زمنية طويلة من حيث درجة الحرارة والرطوبة والأمطار والرياح. ص ٤٤
- ٣- المياه الجوفية : هي المياه التي توجد في جوف الأرض (باطن الأرض) . ص ٦٠
- ٤- أوال : أسم أطلق على البحرين قديماً إلى صنم اسمه أوال كانت تعبده قبيلة وائل التي حكمت البحرين آنذاك . ص ٨٩

(ب) قارن بين كل مما يلي :

أوجه المقارنة	الحشائش الحارة (السافانا) ص ٥٢	الحشائش المعتدلة (الأستبس) ص ٥٢
مميزات الحشائش	- حشائش طويلة . - يختلف نوعها حسب كمية الأمطار . (درجة - يكتفى بإجابة)	- حشائش قصيرة . - تنمو في الشتاء خلال موسم سقوط الأمطار. (درجة - يكتفى بإجابة)
فائدتها	- تربي عليها الماشية . (درجة)	- تستخدم في صناعة الورق و الحبال و الحصر . - تربي عليها الأغنام و الإبل و الخيول و الحمير . (درجة - يكتفى بإجابة)

(ج) اذكر اثنين من صفات الأمطار في الوطن العربي . ص ٥٩ (درجتان - يكتفى بنقطتين)

- تذبذب كمية الامطار بين عام و آخر ، كما أنها تسقط في أيام معدودة .
- الأمطار في الوطن العربي تكاد تقتصر على الأطراف الشمالية والأطراف الجنوبية منها .
- تتصف الأمطار بأنها قليلة بصفه عامة ، ولا يستثنى من ذلك سوى المناطق التي تقع من ورائها الجبال



الدرجة السؤال الرابع بالحروف :

انتهت الأسئلة

