

تم تحميل هذا الملف من موقع المناهج الكويتية



منطقة الجهراء التعليمية

الملف نموذج إجابة منطقة الجهراء التعليمية

[موقع المناهج](#) ← [المناهج الكويتية](#) ← [الصف السادس](#) ← [اجتماعيات](#) ← [الفصل الثاني](#)

روابط مواقع التواصل الاجتماعي بحسب الصف السادس



روابط مواد الصف السادس على تلغرام

[الرياضيات](#)

[اللغة الانجليزية](#)

[اللغة العربية](#)

[التربية الاسلامية](#)

المزيد من الملفات بحسب الصف السادس والمادة اجتماعيات في الفصل الثاني

| | |
|--|---|
| مراجعة | 1 |
| مراجعة | 2 |
| مراجعة | 3 |
| مذكرة في مادة الاجتماعيات | 4 |
| مراجعة محلولة ومفيدة في مادة الاجتماعيات | 5 |



وزارة التربية

نموذج الإجابة

امتحان نهاية الفترة الدراسية الثانية

الإدارة العامة لمنطقة الجهاد التعليمية مقرر / الكويت ودول الخليج العربية

للسف السادس / المتوسط

التوجيه الفني للاجتماعيات

العام الدراسي: ٢٠٢٢ / ٢٠٢٣ م

الزمن : ساعة وخمس وأربعون دقيقة

عدد الأوراق : (٦) ورقات

السؤال الأول : موضوعي و يتكون من (أ - ب - ج - د - هـ - و - ز) :

(أ) أكمل العبارات التالية بما يناسبها فيما درست : (لكل سؤال درجة = ٥ درجات)



١- الدولة الخليجية التي توجد فيها حضارة دلمون البحرين . ص ١٠٥

٢- السلع والمنتجات التي تتبعها دولنا في الخارج تسمى الصادرات . ص ٩٩

٣- العام الذي قام فيه النظام العراقي البائد بغزو دولة الكويت ١٩٩٠ م . ص ١٣٩

٤- المنطقة التي تتركز فيها صناعة النحاس بسلطنة عُمان تسمى صحار . ص ٩٦

٥- الشيخ الذي تم تصدير أول شحنة من النفط الكويتي في عهده اسمه أحمد الجابر . ص ٩٠

(ب) ظل الخيار الصحيح من بين الخيارات التي تلي كل عبارة : (لكل سؤال درجة = ٥ درجات)

١- العام الذي بدأ فيه التنقيب عن النفط في دولة الكويت : ص ٨٧

| | | | |
|-------|-------|-------|-------|
| ١٩٢٤م | ١٩٣٤م | ١٩٤٤م | ١٩٥٤م |
|-------|-------|-------|-------|

٢- الدولة الخليجية التي لم تتعرض للاستعمار الأجنبي : ص ١٢٠

| | | | |
|--------|-----|-------|--------------------------|
| الكويت | قطر | عُمان | المملكة العربية السعودية |
|--------|-----|-------|--------------------------|

٣- الحقل الذي تم فيه اكتشاف كميات ضخمة من النفط في دولة الكويت : ص ٨٧

| | | | |
|-------|------|---------|--------|
| برقان | بحره | أم قدير | مناقيش |
|-------|------|---------|--------|

٤- الهجرة العربية التي استقرت في دولة قطر : ص ١٠٨

| | | | |
|----------|---------|----------|---------|
| آل خليفة | القواسم | المعاضيد | بني ياس |
|----------|---------|----------|---------|

٥- بلغ عدد الآبار النفطية الكويتية التي أشعلها النظام العراقي البائد أكثر من : ص ١٣٩

| | | | |
|-----|-----|-----|-----|
| ٦٣٦ | ٧٣٧ | ٨٣٨ | ٩٣٩ |
|-----|-----|-----|-----|

تابع / السؤال الأول موضوعي

(ج) صوب ما تحته خط في العبارات التالية : (لكل سؤال درجة = ٥ درجات)

| م | العبارة | التصويب |
|---|---|---------------|
| ١ | العنف ظاهرة <u>موروثة</u> . | متعلمة ص ١٤٦ |
| ٢ | الدولة الخليجية التي هاجرت إليها قبائل الأزدي <u>البحرين</u> . | عُمان ص ١٠٨ |
| ٣ | تتركز الصناعات النفطية في دولة الكويت بمنطقة <u>الأحمدي</u> . | الشعبية ص ٩٦ |
| ٤ | للمملكة العربية السعودية تجربة رائدة في إنتاج محصول <u>القطن</u> . | القمح ص ٩٢ |
| ٥ | تُعدُّ شبه الجزيرة العربية ملتقى الهجرات الخارجية القادمة من آسيا و <u>أوروبا</u> . | أفريقيا ص ١٠٧ |

(د) أكمل الفراغات في المخططات السهمية التالية : (لكل نقطة درجة = ٥ درجات)

ص ١٤٩

أسباب انتشار مشكلة العنف بين المتعلمين

نفسية

بيئة عامة

أسرية

ص ١١٧ - ١١٩ - ١٢٠

الروابط المشتركة بين أبناء دول الخليج العربية

التاريخ المشترك

الدين واللغة

العادات والتقاليد

وحدة الأصل

تابع / السؤال الأول موضوعي :

(هـ) صنف مظاهر التعاون بين دول مجلس التعاون الخليجي الآتية حسب المطلوب في الجدول التالي :

(لكل نقطة درجة = ٦ درجات)

(المناورات العسكرية - زيادة التبادل التجاري - توحيد المناهج التعليمية - إنشاء قوة مشتركة
- قيام السوق الخليجية المشترك - إنشاء مكتب التربية العربي) ص ١٢٩ - ١٣٠

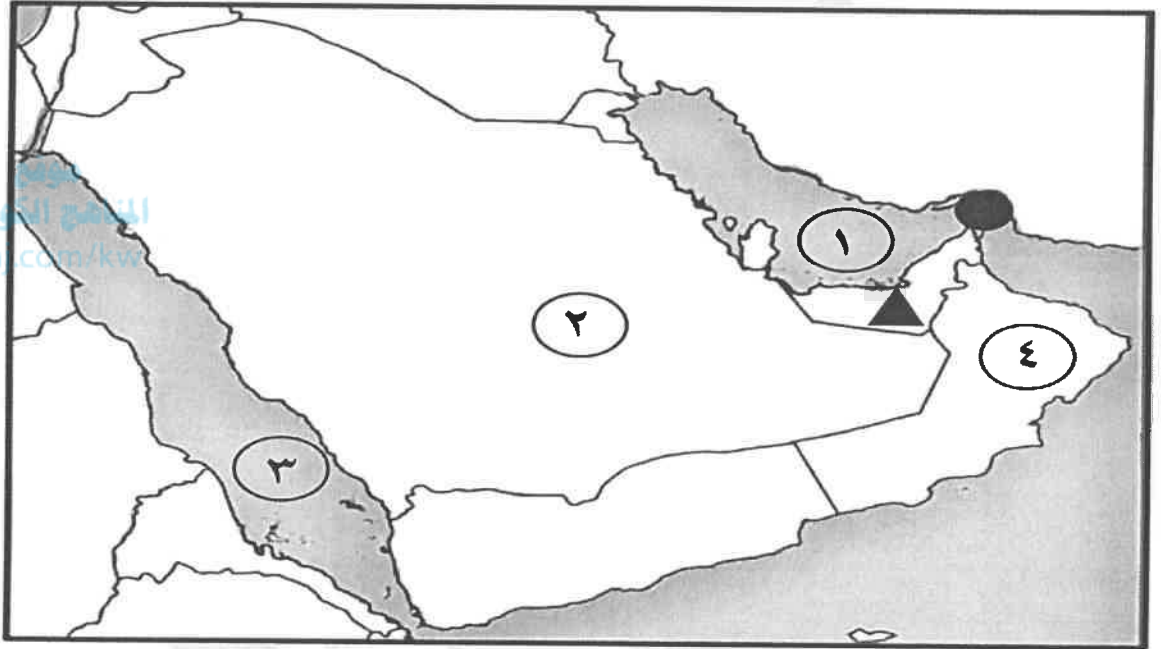
| التعاون الاقتصادي | التعاون الثقافي | التعاون العسكري |
|-----------------------------|---------------------------|--------------------|
| زيادة التبادل التجاري | توحيد المناهج التعليمية | المناورات العسكرية |
| قيام السوق الخليجية المشترك | إنشاء مكتب التربية العربي | إنشاء قوة مشتركة |

(و) اكتب المفهوم أو المصطلح الدال على العبارات التالية : (لكل سؤال درجة = ٥ درجات)

| م | المفهوم أو المصطلح | العبرة |
|---|--------------------|--|
| ١ | الكثافة السكانية | عدد السكان في الكيلو متر المربع وتقاس بقسمة = مساحة الدولة ص ١١٤ <u>عدد السكان</u> |
| ٢ | الدخل القومي | مجموع الدخول التي تحصل عليها الدولة خلال عام . ص ٩٥ |
| ٣ | طبقة الأوزون | درع واق للأحياء ضد خطر الأشعة فوق البنفسجية الضارة . ص ١٣٥ |
| ٤ | الثقافة | مجموعة من العادات والتقاليد والقيم في مجتمع من المجتمعات . ص ١١٨ |
| ٥ | التلوث | الضرر الذي يصيب عناصر البيئة الأساسية (هواء - ماء - تربة) فتتحول من عناصر مفيدة إلى عناصر ضارة . ص ١٣٣ |

تابع / السؤال الأول موضوعي :

(ز) لاحظ خريطة (شبه الجزيرة العربية) المقابلة - ثم أجب عما يليها من الأسئلة :
(لكل سؤال درجة = ٥ درجات)



١- اكتب الرقم الدال على العبارات التالية :

- البحر الأحمر يمثله على الخريطة الرقم (٣) ص ٩٢
- الدولة التي يوجد بها سهل الباطنة يمثلها على الخريطة الرقم (٤) ص ٩٢
- الدولة التي يوجد بها حقل الغوار النفطي يمثلها على الخريطة الرقم (٢) ص ٩١

٢- عين على الخريطة المطلوب باستخدام الأشكال التالية :

- مضيق هرمز ● ص ٩١
- الدولة التي توجد فيها حضارة " هيلي " ▲ ص ١٠٥

السؤال الثاني مقالي ويتكون من (أ - ب - ج)

(أ) اقرأ الفقرة التالية ثم أجب عما يليها من أسئلة : (لكل نقطة درجة = ٤ درجات)

شهدت منطقة الخليج العربية بعد اكتشاف النفط نموًا سكانيًا مضطربًا (فجائيًا) نتيجة لأسباب عدة أهمها (ارتفاع دخل الفرد - توفر الرعاية الصحية - توفر فرص العمل) مما شجع على استقطاب الهجرات الداخلية والخارجية .
ص ١١٠

١- عرف ما تحته خط . ص ١١١

- التغيير الذي يحدث لعدد السكان نتيجة للزيادة الطبيعية وغير الطبيعية .
- ٢- استخرج من الفقرة السابقة أسباب النمو السكاني الفجائي في منطقة الخليج العربية بعد اكتشاف النفط .
- ارتفاع دخل الفرد .
- توفر الرعاية الصحية .
- توفر فرص العمل .

(ب) اذكر اثنين مما يلي : (لكل نقطة درجة = ٤ درجات)

١- حلول لعلاج مشكلة العنف . (يكتفى بنقطتين) ص ١٥٠

- الاهتمام الجاد بالقرآن الكريم والسنة النبوية الشريفة .
- الاهتمام بالقراءة والمطالعة بدلاً من أصدقاء السوء .
- القدوة الحسنة من كل المحيطين بالشباب (المتعلمين) واتباع أساليب الحوار والتفاهم في علاج المشكلات والخلافات .

٢- أصول السلالات السكانية في منطقة الخليج العربية . ص ١٠٥

- جنس البحر المتوسط .
- شرق أفريقيا .

(ج) ما النتائج المترتبة على كل مما يلي : (لكل نقطة درجة = ٤ درجات)

١- تلوث التربة . ص ١٣٤

- ضعف قدرتها على الإنتاج الزراعي .
- تلوث الإنتاج الزراعي مما يؤثر على صحة الإنسان .
- ٢- ارتباط دول مجلس التعاون بعلاقات تجارية مع دول العالم وفيما بينها . ص ٩٩
- انتعاش الموانئ في دول الخليج العربية حيث كان لها دورًا بارزًا في تجارة الترانزيت .
- ارتفاع الدخل القومي للدول .

السؤال الثالث مقالي ويتكون من (أ - ب - ج) :

(أ) علل لما يلي : (لكل نقطة درجة = ٤ درجات)

- ١- تعرض مياه الخليج العربي للتلوث المائي . (يكتفى بنقطتين) ص ١٣٦
 - مخلفات المصانع .
 - النفط ومشتقاته .
 - مياه الصرف الصحي غير المعالجة .
 - النفايات الخطرة .
 - مياه الصرف الزراعي .
 - الأمطار الحمضية .
- ٢- ظهرت الحاجة إلى إقامة العديد من الموانئ النفطية . ص ٩٠
 - تزايد الإنتاج النفطي لدول مجلس التعاون من الحقول البرية والبحرية .
 - تزايد الطلب العالمي عليه كمصدر أساسي للطاقة .

(ب) فرّق بين كل مما يلي : (لكل نقطة درجة = ٤ درجات)

| احتياطي النفط | إنتاج النفط |
|--|---|
| ص ٨٨ | ص ٨٨ |
| - كميات النفط المخزونة في باطن الأرض . | - كميات النفط التي يتم استخراجها للاستفادة منها . |
| بيوت بلاستيكية | الزراعة بدون تربة |
| ص ٩٤ | ص ٩٤ |
| - يزرع فيها الخضروات في غير مواسمها (أوقاتها) وتقوم بحماية المحاصيل من تقلبات الطقس . | - الزراعة التي تتم في بيئة مائية أو رملية أو حصى أو نشارة خشب تضاف إليها المحاليل الغذائية . |

(ج) عدد ما يلي فيما درست : (لكل نقطة درجة = ٤ درجات)

- ١- وظائف العمالة المنزلية . (يكتفى بنقطتين) ص ١٤٢
 - الطباخين
 - السائقين
 - المربيات
 - الخدم
- ٢- أهم الدول المستوردة للنفط الكويتي . (يكتفى بنقطتين) ص ٩٠
 - الولايات المتحدة الأمريكية
 - هولندا
 - اليابان

(انتهت الإجابات)



وزارة التربية
الإدارة العامة لمنطقة الجواء التعليمية
التوجيه الفني للاجتماعيات

امتحان المنهج الكامل

للسف السادس المتوسط

مقرر/ الكويت ودول الخليج العربية

(نموذج إجابة)

العام الدراسي: (٢٠٢٢-٢٠٢٣م)

الزمن : ساعة وخمس وأربعون دقيقة

عدد الصفحات : (٦)

أجب عن جميع الأسئلة

أولا : الأسئلة الموضوعية :

السؤال الأول : ويتكون من (أ - ب - ج - د - هـ - و - ز):

(أ) أكمل العبارات التالية بما يناسبها مما درست: (٥ درجات)

موقع
المنهج الكويتية
almanahj.com/kw

١- يطلق على صانع السفينة اسم.....القلاف..... ص ٣٣ .

٢- الزيادة الغير طبيعية للسكان تكون بسبب يسمى.....الهجرة..... ص ١١٠

٣- كميات النفط المخزونة في باطن الأرض تسمى.....احتياطي النفط..... ص ٨٨

٤- درع واق للأحياء ضد خطر الأشعة فوق البنفسجية الضارة تسمى.....طبقة الأوزون..... ص ١٣٥

٥- البلد الخليجي الوحيد الذي لم يتعرض للاستعمار يسمى.....المملكة العربية السعودية..... ص ٦٥

(ب) صنف أسماء الحيوانات التالية حسب مكانها الصحيح في الجدول التالي : (٥ درجات)

(السحلية -الإبل - الثعبان - الضب - الأغنام - الماعز) ص ٢٦

| حيوانات غير مستأنسة | حيوانات مستأنسة |
|---------------------|---------------------|
| -الثعبان..... | -الإبل..... |
| -السحلية..... | -الأغنام..... |
| -الضب..... | -الماعز..... |

(ج) أكمل المخططات السهمية التالية : (٨ درجات)

ص ٢٨

١- الأنشطة البرية التي مارسها سكان دول الخليج العربية

الرعي .. الزراعة .. الحرف اليدوية .. التجارة البرية ..



ص ١١٧ الى ١٢٠

٢- الروابط التي تربط بين سكان دول الخليج العربية

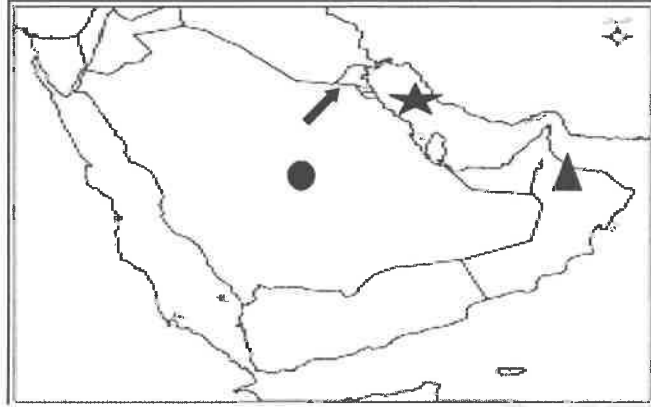
وحدة الأصل .. العادات والتقاليد .. الدين واللغة .. التاريخ المشترك ..

ص ٩٦

٣- أهم صناعات منطقة الشعبية في دولة الكويت

البتروكيماويات .. الغاز .. تكرير النفط ..

(د) لاحظ خريطة شبه الجزيرة العربية الصماء ثم أكتب مدلولات الأشكال التالية : (٤ درجات)



- السهم (↖) في الخريطة يشير الي دولة خليجية تسمىالكويت..... ص ١٩
- الشكل (▲) على الخريطة يمثل جبل في سلطنة عمان يسمى الجبل الأخضر ص ٢٣
- الشكل (●) على الخريطة يمثل هضبة تسمىنجد..... ص ٢٣
- الشكل (★) على الخريطة يمثل مسطح مائي يسمىالخليج العربي..... ص ٥١

(هـ) اختر للمجموعة (أ) ما يناسبها للمجموعة (ب) بوضع الرقم الصحيح في المكان المناسب : ص ٥٧

(٤ درجات)

| م | المجموعة (أ) | الرقم الصحيح | المجموعة (ب) |
|---|--------------|--------------|--------------|
| ١ | المعاضيد | ٢ | عمان |
| ٢ | قبائل الأزدي | ٤ | رأس الخيمة |
| ٣ | بني ياس | ١ | قطر |
| ٤ | القواسم | - | الكويت |
| | | ٣ | أبوظبي |

(و) صوب ماتحته خط في العبارات التالية فيما بين القوسين : (٤ درجات)

- ١- المملكة العربية السعودية لها تجربة رائدة في إنتاج محصول الذرة
٢- قسمة عدد السكان على مساحة الدولة يطلق عليه نمو سكاني
٣- البضائع والسلع التي تشتريها دولنا من الخارج تسمى صادرات
٤- القمة السابعة والعشرون سميت بقمة الشيخ صباح الأحمد .
- (... القمح.....) ص ٩٢
(...كثافة سكانية..) ص ١١٤
(...واردات.....) ص ٩٩
(...جابر الأحمد....) ص ٧٤



(ز) ضع خطأ تحت الخيار الصحيح من بين الخيارات التي تلي كل عبارة مما يأتي : (٥ درجات)

- ١- بدأ التنقيب عن النفط في دولة الكويت عام ١٩٣٤م في حقل : ص ٨٧
(برقان - بحرة - المقوع - المناقيش)
- ٢- المناخ الذي تتصف به منطقة الخليج العربية : ص ٢٥
(بارد - متجمد - صحراوي - معتدل)
- ٣- بلغ عدد الآبار الكويتية التي أحرقتها النظام العراقي البائد : ص ١٣٩
(٦٣٧ بئر - ٧٣٧ بئر - ٨٣٧ بئر - ٩٣٧ بئر)
- ٤- أول دولة أوروبية استعمارية وصلت للخليج العربي واحتلت أجزاء مهمة منه لفترة من الزمن : ص ٦٠
(هولندا - البرتغال - الانجليز - فرنسا)
- ٥- تم تصدير أول شحنة من النفط الكويتي عام : ص ٩٠
(١٩٤٣م - ١٩٤٤م - ١٩٤٥م - ١٩٤٦م)

السؤال الثاني : ويتكون من (أ - ب - ج - د) :

(أ) لاحظ الشكل المقابل أمامك ثم أجب عن الأسئلة التالية : (درجتين)



- ١- ما اسم المنظمة الإقليمية التي يمثلها الشعار أمامك ؟ ص ٧٣
- مجلس التعاون لدول الخليج العربية
- ٢- في أي عام أنشأت هذه المنظمة ؟ ص ٧٠
- ١٩٨١م

(ب) عرف مايلي : (درجتين)



ص ٩٥ almanahj.com/kw

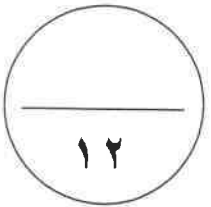
- ١- صناعة : تحويل المواد الخام إلى مواد يمكن الاستفادة منها
- ٢- استقلال : تحرر الدولة من المستعمر الأجنبي وقيامها بمسؤولية اداره شئونها الداخلية والخارجية ص ٦٣

(ج) عدد لكل مما يلي : (٤ درجات)

- ١- أدوات صيد الأسماك . (يكتفى بإجابتين فقط) ص ٣١
- الميدار - الحظرة - القرقور - الشباك
- ٢- أنواع التلوث . (يكتفى بإجابتين فقط) ص ١٣٣
- تلوث هوائي - تلوث ضوضائي
- التلوث الأرضي (التربة) - التلوث المائي (مياه البحر - المياه الجوفية)

(د) علل لمايلي : (٤ درجات)

- ١- تعتبر سفينة البغلة من أفضل أنواع السفن المستخدمة في رحله السفر . ص ٣٤
- لمتانتها وقدرتها على نقل الحمولة الكبيرة
- قلة تعرضها للاخطار البحرية
- ٢- شهدت منطقة الخليج العربية بعد اكتشاف النفط نموا سكانيا مضطردا (فجائيا) . (يكتفى بإجابتين فقط) ص ١١٠
- ارتفاع دخل الفرد
- توفر الرعاية الصحية - توفر فرص العمل



السؤال الثالث: ويتكون من (أ - ب) :

(أ) قارن بين كلا من : ص ٢١ (٤ درجات)

| أوجه المقارنة | خطوط الطول | دوائر العرض |
|---------------|---|---|
| التعريف | -.....هي عبارة عن خطوط وهمية أي غير موجودة على سطح الأرض ترسم على الكرة الأرضية وتقسّم الكرة الأرضية الي قسمين شرقي وغربي | - هي عبارة عن خطوط وهمية أي غير موجودة على سطح الأرض ترسم على الكرة الأرضية وتقسّم الكرة الأرضية الي قسمين شمالي وجنوبي |
| العدد | ٣٦٠ خط | ١٨٠ دائرة |

(ب) نفذ المطلوب منك بين القوسين : (٨ درجات)

- ١- قيام دول الخليج العربية الى إقامة العديد من الموانئ النفطية . (الأسباب) ص ٩٠
 - نتيجة لتزايد الإنتاج النفطي لدول مجلس التعاون من الحقول البرية والبحرية
 - تزايد الطلب العالمي عليّة كمصدر أساسي للطاقة
- ٢- تلوث التربة . (النتائج) ص ١٣٤
 - ضعف قدرتها على الإنتاج الزراعي
 - تلوث الإنتاج الزراعي مما يؤثر على صحة الإنسان
- ٣- أصول السلالات السكانية في منطقة الخليج العربية . (الأنواع) ص ١٠٥
 - جنس البحر المتوسط
 - شرق أفريقيا
- ٤- التعاون الاقتصادي بين دول مجلس التعاون الخليجي . (المظاهر) ص ١٣٠
 - صدور إعلان الدوحة بشأن قيام السوق الخليجية المشترك في يناير ٢٠٠٨م
 - زيادة التبادل التجاري