

تم تحميل هذا الملف من موقع ملفات الكويت التعليمية



[com.kwedufiles.www//:https](https://www.kwedufiles.com)

*للحصول على أوراق عمل لجميع الصفوف وجميع المواد اضغط هنا

* للحصول على أوراق عمل لجميع مواد الصف الخامس اضغط هنا

<https://kwedufiles.com/5>

* للحصول على جميع أوراق الصف الخامس في مادة رياضيات ولجميع الفصول, اضغط هنا

<https://kwedufiles.com/5math>

* للحصول على أوراق عمل لجميع مواد الصف الخامس في مادة رياضيات الخاصة بـ الفصل الأول اضغط هنا

<https://www.kwedufiles.com/5math1>

* لتحميل كتب جميع المواد في جميع الفصول للصف الخامس اضغط هنا

<https://www.kwedufiles.com/grade5>

* لتحميل جميع ملفات المدرس حسين المعاني اضغط هنا

[bot_kwlinks/me.t//:https](https://t.me/bot_kwlinks)

للحصول على جميع روابط الصفوف على تلغرام وفيسبوك من قنوات وصفحات: اضغط هنا

الروابط التالية هي روابط الصف الخامس على مواقع التواصل الاجتماعي

مجموعة الفيسبوك

صفحة الفيسبوك

مجموعة التلغرام

بوت التلغرام

قناة التلغرام

رياضيات على التلغرام

المذكرة محلولة على مواقع
التواصل

Inst:Hussein_almaani

Face:الاستاذ حسين المعاني

مراجعة للصف الخامس
بالوحدة الثانية
الاعداد العشريّة

لمشاهدة شرح المذكرة وحلها
انزل على قناة الأستاذ حسين
المعاني على اليوتيوب ومن قوائم
التشغيل اختر الصف الخامس

اُكْتُبْ فِي الصُّورَةِ الْعَشْرِيَّةِ كَلِمًا مِمَّا يَلِي:

ثَمَانِمِئَةٌ وَسَبْعَةٌ وَثَمَانُونَ جُزْءًا مِنْ أَلْفٍ.

تِسْعَةٌ صَحِيحٌ وَتِسْعَةٌ أَجْزَاءٌ مِنْ أَلْفٍ.

اُكْتُبِ الْإِسْمَ اللَّفْظِيَّ لِكُلِّ مِمَّا يَلِي:

١٦,٠٠٧

اُكْتُبِ الْقِيَمَةَ الْمَكَانِيَّةَ لِلرَّقْمِ الْمَلَوْنِ بِاللَّوْنِ الْأَحْمَرِ.

٢,٥٢

٩,٧١٦

٠,٤٣٨

اُكْتُبْ عَدَدًا عَشْرِيًّا مُكَافِئًا لِكُلِّ مِمَّا يَلِي:

٥,٣ ج

٠,٧٥ ب

٠,٩ ا

١ ضَعُ رَمَزَ الْعِلَاقَةِ الْمُنَاسِبِ (< أَوْ > أَوْ =).

$$٠,٢٦ \bigcirc ٠,٢ \text{ ج}$$

$$٠,٧٠ \bigcirc ٠,٧ \text{ ب}$$

$$٠,٥ \bigcirc ٠,٥٥ \text{ أ}$$

$$٢٢,٨ \bigcirc ٣,٢٨ \text{ و}$$

$$١٤,٠ \bigcirc ١,٤ \text{ هـ}$$

$$٠,٩٩ \bigcirc ١ \text{ د}$$

١ رَتِّبْ تَصَاعُدِيًّا.

$$٠,٤٢ \text{ ، } ٠,١٨ \text{ ، } ٠,٣٣ \text{ أ}$$

رَتِّبْ تَنَازُلِيًّا.

$$٠,٥ \text{ ، } ٤,٠٣ \text{ ، } ٠,٠٥$$

قَرِّبْ إِلَى أَقْرَبِ جُزْءٍ مِنْ عَشْرَةٍ.

$$\approx ٠,٣٧٤ \text{ ب}$$


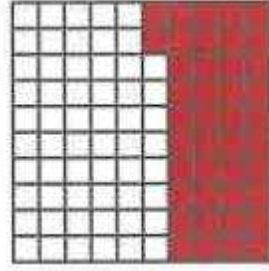

$$\approx ٠,١٣ \text{ أ}$$

قَرِّبْ إِلَى أَقْرَبِ جُزْءٍ مِنْ مِئَةٍ.

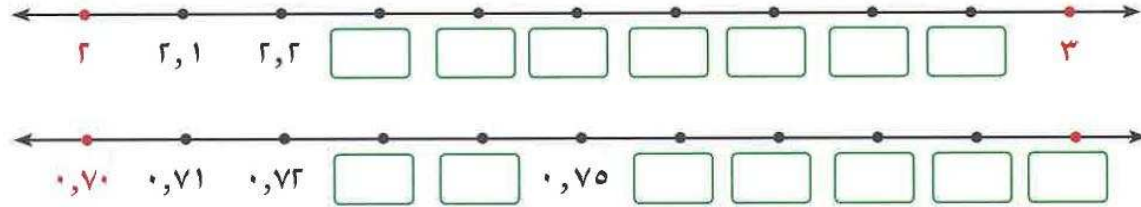
$$\approx ٠,٤٤٤ \text{ ب}$$

$$\approx ٠,١٤٦ \text{ أ}$$

اكتب في الصورة المعتادة والصورة العشرية ما يدل على الأجزاء الملونة فيما يلي:



أكمل رموز الأعداد العشرية على خط الأعداد.



اكتب في الصورة العشرية كلا مما يلي:

$$= 6 \frac{53}{100} \qquad = \frac{3}{10}$$

واحد صحيح وستون جزءاً من مئة.