

تم تحميل هذا الملف من موقع المناهج الكويتية



التوجيه الفني للرياضيات

الملف نموذج الاختبار التحصيلي التجريبي الأول

[موقع المناهج](#) ← [المناهج الكويتية](#) ← [الصف الأول](#) ← [رياضيات](#) ← [الفصل الأول](#)

روابط مواقع التواصل الاجتماعي بحسب الصف الأول



روابط مواد الصف الأول على تلغرام

[الرياضيات](#)

[اللغة الانجليزية](#)

[اللغة العربية](#)

[التربية الاسلامية](#)

المزيد من الملفات بحسب الصف الأول والمادة رياضيات في الفصل الأول

تدريبات على كتابة الاعداد من 1 وحتى 10 في مادة الرياضيات	1
التصنيف وفق خاصية واحدة في مادة الرياضيات	2
اوراق عمل في مادة الرياضيات	3
تحضير درس الانماط في مادة الرياضيات	4
تحضير درس التطابق في مادة الرياضيات	5



وزارة التربية

الإدارة العامة لمنطقة حولي التعليمية

التوجيه الفني للرياضيات

الاسم :

الصف :

الدرجة : ٢٠/.....

الاختبار التحصيلي (١) التجريبي

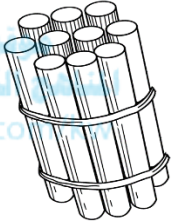
للسف الأول الابتدائي

للعام الدراسي ٢٠٢٢ / ٢٠٢٣

السؤال الأول :


(أ) اكتب رمز العدد الممثل

٤



٢

(ب) استكمل رسم العناصر بحسب العدد الموضح رمزه .

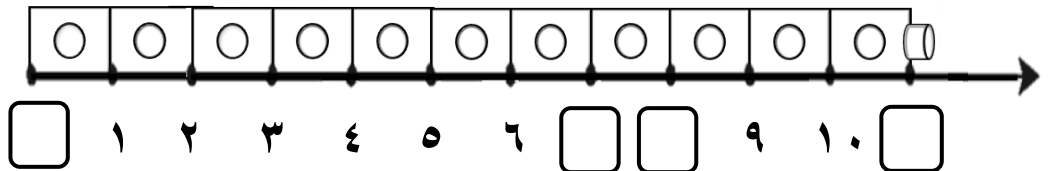


٣

٢

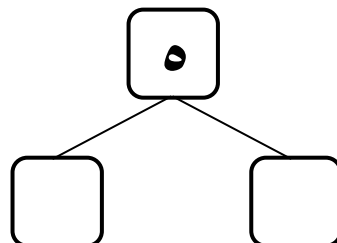
السؤال الثاني : أكمل .

(أ)



٣


(ب)



السؤال الثالث : قارن بين العددين بوضع < أو > أو = .


٤

٢



٦

٩




٩

السؤال الرابع:

(أ) لون ٢  .




١



٤

(ب) حوِّط .

- الطبق الذي يحتوي على ٣ برتقالات



- العلبه التي بها ١٠ ألوان

