

تم تحميل هذا الملف من موقع المناهج الكويتية



مدرسة التميز النموذجية

الملف أوراق عمل الوحدة الأولى

موقع المناهج ← المناهج الكويتية ← الصف الثالث ← علوم ← الفصل الثاني

روابط مواقع التواصل الاجتماعي بحسب الصف الثالث



روابط مواد الصف الثالث على تلغرام

[الرياضيات](#)

[اللغة الانجليزية](#)

[اللغة العربية](#)

[التربية الاسلامية](#)

المزيد من الملفات بحسب الصف الثالث والمادة علوم في الفصل الثاني

تلخيص علوم	1
مراجعة	2
مذكرة كفايات	3
نموذج اجابة	4
مراجعة	5



اوراق عمل

الفصل الدراسي الثاني

٢٠٢٤-٢٠٢٥ م

الصف : الثالث الابتدائي

الوحدة الاولى

مدرسة التميز النموذجية
المادة : علوم





درس : ما هي خصائص سطح الأرض في بلادنا؟

أولاً : الأسئلة الموضوعية :

السؤال الأول : اختر الإجابة الصحيحة علمياً لكل من العبارات التالية بوضع علامة (✓) في المربع المقابل لها :

حوض أو منخفض طبيعي على سطح الأرض:

سهول

تلال

هضبة

وادي

2- منطقة مرتفعة عن الأرض ذات قمة مستوية:

وادي

هضبة

سهول

تلال



3- الصورة تمثل أهم مظاهر سطح الأرض في بلادنا الكويت:

وادي الباطن

هضبة الاحمدي

سهل الدبدبة

تلال وارة

السؤال الثاني : أكتب بين القوسين كلمة (صحيحة) للعبارة الصحيحة وكلمة (خطأ) للعبارة غير الصحيحة في كل مما يأتي:

(.....)

1- خصائص سطح الأرض في دولة الكويت متنوعة.

(.....)

2- السهول يسهل فيها الزراعة من الجبال والهضاب.

(.....)

3- الجبال من أهم مظاهر سطح الأرض في دولة الكويت .





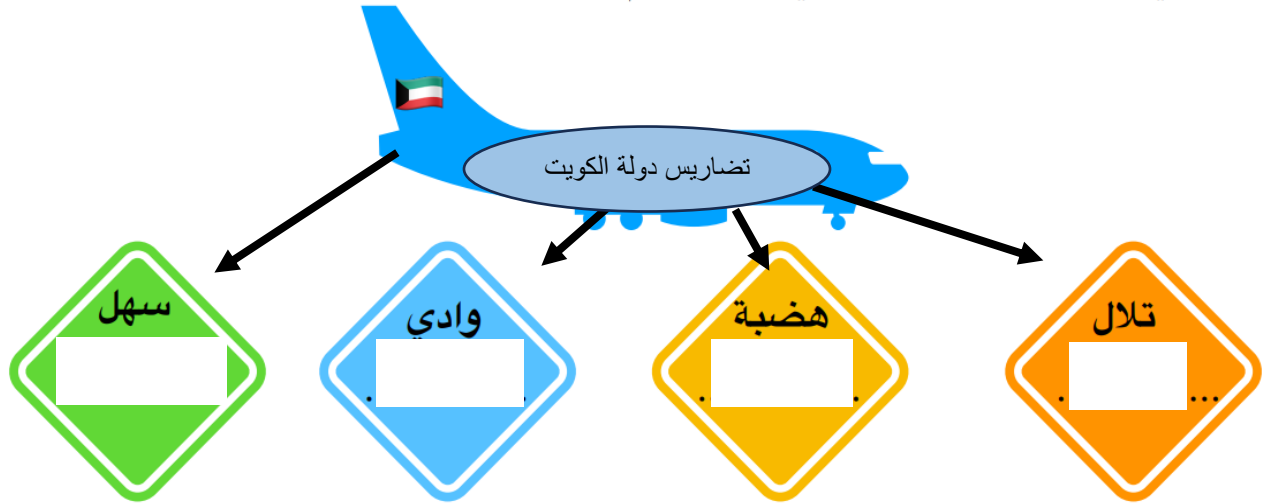
السؤال الثالث : أكمل العبارات التالية بما تراه مناسباً علمياً :

- 1- ارتفاع عن سطح الارض و تشبه الجبال لكن أصغر منها
- 2- هضبة توجد في جنوب دولة الكويت.....
- 3- مساحة واسعة من الأرض المنخفضة و المنبسطة تسمى

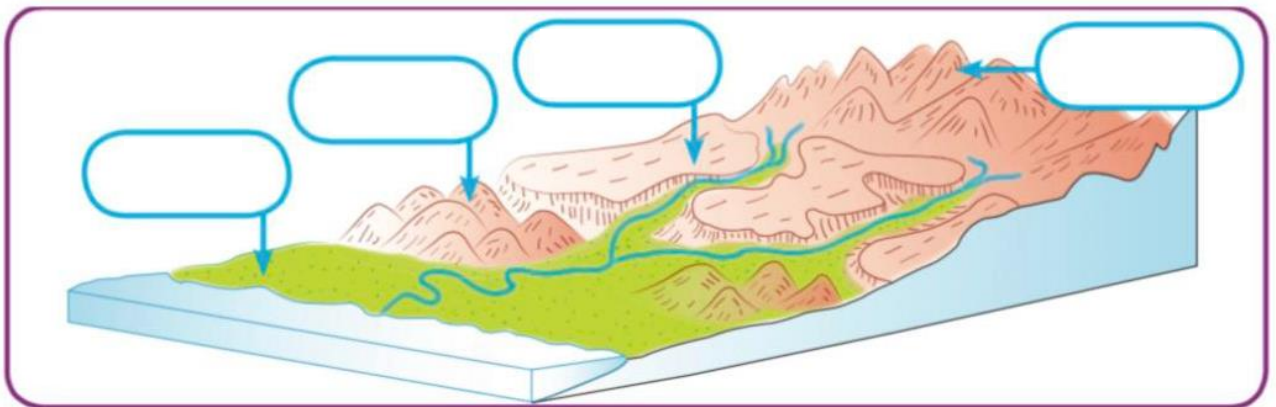
ثانياً: الأسئلة المقالية :

السؤال الأول : اكمل خريطة المفاهيم التالية :

أثناء عودة سارة من السفر وبينما الطائرة تحلق فوق أرض الكويت شاهدت عدة تضاريس هي .



السؤال الثاني : أكمل البيانات على الرسم :






السؤال الثالث : أكمل بالرسم أحد مظاهر سطح الأرض في دولة الكويت مع كتابة الاسم:

سهل

.....

ثالثا : سؤال TIMSS :

- أشكال سطح الأرض مختلفة و نرى بعضها في بلادنا الكويت ، اختر الرقم الذي يشير بالرسم إلى التل / التلال ، فسر سبب اختيارك :



3 2 1

التفسير :

.....





درس : ماهي خصائص الصخور و التربة في بلادي

أولاً : الأسئلة الموضوعية

السؤال الأول : اختر الإجابة الصحيحة علمياً بوضع علامة (✓) في المربع المقابل لها:

1- تربة دولة الكويت تربة:

- طينية زراعية رملية مختلطة

2- تعتبر من صفات التربة الطينية :

- جيدة التهوية فقيرة بالعناصر الغذائية حبيباتها مختلفة الحجم حبيباتها صغيرة جدا

السؤال الثاني : أكمل العبارات التالية بما تراه مناسباً من الكلمات :

(متوسط - قليل - كثير)

1) حجم الماء النافذ في التربة الرملية

2) حجم الماء النافذ في التربة الطينية

السؤال الثالث : اكتب بين القوسين كلمة (صحيحة) للعبارة الصحيحة وكلمة (خطأ) للعبارة غير الصحيحة في كل مما يأتي:

1- تعتبر تربة الكويت تربة طينية. (.....)

2- صفات الصخور متشابهة. (.....)

3- تختلف الصخور من حيث طريقة تكوينها. (.....)

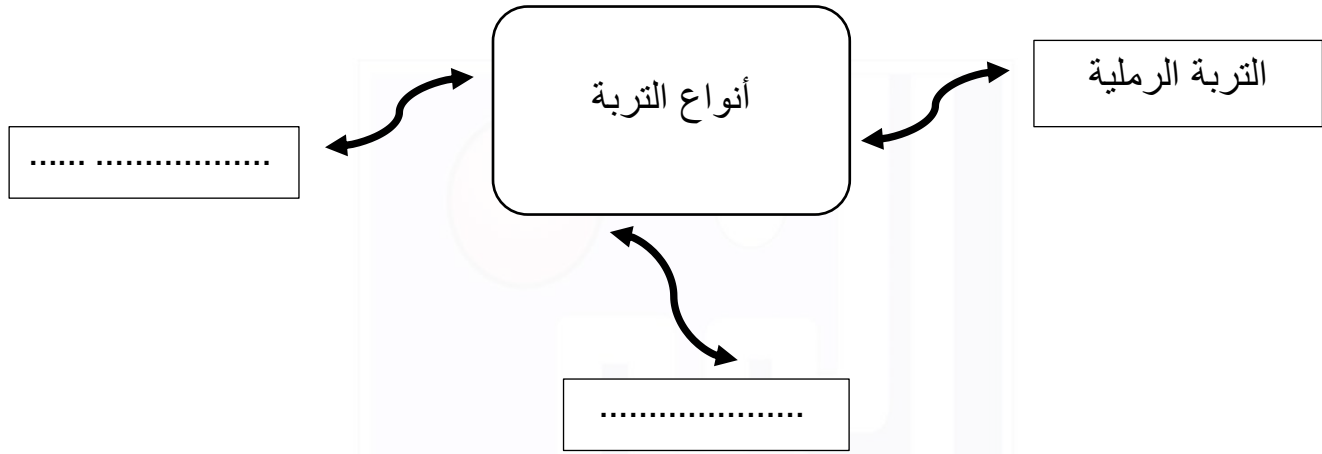
4- يعاني المزارعون في دولة الكويت من صعوبة في زراعة الأراضي الصحراوية. (.....)






ثانياً : الأسئلة المقالية :

السؤال الأول : أكمل الخريطة الذهنية التالية بما يناسبها من المفاهيم العلمية:




السؤال الثاني : أكمل البيانات على الرسم :

من خلال عينات التربة الموضحة بالشكل أدناه أكتب أسم نوع التربة لكل منها بصورة صحيحة :



تربة




تربة

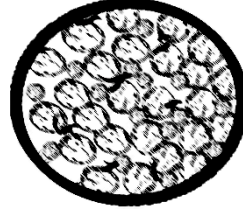





السؤال الثالث: من خلال الرسومات التالية أجب عما يلي:



(3)



(2)



(1)

(.....)

1- التربة الشائعة في دولة الكويت رقم

(.....)

2- التربة الصالحة للزراعة رقم

ثالثاً : سؤال TIMSS :

زرعت نبتتان من النوع نفسه في حوضين مختلفين ، تشير الصورة إلى مظهر النبتتان بعد مرور أسبوعين من الزراعة



2

1

اذكر سبباً واحداً محتملاً لعدم نمو النبتة رقم (1)

بنفس الشكل الجيد بالنبتة (2)

.....
.....
.....



درس : النباتات في الصحراء (ص24-25)

أولاً : الأسئلة الموضوعية :

السؤال الأول : اختر الإجابة الصحيحة علمياً لكل من العبارات التالية بوضع علامة (✓) في المربع المقابل لها:

1) الزهرة الوطنية في صحراء بلدي موجود في نبات:

البتونيا العرفج الرمث النخيل

2) تتميز أوراق نباتات الصحراء بأنها :

طويلة وممتدة كبيرة وكثيفة صغيرة وشوكية كبيرة وشوكية

3) نباتات تنمو في تربة رملية جافة :

نباتات الحديقة نباتات الصحراء نباتات المزارع نباتات الغابة

4) تنمو النباتات الصحراوية في تربة :

رملية رطبة رملية جافة طينيه رطبة طينية جافة





السؤال الثاني : أكتب بين القوسين كلمة (صحيحة) للعبارة الصحيحة وكلمة (خطأ) للعبارة غير الصحيحة في كل مما يلي:

- () 1) تنمو النباتات الطبيعية دون تدخل الانسان فيها .
- () 2) تنمو في بلاد الكويت نباتات كثيرة .
- () 3) للنباتات الصحراوية جذور طويلة ممتدة .
- () 4) تتميز نباتات الحديقة بأوراقها الصغيرة الشوكية .

السؤال الثالث : أكمل العبارات التالية بما تراه مناسباً علمياً :

- 1- تتحمل النباتات الصحراوية درجات الحرارة
- 2- من النباتات الطبيعية في دولتنا الكويت
- 3- للنبات الصحراوية أوراق
- 4- تعتبر هي الزهرة الوطنية في بلادنا زهرة نبات





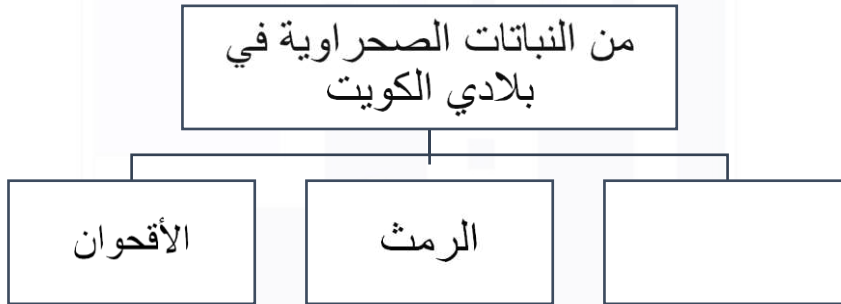
ثانياً: الأسئلة المقالية :

السؤال الأول: أكمل المنظمات الشكلية التالية بما يناسبها من المفاهيم العلمية المناسبة:

(1)



(2)



السؤال الثاني: علل لما يلي تعليلاً علمياً سليماً:

(1) للنباتات الصحراوية أوراق صغيرة الحجم

.....

(2) قلة النباتات في بلادي الكويت

.....





السؤال الثالث : صنف الصفات التالية للنباتات تبعا لنوعها فيما يلي:

- (4) أوراق صغيرة
(3) جذور قصيرة
(2) أوراق كبيرة
(1) جذور طويلة

نبات الحديقة	نبات الصحراء

ثالثاً : سؤال TIMSS :

أي النباتات يمكن أن تراها بكثرة في صحراء بلادك الكويت ؟

نبات (د)	نبات (ج)	نبات (ب)	نبات (أ)
1- فروعها شوكية	1- أوراقها كبيرة	1- صغيرة الحجم	1- لها أزهار وثمار
2- أوراقها صغيرة	وكثيفة	2- جذورها قليلة	2- زاحفه
3- جذورها طويلة	2- جذورها عميقة	العمق	3- أوراقها كبيرة
	3- ساقها طويل جدا	3- لها أزهار وثمار	

نبات (أ)

نبات (ب)

نبات (ج)

نبات (د)





درس : ما هي خصائص سطح الأرض في بلادنا؟ (ص14-15)

أولاً : الأسئلة الموضوعية :

السؤال الأول : اختر الإجابة الصحيحة علمياً لكل من العبارات التالية بوضع علامة (✓) في المربع المقابل لها :

1- حوض أو منخفض طبيعي على سطح الأرض:
وادي هضبة سهل تلال

2- منطقة مرتفعة عن الأرض ذات قمة مستوية:

تلال سهل هضبة وادي



3- الصورة تمثل أهم مظاهر سطح الأرض في بلادنا الكويت:

تلال وارة سهل الدبدبة هضبة الاحمدي وادي الباطن

السؤال الثاني : أكتب بين القوسين كلمة (صحيحة) للعبارة الصحيحة وكلمة (خطأ) للعبارة غير الصحيحة في كل مما يأتي:

- 1- خصائص سطح الأرض في دولة الكويت متنوعة. (صحيحة)
- 2- السهول يسهل فيها الزراعة من الجبال والهضاب. (صحيحة)
- 3- الجبال من أهم مظاهر سطح الأرض في دولة الكويت . (خطأ)





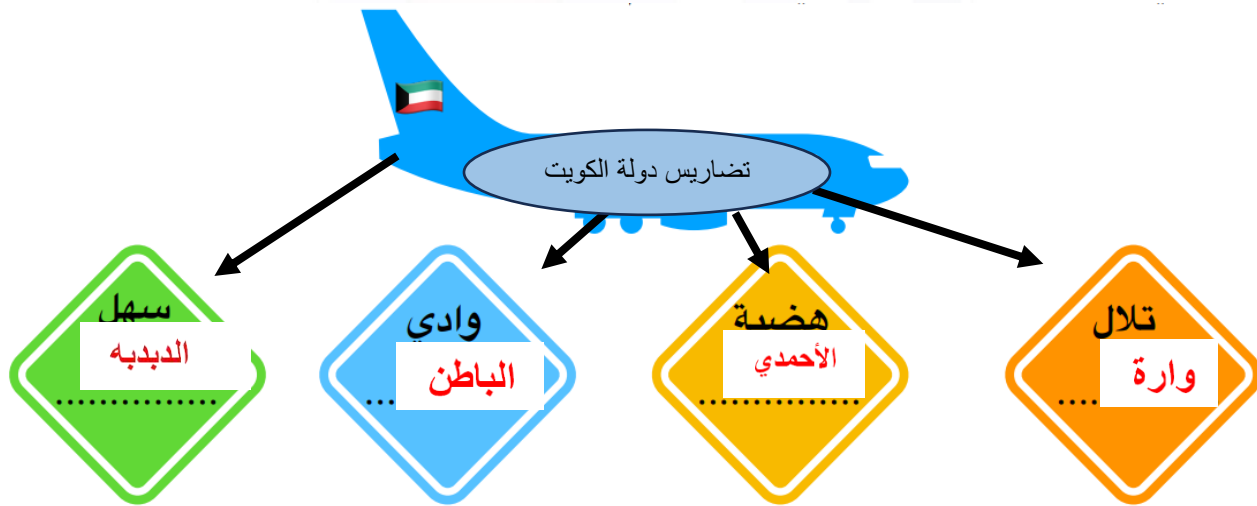
السؤال الثالث : أكمل العبارات التالية بما تراه مناسباً علمياً :

- 1- ارتفاع عن سطح الارض و تشبه الجبال لكن أصغر منها...**تلال**.....
- 2- هضبة توجد في جنوب دولة الكويت ..**هضبة الاحمدي** ..
- 3- مساحة واسعة من الأرض المنخفضة و المنبسطة تسمى **ال سهول**.....

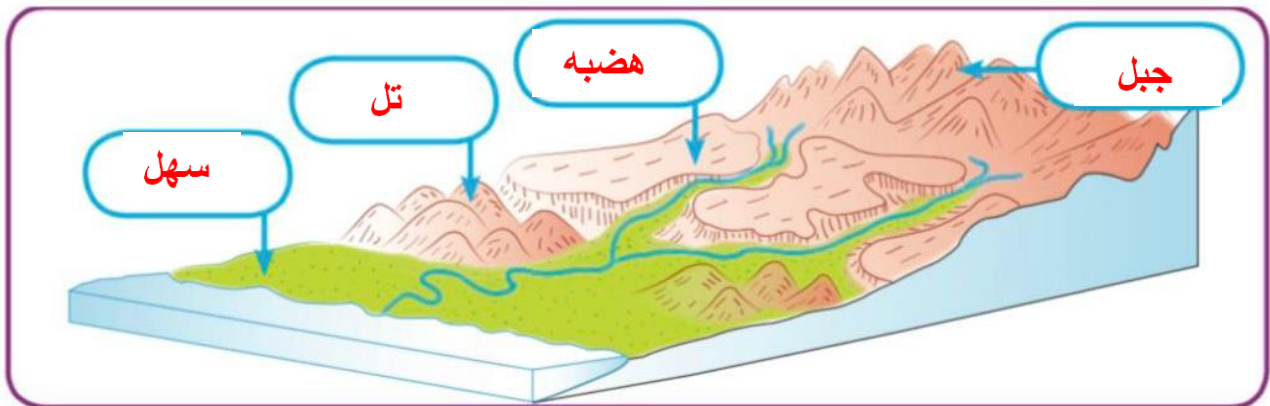
ثانيا: الأسئلة المقالية :

السؤال الأول : اكمل خريطة المفاهيم التالية :

أثناء عودة سارة من السفر وبينما الطائرة تحلق فوق أرض الكويت شاهدت عدة تضاريس هي .

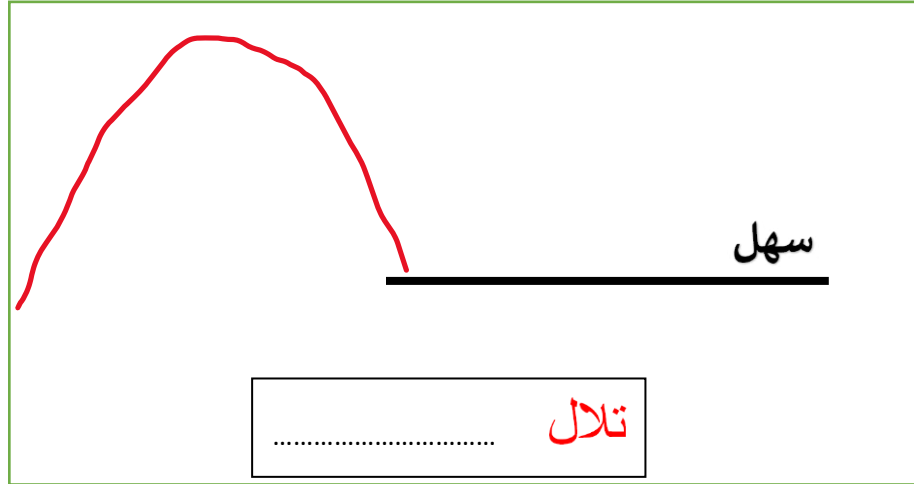


السؤال الثاني : أكمل البيانات على الرسم :



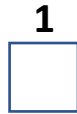
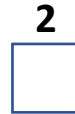



السؤال الثالث : أكمل بالرسم أحد مظاهر سطح الأرض في دولة الكويت مع كتابة الاسم:



ثالثا : سؤال TIMSS :

- أشكال سطح الأرض مختلفة و نرى بعضها في بلادنا الكويت ، اختر الرقم الذي يشير بالرسم إلى التل / التلال ، فسر سبب اختيارك :



التفسير :

..... لأن التلال تشبه الجبال و لكنها أقل ارتفاعاً و قممها ليست مدببة





درس : ماهي خصائص الصخور و التربة في بلادنا؟ (ص 16 - 18)

أولاً : الأسئلة الموضوعية

السؤال الأول : اختر الإجابة الصحيحة علمياً بوضع علامة (✓) في المربع المقابل لها:

(1) تربة دولة الكويت تربة:

طينية زراعية رملية مختلطة

(2) تعتبر من صفات التربة الطينية :

جيدة التهوية فقيرة بالعناصر الغذائية حبيباتها مختلفة الحجم حبيباتها صغيرة جدا

السؤال الثاني : أكمل العبارات التالية بما تراه مناسباً من الكلمات :

(متوسط - قليل - كثير)

(1) حجم الماء النافذ في التربة الرملية**كثير**.....

(2) حجم الماء النافذ في التربة الطينية**قليل**.....

السؤال الثالث : اكتب بين القوسين كلمة (صحيحة) للعبارة الصحيحة وكلمة (خطأ) للعبارة غير الصحيحة في كل مما يأتي:

(1) تربة الكويت تربة طينية. (.....**خطأ**.....)

(2) صفات الصخور متشابهة. (.....**خطأ**.....)

(3) تختلف الصخور من حيث طريقة تكوينها. (...**صحيحة**...)

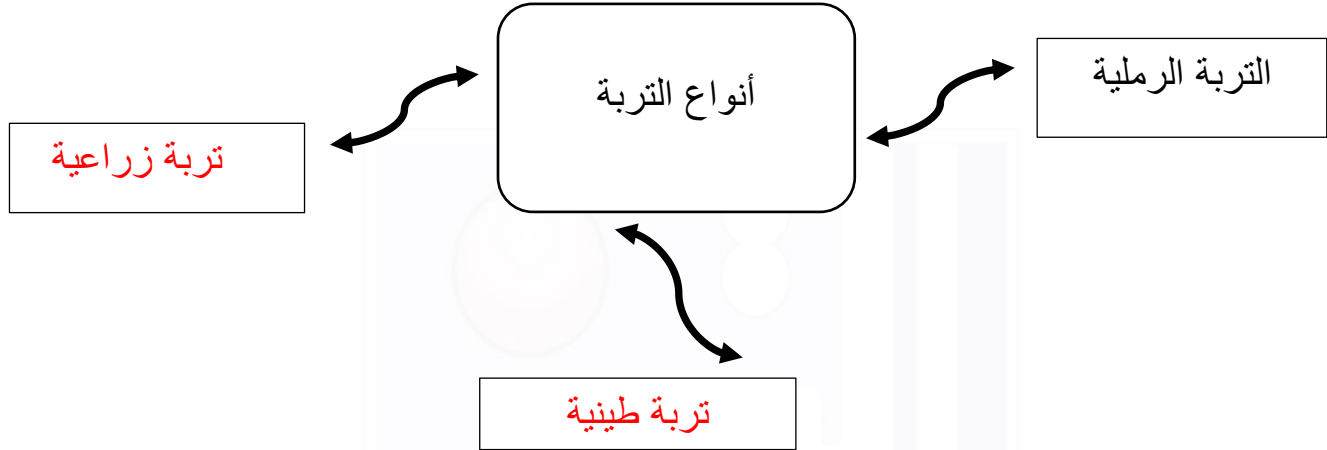
(4) يعاني المزارعون في دولة الكويت من صعوبة في زراعة الأراضي الصحراوية. (...**صحيحة**...)






ثانياً : الأسئلة المقالية :

السؤال الأول : أكمل الخريطة الذهنية التالية بما يناسبها من المفاهيم العلمية:




السؤال الثاني : أكمل البيانات على الرسم :

من خلال عينات التربة الموضحة بالشكل أدناه أكتب أسم نوع التربة لكل منها بصورة صحيحة :



تربة رملية




تربة زراعية







السؤال الثالث: من خلال الرسومات التالية أجب عما يلي:



(3)



(2)



(1)

1- التربة الشائعة في دولة الكويت رقم

(٣)

2- التربة الصالحة للزراعة رقم

(٢)

ثالثاً : سؤال TIMSS :

زرعت نبتتان من النوع نفسه في حوضين مختلفين ، تشير الصورة إلى مظهر النبتتان بعد مرور أسبوعين من الزراعة



اذكر سبباً واحداً محتملاً لعدم نمو النبتة رقم (1)

بنفس الشكل الجيد بالنبتة (2)

.... لأن التربة المستخدمة في زراعة النبتة (1)

هي التربة الطينية أو الرملية و هما غير صالحين

للزراعة بينما التربة المستخدمة لزراعة النبتة (2)

هي التربة الزراعية الصالحة للزراعة .





درس : النباتات في الصحراء (ص24-25)

أولاً : الأسئلة الموضوعية :

السؤال الأول : اختر الإجابة الصحيحة علمياً لكل من العبارات التالية بوضع علامة (✓) في المربع المقابل لها:

1- الزهرة الوطنية في صحراء بلدي موجود في نبات :

- البتونيا العرفج الرمث النخيل

2- تتميز أوراق نباتات الصحراء بأنها :

- طويلة وممتدة كبيرة وكثيفة صغيرة وشوكية كبيرة وشوكية

3 (1) - نباتات تنمو في تربة رملية جافة :

- نباتات الحديقة نباتات الصحراء نباتات المزارع نباتات الغابة

4- تنمو النباتات الصحراوية في تربة :

- رملية رطبة رملية جافة طينية رطبة طينية جافة





السؤال الثاني : أكتب بين القوسين كلمة (صحيحة) للعبارة الصحيحة وكلمة (خطأ) للعبارة غير الصحيحة في كل مما يلي:

- 1- تنمو النباتات الطبيعية دون تدخل الانسان فيها . (**صحيحة**)
- 2- تنمو في بلادي الكويت نباتات كثيرة . (**خطأ**)
- 3- للنباتات الصحراوية جذور طويلة ممتدة . (**صحيحة**)
- 4- تتميز نباتات الحديقة بأوراقها الصغيرة الشوكية . (**خطأ**)

السؤال الثالث : أكمل العبارات التالية بما تراه مناسباً علمياً :

- 1- تتحمل النباتات الصحراوية درجات الحرارة**العالية**..... .
- 2- من النباتات الطبيعية في دولتنا الكويت**العرفج / الرمث**..... .
- 3- للنبات الصحراوية أوراق**مدببة شوكية**..... .
- 4- تعتبر هي الزهرة الوطنية في بلادنا زهرة نبات**العرفج**..... .





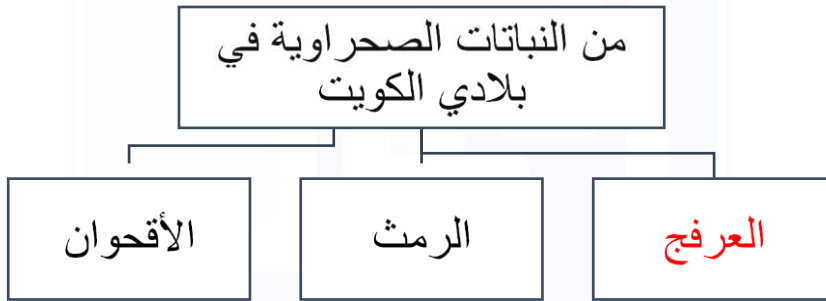
ثانياً : الأسئلة المقالية :

السؤال الأول : أكمل المنظمات الشكلية التالية بما يناسبها من المفاهيم العلمية المناسبة :

(1)



(2)



السؤال الثاني : علل لما يلي تعليلاً علمياً سليماً :

(1) للنباتات الصحراوية أوراق صغيرة الحجم ؟

..... لتقلل من تبخر المياه

(2) قلة النباتات في بلادي الكويت ؟

..... بسبب الظروف البيئية الصحراوية القاسية





السؤال الثالث : صنف الصفات التالية للنباتات تبعا لنوعها فيما يلي :

- (1) جذور طويلة
(2) أوراق كبيرة
(3) جذور قصيرة
(4) أوراق صغيرة

نبات الحديقة	نبات الصحراء
2	1
3	4

ثالثاً : سؤال TIMSS :

- أي النباتات يمكن أن تراها بكثرة في صحراء بلادك الكويت ؟

نبات (د)	نبات (ج)	نبات (ب)	نبات (أ)
1- فروعها شوكية	1- أوراقها كبيرة	1- صغيرة الحجم	1- لها أزهار وثمار
2- أوراقها صغيرة	وكثيفة	2- جذورها قليلة	2- زاحفه
3- جذورها طويلة	2- جذورها عميقة	العمق	3- أوراقها كبيرة
	3- ساقها طويل جدا	3- لها أزهار وثمار	

نبات (أ)

نبات (ب)

نبات (ج)

نبات (د)

