

تم تحميل هذا الملف من موقع المناهج الكويتية



مذكرات الصفوة

الملف مذكرة الصفوة الإثرائية للوحدة الثالثة العالم الإسلامي تحديات وحلول

موقع المناهج ← المناهج الكويتية ← الصف الثامن ← اجتماعيات ← الفصل الثاني

روابط مواقع التواصل الاجتماعي بحسب الصف الثامن



روابط مواد الصف الثامن على تلغرام

[الرياضيات](#)

[اللغة الانجليزية](#)

[اللغة العربية](#)

[التربية الاسلامية](#)


المزيد من الملفات بحسب الصف الثامن والمادة اجتماعيات في الفصل الثاني

تلخيص	1
امتحان دولة الكويت والعالم الاسلامي	2
حل التقويم لمادة الاجتماعيات	3
نموذج اجابة اختبار في مادة الاجتماعيات لنهاية الفترة الدراسية الثانية	4
نموذج الاجابة لامتحان الاجتماعيات فرواتية	5

غير مصدق
بالتصوير



60431360



@SAFWA7

الفصل الدراسي الثاني 2025م




مذكرات

الصفوة

إختيارك الأول

8

KUWAIT



اجتماعيات

اطادة

الثامن

الصف

سلسلة مذكرات الصفوة لجميع المراحل

الوحدة الثالثة: العالم الإسلامي تحديات وحلول

التلوث البيئي

- **عرف ((التلوث البيئي)):** أي تغيير غير مرغوب به في الخواص الطبيعية أو الكيميائية أو البيولوجية للبيئة المحيطة.
- **أذكر أنواع التلوث البيئي.**

- التلوث الهوائي - التلوث المائي - التلوث الضوضائي - تلوث التربة

عدد مصادر التلوث البيئي

مصادر بشرية

مصادر طبيعية

- النفايات
- الانفجارات النووية
- رش المبيدات
- الاستخدام المفرط للأسمدة

- البراكين
- الغبار

- **ما النتائج المترتبة على : تعرض عناصر البيئة الطبيعية من (هواء وماء وتربة) للتلوث.**

- تصبح خطراً وذات تأثير شديد على التوازن البيئي.

- **فرق بين سلوكيات الأفراد والمجتمعات الإيجابية والسلبية تجاه البيئة الطبيعية. ((نشاط بالكتاب))**

السلوكيات السلبية	السلوكيات الإيجابية
- الإسراف في استخدام المياه والكهرباء.	- ترشيد استخدام المياه والكهرباء.
- الإسراف في قطع الأشجار والنباتات البرية.	- الحفاظ على النباتات البرية.
- إزالة المناطق الخضراء والرعي الجائر.	- إقامة المساحات الخضراء.
- رمي النفايات على الأرض وبالأمكان العامة.	- تدوير النفايات.

- **اذكر دور دولة الكويت في مواجهة تحديات البيئة.**

- تم إنشاء مجلس حماية البيئة - إصدار قانون حماية البيئة. - إصدار قانون إنشاء الهيئة العامة للبيئة - إنشاء شرطة البيئة.



- **لاحظ الصورة المقابلة ثم أجب عما يليها من أسئلة : ((نشاط بالكتاب))**

1. ما اسم الجهاز الرقابي الذي تعبر عنه الصورة المقابلة ((شرطة البيئة))

2. في أي عام تم تأسيس هذا الجهاز ((2015)) م

3. الأمير الراحل الذي أنشاء هذا الجهاز يسمى الشيخ ((صباح الاحمد الصباح))

أ: التلوث الهوائي

• **برهن أو دلي أو أعط أمثله على تعرض بعض دول العالم الإسلامي للتلوث الهوائي.**

- **باكستان:** بلغ نسبة التلوث الهوائي بها حوالي 40% بسبب عوادم السيارات.
- **ماليزيا:** يمثل التلوث الهوائي خطراً على الشعب الماليزي نظراً للتلوث الدخاني أو الضبابي.

• **علل : للتلوث الهوائي أثر سلبي على البيئة وصحة الإنسان ؟**

• **أو عدد الآثار السلبية للتلوث الهوائي .**

- سبب رئيسي لأمراض القلب والرئة - اضطراب الجهاز العصبي. - تآكل وتلف المباني والآثار.

• **ماذا يحدث لو ، أو ما النتائج المترتبة على : تعرض منطقة زراعية ما لحريق هائل .**

- انخفاض نسبة الأوكسجين في الجو - التأثير السلبي على الكائنات الحية.
- تدمير التربة. - تدمير الأشجار والنباتات.

• **ما هي مقترحاتك للحد من تفاقم مشكلة تلوث الهواء في دول العالم الإسلامي . ((نشاط بالكتاب))**

- استخدام الطاقة البديلة . - التوسع في زراعة الأشجار . - تدوير النفايات
- استخدام الوقود قليل التلوث . - وضع أجهزة لعوادم السيارات . - تخطيط المواصلات .

• **أكمل الجمل التالية بما يناسبها :**

1. الغاز الجوي الذي يرمز له بالرمز O2 يسمى ((**الأوكسجين**))
2. الغاز الجوي الذي يرمز له بالرمز CO2 يسمى ((**ثاني أكسيد الكربون**))
3. الدولة الإسلامية الذي بلغ فيها نسبة التلوث الهوائي 40% بسبب عوادم السيارات تسمى ((**باكستان**))
4. الدولة الإسلامية التي يمثل التلوث الهوائي فيها خطراً على الشعب نظراً للتلوث الضبابي(الدخاني) تسمى ((**ماليزيا**))

ب: التلوث المائي

• **بم تفسر: التلوث المائي من أخطر أشكال التلوث البيئي ؟**

- لأن الماء هو المادة الضرورية لبقاء الحياة على سطح الأرض وأي خلل فيها سيؤدي إلى تدهور واختلال بقية نظام الحياة.

• **بم تفسر: حدوث ظاهرة الأسماك الميتة في البحار والمحيطات ؟**

- بسبب التلوث الإشعاعي الناجم عن التجارب الذرية أو النووية بالإضافة إلى مخلفات الحروب.

• **برهن أو دلل أو أعط أمثله على تعرض بعض دول العالم الإسلامي للتلوث المائي.**

- **الكويت:** تعرضت لتلوث بيئي خطير أثناء الغزو العراقي عام 1990 م وذلك بسكب كميات كبيرة من النفط الكويتي في الخليج.
- **الكويت:** تم ضخ مياه المجاري في جون الكويت في عام 2001 م مما أدى لنفوق الأسماك وتكرر هذا الأمر عام 2017 م.
- **موريتانيا:** عانت من شدة التلوث المائي نتيجة لتسرب كميات كبيرة من بقع الزيت من البواخر في عام 2017 م.

• **علل : للتلوث المائي أثر سلبي على البيئة وصحة الإنسان ؟**

• **أو عدد الآثار السلبية المترتبة على التلوث المائي .**

- هلاك الكائنات البحرية - فقدان السواحل لقيمتها الاقتصادية والسياحية - التأثير على صحة الإنسان.

• **علل : تعرض الكويت لتلوث بيئي أدى إلى نفوق الأسماك عام 2001 م و 2017 ؟**

- بسبب ضخ مياه المجاري في جون الكويت.

• **علل : معاناة دولة موريتانيا من التلوث المائي عام 2017 م ؟**

- بسبب تسرب كميات كبيرة من بقع الزيت من البواخر.

ج: التلوث الضوضائي

• **فرق بين أسباب ونتائج التلوث الضوضائي.**

مخاطر التلوث الضوضائي	أسباب التلوث الضوضائي
- التأثير على الجهاز السمعي.	- وسائل النقل المختلفة (الطائرات والقطارات).
- التأثير على الجهاز العصبي.	- عمليات البناء والهدم والحفر.
- ضعف السمع وعدم التمييز بين الاصوات.	- الاجهزة المنزلية (التلفاز والراديو)

• **أعط مثالا لأحدى مدن العالم الإسلامي التي تعاني من التلوث الضوضائي.**

- **القاهرة:** تعتبر نموذجاً للتلوث الضوضائي نظراً لوجود عدد كبير من السيارات بها.

• **أكمل الجمل التالية بما يناسبها:**

1. تعرضت دولة الكويت للغزو العراقي البائد في عام ((1990)) م
2. الدولة التي ضخت منها مياه المجاري للخليج العربي وتسببت في نفوق الاسماك عام 2001 م و 2017 م تسمى ((**الكويت**))
3. الدولة الإسلامية التي تعرضت للتلوث المائي نتيجة لتسرب كميات كبيرة من بقع الزيت من البواخر تسمى ((**موريتانيا**))
4. المدينة الإسلامية التي تمثل نموذجاً للتلوث الضوضائي لوجود عدد كبير من السيارات بها تسمى ((**القاهرة**))
5. الإزعاج أو الضجيج يمثل أحد أنواع التلوث البيئي الذي يعرف باسم ((**التلوث الضوضائي**))

د: تلوث التربة

• **عرف ((التصحّر))** هو زحف رمال الصحراء على المناطق الجافة وشبه الجافة.

• **بم تفسر: تعتبر التربة عنصراً هاماً من عناصر البيئة الطبيعية؟**

– لأنها المصدر الرئيسي لإنتاج الغذاء

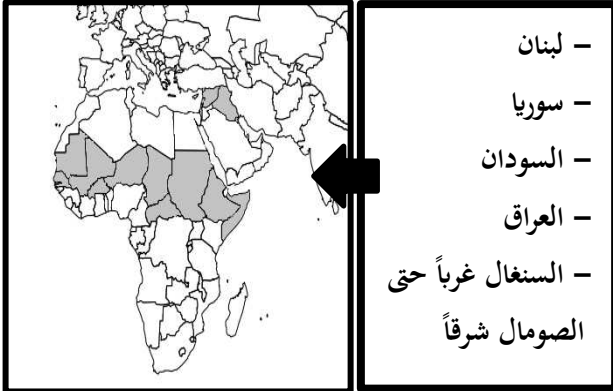
– يؤدي تدهورها وتلوثها إلى حدوث مشكلة التصحر وانجراف التربة.

• **فرق بين أسباب ونتائج تلوث التربة.**

نتائج تلوث التربة	أسباب تلوث التربة
– الإخلال بالتوازن البيئي للتربة.	– الإفراط باستخدام المبيدات الحشرية.
– ضعف عمليات البناء الضوئي للنبات.	– المخلفات الصناعية والكيميائية والبشرية.
– انحسار الغطاء النباتي.	– الأمطار الحمضية.

• **دول العالم الإسلامي التي يتراوح**

فيها نسبة التصحر من 10% إلى 50%



• **دول العالم الإسلامي التي يصل**

فيها نسبة التصحر 90%



• **أكمل الجمل التالية بما يناسبها :**

1. زحف رمال الصحراء على المناطق الجافة وشبه الجافة يعرف بـ ((**التصحّر**))

2. العام الذي عقد فيه مؤتمر الأمم المتحدة للتصحّر ((1977)) م

3. نسبة التصحر في مصر وجيبوتي ودول الخليج العربي عدا سلطنة عمان تقدر بنحو ((90)) %

4. نسبة التصحر في كل من لبنان وسوريا والسودان والعراق تتراوح بين ((10 إلى 50)) %

5. الدولة الخليجية التي لا تعاني من مشكلة التصحر تسمى ((**سلطنة عمان**))