

منطقة حولي التعليمية

اختبار نهاية الفترة الدراسية الأولى

العام الدراسي 2019/2018م

الصف الخامس

نموذج إجابة اختبار مادة

الاجتماعيات

العام الدراسي ٢٠١٨/٢٠١٩

نموذج اجابة امتحان الفترة الدراسية الأولى

وزارة التربية

الزمن : ساعة وربع

لمقرر بلادي الكويت

الإدارة العامة لمنطقة حولي التعليمية

عدد الأوراق : ٥

للسف الخامس الابتدائي

التوجيه الفني للاجتماعيات

السؤال الأول: موضوعي يتكون من ( أ، ب، ج، د، هـ )

( أ ) - ضع علامة ( √ ) أمام الخيار الصحيح بين الخيارات التي تلي كل عبارة : ( لكل نقطة درجة )

١- نباتات تتكاثر بعد سقوط المطر وتكمل دورة حياتها في فترة زمنية قصيرة تسمى: ص ٤٠

( √ ) الحولية	( ) المستمرة	( ) الدائمة	( ) المعمرة
---------------	--------------	-------------	-------------

٢- أول بئر نفطي تم اكتشافه في دولة الكويت : ص ٥٠

( √ ) بحرة	( ) الصابرية	( ) الروضتين	( ) أم قدير
------------	--------------	--------------	-------------

٣- الموسم الذي ينكسر فيه الحر وتنخفض درجة الحرارة : ص ٣٦

( ) المرزم	( √ ) سهيل	( ) الجوزاء	( ) الثريا
------------	------------	-------------	------------

٤- تقع دولة الكويت ضمن المنطقة المناخية : ص ٣٤

( ) الباردة الجنوبية	( ) المعتدلة	( √ ) الحارة	( ) الباردة الشمالية
----------------------	--------------	--------------	----------------------

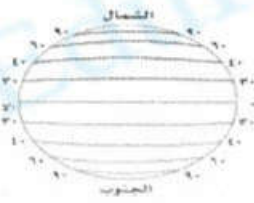
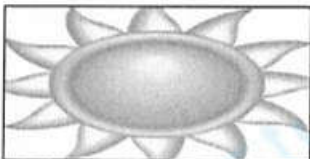
٥- موقع الدولة بالنسبة لدوائر العرض وخطوط الطول: ص ١٩

( ) الجغرافي	( ) المكاني	( ) النسبي	( √ ) الفلكي
--------------	-------------	------------	--------------

٦- العام الذي استقلت فيه دولة الكويت : ص ٥٣

( ) ١٩٦٠م	( √ ) ١٩٦١م	( ) ١٩٦٢م	( ) ١٩٦٣م
-----------	-------------	-----------	-----------

( ب ) - ضع علامة ( √ ) تحت الصورة الصحيحة ( لكل نقطة درجة )

 <p>( ) خروف</p>	 <p>( √ ) الجمل</p>	<p>١- الحيوان الذي يطلق عليه سفينة الصحراء : ص ٤٤</p>
 <p>( √ )</p>	 <p>( )</p>	<p>٢- الدائرة التي تمثل دوائر العرض هي : ص ١٨</p>
 <p>( ) شديد الحرارة</p>	 <p>( √ ) بداية أمطار</p>	<p>٣- الجو السائد في موسم الموسم : ص ٣٦</p>
 <p>( )</p>	 <p>( √ )</p>	<p>٤- جهاز قياس الضغط هو : ص ٣٣</p>

( ج ) اكتب المفاهيم الدالة على العبارات التالية :

- ١- (.....الكتبان الرملية....) تلال من الرمال تتراكم في الصحاري بفعل الرياح . ص ٢٧
- ٢- (.....الدستور.....) وثيقة مكتوبة تتكون من مجموعة من المواد التي تنظم العلاقة بين الحاكم والمحكوم وتحدد حقوق وواجبات المواطن نحو وطنهم . ص ٥٢

( د ) - صنف الأحداث التالية بوضع رقم الحدث في مكانة المناسب في الجدول الذي يليها:

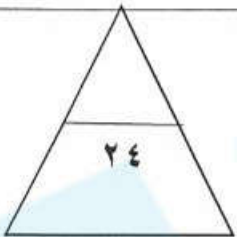
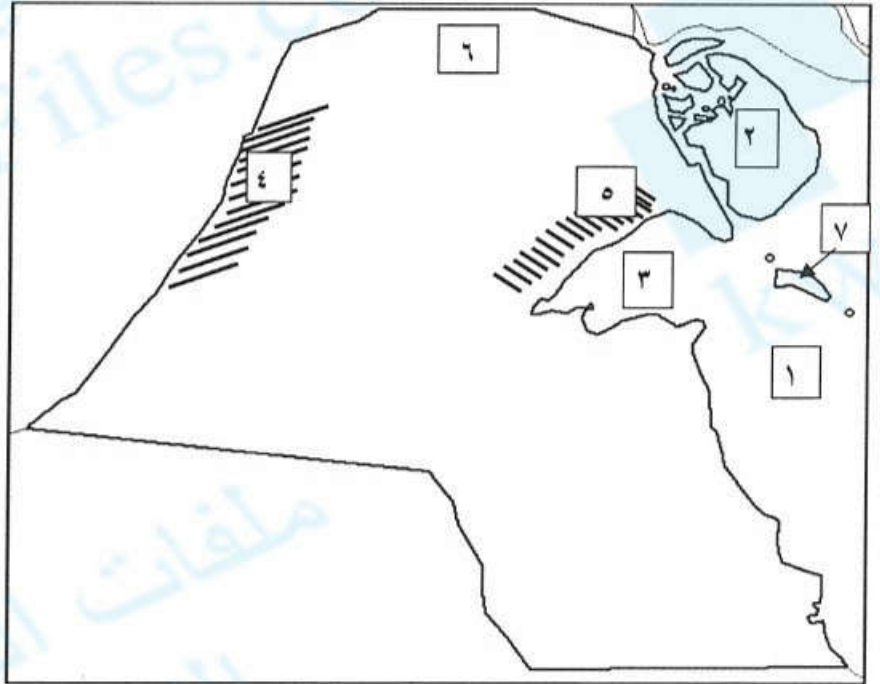
( لكل نقطة درجة ) ص ٥٠ - ٥٢

- ١- تصدير أول شحنة نفط ١٩٤٦م.
- ٢- صدور عملة جديدة هي الدينار الكويتي.
- ٣- منح امتياز التنقيب عن النفط.
- ٤- رفع العلم الجديد لدولة الكويت.
- ٥- افتتاح المدرسة الأحمدية .
- ٦ - اعداد الدستور والتصديق عليه.

الشيخ عبد الله السالم الصباح	الشيخ أحمد الجابر الصباح
٢- صدور عملة جديدة هي الدينار الكويتي .	١- تصدير أول شحنة نفط ١٩٤٦م.
٤- رفع العلم الجديد لدولة الكويت.	٣- منح امتياز التنقيب عن النفط.
٦- اعداد الدستور والتصديق عليه.	٥- افتتاح المدرسة الأحمدية .

( هـ ) لاحظ خريطة دولة الكويت ثم دون الارقام التي عليها في مكانها المناسب في الجدول المقابل: ( لكل نقطة درجة )

الخليج العربي ص ٢٦	( ١ )
جون الكويت ص ٢٦	( ٣ )
وادي الباطن ص ٢٦	( ٤ )
جال الزور ص ٢٦	( ٥ )
جزيرة بوبيان ص ٢٦	( ٢ )
العبدلي ص ٤٦	( ٦ )



السؤال الثالث : مقالتي يتكون من ( أ - ب - ج ) : ( لكل نقطة درجة )

( أ ) قارن بين كل مما يلي حسب ماهو مطلوب بالجدول : ص ١٨

وجه المقارنة	دوائر العرض	خطوط الطول
العدد	..... ١٨٠ .....	..... ٣٦٠ .....
الخط الرئيسي	.....خط الاستواء.....	.....خط جرينتش.....

( ب ) علل لما يلي :

١- قلة الغطاء النباتي في دولة الكويت ؟ ص ٤٠ ( درجتين يكتفي بنقطتين )

-التفاوت بين درجات الحرارة /وارتفاع سطوع الشمس.

-كثرة حدوث العواصف الترابية /ارتفاع نسبة التبخر

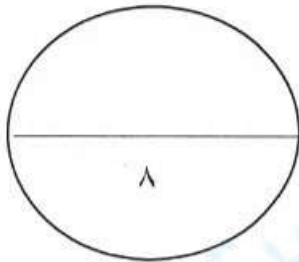
- قلة مياه الامطار وعدم انتظامها

٢- تسمية موسم المربعانية بهذا الاسم ؟ ص ٣٦ ( درجة )

- لأن البرد يستمر ٤٠ يوم

(ج) عرف المفاهيم التالية : (درجة )

١- السبخات : هي اراضي منخفضة قليلة المياه تنمو فيها النباتات الملحية . ص ٢٧



السؤال الرابع : مقالتي يتكون من ( أ - ب - ج ) .

( أ ) اذكر ما يلي : ( لكل نقطة درجة )

١- أهمية مواقع النجوم عند أهل الكويت قديماً؟ ( يكتفى بنفطتين ) ص ٣٦ .

- معرفة الاتجاهات الأصلية .

- معرفة أحوال المناخ .

٢- أهمية دوائر العرض لأي دولة في العالم ؟ ص ١٨ ( درجة ) .

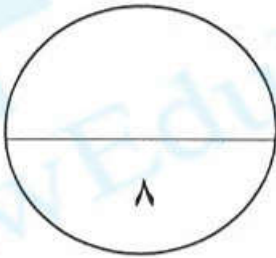
- تحديد نوع المناخ .

( ب ) اذكر عناصر المناخ : ص ٣٢ ( اربع درجات لكل نقطة درجة ) .

(١)	(٢)	(٣)	(٤)
-----	-----	-----	-----

( ج ) عرف المفاهيم التالية : ص ٣٣ ( درجة )

• السرايات : امطار رعدية تسقط في مارس وابريل ومايو



انتهت الأسئلة نتمني لكم  
التوفيق والنجاح