

تم تحميل هذا الملف من موقع المناهج الكويتية



مدرسة الملا سليمان محمد السليماناً. بنين

الملف تعلم مهارة الجمع

[موقع المناهج](#) ← [المناهج الكويتية](#) ← [الصف الأول](#) ← [رياضيات](#) ← [الفصل الثاني](#)

روابط مواقع التواصل الاجتماعي بحسب الصف الأول



روابط مواد الصف الأول على تلغرام

[الرياضيات](#)

[اللغة الانجليزية](#)

[اللغة العربية](#)

[التربية الاسلامية](#)

المزيد من الملفات بحسب الصف الأول والمادة رياضيات في الفصل الثاني

اوراق عمل	1
مذكرة الوحدة السابعة	2
توزيع مقترح لمنهج الرياضيات	3
اوراق عمل	4
نموذج اختبار أول	5



١

الصف الأول

المهارات الأساسية

almanahj.com/kw

الجمع

٢

يتعرف المتعلم في هذه المهارة على :

- يتعرف مفهوم الضم .
- يوجد ناتج الجمع عن طريق ضم العناصر .
- يجمع عددين مكون رمز كل منهما من رقمين على الأكثر.
- يستخدم خط الأعداد ليجمع .
- يحل مسألة حياتية تتضمن الجمع.
- يوظف القاعدة لإكمال الناقص .






مهارة الجمع
المستوى الأول

1

١. أكمل :

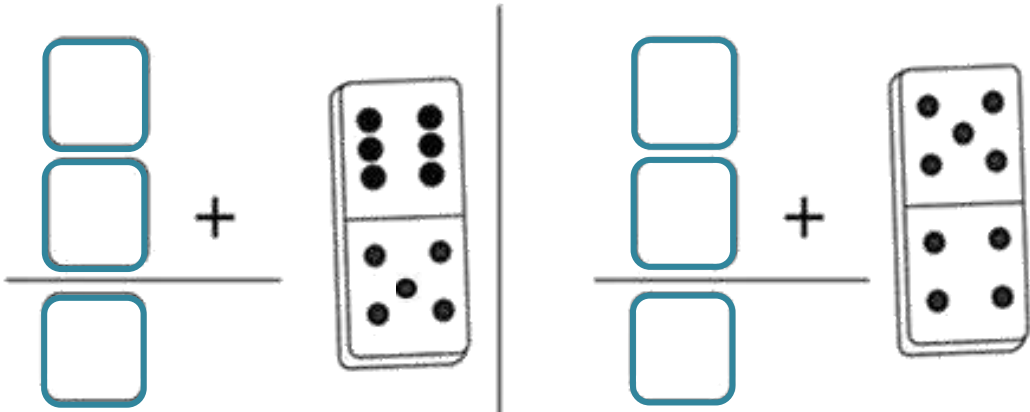


$$\square = \square + \square$$



$$\square = \square + \square$$

٢. أكمل :

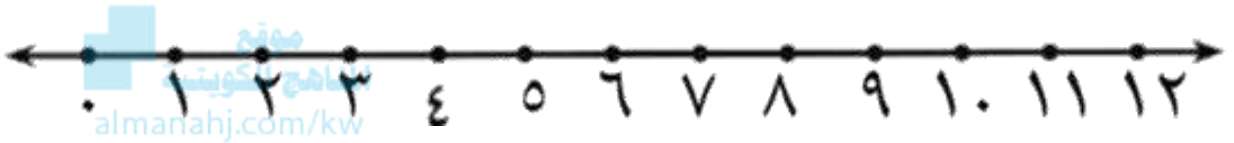




مهارة الجمع
المستوى الثاني

١

١. استخدم خط الأعداد . اجمع :



_____ = ٤ + ٣

_____ = ٦ + ٥

_____ = ٧ + ٢

_____ = ٥ + ٧

٢. صل :

١٠

٧

٨

٥

_____ = ١ + ٧

_____ = ٢ + ٣

_____ = ٤ + ٦





مهارة الجمع
المستوى الثالث



١. اختر الإجابة الصحيحة :

أ) التعبير الذي ناتجه يساوي ٩ هو :

$٤ + ٥$

$٦ + ٥$

$٤ + ٨$

ب) اختر عبارة جمع صحيحة من بين العبارات :

$١٢ = ٤ + ٣$

$١١ = ٧ + ٥$

$٩ = ٧ + ٢$

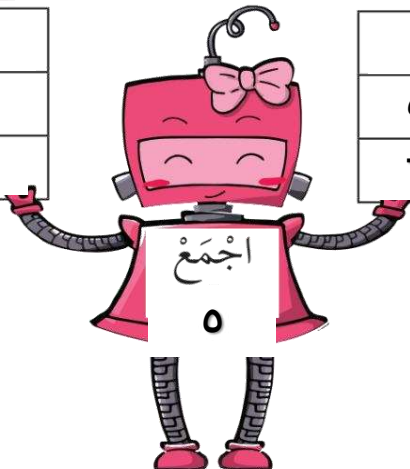
٣. أكمل :

٢. حل :

مخرجات

مدخلات

٣
٥
٦



في ٥ أقلام



أضفنا إليهم ٦ أقلام

كم قلاماً في العلبة ؟

= +

