



وزارة التربية والتعليم العالي
مكتب الوكيل المساعد للتعليم العام



نموذج الإجابة

الفترة الدراسية الثانية
(المنهج الكامل)

العام الدراسي: 2018 / 2017 م



العام الدراسي : ٢٠١٧ / ٢٠١٨ م
الزمن : (ساعتان وربع)
عدد الأوراق : (٨)

امتحان المنهج الكامل
الصف العاشر
تاريخ الكويت

وزارة التربية
التوجيه الفني العام للاجتماعيات

أجب عن ثلاثة أسئلة على أن يكون السؤال الأول إجباري :-
السؤال الأول : (إجباري) يتكون من (أ - ب - ج - د) :- (نصف درجة لكل سؤال)
أ) أكمل العبارات التالية بما يناسبها فيما درست :-

- ١ - العام الذي أجري فيه أول تعداد رسمي لسكان دولة الكويت ١٩٥٧ م ص ٢٤
- ٢ - أسر ترجع في أصولها إلى عدة قبائل أبرزها قبيلة عنزة وموطنهم الأصلي نجد تسمى العتوب ص ٤٦
- ٣ - ميناء خليجي اتخذه الاستعمار الهولندي مركزا تجاريا لهم يسمى بندر عباس ص ٥٨
- ٤ - أول وزير للخارجية في دولة الكويت يسمى ... الشيخ صباح السالم ص ٨٨



ب) ضع خطا تحت الخيار الصحيح من بين الخيارات التي تلي كل عبارة :-

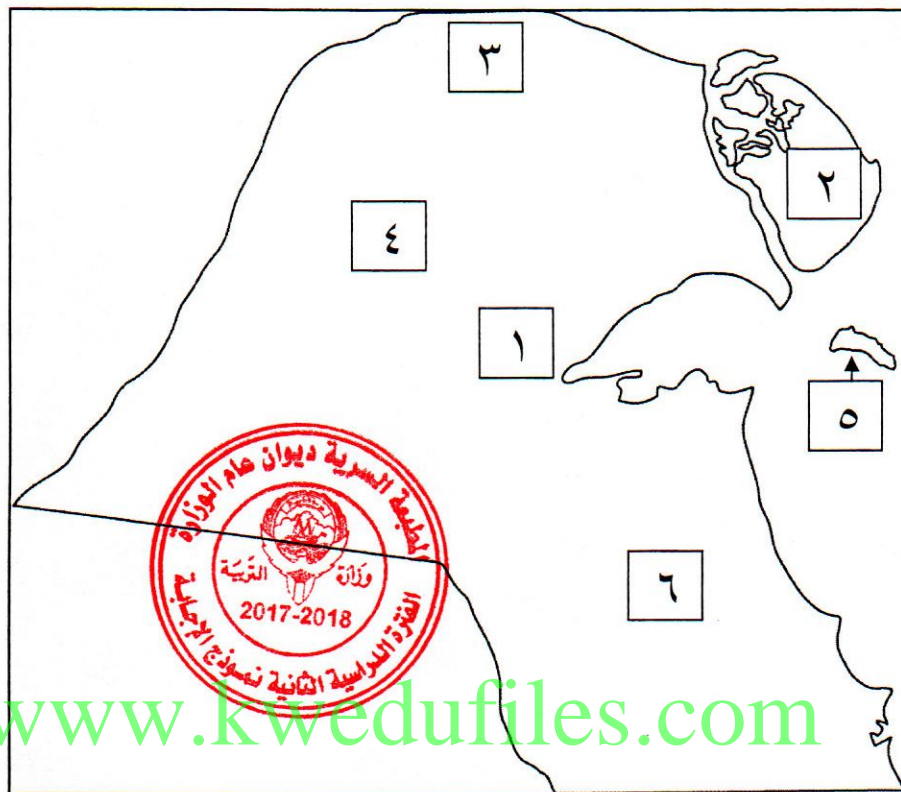
- ١ - الشخص الذي يقوم بتجديد وصناعة المساند والفرش يسمى : ص ٣٣
القفاص - الحياكة - النداف - الصفار
- ٢ - أول رئيس جمهوري لدولة العراق يسمى : ص ١٠٤
عبدالكريم قاسم - غازي بن فيصل - فيصل بن حسين - نوري سعيد
- ٣ - العام الذي أنشئت فيه المدرسة المباركية : ص ٦٥
١٩٠٨م - ١٩٠٩م - ١٩١٠م - ١٩١١م
- ٤ - المقر المؤقت للحكومة الكويتية أثناء الغزو العراقي الغاشم مدينة تسمى : ص ١٠٦
جدة - الطائف - مكة - أبها

(ج) صوب ما تحته خط في العبارات التالية :-

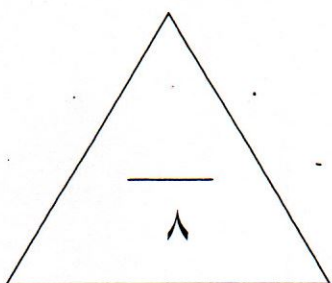
العبارة	التصويب
١ - حملة مدحت باشا حدثت في عهد الشيخ <u>صباح الثاني بن جابر</u> .	عبدالله بن صباح الثاني ص ٥٠
٢ - حدثت معركة الصريف عام <u>١٩١٠م</u> .	١٩٠١م ص ٧٠
٣ - تحمل الكويت رقم عضوية في منظمة الأمم المتحدة <u>١٢٠</u> .	١١١ ص ٩٥
٤ - الموسم الرئيسي الذي تزاوّل به التجارة يسمى <u>ترانزيت</u> .	موسم السفر ص ٣٠

تابع امتحان تاريخ الكويت - الصف العاشر - المنهج الكامل - العام الدراسي ٢٠١٧ / ٢٠١٨ م
تابع السؤال الأول :

(د) أمامك خريطة لدولة الكويت أكتب الرقم الدال على العبارات التي تليها :



- ١ - جزيرة بوبيان يمثلها على الخريطة الرقم (٢) ص ٢٢
- ٢ - كراع مرو يمثلها على الخريطة الرقم (٤) ص ٢١
- ٣ - أول حقل انتاج نفطي بكميات تجارية يمثلها على الخريطة الرقم (٦) ص ٨١
- ٤ - منطقة استقبل فيها الشيخ مبارك البعثة الألمانية عام ١٩٠٠م يمثلها على الخريطة الرقم (١) ص ٦٧



تابع امتحان تاريخ الكويت - الصف العاشر - المنهج الكامل - العام الدراسي ٢٠١٧ / ٢٠١٨ م
السؤال الثاني : (اختياري) يتكون من (أ - ب - ج) :-

(أ) فرق بين كل من :- (أربع درجات)

الدشة ص ٢٩	القفال ص ٢٩
دخول البحر	انتهاء موسم الغوص
الصفارة ص ٣٣	الصخين ص ٣٣
حرفة يدوية يقوم العاملون بها بصنع وتلميع القدور المستخدمة في الطبخ المصنوعة من النحاس والالواني المنزلية المطلية من الداخل بطبقة من القصدير التي تزول من كثرة استعمالها .	أداة تستخدم للحفر

ب (نفذ المطلوب منك ما بين الأقواس) :- (ثلاث درجات)

١ - موقف المجتمع الدولي من الغزو العراقي على دولة الكويت في عام ١٩٩٠ م . ص ١٠٦ (أذكر)

تحرك المجتمع الدولي سريعا عبر منظمة الأمم المتحدة واستطاع في وقت قصير تكوين تحالف دولي لتحرير الكويت فأصدر مجلس الأمن الدولي القرار ٦٦٠ في نفس يوم الغزو ١٩٩٠/٨/٢ م إن النظام العراقي البائد بالإنسحاب الفوري غير المشروط كما كان مجلس الأمن في حالة انعقاد دائم طوال فترة الغزو .

٢ - أسس علاقة الكويت بالدولة العثمانية . (عدد) ص ٦١ (يكتفى بنقطتين)



- شيخ الكويت مستقل في شؤونه الداخلية .

- منح شيخ الكويت لقب قائم مقام .

- أهالي الكويت لا يلتزمون بدفع رسوم أو ضرائب للباب العالي .

- إلزام السفن الكويتية برفع العلم العثماني مع إعفاء السفن الكويتية من دفع أي رسوم .

٣ - وجود فترة سياسية عصبية في عهد الشيخ أحمد الجابر الصباح . (برهن)

(٧٩) (يكتفى بنقطتين)

- مشكلة الحدود والمسابلة مع السعوديين .

- معالجة علاقات الكويت مع العراق .

- الحذر في المعاملة مع بريطانيا حيث لم ينصفوا الكويت في معاهدة العقير عام ١٩٢٢ .

تابع امتحان تاريخ الكويت - الصف العاشر - المنهج الكامل - العام الدراسي ٢٠١٧ / ٢٠١٨ م
ج (أكتب مما درست عن :-)

١ - عوامل نمو وازدهار الكويت تحت حكم آل صباح . ص ٥٣ (درجتين) (يكتفى بنقطتين)

- موقع الكويت الاستراتيجي على الجزء الغربي للخليج العربي .

- طبيعة نظام الحكم المعتمد على العدل والشورى والأمن وهو أمر مهم بالنسبة لنهضة الاقتصاد وتطور البلاد .

- وجود علاقات متوازنة مع القوى المجاورة .

- التسهيلات التي كانت تمنح لتجار البادية والتي كانت تسوى تجارة المسابرة مما جعل الكويت المقر الرئيسي للبضائع داخل الجزيرة العربية .

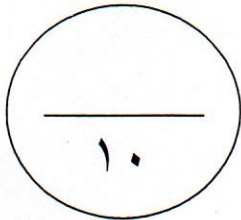
- الصفات التي تميز بها أهل الكويت من التسامح والانفتاح على الآخرين .

٢ - مظاهر إهتمام الشيخ مبارك الصباح بالصحة . ص ٦٥ (درجة)

وافق على تأسيس أول مستشفى عام ١٩١١م والذي أطلق عليها المستشفى الأمريكي



www.kyedufiles.com



تابع امتحان تاريخ الكويت - الصف العاشر - المنهج الكامل - العام الدراسي ٢٠١٧ / ٢٠١٨ م
السؤال الثالث : (اختياري) يتكون من (أ - ب - ج) :-

أ) علل لما يأتي :-

١ - اتجاه معظم الكويتيين قديما إلى العمل في النشاط البحري . ص (٢٦) (درجة)

تقع دولة الكويت في منطقة صحراوية قليلة المواد شحيحة الأمطار وأرضها غير صالحة للزراعة ولهذا كان النشاط البحري هو النشاط السائد قديما وذلك بالتوازي مع مشاركة النشاط البري .

٢ - عوامل ازدهار صناعة السفن في دولة الكويت قديما . (ص ٢٧) (درجتين) (يكتفى بنقطتين)

- هبوب الرياح الموسمية على منطقة الخليج العربي والتي ساعدت على دفع السفن نحو شواطئ الهند وشرق آسيا .
- توفر الأيدي العاملة لصناعة السفن .

- تمتع الكويت بواجهة بحرية طويلة تمتد من شمالها إلى جنوبها ويتخللها العديد من التعرجات فضلا عن وجود جون الكويت شمالا وانتشار العديد من الجزر في مياهاها الإقليمية ووجود النقع والعمائر الساحلية .

- توفر مصادر المواد المستخدمة في صناعة السفن .

- براعة الأساتذة والقلاليف . فالأستاذ هو الذي يقوم بتصميم السفينة والقلاليف يأتي في المرتبة الثانية وهو الذي يقوم بعملية إعداد المواد اللازمة للصناعة ثم عملية بناء السفينة نفسها .

www.kuvedufiles.com

ب) دلل على صحة العبارات التالية :-

١ - حرص حكام الكويت على اتخاذ قرارات ساعدت على النمو التجاري والاقتصادي . ص ٥٢ (درجتين)

- قلة الضرائب على البضائع القادمة للكويت . (يكتفى بنقطتين)

- تشجيع بناء سفن الغوص وتأمين طرق التجار المارة عبر أراضيها حيث أصبحت الكويت سوقا لسكان البادية ووسط نجد .

- اجتذاب الوكالات التجارية التابعة للشركات الأوروبية العاملة في الخليج العربي حيث انتقلت الوكالة البريطانية للكويت مرتين الأولى عام ١٧٩٣ م والثانية عام ١٨٢١ م .

- لعب التجار الكويتيين دور الوسطاء التجاريين مما ساعد على بناء علاقات تجارية بين الكويت ومناطق دول الجوار .

٢ - أهمية اليعاربة في منطقة الخليج العربي في أواخر القرن السادس عشر الميلادي . ص ٥٨ (درجة)

- ساهمت في تصفية الوجود البرتغالي في الخليج العربي وطردهم من المنطقة .

٣ - سعي الروس نحو تعزيز نفوذهم في دولة الكويت . ص ٦٦ (درجة)

- إنشاء محطة للفحم وميناء لتزويد سفنها بالوقود . - جعل الكويت نهاية خط سكة حديدية مشروع كابنست .

تابع امتحان تاريخ الكويت - الصف العاشر - المنهج الكامل - العام الدراسي ٢٠١٧ / ٢٠١٨ م
(ج) عرف ما يلي :- (ثلاث درجات)

١ - أزمة الصامته . ص ١٠٥

كانت في عام ١٩٧٣م هاجمت القوات العراقية مركز الصامته لحدودي التابع لدولة الكويت بل توغلت لمسافة ٣ كم داخل الأراضي الكويتية واستشهد عدد من العاملين في المركز من الكويتيين .

٢ - القلاف . ص ٢٧

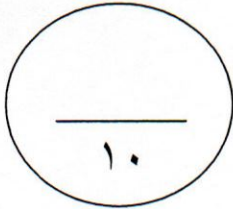
هو الذي يقوم بعملية اعداد المواد اللازمة للصناعة ثم عملية بناء السفينة نفسها .

٣ - الجوار الجغرافي . ص ١٠٣

المناطق المتقاربة من بعضها بعضا وما لها من خصائص مشتركة حيث يفصل بينها حدود طبيعية أو سياسية .



www.kwvedufiles.com



السؤال الرابع : (اختياري) يتكون من (أ - ب - ج) :-

(أ) قارن بين كل من :- ص ٢٣ (ثلاث درجات)

وجه المقارنة	الرياح الشمالية الغربية	العواصف الترابية (السرايات)
الموسم	تهب معظم أيام السنة (نصف درجة)	تهب في أواخر الربيع وأوائل الصيف (نصف درجة)
المميزات	رياح جافة بفعل المرتفع السيبيري المتمركز في شمال القارة الآسيوية ولها أثر واضح في خفض درجة الحرارة خاصة في فصل الصيف لكنه يصبح قارس البرودة في فصل الشتاء . (درجة)	مصحوبة عادة بعواصف رعدية يسقط بسببها المطر الشديد في أواخر الربيع وأوائل الصيف ويطلق عليها السرايات . (درجة)

(ب) أكتب مما درست عن :- (أربع درجات)



www.kwedufiles.com

١ - مهام المجلس التشريعي . ص ٨٠ (يكتفى بنقطتين)

- إدارة شئون مدينة الكويت الداخلية بالتعاون مع حاكم الكويت
- إدارة الجمارك والأسواق وحل الصراعات بين تجار الأسواق
- وضع ميزانية للإمارة

٢ - سياسة الشيخ جابر الأحمد الخارجية . ص ٩١ (يكتفى بنقطتين)

حرص على إقامة علاقات الود والتفاهم والمصالح المتبادلة مع أغلب شعوب العالم والتي تجسدت بوضوح في إنجازاته التالية :

- صاحب فكرة إنشاء مجلس التعاون الخليجي عام ١٩٨١ مويضم دول الخليج العربي .

- حرب اليمن : حرص على تحقيق الوحدة بين اليمن الجنوبي والشمالي .

- الحرب العراقية الإيرانية : استمرت الحرب بين العراق وإيران ما بين ١٩٨٠ م - ١٩٨٨ م حيث انهكت قوى البلدين وأثر ذلك على دولة الكويت حيث تعرضت سفنها الحاملة للبترول للعنوان إلا ان سياسة الكويت المتوازنة وعدم اندفاعها وحكمة الشيخ جابر الأحمد الصباح جنبها الدخول المباشر في هذه الحرب .

٣ - المساعدات الإنسانية الكويتية في عهد الشيخ صباح الأحمد . (يكتفى بنقطتين)

- إغاثة جمهورية بنغلادش التي تعرضت لإعصار سيذر .

- تقديم المساعدات لليابان بعد تسونامي .

- ارسال مساعدات إغاثية للصومال للتخفيف من آثار الجفاف .

- دعمت تركيا بعد زلزال فان .- قدمت مساعدات إلى دولة الفلبين جراء تضررها من اعصار هايان .

تابع امتحان تاريخ الكويت - الصف العاشر - المنهج الكامل - العام الدراسي ٢٠١٧ / ٢٠١٨ م
٤ - متطلبات النظام العراقي لعام ١٩٩٠م من دولة الكويت . ص ١٠٦ (يكتفى بنقطتين)

- إلغاء ديون تقدر بـ ١٢ مليار دولار .

- تعويضها عن البترول الذي تدعي بأنه أخذ من الجزء العراقي من حقل الرميطة الجنوبي . - تأجير جزيرتي وربة وبوبيان .

- تقديم مبلغ ضخم غير محدد كنواة لمشروع تنموي كبير للعراق .

(ب) نفذ المطلوب منك ما بين الأقواس : - (ثلاث درجات)

١ - تعد فترة الشيخ جابر الأول فترة ازدهار في المجال البحري في دولة الكويت . (برهن) (٥٠)

- تطورت صناعة السفن الكبيرة الخاصة بالنقل التجاري .

- استطاع الكويتيون الوصول لسواحل مختلفة لنقل البضائع منها وإليها

٢ - اهتمام بريطانيا بمنطقة الخليج العربي . (علل) ص ٥٩

لأنه طريق حيوي لحماية امبراطوريتهم في الهند والقشرة الواقية التي تحمي مصالحهم هناك كما قامت بريطانيا بتوسيع نفوذها السياسي وتعزيز وجودها العسكري بشكل يضمن لها تحقيق الانفراد بالخليج بشكل كامل كذلك أظهرت نوايا وأهداف السياسة الجديدة لبريطانيا والرامية إلى تدعيم نفوذها بالمنطقة دون منافسة . وذلك بعد أن كان لا يعدو أن يكون أكثر من تنافس تجاري فسرعان ما أصبح الخليج بعد خروج البرتغاليون والهولنديون مثار اهتمام خاص من قبل البريطانيين ومورد تنافس بينها وبين القوى الأخرى .

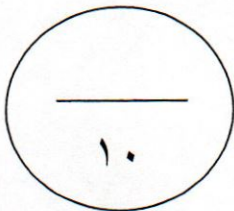
٣ - إتفاقية الحماية البريطانية عام ١٨٩٩م مع دولة الكويت . (أثرها) (يكتفى بنقطة واحدة)

- حفظت استقرارها وتطور أوضاعها في الكويت ودعم قدراتها في مواجهة الأخطار الخارجية والداخلية . ص ٦٨

- حمت الكويت بموجبها حدودها من الاطماع المحيطة بها . ص ٦٩

- ابطال الادعاءات والمطامع المزعومة للجانب العراقي في فترة من الفترات . ص ١٠٣ .

(أو أي إجابة صحيحة يراها المعلم)



" انتهت الإجابة مع تمنياتنا لكم بالتوفيق "