

مدرسة رقية بنت محمد المتوسطة بنات
قسم الاجتماعيات



الدراسات الاجتماعية

الكويت والعالم

بنك معلومات الصف التاسع
 منهج الكويت والعالم
٢٠١٧/ ٢٠١٨
 الفترة الثانية

تدقيق
الأستاذة
القديرة

عالية
الدواس

اعداد
رئيسة قسم
الاجتماعيات
الأستاذة

جليلىة
الدغيم



١- أكمل العبارات الآتية بما يناسبها :

- بلغ سكان العالم في عام (٢٠٠٣) حوالي ٦ مليارات نسمة.
قارة غير مأهولة بالسكان تسمى القارة القطبية الجنوبية
أكبر قارات العالم من حيث المساحة هي قارة آسيا
أصغر قارات العالم من حيث المساحة هي قارة أستراليا
٢- صنف المظاهر التضاريسية للقارات :

| الملامح التضاريسية للقارات | | | | | | |
|----------------------------|-------------------|-----------------------|---------------|----------------|-----------------|-----------------|
| التضاريس | آسيا | أفريقيا | أوروبا | أستراليا | أمريكا الشمالية | أمريكا الجنوبية |
| جبال | زاجروس - الهملايا | أطلس | الألب | الألب | الابلاش / روكي | الأنديز |
| هضاب | الدكن - التبت | الصحراء الكبرى الشطوط | الميزيتا | الهضبة الغربية | لورنشيا | هضبة البرازيل |
| سهول | تهامة | سهول البحر المتوسط | السهل الأوربي | سهول ساحلية | سهول الوسطى | السلفاس |

١- أكمل العبارات الآتية بما يناسبها :

- أكثر قارات العالم تركيز سكاني هي قارة آسيا .
ينقسم العالم إلى دوله متقدمة ودول نامية.
يتركزون سكان العالم في المناطق السهلية ويقبلون في المناطق الجبلية.
تعاني الدول النامية من مشكلات منها سوء توزيع السكان والنمو السكاني السريع
٢- عرف المفاهيم التالية :

| | |
|--------------------------|---|
| المشكلات السكانية | الصعوبات والعقبات التي تقف في وجه الطاقة البشرية بتعطيل حركتها دون القيام بدورها في الإنتاج والبناء . |
| الأوقيانوسيا | قارة أستراليا والجزر المحيطة بها. |
| القارة القطبية الجنوبية: | انتاركتيكا هي قارة مدفونة تحت غطاء جليدي هائل وتم اكتشافها في القرن ٢٠ وتقع في المحيط الهادي |
| معدل النمو السكاني: | مجموع معدل النمو الطبيعي وغير <input type="checkbox"/> |
| العوامل الديموغرافية | يقصد بها تلك العوامل التي تؤثر في عدد السكان (النمو الطبيعي والنمو غير طبيعي) |
| الميزان التجاري : | يطلق على قيمه صادرات وواردات الدولة خلال سنة <input type="checkbox"/> |

| | |
|--|---|
| معدل النمو غير الطبيعي | معدل النمو الطبيعي : |
| زيادة عدد السكان عن طريق الهجرة. | معدل المواليد - معدل الوفيات. |
| البلدان النامية: | البلدان المتقدمة: |
| هي الدول التي مازالت أقل تقدما في ميادين الاقتصاد والعلم والتكنولوجيا. | هي الدول التي أحرزت تقدما كبيرا الثراء المادي والتقدم العلمي والتطور التكنولوجي والتفوق الحضاري |

أ- عددي العوامل المؤثرة في توزيع السكان

١- العوامل الطبيعية. التربة. الثروات المعدنية. المناخ. التضاريس. النبات الطبيعي

٢- العوامل الاقتصادية الرعي. الصناعة. التجارة. الزراعة ٣- العوامل الديموغرافية

ب- ماهي النتائج المترتبة على سوء توزيع السكان والنمو السكاني السريع

١- انخفاض في الناتج القومي ٢- عجز في الميزان التجاري ٣- انخفاض في مستوى المعيشة

ج- علي يتركزون السكان في المناطق السهلية ويقلون في المناطق الجبلية

يتركز السكان في المناطق المعتدلة مناخيا أكثر من المناطق الحارة والباردة

لتوفر مقومات الاستقرار السكاني وسهولة العيش والقيام بأنشطة اقتصادية

نماذج لبعض دول العالم أ- استراليا :-

| | |
|--------------------|---|
| السبخة | عبارة عن أرض تبخر عنها الماء وبقيت عليها طبقة مالحة. |
| الاقويانوسيا | قارة استراليا والجزر المحيطة بها. |
| الاتحاد الفيدرالي: | اتحاد مجموعة من الدول بمقتضى دستور في شكل اتحاد دائم لتسوده حكومت مركزية تمارس سلطتها بطريق مباشر على الولايات. عام ١٩٠١م |
| الحاجز المرجاني | عبارة عن رواسب مرجانية تمتد على شكل سلسلة من الصخور في البحار الضحلة الدافئة حيث مستعمرات حيوان المرجان. |

قارني بين كل من :

| | |
|--|--|
| الواردات في استراليا | الصادرات في استراليا |
| السلع والخدمات التي تشتريها البلد من العالم الخارجي مثال المعدات المصنعة النفط (من دول الخليج العربية) | السلع والخدمات التي تبيع للبلاد الأجنبية. السلع المصنعة من المنتجات الزراعية المعادن الوقود الحفري |



أكمل الفراغات التالية :

- ١- اصغر القارات من حيث المساحة وتعتبر من ضمن الدول الاوقيانوسية استراليا
 - ٢- تقع دولة استراليا بالنسبة لقارة اسيا في جهة الجنوب الشرقي .
 - ٣- اكبر جزيرة في العالم تسمى استراليا
 - ٤- يرجع اصول سكان استراليا الي اصول الاروميون
 - ٥- قام المستوطنون الأوروبيون في بناء اول مستوطنة في مدينة سيدني عام ١٧٨٨م
 - ٦- توجد أضخم صخرة في العالم في قارة استراليا
 - ٧- وجود اكبر حاجز مرجاني في العالم في قارة استراليا
 - ٨- اصبحت دولة مستقلة ذات سيادة في عام ١٩٤٢ وتم تأسيس لبرلمان وطني
 - ٩- قام الاتحاد الفيدرالي الاسترالي عام ١٩٠١
- عددي ملامح السطح في قارة استراليا :

الجهة الشرقية ١- المرتفعات الشرقية ٢- اكبر حاجز مرجاني في العالم ٣- أضخم صخره في العالم
الجهة الغربية ١- الهضبة الغربية ٢- تكثر فيها البحيرات والسبخات
عددي انواع المناخ الذي تمتاز به دولة استراليا :

مناخ التندرا (يمتاز بالقسوة وتنخفض درجة الحرارة في الشتاء إلى ما دون الصفر)
المناخ المعتدل (يمتاز بالدفء في فصل الصيف وبارد في الشتاء)
المناخ الصحراوي (ارتفاع درجة الحرارة في الصيف وانخفاضها في الشتاء وقلّة تساقط الأمطار)
اذكري اهم الانشطة الاقتصادية في قارة استراليا :

- ثروة الرعوية. (الصوف) عللي: تشتهر استراليا بإنتاج الصوف
- ثروة الزراعية (القمح، الأرز، والفاكهة والخضروات)

مجال التكنولوجيا والصناعة- مجال السياحة - لديها أكبر مساحة للصيد البحري (عللي) لأنها أكبر جزيرة في العالم

نماذج لبعض دول العالم ب - الهند :-

ص ٨٨ - ٩١

١- أكمل الفراغ التالي :

- حصلت الهند على استقلالها عام ١٩٤٧ .
- سيطر الاستعمار البريطاني على الهند قرابة ثلاث قرون متتالية .
- خضوع الهند للاستعمار الأوروبي منذ وصول الرحالة فاسكودي جاما
- يزيد عدد سكانها اليوم على المليار ومائة مليون نسمة حسب عام موسوعة إنكارتا
- تحتل الهند بالنسبة لدول العالم من حيث المساحة المرتبة السابعة
- الدولة التي تجاور الهند من جهة الشمال الغربي هي باكستان
- ثاني أكثر البلدان في العالم من حيث التعداد السكاني هي الهند
- تقع الهند بالنسبة لقارة اسيا في جهة الجنوب
- تقع الهند بين دائرتي عرض ٨ - ٣٧ شمالا
- قام فاسكودي جاما برحلته فخرج بأسطول دار فيه حول جنوب أفريقيا رأس الرجاء الصالح

٢- عددي اهم المناطق الصناعية في الهند

مدراس - كلكتا - نيودلهي (العاصمة) - مومباي

٣- اذكري اهم الملامح التضاريسية في دولة الهند

١. الجهات الشمالية جبال الهملايا ٢- هضبة الدكن ٣- نهر الكانج

٤ اذكري اهم الانشطة الاقتصادية في دولة الهند

١- تشتهر الزراعة (الارز) ٢- الصناعات اليدوية (انسجة، الذهب، الفضة)

٣. تربية الحيوانات: (الابقار والجواميس والأغنام والماعز)

٤. الثروة المعدنية (الفحم الحجري الحديد البوكسيت النحاس الرصاص الذهب).

٥. التجارة من صادرات الهند (المنتجات الزراعية، المنسوجات، الاحجار الكريمة، والمجوهرات) ومن اهم وارداتها النفط

٥. عللي ماهي المشكلات السكانية التي تعاني منها الهند

الهند هي ثاني أكثر البلدان في العالم من حيث التعداد السكاني

تعدد الديانات واللغات يتحدثون ٢٢٠ لغة ولغة الرسمية لبلادهم اللغة الهندية تعاقب الاستعمارات عليها لمدة ثلاث قرون.



نماذج لبعض دول العالم ج- اليابان :-

١- أكمل الفراغ التالي :

١. تعتبر اليابان جزء مما يسمى بـ (حلقة المحيط الهادي النارية)
٢. تقع اليابان في منطقة بركانية وتتجلى مظاهرها في أمواج التسونامي
٣. تمتد اراضي اليابان في الاقاليم المعتدلة الدافئة والباردة بين دوائر عرض ٢٦ - ٤٦ شمالا
٤. الدول القريبة من اليابان هي كوريا الشمالية والجنوبية
٥. يبلغ عدد السكان في اليابان حوالي ١٢٧ مليون نسمة.

٢- عرف كل من :

الحلقة النارية : زلازل مدمرة

الأسطول: مجموعة من السفن.

ص 92-94

اليابان

٢- عددي اهم المناطق الصناعية في

منطقة طوكيو ويوكوهاما . نجازاكي

٤. اذكر اهم الملامح التضاريسية في دولة اليابان

١. تشكل المساحة الجبلية حوالي ٧٣٪ من المساحة الكلية.

٢. تقع اليابان في منطقة بركانية ٤. اليابان دولة مشتتة الشكل تتألف من ٤ آلاف جزيرة

٣. لها سواحل طويلة تتميز بكثرة تعاريجها وكثرة اشباه الجزر والخلجان

٥. اذكر اهم الانشطة الاقتصادية في دولة اليابان

١- تشتهر بزراعة محاصيل الحبوب (القمح ، الذرة ، الشعير ، الأرز) - تتوفر على طول سواحلها مصايد ممتازة للأسماك ٣-

تستورد اليابان كميات هائلة من الخامات اللازمة للصناعة من الخارج (البترول ، الحديد الخام

٦- عللي تعتبر اليابان نموذجا ممتازا للدول المتقدمة

• بسبب دور السكان في بنائها ومدى قدرتهم على تذليل العقبات والتغلب على الصعوبات

• عللي زراعة الأرز في شمال هوكايدو

• حيث المناخ المعتدل البارد وعلى شكل مدرجات واستخدام وسائل التدفئة للتربة واستنباط سلالات من البذور

٧- ماهي جهود سكان اليابان للتغلب على الصعوبات

• ١- إعادة بناء دولتهم بعد هزيمتهم في الحرب العالمية الثانية.

• ٢- ربط الجزر بشبكة من الجسور والأنفاق العملاقة والطرق السريعة وخطوط السكك

٨ عددي أهم الصناعات اليابانية

• الصناعات الكيماوية - وسائل النقل - الأجهزة والأدوات الكهربائية

٩- تمكنت اليابان من القضاء على الشكل المشتت لدولتهم

بانشاء شبكه من الجسور والأنفاق العملاقة

والطرق السريعة وخطوط السكك الحديدية

١٠ ما فائدة كثرة تعاريج وكثرة أشباه الجزر والخلجان في اليابان؟

تعتبر مصائد ممتازة للأسماك .



| مقارنة | استراليا | الهند | اليابان |
|---|--|---|---|
| الموقع | جنوب شرقي لقارة اسيا | جنوب قارة اسيا | تقع شرق اسيا |
| المكان | تقع على المحيط الهادي شرقا والمحيط الهندي غربا | تطل على بحر العرب والمحيط الهندي | تقع على المحيط الهادي |
| المساحة السكانية | تعد استراليا اصغر قارات العالم من حيث المساحة | ثاني اكثر البلدان في العالم من حيث التعداد السكاني السابعة بالنسبة لدول العالم من حيث المساحة | يبلغ عدد السكان في اليابان حوالي ٢٢٧ مليون نسمة . |
| اهم المدن | سيدني | مدراس - كلكتا - نيودلهي (العاصمة) - مومباي | طوكيو (العاصمة) - ويوكوهاما - نجازاكي |
| الملامح التضاريسية | الجهة الشرقية ١- المرتفعات الشرقية ٢- اكبر حاجز مرجاني في العالم ٣- اضخم صخره في العالم الجهة الشرقية ١- الهضبة الغربية ٢- تكثر فيها البحيرات والسبخات | الجهات الشمالية جبال الهملايا هضبة الدكن ، نهر الكانج | تشكل المساحة الجبلية حوالي ٧٣٪ من المساحة الكلية. تقع اليابان في منطقة بركانية ٣. اليابان دولة مشتتة الشكل تتألف من ٤٠٠٠ آلاف جزيرة ٤. لها سواحل طويلة تتميز بكثرة تعاريجها وكثرة اشباه الجزر والخلجان |
| المناخ: | مناخ التندرا (يمتاز بالقسوة وتنخفض درجة الحرارة في الشتاء الى ما دون الصفر) المناخ المعتدل (يمتاز بالدفء في فصل الصيف وبارد في الشتاء) المناخ الصحراوي (يمتاز بارتفاع درجة الحرارة في الصيف وانخفاضها في الشتاء وقلّة تساقط الأمطار) | بالمناخ الموسمي الحار الممطر صيفا ويسودها مناخ بادر قاسي في المناطق الشمالية من جبال الهملايا | تمتد اراضي اليابان في الاقاليم المعتدلة الدافئة والباردة بين دوائر عرض ٢٦ - ٤٦ شمالا |
| الانشطة الاقتصادية | ثروتها الرعوية. (الصوف) ثروة زراعية (القمح، الأرز، والفاكهة والخضروات) مجال التكنولوجيا والصناعة مجال السياحة لديها أكبر مساحة للصيد البحري | الزراعة (الأرز) ٢- تربية الحيوانات: (الابقار والجواميس والاعنام والماعز) ٣- الثروة المعدنية (الحديد والنيكل والذهب). الصناعات اليدوية (انسجة، الذهب، الفضة) ٥. التجارة من اهم صادرات الهند (المنتجات الزراعية، المنسوجات، الاحجار الكريمة، والمجوهرات) ومن اهم وارداتها النفط . | ١- تشتهر بزراعة محاصيل كثيرة مثل: الحبوب (القمح، الذرة، الشعير، الأرز) ٢- تتوفر على طول سواحلها مصايد ممتازة للأسماك ٣- تستورد اليابان كميات هائلة من الخامات اللازمة للصناعة من الخارج (البتترول، الحديد الخام) |
| لها علاقة ثقافية وتجارية متبادلة يكون فيها تبادل البضائع واستيراد النفط | | | |

عرفي المفاهيم التالية :

| | |
|------------------|--|
| الاتصال | هي عملية تبادل بين المعلومات بين الافراد من خلال الرموز والسلوك المنقول بواسطة الرسائل الشفهية. |
| الاقمار الصناعية | اجسام تدور حول الارض بسرعة دورانها حول نفسها، ويغطي القمر منطقة جغرافية معينة ويستقبل المعلومات ويعيد بثها . |
| الحاسوب | جهاز يستعمل في مجالات المحاسبة وتخزين المعارف والاتصالات. |
| الانترنت | شبكة عملاقة للمعلوماتية متعددة الوسائل غير مركزيه ومترابطة بين ملايين الحواسيب من أي نظام اتصال. |

اذكري مهام الحاسوب

١. تخزين المعلومات. ٢. اعادة عرضها او طبعا ٣. بثها ويمكن وصله بأجهزة الاتصال فيتلقي المعلومات ويجب عليها.
- ما فائدة الانترنت كجزء من ثورة الاتصالات والمعلومات
- كثافة التخاطب وتبادل المعلومات
- عللي استخدم الانسان وسائل عديدة لنقل المعلومات
- في اوقات السلم والحرب لتوصيل الرسائل من مكان لآخر
- عللي يعتبر الحاسوب اعظم اختراع عرفته البشرية
- يدخل استخداماته في جميع مجالات الحياة اثبت بأنه ذو كفاءة عالية ويوفر الوقت والجهد والتكاليف.

قارني بين كل من :

| | |
|--------------------------------------|--|
| وسائل الاتصال قديما | وسائل الاتصال حديثا |
| النار والدخان والحمام الزاجل والخيول | التلغراف- الهاتف- التلفزيون- الإذاعة- الحاسوب - الانترنت - الاقمار الصناعية |

| | |
|--|--|
| الاقمار الصناعية حسب نوع المدار | المميزات |
| ١- اقمار تدور مع الارض دوران تزامن على ارتفاع عالي | تتميز بقدرتها على تغطية الموقع بفترات زمنية متقاربة. |
| ٢- اقمار تدور حول الارض من القطب الى القطب | تتميز بقدرته على تغطية كل الارض . |
| ٣- اقمار تدور حول بموازاة خط الاستواء | الارتفاع متدن وهي قليلة الاستعمال وعالية الكلفة. |

ما هي العلاقة بين المواطن ووطنه:

حقوق (التعليم والسكن) واجبات (الدفاع عن الوطن والعمل التطوعي)
ما دور الفرد كمواطن الشعور بالانتماء والولاء للوطن والهوية التي يحملها الانسان وماله وما عليه
عددي مبادئ الديمقراطية: الحرية - المساواة - سيادة القانون - حكم الشعب
اذكري العناصر التي تحدد الرأي العام:

١- وجود قضية او مسالة تكون محل اهتمام الناس

٢- وجود عدد من الافراد لديهم اهتمام بالقضية أي وجود جمهور للرأي العام

٣- التعبير او الافصاح عن الرأي او وجهة النظر سواء بالكلمة المكتوبة او المنطوقة

عددي أهم العوامل المؤثرة في تشكيل الرأي العام؟

١- وسائل الإعلام المختلفة ٢- القيم

ماهي عوامل الإنتاج؟ ١- الموارد الطبيعية ٢- رأس المال ٣- التنظيم الإداري ٤- العمل

ماهي موارد المال العام؟ ١- الرسوم الجمركية ٢- الضرائب ٣- الممتلكات العامة ٤- القروض

اذكري ركائز العدالة الاجتماعية؟ ١- المساواة ٢- التعاون ٣- التكافل الاجتماعي

اذكري أنواع للتعاون؟

أ- التعاون الأسري (التعاون بين أفراد الأسرة

ب- التعاون الدفاعي (تعاون أفراد المجتمع في مواجهة الكوارث)

ج- التعاون الجبري (تعاون الموظفين في نطاق العمل)

د- التعاون الاختياري (العلم التطوعي، العمل الخيري)

ما هو هدف التنمية الاجتماعية؟ ج- تنمية الموارد البشرية

ماهي طرق تنمية الموارد البشرية

١- توفير الخدمات العامة بأنواعها ٢- رفع الإنتاجية الكفاءة للقوى البشرية

٣- رفع مستوى المعيشة للسكان

ماهي أهمية العلوم والتكنولوجيا في التنمية الاجتماعية

١- ساعد على ربط المناطق المائية بالمناطق البرية ٢- اتسعت دائرة العلاقات الاجتماعية

٣- انتقال الأفراد من منطقة إلى أخرى ٤- أدى إلى ارتفاع في مستوى المعيشة للسكان

عللي عمدت الدول إلى وضع مجموعة من ((قيم للحياة المدنية))

لتنظم تعاملاتها السياسية والاقتصادية والاجتماعية

ما أهم قيم الحياة المدنية

مفاهيم سياسية - مفاهيم اجتماعية - مفاهيم اقتصادية

اذكري انواع الدخل : الدخل الفردي - دخل القومي

عللي لكل دولة سلطة حاكمة

لتدير شؤونها وتنظمها في الداخل عن طريق اتخاذ القرارات وسن القوانين وحفظ الامان وتنظيم علاقات الخارجية بغيرها

من الدول والهيئات والمنظمات العالمية

عللي اختيار صباح بن جابر (صباح الأول) حاكما لهم

لحاجتهم لوجود سلطة تدير شؤونهم



عرفي التالي :

| | |
|--------------------|--|
| الدولة | بقعة من الارض يسكنها مجموعة من الافراد يتفاعلون مع بعضهم البعض تجمعهم قيادة سياسية واحدة تنظم علاقاتهم |
| الديمقراطية | كلمة يونانية تعني شكل للسلطة يكون الحكم بمقتضاه بيد الشعب وهي التشاور والحوار لتحقيق المصلحة العامة |
| السلطة الحاكمة | الاداة التي تدير شؤون الدولة |
| المواطنة | الحق في المشاركة في صنع القرار |
| الرأي العام : | هو اراء مجموعة من الافراد بشأن قضية او موقف ما |
| الإنتاج | هو كل نشاط يؤدي إلى منفعة أو يسد حاجة لدى الإنسان ويجعله أحسن حالا |
| الادخار | اقتطاع جزء من الدخل بشرط يأخذ طريقة إلى الاستثمار |
| الاستثمار | توظيف الفائض من الأموال أو النقود الناتج عن زيادة دخل الدولة |
| الترشيد | الإنفاق الأمثل للمال بحيث يتم استخدام أساليب وتدابير حكيمة في عملة الاستهلاك |
| العولمة | يقصد بها سهولة الحركة والانتقال بين دول العالم من خلال تذويب الحدود |
| التنمية الاجتماعية | يقصد بها النهوض بمختلف المجالات البشرية والإنسانية في المجتمع |
| التكافل الاجتماعي | هو النظام الذي يقوم علي التفاعل والإعالة بين الاعضاء بين مجتمع من المجتمعات |

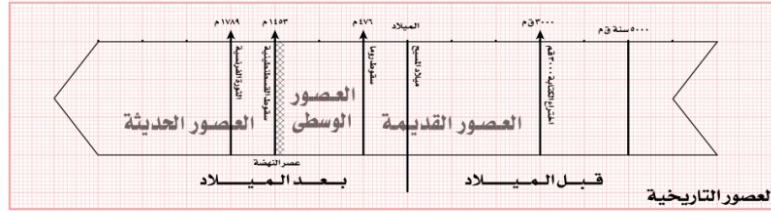
قارني بين كل من :

| | |
|---------------------------------------|----------------------------|
| الدخل القومي | الدخل الفردي |
| دخول الدولة خلال عام من مختلف المصادر | نصيب الفرد من الدخل القومي |

| المفهوم | التعريف |
|-----------------|---|
| الرسوم الجمركية | ضريبة تفرضها الدولة بما لها من حق السيادة على البضائع المستوردة أو المصدرة. |
| الملكيات العامة | هي ما توفره الدولة للجميع للاستفادة منه (كالمدارس، المستشفيات، وغيرها من الخدمات) |
| الضرائب | مبلغ من المال يدفعه الأفراد للدولة ليتمكنوا من القيام بواجباتها. |
| القروض | ما تعطيه الدولة للأفراد أو الدول من المال بشرط أن يعيده بعد أجل معلوم. |
| الحرية | لكل مواطن الحق بممارسة حرياته بما لا يتعارض مع حريات الآخرين. |
| المساواة | إتاحة الفرص لجميع الافراد في تقسيم العمل وتحمل المسؤولية. |
| سيادة القانون | احترام القوانين والأنظمة. |
| حكم الشعب | هو ذلك الجزء من الشعب الذي تتوافر فيه شروط تؤهله الاشتراك في شؤون الدولة |

العالم تحديات وتطلعات

ص ١١٥ - ١١٦



شكل (١٥٣): يوضح العصور التاريخية قبل الميلاد وبعد الميلاد

اكملی العبارات التالية :

- انتقلت اوربا الغربية من مرحلة التخلف الي عصر النهضة في القرن ١٥م (١٤٥٣م)
 التنافس بين الدول الصناعية في المجالين الاقتصادي والاجتماعي
 الملاح الذي أثبت كروية الأرض هو ماجلان
 الرحلات التي قام بها الاوربيون لاكتشاف عوالم جديدة تسمى الكشوف الجغرافية
 اخترعت الكتابة ٣٠٠٠ ق م
 قامت الثورة الصناعية في اوربا في القرن الثامن عشر .
 اذكر مظاهر عصر النهضة
- ١- الحركة الانسانية
 - ٢- الاكتشافات الجغرافية
 - ٣- حركة الاستعمار الاوربي
- عللي كثرة حركة الاستعمار الاوربي
 للحصول على ثروات البلاد المكتشفة بأقل كلفة ممكنة
 اذكر نتائج التنافس في المجالين الاقتصادي والاجتماعي بين الدول الصناعية
 قيام الاحلاف السياسية والعسكرية وسباق التسليح
 من هم دول الوفاق الثلاثي ودول التحالف الثلاثي
 دول الوفاق الثلاثي فرنسا - روسيا - بريطانيا
 دول التحالف الثلاثي ألمانيا - نمسا - ايطاليا
 عددي الملاحين الذين قادوا الكشوف الجغرافية
 جون كابوت - كولومبوس - ماجلان

عرفي كل من :

| | |
|-------------------|---|
| عصر النهضة | عصر التغيرات الكبيرة في كل ميادين الحياة المادية والفكرية |
| الحركة الانسانية | اهتمام المفكرين على دراسة الانسان بمعزل عن كل ما يحيط به من افكار |
| الكشوف الجغرافية | الرحلات التي قام بها الاوربيون لاكتشاف عوالم جديدة |
| الاستعمار الاوربي | احتلال الدول الاوربية لمناطق وأقاليم في القارات والسيطرة على شعوبها وخبراتها بالقوة |
| الثورة الصناعية | عملية تغيير شامل في ادوات الانتاج الصناعي ووسائله وحجمه |

اكمل العبارات التالية:

- الحرب العالمية الأولى حرب شاركت فيها معظم دول العالم في الفترة ما بين ١٩١٤-١٩١٨.
- سراييفو المدينة التي اغتيل فيها ولي عهد النمسا سنة ١٩١٤م.
- بلغ عدد الدول المشاركة في الحرب العالمية الأولى ٣٣ دولة.
- وقفت روسيا بجانب صربيا عام ١٩١٤م.
- دخلت الولايات المتحدة الحرب عام ١٩١٧م ضد ألمانيا والنمسا (الحلفاء).
- دولة دخلت الحرب إلى جانب ألمانيا والنمسا هي تركيا
- سعى الحلفاء والولايات المتحدة وبريطانيا والاتحاد السوفيتي إلى إنشاء منظمه دوليه في مؤتمر يالطا في ١٩٤٥م وصدقت عليه ٥٠ دولة.

الدولة التي تقف إلى جانب النمسا وتهدد روسيا واحتلت بلجيكا هي ألمانيا

تطورت حرب الحصار البحري في عام ١٩١٧م

انتهت الحرب العالمية الثانية مخلفه وراءها أكثر من ٥٠ مليون قتيل .

قامت اليابان بالهجوم على ميناء بيرل هاربر

ألقت الولايات المتحدة قنيلتين ذريتين علي مدينة هيروشيما وناجازاكي عام ١٩٤٥م

اكتبي ما تعرفينه عن أحداث عام ١٩١٧م

دخول الولايات المتحدة الحرب عام ١٩١٧م ضد ألمانيا وحلفائها .

انسحاب روسيا من الحرب بعد قيام الثورة الشيوعية فيها عام ١٩١٧م الانحسار البحري ١٩١٧

عللي انطلاق الثورة الشيوعية في روسيا :

بسبب استياء داخلي في فقد المون في العاصمة بطرسبرغ

عللي دخول الولايات المتحدة الحرب

لتكرار أعمال الغواصات الألمانية ضد البواخر الأمريكية

لم تتأثر الولايات المتحدة الأمريكية بالحرب

لدخولها المتأخر للحرب / لم تعاني أراضيها من الدمار

لم تستطيع الدول المهزومة إعادة بناء اقتصادها بعد الحرب

بسبب تسديد قروضها والتعويضات المفروضة عليها

أذكرى الأوضاع بين الحربين العالميتين الأولى والثانية

ظهور الأزمة الاقتصادية - ظهور الديكتاتوريات

ما أوجه الشبه في الأنظمة الديكتاتوريات

الزعامة المطلقة - الحزب هو السلطة الوحيدة في الدولة - التوسع في اوربا - استخدام وسائل بوليسية وارهابية لفرض

النظام

اكتبي ما تعرفينه عن الازمة الاقتصادية عند الدول المنتصرة

عجزت عن سداد ديونها لأنها تدين للولايات المتحدة - بدأت بإعادة بناء اقتصادها عام ١٩٢٥ - الاستغناء عن البضائع

الأمريكية

عرفي الديكتاتوريات:

هي شكل من أشكال السلطة المطلقة في يد فرد واحد دون التقيد لا بالدستور او القوانين



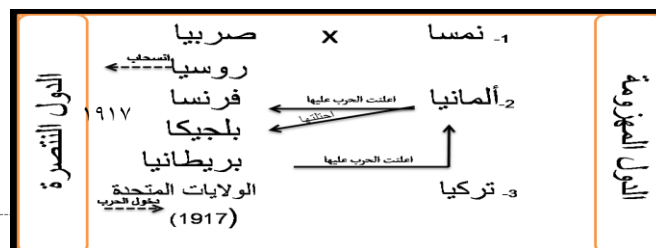
لتأهله اليوم

ابتسم قليلا
سنتهي



| وجه المقارنة | الحرب العالمية الاولى | الحرب العالمية الثانية |
|--------------------|--|---|
| السنة | ١٩١٤ - ١٩١٨ م | ١٩٣٩ - ١٩٤٥ م |
| مدتها | ٤ سنوات | ٦ سنوات |
| اسباب الحرب | ١- السبب المباشر: قيام طالب صربي باغتيال ولي عهد النمسا ٢- زيادة المنافسة بين الدول الأوروبية للسيطرة على منابع الثروات في الدول ٣- الصراع حول المستعمرات في قارتي آسيا وأفريقيا | قسوة شروط معاهدة فرساي على الدول المنهزمة. الأزمة الاقتصادية العالمية عام ١٩٢٩ م. ظهور الحكومات الدكتاتورية في ألمانيا وإيطاليا. السبب المباشر: سياسة هتلر التوسعية في أوروبا واستيائه على ممر دانزج البولندي ١٩٣٩ م |
| القوى المتحاربة | ألمانيا + النمسا + الدولة العثمانية دول المحور الحلفاء فرنسا + بريطانيا + روسيا + الولايات المتحدة | دول المحور: ألمانيا + إيطاليا + اليابان + دول الصغيرة دول الحلفاء: فرنسا + اتحاد السوفيتي + بريطانيا + الولايات المتحدة + مجموعة من الدول والمستعمرات |
| النتائج | تراجعت ألمانيا فاستسلمت ووقعت اتفاقية الهدنة عقد مؤتمر الصلح في قصر فرساي في باريس عام ١٩١٩ لإقرار السلام في أوروبا. نتائج المؤتمر: ١- اختفاء أربع امبراطوريات ألمانيا-روسيا ونمسا وتركيا ٢- فرض غرامه ماليه كبيره على الدول المهزومة ٣- فرض قيود على الجيش والأسطول الألماني. | ١- عدلت خريطة أوروبا السياسية من جديد. ٢- انقسمت ألمانيا إلى شرقيه - غربيه ٣- قضى على النازية والفاشية ٤- خرجت الولايات المتحدة واتحاد السوفيتي من الحرب كأكبر دولتين في العالم وتراجعت قوة بريطانيا وفرنسا |
| عدد الدول المشاركة | ٣٣ دولة | ٦٢ دولة |

| وجه المقارنة | الحزب الشيوعي | الحزب النازي | الحزب الفاشي |
|--------------|--|---|---|
| التعريف | نظام اجتماعي تكون فيه الملكية في يد المجتمع بأكمله وأهمها وسائل الإنتاج وملكية الأرض | هي الاشتراكية الوطنية | حزب من العصبي تدل علي القوة والتماسك وهو رمز السلطة في الإمبراطورية الرومانية |
| الدولة | روسيا | ألمانيا | إيطاليا |
| الزعيم | لينين | هتلر | موسوليني |
| الهدف | ١- حكم جديد في روسيا ٢- وضع السلطة في يد الحزب | ١- تفوق العنصر الألماني. ٢- والدعوة لقيام المانية الكبرى واستعادة المستعمرات الألمانية | ١- التسليح. ٢- إعادة امجاد الامبراطورية الرومانية (إيطاليا). |





اكمل الفراغات التالية:

شاركت في مؤتمر يالطا كل من الولايات المتحدة الأمريكية والاتحاد السوفيتي وبريطانيا
الجهاز الرئيسي لهيئة الأمم المتحدة هو الجمعية العامة
عللي انشأت عصبة الأمم المتحدة في أعقاب الحرب العالمية الأولى
لحفظ السلام والأمن بين الدول
برهني علي فشل عصبة الأمم المتحدة في مهمتها
قيام الحرب العالمية الثانية
صنفي كل من اهداف وشروط هيئة الأمم المتحدة

شكل من اشكال الحكم تكون فيه السلطة مطلقة في يد التقيد بالدستور او القوانين هي الدكتاتورية
عقد مؤتمر يالطا عام ١٩٤٥ م (٢٤ من اكتوبر)

صنفي كل من اهداف وشروط هيئة الأمم المتحدة

| شروط الانضمام الي هيئة الأمم المتحدة | اهداف هيئة الأمم المتحدة |
|---|---|
| ان تكون الدولة مستقلة تكون محبة للسلام تتعهد بتنفيذ قوانين هيئة الأمم المتحدة | المحافظة على السلام والأمن في العالم . - تنمية العلاقات الودية بين الدول . - تعزيز احترام حقوق الانسان وحرياته الأساسية |

مما تتكون اجهزة هيئة الأمم المتحدة :

مجلس الوصاية - مجلس الأمن - المجلس الاقتصادي والاجتماعي محكمة العدل الدولي
(مدينة لاهاي - هولندا) - الامانة العامة - الجمعية العامة

اكتبي ما تعرفينه عن مؤتمر يالطا :

اجتمعت الدول الثلاث في مؤتمر يالطا ١٩٤٥ وصدق عليها ٥٠ دولة

اكمل الفراغات التالية:

احد المقومات الرئيسية للمجتمعات الحضارية هي الطاقة

تعتمد المجتمعات المتقدمة علي مصادر الطاقة المختلفة وهي الوقود الحفري

الدول المستوردة الأولى للنفط الكويتي اليابان

اتخذت منظمة الأمم المتحدة من مدينة نيويورك

مصدر الطاقة الأول في الاستهلاك العالمي هو النفط

عرفي التالي :

الطاقة: هي القوى المحركة اللازمة لإدارة الآلات

عللي يعد النفط والغاز الطبيعي مادة استراتيجية

توفرها بكميات كبيرة . سهولة نقلها وتخزينها .

مادة هامة في السلم والحرب . (سلم - لرفع اقتصاد الدولة ودخلها) (الحرب وسيلة للضغط علي الدول)

عللي مصادر الطاقة غير المتجددة معرضة للخطر

استمرار الضغط المتزايد عليها .

عددي اهم الدول المستوردة للنفط الكويتي .



- اليابان ودول جنوب شرق اسيا - امريكا الشمالية - اوربا الغربية

دور المنظمات العالمية في مواجهة تحديات العصر

ص ١٢٦-١٢٨

| الأجهزة | دورها |
|--------------------------------|---|
| - مجلس الأمن الجهاز التنفيذي | ويضم ١٥ عضو ٥ أعضاء دائمين و ١٠ أعضاء مؤقتين مهمته : يصون السلام الدولي |
| ٢- الجمعية العامة. | الجهاز الرئيسي للمنظمة وتضم جميع الدول الأعضاء ولكل دولة حق في صوت واحد |
| ٣- الأمانة العامة. | يرأسها السكرتير العام لمدة ٥ سنوات . مهمته : يلعب دور الوسيط في النزاعات بين الدول |
| ٤- محكمة العدل الدولية. | الأداة القضائية للمنظمة وتتكون من ١٥ قاضيا ومركزها مدينة لاهاي في هولندا مهمتها : تقضي المنازعات بين الدول |
| ٥- مجلس الوصايا | يشرف على إدارة المناطق التي وضعت تحت الوصاية الدولية. |
| ٦- المجلس الاقتصادي والاجتماعي | تنسيق الجهود الاقتصادية والاجتماعية بين الدول الأعضاء |

عددي استخدامات النفط

يستخدم في الاصباغ- ويدخل في صناعة البتر وكيمياوية- البلاستيك والأسمدة
أهمية النفط والغاز الطبيعي في الاقتصاد ؟
- قوة محرركات الآلات والمصانع . - مصدر لرؤوس الأموال
قارني بين كل من :



| الطاقة المتجددة (الدائمة) | الطاقة غير المتجددة (الناضبة) |
|---|---|
| تشمل مصادر الطاقة التي لا تنفذ ابدا (الشمس - الرياح - الامواج) | تشمل مصادر الطاقة ذات الكمية محدودة ويتناقص حجمها مع الزمن وتمثل ٩٠٪ مثل (الفحم - النفط - الغاز |

| منظمة الأوابك | منظمة الأوبك |
|--|---|
| منظمة الأقطار العربية المصدرة للنفط | منظمة الأقطار المصدرة للنفط |
| ١٩٦٨ | ١٩٦٠ |
| الكويت - السعودية - ليبيا - الامارات قطر - بحرين العراق - سوريا - مصر - الجزائر | الكويت - فنزويلا - نيجيريا - الغابون اندونيسيا - ايران - الاكوادور - السعودية - الامارات - البحرين الجزائر - سوريا العراق - قطر - ليبيا |

عرفي التالي :

منظمات دولية: هيئة يشترك فيها عدد من الدول للقيام بمجموعة الأعمال ذات الأهمية المشتركة
عصبة الأمم: منظمة دولية أسستها الدول المنتصرة في الحرب العالمية الأولى لحفظ السلام والامن ١٩١٩م

العالم في مواجهة التحديات الثورة العلمية والتكنولوجية

اكمل العبارات التالية :

سبب حدوث الاحتباس الحراري ملوثات الهواء كالغازات والغبار
يعتبر الغاز الأساسي المسبب لظاهرة الاحتباس الحراري غاز ثاني أكسيد الكربون

عرفي التالي :

الطبقة الأوزون: هي طبقة في الغلاف الجوي تقوم بوظيفة امتصاص الأشعة الشمسية فوق البنفسجية بحيث لا يصل منها إلى الأرض سوى كميات قليلة تفيد الكائنات الحية ولا تؤذيها
الاحتباس الحراري هو ارتفاع درجات حرارة الأرض عن معدلها الطبيعي :
عددي تحديات الثورة العلمية والتكنولوجية التي يواجهها العالم.

أ. مشكلات الطاقة بد التغيرات المناخية (الاحتباس الحراري) ج. الأمراض الحديثة
عددي الظواهر المناخية الناتجة عن التلوث الهوائي
تآكل طبقة الأوزون - الاحتباس الحراري - الأمطار الحمضية
كيف تم استنزاف طبقة الأوزون ؟

بسبب تصاعد كميات كبيرة من الغازات المختلفة إلى طبقة الأوزون
وتفاعلت مع الذرات التي تتألف منها فأصبحت هذه الطبقة غير قادرة على امتصاص كميات
كبيرة من الأشعة فوق البنفسجية مما أدى إلى تفككها وحدوث الثقب فيها .
- عللي لا يمكن السكن في قارة أنتركتيكا ؟
بسبب الظروف المناخية الغير مناسبة (انخفاض درجة الحرارة الشديد)
قارني بين كل من :

ص ١٣٣



ص ١٣٥



| أهم الآثار المترتبة عن تآكل طبقة الأوزون | الآثار المناخية المترتبة على ظاهرة الاحتباس الحراري |
|--|---|
| أ- ارتفاع درجة حرارة الجو | أ- ارتفاع درجة الحرارة الأرض |
| ب- ارتفاع نسبة الإصابة بالأمراض الجلدية | ب- ذوبان الجليد في المناطق القطبية |
| ج- إتلاف الغطاء النباتي وانخفاض إنتاجية الزراعية | ج- حدوث الجفاف وتصحر في بعض المناطق |

التعاون الدولي لمكافحة التلوث البيئي

اكمل العبارات التالية :

١. اقتصر مساعدات الصندوق الكويتي في بداية إنشائه على الدول العربية إلى عام ١٩٧٤ م
٢. أكبر الاقاليم في مجموع القروض التي يقدمها الصندوق الكويتي هو البلدان العربية
٣. الوقود الحفري أي المستخرج من باطن الارض
عددي المدن الكبرى الملوثة بالعالم
طوكيو - نيويورك - لوس انجلوس - لندن
عللي وضع هيئة الامم الكويت في قائمة الشرف
لان الكويت تلتزم بإلزام تام بقرارات الامم المتحدة



قارني بين كل من :

| اسم المؤتمر | الدولة | العام | الهدف |
|-----------------------|--------------|-------|---|
| ١- قمة الأرض | البرازيل | ١٩٩٢م | الحد من التلوث إشاعة الطاقة الغير ملوثة كطاقة الرياح والطاقة الشمسية |
| ٢- قمة الأرض | جنوب إفريقيا | ٢٠٠٢ | ركز المؤتمر على: المياه- الطاقة- الصحة- الزراعة- التنوع البيولوجي استمرار في الحفاظ على البيئة ومواردها الطبيعية من التلوث واستنزاف |
| ٣- مجموعة الثمانية G8 | جنوب إفريقيا | ٢٠٠٥م | مكافحة ظاهرة الاحتباس الحراري. |

فرقي بين كل من :

| مرض الايدز: | أنفلونزا الطيور |
|---|---|
| مرض يسببه فيروس يؤدي إلى ضعف المناعة المكتسبة في جسم الإنسان ويفتق به | مرض فيروسي يصيب الطيور ويمكن أن يصيب أنواعا أخرى من الحيوانات كالخنزير وينتقل لإنسان عن طريق الطيور المصابة |

ص ١٤٣

الكويت والعلاقات الدولية

اكمل الفراغات :

- تعتبر الكويت عضوا فعالا في الامم المتحدة منذ عام ١٩٦٢م
- اكبر القطاعات الي يمولها الصندوق الكويتي قطاع النقل
- المنظمة الاقليمية لحماية البيئة البحرية مقرها دولة الكويت
- انشأت الهيئة العامة لحماية البيئة عام ١٩٨٠ م.
- "ساعد الناس لكي يساعدوا انفسهم" كان شعار لمنظمة تسمى الصندوق الكويتي للتنمية الاقتصادية
- انشأ الصندوق الكويتي للتنمية الاقتصادية عام ١٩٦١
- _الشعار الذي اتخذه الصندوق الكويتي للتنمية الاقتصادية ساعد الناس لكي يساعدوا انفسهم.
- _أدانت دول العالم الغزو العراقي متمثلة ببيئة الامم المتحدة ومن اهم القرارات الصادرة هو قرار رقم ٦٧٨
- غزا النظام العراقي دولة الكويت عام ١٩٩٠-٨-٢م واستمر الغزو ٧ شهور
- الضربة الجوية في عام ١٩٩١-١-١٧ والضربة البرية ١٩٩١-٢-٢٤م
- اعلن تحرير دولة الكويت في ١٩٩١-٢-٢٦ م
- عقدت القمة الحادي عشر في مدينة الدوحة
- تقع دولة الكويت بالنسبة لقارة آسيا في الجهة الجنوب الغربي
- -انضمت الكويت إلى هيئة الأمم المتحدة عام ١٩٦٣م
- اهتمت الكويت لوقف تدهور الأوضاع إقليم دارفور في السودان
- استقلت دولة الكويت منذ عام ١٩٦١م
- تتسم سياسة الكويت الخارجية منذ استقلالها بأنها معتدلة ومتوازنة
- فازت الكويت بعضوية مجلس الامن الدولي خلال عام ١٩٧٨-١٩٧٩.



عرفي المفاهيم التالية :

الصندوق الكويتي للتنمية الاقتصادية : مؤسسة اقتصادية إنشأتها دولة الكويت عام ١٩٦١م لتوزيع المعونات المالية والفنية
المنظمة الاقليمية : مجموعة من الدول تقع في منطقة جغرافية معينه من العالم تنشأ بينها علاقات تدعو الي تكوين منظمة للتعاون في حل مشكلاتها



علي مساهمة الكويت في حل المشاكل التي تواجه بعض دول العالم .

نتيجة للمركز المالي الناتج من عائدات النفط -٢- لأنها محبة للسلام

ماهو دور دولة الكويت في المؤسسات الخيرية

تقدم المساعدات المادية والعينية- اقامة مشاريع تنموية..- بناء المساجد والمراكز الاسلامية

علي قصف قوات التحالف اهداف عسكرية داخل العراق والكويت

لإضعاف القوة العسكرية العراقية

ما هو قرار رقم ٦٧٨

قرار يعطي انذار نهائي حتى تاريخ ١٥-١-١٩٩١م بضرورة تنفيذ القرارات

ماذا لو لم ينفذ القرار

تقوم هيئة الامم المتحدة مع دول العالم " يكون الحق في استخدام الوسائل اللازمة التي تكفل اعادة الامن والسلام الي المنطقة

برهني على مساندة الدول الشقيقة والصديقة لدولة الكويت اثناء الغزو العراقي

كان للموقف الدولي والعربي والخليجي دور مسخر من الله للوقوف بجانب الكويت ومنها هيئة الامم المتحدة -

منظمة المؤتمر الاسلامي

جامعة الدول العربية - مجلس التعاون الخليجي الذين ادانو الغزو العراقي وطالبوا بانسحاب القوات العراقية من

الكويت

اذكري دور هيئة الامم المتحدة بموقف الغزو العراقي على الكويت .

ادانة العدوان وطالبت الانسحاب العراق من الكويت - جمدت الودائع والممتلكات العراقية والكويتية

أنشطة الصندوق الكويتي للتنمية نطاق عمليات الصندوق

١- تقديم القروض للدول النامية ٢- تقديم المنح على سبيل المعونة الفنية.

النقل- الطاقة- الزراعة- الصناعة- المياه والصرف الصحي- الصناعة- بنوك التنمية

أهداف الصندوق الكويتي للتنمية الاقتصادية العربية؟

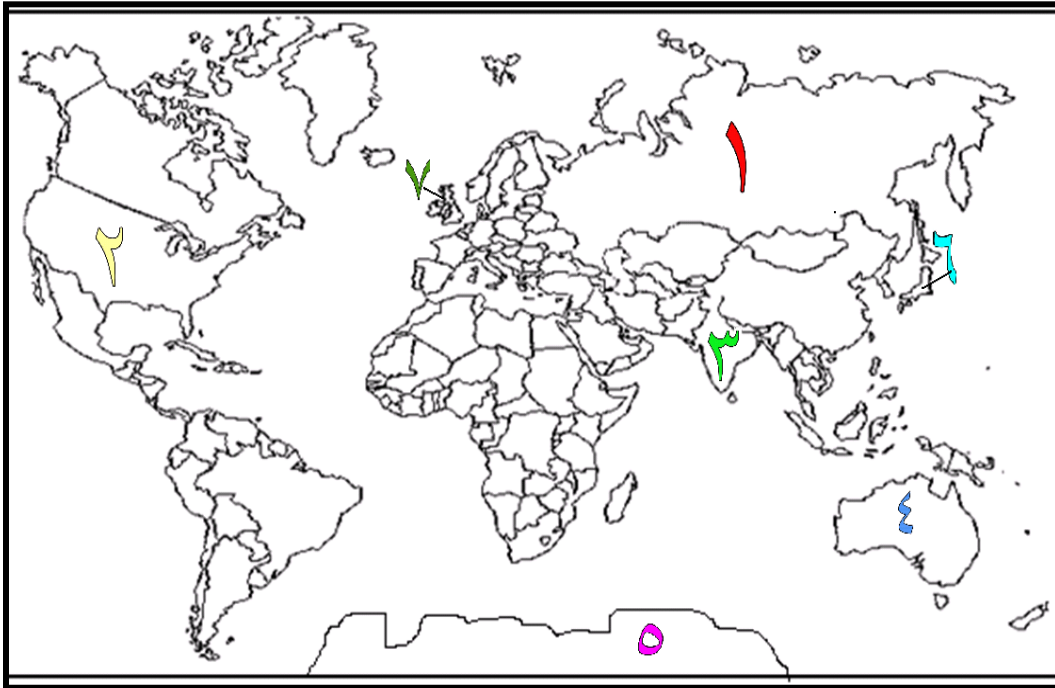
١- تقديم القروض الميسره للدول المحتاجة ٢- تقديم كافة المساعدات المادية لقضايا العالم العربي والإسلامي

٢- تطوير التنمية في الوطن العربي والعالم الاسلامي

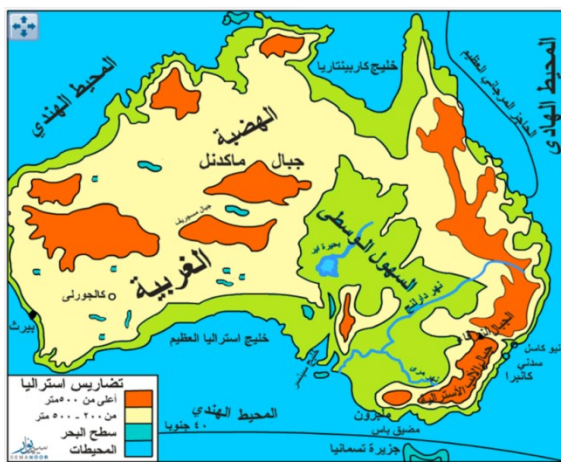
| أوجه المقارنة | منظمة على المستوى العالمي | منظمة على المستوى العربي |
|-----------------------|--|---|
| اسم المنظمة | هيئة الامم المتحدة | جامعة الدول العربية |
| سنة انضمام الكويت لها | ١٩٦٢م | ١٩٦١ |
| دور الكويت الفعال | ١- ساهمت الكويت في القضاء علي مرض نقص المناعة المكتسبة (الايدز) ٢- التزمت الكويت بشكل دائم بقرارات الامم المتحدة فكانت علي قائمة الشرف ٣- ساهمت الكويت في غالبية المنظمات المتخصصة | ١ دور بارز في تأسيس مجلس التعاون الخليجي ٢- الوقوف الي جانب الشعب الفلسطيني ودعم حقوقه السياسية ٣- الاهتمام بمشكلة اقليم دارفور في السودان ٤- استضافة المؤتمر ٣ لوزراء خارجية دول جوار العراق في الكويت ٢٠٠٨ |

اذكر الموقف الدولي والعربي والخليجي (الإجابة الموحدة لكل هي)
(ادانت العراق وطالبت بالانسحاب - أرسلت جيوش للوقوف مع الجيش الكويتي)

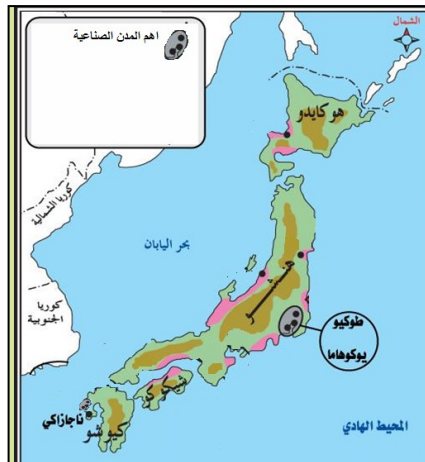
| هيئة الأمم المتحدة | منظمة المؤتمر الإسلامي | جامعة الدول العربية | مجلس التعاون الخليجي |
|--|---|--|--|
| ١- أدانت الولايات المتحدة الأمريكية العدوان وطالبت العراق بالانسحاب. ٢- جمدت الودائع العراقية والكويتية ٣- بريطانيا ودول أوروبا الغربية وروسيا وأستراليا واليابان وغيرهم ساندوا الكويت | ١- أدانت العدوان العراقي متمثلة بوزراء الخارجية ٢- أصدروا بيانا يطالب العراق بالانسحاب والالتزام بميثاق المنظمة. | ١- عقدت اجتماعا طارفا لوزراء الخارجية في 2 أغسطس ٢- أصدروا قرار إدانة العراق وطالبوا بالانسحاب وتأكيد سيادة الكويت. | ١- طالب بعودة الشرعية والانسحاب الفوري في القمه الحادية عشر في الدوحة ٢- وضع جميع الإمكانيات المادية والعسكرية لتحرير الكويت. |



- ١- اكثر القارات سكانا - اكبر القارات مساحة - امبراطورية تم تفكيكها (روسيا)
- ٢- دولة دخلت الحرب متأخرة - توجد بها هيئة الامم المتحدة (الولايات المتحدة الامريكية)
- ٣- دولة اكتشفها فاسكودي جاما - دولة خضعت للاستعمار لثلاث قرون - دولة نامية تعاني من مشاكل سكانية (الهند)
- ٤- اقل القارات سكان - اصغر القارات مساحة (استراليا)
- ٥- قارة غير مأهولة بالسكان (الولايات المتحدة)
- ٦- دولة متقدمة (اليابان)
- ٧- دولة اعلنت الحرب علي ألمانيا - من دول الحلفاء (بريطانيا)



- ١- حددي علي الخريطة
- ٢- الحاجز المرجاني العظيم
- ٣- الهضبة الغربية
- ٤- جبال الالب (المرتفعات الشرقية)
- ٥- كل من المحيط الهادي والهندي



- ٢- المناطق الصناعية
- ٣- الدول المجاورة لها
- ٤- العاصمة طوكيو
- ٥- كل من المحيط الهادي

